

1~17 題地理, 18~33 題歷史, 34~50 題公民 請用 2B 鉛筆作答, 將答案畫至答案卡上。

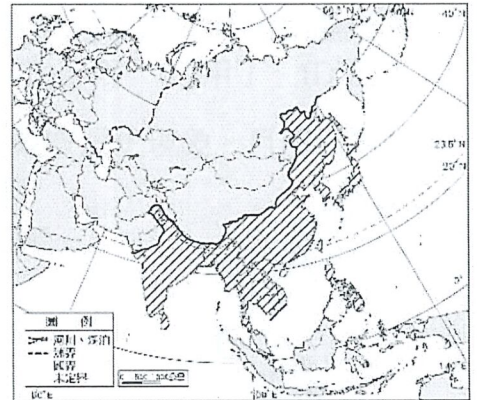
P.1

共 50 題, 每題 2 分, 滿分 100 分

地理

() 1. 右圖為亞洲簡圖, 下列何項地理事實為圖中「斜線區」最主要的共同特色?

- (A) 山地、高原廣布, 耕地不足
- (B) 多數居民以稻米為主食
- (C) 降水季節皆是由東南季風帶來海洋水氣
- (D) 四季如夏, 年溫差不大。

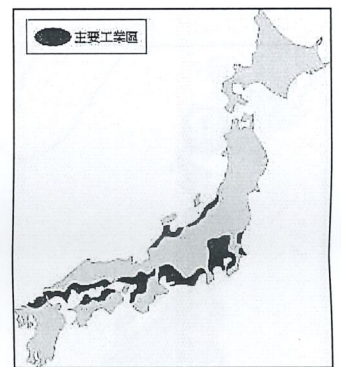


() 2. 近年來, 南韓的國內生產毛額有顯著增加, 這與下列哪些產業的發展關係較為密切? (甲)電子業 (乙)智慧型農業 (丙)國防工業 (丁)文化產業。 正確的是: (A)甲乙 (B)甲丙 (C)甲丁 (D)乙丁。

() 3. 日本經濟對外貿易依存度高, 「國際貿易」可謂是日本的經濟命脈, 下列哪一項事實最能說明日本經濟對國際貿易的依賴?

- (A) 日本因地震、颱風等天災頻傳, 故多將製造部門遷至海外
- (B) 日本產品物美價廉, 在國際市場極具競爭力
- (C) 日本主要工、礦原料依賴進口, 製成工業產品運銷全球
- (D) 日本沿海有寒暖流交會, 且海岸線曲折, 多天然良港。

() 4. 右圖為日本主要工業區分布圖, 由附圖顯示的空間分布特徵可得知, 日本主要工業區應該屬於哪一種工業區位? (A)交通 (B)原料 (C)政策 (D)市場。



() 5. 用大白菜醃製的酸辣泡菜, 是韓國人, 無論南北, 每天都離不開的佐餐小菜。泡菜多是家庭各自醃製, 各有秘方, 地區之間甚至鄰居之間競爭激烈, 都聲稱自己醃製的泡菜最正宗可口。2013 年聯合國教科文組織正式將韓國泡菜文化列入世界文化遺產, 不是因為泡菜作為食物的味道, 而是其製作過程和消費所代表的獨特的文化和社會體驗。請問: 韓國人盛行醃製泡菜最可能是受到下列何種環境因素的影響? (A)全年多雨, 食物易發霉腐敗 (B)乾溼季分明, 不利蔬菜生長 (C)冬季又冷又長, 無新鮮蔬菜可食用 (D)年溫差較大, 食物不易保存。

() 6. 二戰之後, 南韓與臺灣經濟發展的途徑相當接近, 兩地也一直互相比較與競爭, 但是在下列哪一項的工業發展歷程中, 南韓與臺灣工業發展經驗有顯著的差異?

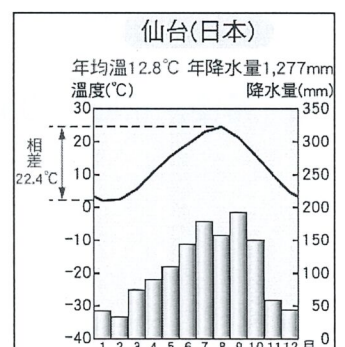
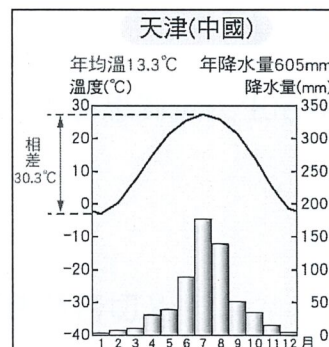
- (A) 工業原料及能源仰賴進口 (B) 曾發展外銷為主的加工出口業
- (C) 目前以高科技工業為發展主軸 (D) 政府主導扶植大型財團。

() 7. 朝鮮半島上有兩個國家—北韓與南韓, 兩國的產業發展特色迥然不同。相較於南韓, 北韓經濟發展的特色, 下列敘述何者正確?

- (A) 北韓較多地形雨, 農業發展條件較佳 (B) 北韓因缺乏礦產、水力等自然資源, 工業先天條件不足
- (C) 北韓的工業發展特色是重民生輕國防 (D) 北韓因發展核武, 屢遭國際經濟制裁。

() 8. 附圖為天津、仙台的氣候圖, 這兩個都市分別位於中國、日本, 它們的氣候類型相同, 且緯度相近, 但從附圖可知, 無論是年降水量、雨季長短、以及冬季降水量, 兩者間皆有明顯差異, 請問: 造成這兩個都市氣候差異的主要因素應為下列何者?

- (A) 日本深受海洋調劑, 較溫暖溼潤
- (B) 中國沿海受寒流影響較深, 乾燥低溫
- (C) 日本位於板塊接觸帶, 氣流擾動
- (D) 中國地勢西高東低, 有利海風深入。



背面尚有試題

※ 下課鐘響前不得繳卷

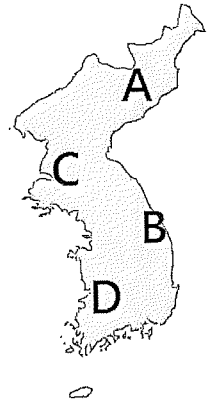
班級：

座號：

姓名：

P.2

- () 9. 將人工智慧應用於農業生產過程中，以提高生產效率，此為智慧型農業的特徵，目前日本政府積極發展推廣，這是因為此種農業類型可以解決日本農業遭遇的哪些問題？(甲)農村人口外流 (乙)農業人口老化 (丙)農產品單價較低 (丁)國內市場有限。 正確的是：(A)甲乙 (B)甲丙 (C)甲丁 (D)乙丁。
- () 10. 1980 年代以後，由於人力成本提高，日本許多工廠遷移到海外，導致產業空洞化現象。目前日本企業雖然有許多工廠外移至海外，但仍可維持其國際競爭力，主因可能為何？
(A)提高關稅 (B)大量引進國際移工 (C)工業技術升級 (D)淘汰老舊工廠。

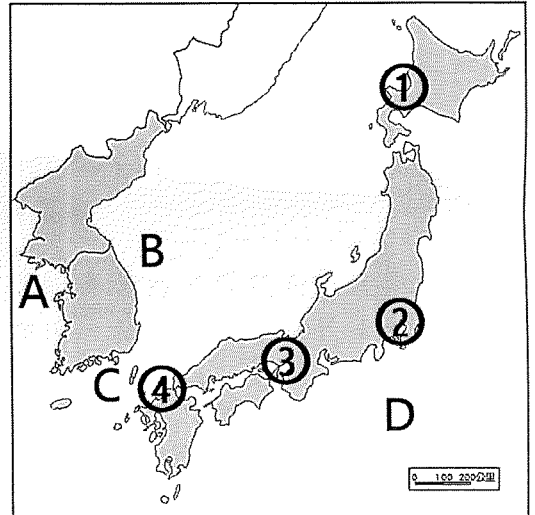


◎附圖為朝鮮半島簡圖，請問：

- () 11. 附圖中，何處的地勢最高？(A)A (B)B (C)C (D)D。
- () 12. 下列何者為朝鮮半島地形分布的特徵？
(A)半島的脊梁為長白山脈，靠近東海 (B)半島北部的蓋馬高原面積廣大
(C)平原主要分布於半島東南側 (D)山地與河川皆源自中國，且山河相間排列。

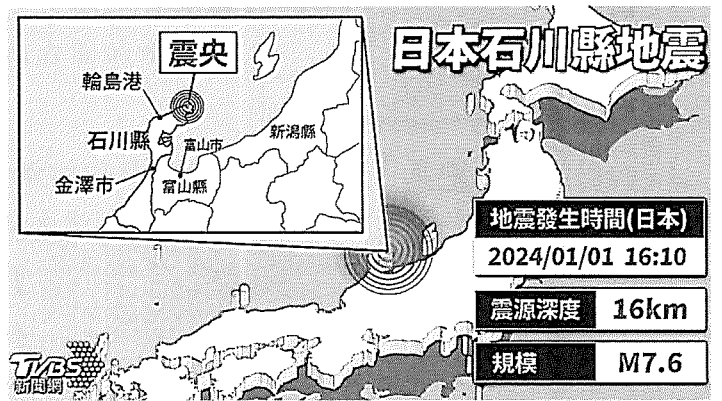
◎剛邁入新的一年，東北亞便發生了幾件重大國際事件，附圖為東亞簡圖，請根據附圖回答下列問題：

- () 13. 2024.01.02 一架日本航空班機於在降落時疑似擦撞海上保安廳的飛機，隨後起火燃燒，幸好機上 379 名乘客全員逃出。根據東京消防廳的資訊，這架班機是於日本當地時間下午 4 時過後從北海道的新千歲機場起飛，在東京的羽田機場降落時與跑道上的飛機發生擦撞。請問：根據上文所述，這架班機此次的飛行路線應為下列何者？(A)①→③ (B)③→① (C)④→② (D)①→②。



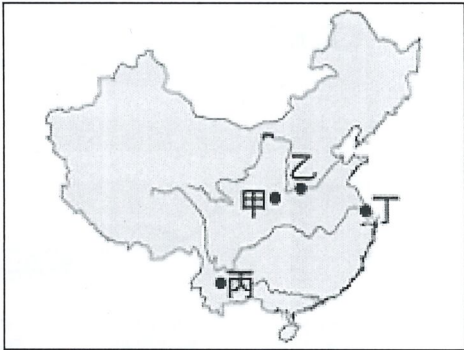

- () 14. 「延坪島」是位於黃海中的一個群島，接近北韓和南韓分界線附近，南北韓雙方對此島歸屬有爭議，曾爆發海上軍事衝突。2024.01.05 上午 9 時北韓在延坪島以北發射海岸砲，持續 2 小時，南韓軍方隨即在當天下午予以反擊，造成半島局勢不安。請問：根據上文判斷，下列關於「延坪島」位置的描述，何者錯誤？
(A)大約位在 38°N 附近 (B)位在半島西岸 (C)位在附圖中的 A 區 (D)位在太白山區沿岸。

◎【新聞報導】2024 年 1 月 1 日下午下午 3 時左右，日本鹿兒島縣御嶽火山噴發，火山灰雲高達逾 1600 公尺，氣象部門呼籲當地居民應注意大型火山熔岩塊。就在御嶽山火山噴發後一個小時，也就是下午 4 時 10 分，石川縣能登半島接連發生多次地震，最大芮氏規模 7.6，日本氣象廳也發布海嘯預警。2 日，在輪島港觀測到 1.2 公尺以上海嘯。日本氣象廳指出，此次地震為 1885 年以來於能登地區最大的 1 次，截至目前為止已造成至少 100 人死亡。請問：



- () 15. 根據附圖震央的位置，日本氣象廳應該是對下列哪一個海域發布海嘯警報？
(A)渤海 (B)黃海 (C)太平洋 (D)日本海。
- () 16. 日本媒體報導，地震後由於災區為持續嚴寒的天氣狀態，大雪恐對災民生活及災區交通帶來衝擊。請問：當地冬季大雪最可能是下列何項因素造成的？
(A)親潮流經 (B)太平洋高壓籠罩
(C)西北季風帶來水氣 (D)地勢較高。
- () 17. 日本的火山活躍，且地震頻繁，與日本何種地理特徵關係最密切？
(A)冬、夏季風皆會經過海面 (B)位居板塊接觸帶
(C)位於海陸交接處 (D)位居大陸與半島間的交通要道。

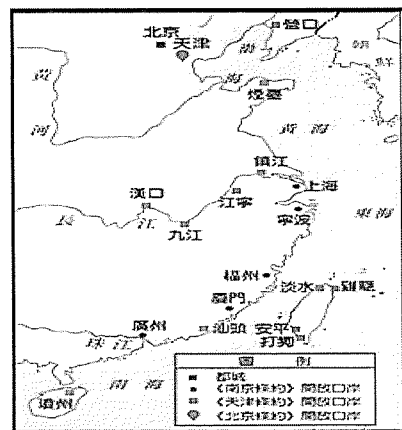
歷史

- ()18. 資料一：中國自認物產豐富，不需要對外貿易，故只開一個港口供外商使用，且中國對外商的行動有很多的限制。
資料二：英國派遣一支七百多人的使節團來到中國，並攜帶了天文、地理儀器和鐘錶等西方器物，中國以為這是朝貢行動，但使節團卻是為了當時乾隆皇帝的賀壽獻禮而帶來，最終雙方發生禮儀之爭而不歡而散。
請問：綜合判斷上述二則資料，當時英國派遣使節團來到中國的背後目的應該為何？
(A)提供多樣化的貿易選擇 (B)仰慕清帝國的富強
(C)緩和鴉片戰爭後兩國外交緊張 (D)要求中國放寬貿易限制。
- ()19. 李恩涵先生著作《近代中國外交史事新研》，記載清末推動自強新政的李鴻章所留下的一段話：「我辦了一輩子的事，練兵、海軍，都是紙糊的老虎，何嘗能實在放手辦理，不過勉強塗飾，虛有其表，不揭破尤可敷衍一時。」請問：下列哪一項改革措施與上述的「紙糊的老虎」有關？
(A)修訂憲法，實施君主立憲 (B)興建鐵路，學習西方技術
(C)引進西學，批判儒家思想 (D)改良科舉，保障傳統士紳
- ()20. 清末民初的名人，梁啟超曾說過：「……啟蒙教育之根本，必須從母親的教養開始；母親的教養之本，必自婦女教育作為開端，故婦女教育實在是關係著天下存亡強弱之根本也。……」請問：上述梁啟超的想法，可能與下列哪一個觀點有關？
(A)期待婦女能保國強種 (B)表明女子成為有用之材而更勝於男人
(C)婦女應該確實遵守三從四德 (D)婦女能積極參政以符合時代潮流。
- ()21. 小叮嚀說：「清帝國對外簽訂的『馬關條約』，允許日本人可以中國的各通商口岸設廠製造商品，此先例一開，西方國家如英、美、法等國，即向清廷要求援例比照辦理，最後造成中國民生經濟嚴重的衝擊。」請問：上文所說的援例，是指下列何者？
(A)領事裁判權 (B)協定關稅 (C)片面最惠國待遇 (D)租借。
- ()22. 「西元十九世紀中期，清帝國在西方列強的要求下，在這座城市裡劃定中國最早的租界區，提供西方國家的僑民居住或經商；而在此城市裡生活的人們，平常會騎乘自行車，或搭乘人力車或西式馬車來往各地，到了夜晚，因為煤油燈、煤氣燈、電燈的使用，使這個地方成為一個不夜城。」請問：上述的這座城市，最有可能是指右圖的哪一個代號？(A)甲 (B)乙 (C)丙 (D)丁。
- 
- ()23. 下列有關十九世紀以來，清帝國「改革與變法」的「檢討與結果」，何者敘述「正確」？
(A)「自強運動」：縱容義和團仇洋反教而導致改革的失敗
(B)「庚子後新政」：廢除實行千餘年的科舉考試制度
(C)「戊戌變法」：發生政變，慈禧太后被軟禁而告終
(D)「立憲運動」：成立「皇族內閣」後，立憲派人士全力支持。
- ()24. 大雄到學校圖書館查閱中國近代名人傳記，找到一本書的封面如右圖所示，翻閱書中的序言：「…長大後奉父母之命與富紳之子結婚，但對婚姻帶來的束縛不滿意…因為對日本的開化維新思想十分嚮往，於西元 1904 年不顧家庭反對下前往日本留學…在留學的過程中大開視野，因而反對傳統價值觀對女性的束縛…更痛斥清廷的腐敗統治，最後走向□□□□之路。」請問：上文中的□□□□，應該是指下列的哪一個事件？
(A)革命運動 (B)立憲運動 (C)義和團事變 (D)戊戌變法。
- 
- 《秋瑾傳》

- () 25. 小衫是清末時期住在上海的居民，他自認為他是當時的新知識分子，追求著現代時尚的生活。請問：下列何者是他**最不可能**從事的生活方式？
- (A) 與洋人在飯館吃西餐、喝咖啡
 (B) 休閒時間到西式公園散步，到賽馬場觀看賽馬活動
 (C) 每天研讀四書五經與勤做文章，準備科舉考試
 (D) 閱讀《萬國公報》、《新民叢報》等報刊雜誌，與朋友一起評論時局的看法。

- () 26. 胖虎為了完成一份有關清帝國對外戰爭的歷史作業，搜尋網路上的關鍵字：「朝鮮自主」、「租借港灣」、「劃分勢力範圍」等。請問：胖虎的歷史作業，應該是指下列哪一個對外戰爭？
- (A) 甲午戰爭 (B) 英法聯軍 (C) 鴉片戰爭 (D) 八國聯軍。

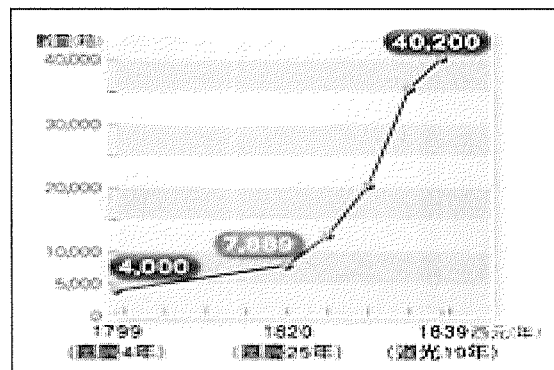
- () 27. 右圖為「清末開放通商港口示意圖」，依圖例內容說明，清帝國在對外簽訂《天津條約》與《北京條約》之後，不僅開放中國的沿海港口，甚且長江沿岸與台灣等地，也被要求開放通商口岸，造成外人勢力由沿海深入中國內地，加深了知識分子的危機感。請問：上述所謂「外人勢力由沿海深入中國內地」的情形，是發生在下列哪一個事件之後？
- (A) 日俄戰爭 (B) 甲午戰爭 (C) 鴉片戰爭 (D) 英法聯軍。



- () 28. 西元 1894 年以後，「不纏足」組織與運動，如雨後春筍地在中國各地出現，如 1895 年上海「天足會」、廣東「粵中不纏足會」、1897 年澳門「澳門不纏足會」、湖南「岳州戒纏足會」等。請問：此種風氣形成以後，可能帶來的改變為何？
- (A) 女性在家庭中扮演溫順的角色 (B) 女權因此獲得法律的保障
 (C) 女性有獲得外出就業的機會 (D) 男女從此獲得平等地位。

◎請依據右圖：「清末中國進口鴉片的成長曲線圖」回答第 29 題至 31 題。

- () 29. 右圖所示清末鴉片進口量之所以快速攀升，主要與哪一個國家想藉由出售鴉片，以減少對華貿易入超有關？
- (A) 印度 (B) 英國 (C) 日本 (D) 俄國。
- () 30. 清廷面對此項商品的輸入，採取什麼樣的因應行動？
- (A) 將該商品收歸國營，不許民眾私自販賣
 (B) 派遣林則徐進行查禁，嚴厲要求英方不得再販售
 (C) 與外商協議進口數量，避免造成供過於求現象
 (D) 為避免與貿易國的衝突，因此鼓勵商品大量進口。



- () 31. 續上題，清朝對於此項商品的因應行動，後來對中國歷史發展造成的影響為何？
- (A) 清朝開港通商並簽訂不平等條約 (B) 引發內部的動亂而民不聊生
 (C) 外國人在通商口岸設廠製造商品 (D) 清朝受到重大刺激發動制度改革

◎西元 1885 年，亞洲某位學者在報刊發表《脫亞論》，摘要部分內容如右表，請回答第 32 題至 33 題。

- () 32. 請問上述資料中提到的『我國』應該是指下列何國？ (A) 清帝國 (B) 英國
 (C) 日本 (D) 朝鮮
- () 33. 請問上述資料中敘述的『維新』，是指下列哪一個變法維新？
- (A) 百日維新 (B) 立憲運動
 (C) 東學信仰 (D) 明治維新

……雖然『我國』位於亞細亞東部，但國民的精神已經開始脫離亞細亞的頑固守舊，向西洋文明轉移。然而不幸的是在近鄰有兩個國家，一個叫支那(中國)，一個叫朝鮮。……以我來看，這兩個國家在今日文明東漸的風潮之際，連他們自己的獨立都維持不了。除非這兩個國家出現有識之士，帶頭推進進步，就像我國的『維新』一樣，對其政府實行重大改革，……如果不是這樣的情況，那麼毫無疑問，從現在開始不出數年他們將會亡國，其國土將被世界文明諸國所分割。

公民

- () 34. (甲)公共意見又稱為民意(乙)代表所有人在某段時間內所形成的共同看法。(丙)民眾可以透過召開公聽會來匯集意見，或是透過網路連署來表達意見、凝聚共識，(丁)進而影響政府決策。關於上述文字，敘述**錯誤**的有幾項？(A)1項 (B)2項 (C)3項 (D)全錯。
- () 35. 四位同學在討論公共意見的性質，哪位同學的說法無須以公共意見的角度作探討？
(A)是否應限制政治人物結婚對象的國籍 (B)是否應縮短高中生在校上課時數
(C)是否應開放重型機車騎上國道 (D)安樂死是否應合法化。
- () 36. 110 年底高雄市一名男子酒駕撞飛正在過馬路的一家四口，造成 1 死 3 傷的悲劇。此事引發社會高度關注，對於酒駕處罰過輕的聲音也有如排山倒海般地襲來，因為這次的事件，加速了修法的時程。立法院在 111 年三讀通過「酒駕三法」修正案，將酒駕懲處力道加重，企圖透過法律手段來遏止酒駕行為。請問，上文劃線處，分屬於公共意見的何種特性？
(A)影響性、變動性 (B)議題性、複雜性 (C)議題性、影響性 (D)變動性、複雜性。
- () 37. 四位同學在討論政黨與利益團體，何者敘述正確？
(A)瑋融、晨晞 (B)庭安、咏勳 (C)瑋融、庭安 (D)晨晞、咏勳。

瑋融	利益團體都是為了公益為考量，所以不會有為自身權益所組成的利益團體
晨晞	為了防止被認定有政治立場，通常利益團體會避免表態支持候選人
庭安	政黨關注的範圍比較全面，利益團體則只關注與團體目標相關的議題
咏勳	政黨為獲得選民支持，通常會適度與利益團體合作

- () 38. 公民老師在課堂上說明政治參與的重要性，並希望同學都能付諸行動，一同關心公共事務，請問下列何項行為是身為國中生的雲修還無法實施的政治參與方式？
(A)與父母一同參加候選人造勢晚會 (B)上網搜尋總統候選人政見內容
(C)投書給媒體希望協助改善基隆市的交通亂象 (D)參加基隆市與新北市合併的公民投票。
- () 39. 選舉是人民依照自由意志選出行政首長和民意代表的過程，下列敘述何者正確？
(A)總統任期四年，連選得連任一次，與立法委員相同
(B)村里長與鄉鎮市長的選舉年齡都是 26 歲
(C)新北市烏來區的區民代表的候選年齡與新北市議員的候選年齡相同
(D)苗栗縣苑裡鎮長的候選年齡與基隆市信義區長候選年齡相同。
- () 40. 下列關於選舉過程，何者敘述正確？
(A)登記—競選—投票—開票—公告當選 (B)當選公告—登記—競選—投票—開票
(C)當選公告—登記—競選—開票—投票 (D)競選—登記—投票—開票—公告當選。
- () 41. 書儀今年是第一次參與選舉，他在選舉當天攜帶投票通知單、身分證和印章前往投開票所親自將選票投入票匱，並期望自己喜歡的候選人能夠贏得勝利。請問，下列敘述何者**錯誤**？
(A)書儀至少 20 歲
(B)只要有攜帶身分證，沒有投票通知單和印章都沒有關係
(C)畫線處展現出選舉的秘密原則
(D)若是當選的政治人物沒有做好自己的角色，書儀未來也可以透過投票罷免他。

【題組一】

新北市國三生割喉案日前社會上引起軒然大波，過去曾開記者會抨擊學校搜查學生書包是「黑心校規」的人本教育基金會，遭到民眾留言狂轟，指稱人本教育基金會讓學校管教權窒礙難行，原本提倡「正向管教、零體罰」的社會氛圍，也開始出現「恢復學校管教權！有些猴子就是需要嚴格管教」、「宣揚學生人權、剝奪教師管教權，導致校園混亂，請還給學校管教權！」的聲浪。一時之間，台灣社會關於「管教方式」的風向丕變，開始從「維護擴張兒少權利」轉向「兒少權利無限上綱，導致社會亂象，應適度恢復管教權利」。

背面尚有試題

基於此，教育部也在 1 月 4 日決議，為避免憾事重演，將 111 年才修定的「學校訂定教師輔導與管教學生辦法注意事項—違禁品入校搜查」的規定再做修改；原定檢查學生物品務必要有家長陪同的限制改為緊急狀況下可免除現行規定，不用他人陪同檢查，不過過程仍須錄影，最快將於 2 月新學期上路。

- () 42. 下列何者較不可能為「人本教育基金會」為實現目的所採取的作法？
 (A) 糾正推動政府政策不利的部門，要求限期改善 (B) 透過遊說或是陳情方式來表達訴求
 (C) 會選擇走上街頭或是召開記者會吸引大眾目光獲得民眾支持 (D) 以遊行的方式來引發社會關注。
- () 43. 上文畫線處所展現的公共意見特性與下列何者相同？
 (A) 民眾感受空氣汙染對健康的影響，紛紛對政府單位表達應推動減少 PM_{2.5} 的空汙政策
 (B) 有些民眾主張將高鐵延伸至屏東，可以促進當地發展，但也有另一方群眾反對
 (C) 在許多民眾上街表達訴求後，政府乃依據其訴求修正政策回應民眾需求
 (D) 民調資料顯示：隨民主意識提升，對 18 歲就具有投票資格的支持者，由 18% 上升至 48%。
- () 44. (甲) 割喉案引發管教權的爭議在網路上獲得熱烈討論展現公共意見的議題性 (乙) 有人支持完全零體罰，有人支持恢復適度體罰展現公共意見的變動性 (丙) 教育部修法展現公共意見的影響性，上述正確的為何？ (A) 甲乙丙 (B) 甲乙 (C) 乙丙 (D) 甲丙。
- () 45. 若管教權的恢復在日後成為公民投票的議題，下列敘述何者正確？
 (A) 公投依照「公民投票法」辦理對人的投票
 (B) 人民透過公投的方式展現間接民主
 (C) 公投只是展現民意的方式，無論通過與否政府都不須進行改變
 (D) 人民可以透過公投展現創制、複決的參政權。

【題組二】

請依據右述六人的條件，判斷下列 46~49 題的答案：

姓名	年齡	職業	身分	備註
坤達	27	模特兒	美國和中華民國雙重國籍，戶籍 4 個月前從新竹縣遷到台北市	
信宏	46	銀行高管	原戶籍在屏東縣，3 個月前遷到高雄市	
志祥	35	和尚	戶籍設在台南市已滿 5 年	
于晏	40	無業遊民	在桃園市設籍 40 年	褫奪公權至 2025 年
光瀚	20	大學生	6 個月前從澎湖縣遷至台中市	受監護宣告
敬騰	32	歌手	戶籍自出生即設在新北市，但長年實際居住在中國北京，目前也都在中國工作	

- () 46. 若明天就進行公職人員選舉，具有立法委員參選資格的有幾位？
 (A) 5 位 (B) 4 位 (C) 3 位 (D) 2 位。
- () 47. 若明天就進行公職人員選舉，具有直轄市長參選資格的有哪些人？
 (A) 坤達、信宏 (B) 志祥、敬騰 (C) 信宏、敬騰 (D) 信宏、于晏。
- () 48. 承上題，只要符合相關條件，不論性別、黨派、收入、階級都可以參與投票或是登記成為候選人是屬於選舉的何者原則？ (A) 普通原則 (B) 平等原則 (C) 直接原則 (D) 無記名原則。
- () 49. 根據上述資料判斷，何者錯誤？
 (A) 若明天就辦理全國性公投，可以參與公民投票者有 5 位
 (B) 因受監護宣告，所以光瀚不具有我國 2024 年總統大選投票權
 (C) 于晏不具備成為 2024 年總統大選候選人的資格
 (D) 若明天將進行「高雄市是否開放發展博弈產業的公投案」，信宏是不具有公投權的。
- () 50. 【時事題】我國已於 2024 年 1 月 13 日完成第 16 任總統大選，請問最後由誰勝選，成為第 16 任中華民國總統？ (A) 柯文哲 (B) 賴清德 (C) 侯友宜 (D) 郭台銘。