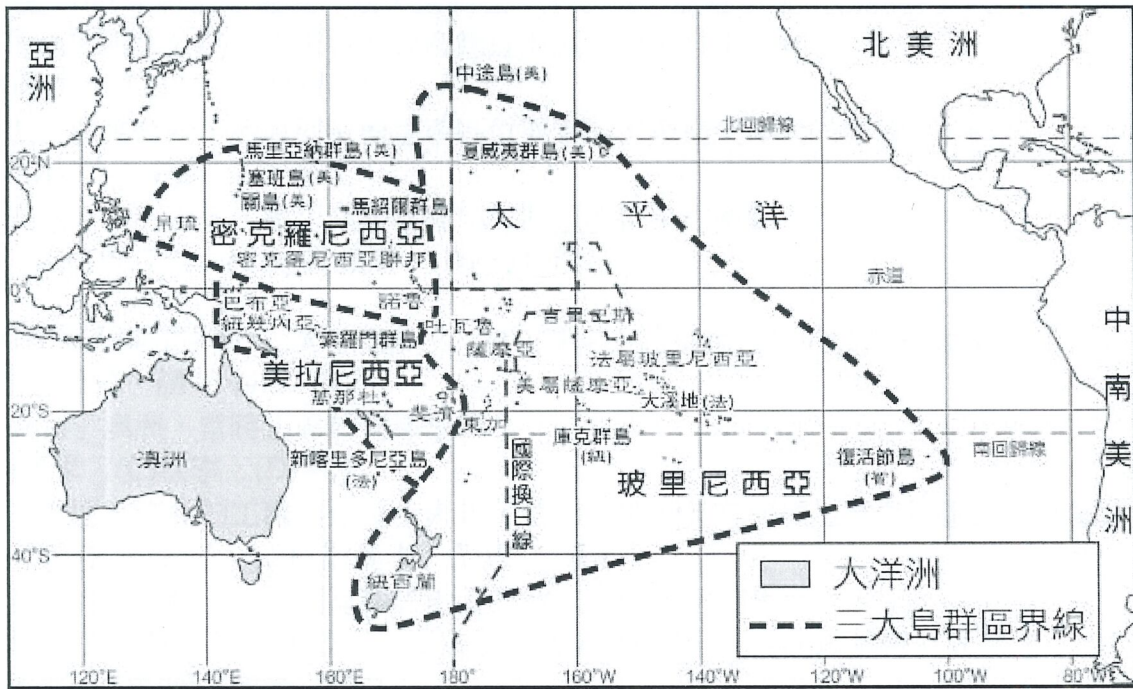


※ 下課鐘響前不得繳卷

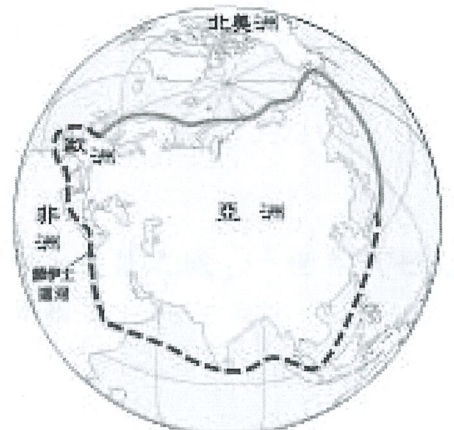
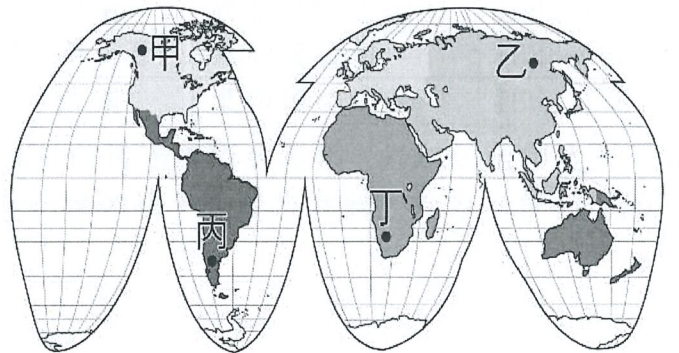
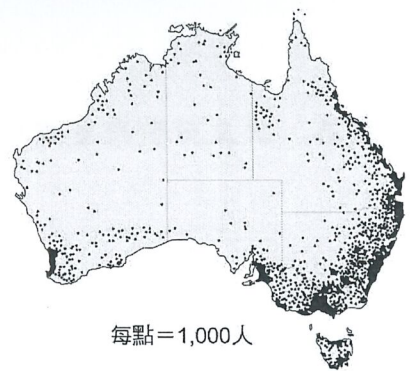
姓名：

※ 注意！請務必在答案卡最上方欄位寫上班級、座號和姓名。

P.1



- () 1. 2024 年的跨年煙火依舊在世界各國熱鬧舉辦，若依地理位置判斷，下列哪一個地方最有可能見到新年的第一道曙光？
 (A)非洲的馬達加斯加島 (B)紐西蘭的北島 (C)歐洲的格林威治天文臺 (D)美國的夏威夷群島
- () 2. 大洋洲分成三大島群，其中哪一群島距離臺灣最近，坐飛機比較快到達？
 (A)印度尼西亞 (B)美拉尼西亞 (C)密克羅尼西亞 (D)玻里尼西亞
- () 3. 太平洋三大島群傳統產業以農、漁業為主，多種植椰子。現代的經濟活動多發展觀光業與海洋休閒活動。除了島嶼國家的因素外，請問主要受下列哪一個因素影響？
 (A)地形 (B)交通 (C)水文 (D)氣候
- () 4. 紐西蘭南島的面積大於北島，但人口密度與第一級行政區(相當於臺灣的直轄市)均呈現北密南疏、北多南少的現象。請問造成這個現象的主因為何？
 (A)北島的地形較複雜(B)北島畜牧業較發達(C)南島平原分布較廣(D)南島的緯度較高
- () 5. 澳洲有 90%人口居住在 1%的土地面積上。事實上，澳洲 99%人口的居住面積佔澳洲總土地面積比例也只有 11%。右圖為澳洲人口密度圖，為何澳洲中西部人口分布稀疏？
 (A)地勢高峻 (B)氣候乾燥 (C)地震頻繁 (D)地處內陸
- () 6. 澳洲是氣候乾燥的「褐色大陸」，相距不遠的紐西蘭是溫潤的「綠色島嶼」。為紐西蘭帶來降水的最主要風向為何？ (A)東風 (B)西風 (C)東南信風 (D)東北信風
- () 7. 針鼹和鴨嘴獸是世界上僅存的兩種卵生哺乳類特有生物，只生存於澳洲。請問：澳洲擁有許多特有生物的主因為何？(甲)四周環海 (乙)地形多變 (丙)氣候複雜 (丁)位水半球
 (A)甲乙 (B)乙丙 (C)丙丁 (D)甲丁
- () 8. 西元 1983 年 7 月 21 日，科學家曾在南極的沃斯托克站測得 -89.2°C 的低溫；西元 2010 年 8 月 10 日，科學家利用新的衛星數據，更在南極東部的高地測得有紀錄以來最寒冷的溫度：大約是 -93°C 。請問：下列何者是造成南極氣溫比北極更低的原因？
 (A)北極降水少 (B)北極緯度高(C)南極地勢高 (D)南極冰山多
- () 9. 右圖是世界地圖，從臺灣去南極觀光，通常是先搭飛機到最接近南極的地方，然後搭船出發，經過 3~4 天的航程，才會到達南極大陸。請問：最接近南極的地方應該位在下列哪一洲的南端？
 (A)亞洲 (B)北美洲 (C)歐洲 (D)南美洲
- () 10. 「東北航道」(右圖實線)是指穿越俄羅斯北方的北極海，聯絡大西洋和太平洋的航道，可縮短以往經過蘇伊士運河的路程(右圖虛線)和時間。請問：下列哪兩個地區的運輸往來，最需要東北航道？
 (A)北美東岸—歐洲西岸 (B)北美東岸—非洲西岸
 (C)歐洲西岸—亞洲東岸 (D)非洲東岸—亞洲東岸



背面尚有試題

※ 下課鐘響前不得繳卷

姓名：

P.2

1997 年，在日本京都舉行的第三次世界氣候會議中，通過「京都議定書」，以 1990 年排放量為準，明確地訂出世界主要工業國家溫室氣體排放量的削減率，要求各國切實執行，並商議在 2012 年後進一步降低。2015 年世界氣候會議，各國領袖簽署「巴黎協議」，希望 2100 年將全球溫度升幅，控制在 2°C 以內，並逐步讓化石燃料步入歷史。請問 11-13 題：

- () 11. 為因應上文所述的兩大公約，未來各國政府應逐漸減少哪種發電方式？
(A)水力 (B)風力 (C)火力 (D)太陽能
- () 12. 這兩大國際環境保護公約，將會對哪種生產區位要素的工廠造成極大的影響？
(A)動力 (B)市場 (C)交通 (D)勞工
- () 13. 倘若各國都能遵守公約內容，將可減緩哪種環境問題所帶來的衝擊？
(A)地層下陷 (B)核廢污染 (C)地震頻繁 (D)全球暖化

家住基隆的小明利用寒假期間到紐、澳地區旅行，並在課堂上將這趟行程的特色和大家分享。

下列為其旅程的相關敘述，請問 14-17 題：

- () 14. 小明第一站先到了澳洲，當時正處於何種季節？
(A)春季 (B)夏季 (C)秋季 (D)冬季
- () 15. 小明發現澳洲當地有許多的工礦業正逐步興起，這和該地區具有何種工業發展區位條件關係最大？
(A)地質古老 (B)交通便利 (C)技術進步 (D)勞工眾多
- () 16. 小明到了紐西蘭的南島觀光，下列有關該地區的敘述，何者正確？
(A)以火山地形為主 (B)緯度分布較高 (C)為最大都市商港所在 (D)以熱帶氣候為主
- () 17. 關於澳洲經貿夥伴的說明，何者正確？
(A)早期以鄰近的紐西蘭為最主要經貿往來對象 (B)不論過去與現在，經貿往來夥伴皆平均分布全球各國
(C)美國長期以來一直是澳洲最大的出口對象 (D)出口對象逐漸轉移至亞洲
- () 18. 西元 1498 年葡萄牙人達伽馬率領船隊，沿著西非洲海岸並繞過好望角，最後抵達印度，成為第一位從歐洲遠航到印度的人，開通日後西方到東方的新航路。請問：達伽馬當時海外探險的主要目的為何？
(A)仰慕中華文化，希望前往中國交流
(B)宣揚葡萄牙的國威，抵擋阿拉伯帝國的入侵
(C)直接取得亞洲的香料、絲綢等商品
(D)移民海外新領地，解決國內人口眾多問題
- () 19. 自大航海時代開始，歐洲探險船隊抵達美洲、澳洲等地，造成兩地的原住民人口數量與傳統文化，在短時間內，以極快的速度減少或消失，其可能的主要原因為何？
(A)殖民者以武力、疾病使許多原住民喪生，導致文化延續困難
(B)殖民者的文化水準較高，吸引原住民主動學習，並放棄傳統文化
(C)大量原住民被強制送往亞洲礦場充當勞動力，造成人口的減少
(D)美洲、澳洲的糧食，大量被銷往海外而導致饑荒
- () 20. 歷史上曾經有幾個國家，為了經營海外的殖民地，成立「東印度公司」(如右表)。請問：西元 17 至 19 世紀，日本在德川幕府下令實施鎖國政策的時期，允許下列哪一個東印度公司，可以到九州的長崎進行通商活動？(A)甲 (B)乙 (C)丙 (D)丁。

| 選項 | 國家 | 名稱 | 起訖年 |
|----|-----|---------|-----------|
| 甲 | 英國 | 東印度公司 | 1600~1874 |
| 乙 | 荷蘭 | 聯合東印度公司 | 1602~1799 |
| 丙 | 葡萄牙 | 東印度公司 | 1628~1633 |
| 丁 | 法國 | 東印度公司 | 1664~1794 |
- () 21. 歷史老師上課說：「這個政權以伊斯蘭信仰為主，大約在十六世紀時透過不斷的擴張，得以統治印度大部分地區，商貿、文化皆呈現燦爛輝煌的風貌。但十八世紀後，該政權卻在中央勢力衰弱、外力入侵的情況下逐漸失去影響力，最終在十九世紀被英國取代。」？
(A)阿拉伯帝國 (B)亞歷山大帝國
(C)奧匈帝國 (D)蒙兀兒帝國
- () 22. 今日東南亞國家的菲律賓，首都馬尼拉市的南區，有個「西班牙王城區」，現為馬尼拉市最古老的城區，每年吸引許多外國觀光客前來旅遊。請問：馬尼拉市的西班牙王城區的建立背景為何？
(A)歐人嚮往亞洲傳統文化，刻意設立據點以便深入學習
(B)阿拉伯人揮兵攻擊東南亞國家，威脅葡萄牙殖民勢力
(C)受鄭和下西洋宣傳國威影響，產生前往中國貿易熱潮
(D)歐洲國家陸續前往亞洲貿易，建立根據地並相互競爭
- () 23. 位於南美洲秘魯的安地斯山脈，有一處印加文明遺址馬丘比丘，被稱為「印加失落之城」、「世界新七大奇景」。請問：印加文明的「失落」，可能與下列哪一個「外力」的入侵破壞有關？
(A)英國人 (B)荷蘭人
(C)西班牙人 (D)墨西哥人

※ 下課鐘響前不得繳卷

姓名：

P.3

- () 24. 歷史學者王曾才先生在其著作《西方近世史》，提及歐洲某一時期對宗教的看法：「相信上帝的存在，且認為上帝創造的宇宙有一套自行運作的規律，上帝只是讓萬物運作的開端，在創造萬物後便聽任其自由運轉，如同一個卓越的鐘錶製造者。…上帝與世界並無直接的關係，並不干預人間世事，祈禱、聖禮和儀禮皆屬無用。」請問：此種宇宙觀最可能出現在下列哪一個時期？

(A) 啟蒙運動時期 (B) 文藝復興時期
(C) 羅馬帝國時期 (D) 中古西歐時期

【題組】

請依據下列的歷史人物代號，回答第 25 題至 27 題。

(甲) 達伽馬 (乙) 麥哲倫 (丙) 哥白尼 (丁) 牛頓 (戊) 盧梭 (己) 狄德羅

- () 25. 西元十六世紀時，他率領船隊繞過南美洲後抵達菲律賓，雖於菲律賓遇害，但其船隊仍繼續西行，完成繞行地球一周的壯舉。請問：上述的事蹟，是指何人？
(A) 甲 (B) 乙 (C) 丙 (D) 丁。
- () 26. 西元十八世紀時，他提出「太陽中心說」，衝擊傳統基督教的「地球中心說」，帶動了人們對於宇宙觀查與探求的研究。請問：上述的事蹟，是指何人？
(A) 乙 (B) 丙 (C) 丁 (D) 戊。
- () 27. 西元十八世紀時，他邀請眾多學者共同編撰百科全書，將知識做系統性的整理，開啟日後編撰百科全書類著作的風氣。請問：上述的事蹟，是指何人？
(A) 丙 (B) 丁 (C) 戊 (D) 己。

【題組】

下為西元十八、十九世紀時，西方重要的歷史文獻，請依此回答第 28 題至 31 題。

【甲】西元 1776 年北美十三州殖民地人民發表《獨立宣言》，其內容摘要：「人人生而平等，造物主賦予他們若干不可剝奪的權利，其中包括生命權、自由權和追求幸福的權利。…任何形式的政府，只要破壞上述目的，人民就有權利改變或廢除它，並建立新政府……。」

【乙】西元 1787 年美國頒布《聯邦憲法》，主要內容為：「聯邦政府實行立法、司法、行政三權分立；國會是立法機構…總統有行政權…司法權屬於最高法院…。」

【丙】西元 1789 年法國發表《人權宣言》，其內容寫道：「人生而自由，且保持自由及權利平等…所有政治組合之目標在於維護人之自然不可侵犯剝奪之權利。如此權利計為自由、財產、安全及反抗壓迫。」

【丁】西元 1848 年馬克思與恩格斯合撰《共產主義宣言》，部分內容摘要：「至今一切社會的歷史，都是階級鬥爭的歷史。自由民和奴隸、貴族和平民、領主與農奴、行會師父和幫工，一句話，壓迫者與被壓迫者，始終處於相互對立的地位，進行不斷的、有時隱蔽有時公開的鬥爭，而每一次鬥爭的結局都是整個社會受到革命改造或者鬥爭的各階級同歸於盡。」

- () 28. 根據上述《獨立宣言》與《人權宣言》的內容，與下列哪一位歷史人物的思想有關係？
(A) 狄德羅 (B) 喀爾文 (C) 洛克 (D) 哥白尼。
- () 29. 依據上述美國的聯邦憲法的內容敘述，美國在 1787 年時，建立下列哪一種的政治運作體制？
(A) 權力分立與制衡，建立避免專制的政治體制
(B) 保留君主部分權力，實現君民共治理想
(C) 君主權力至上，人民必須絕對服從政府
(D) 工農階級專政，實現全民均富的政治理想
- () 30. 上述《共產主義宣言》的發表背景，應該與下列哪一個歷史發展有關係？
(A) 近代歐洲的海外擴張，學者對亞洲、非洲等地強力侵略的反省
(B) 學者以古希臘、古羅馬文化為基礎，發展出兼具復古與創新的文化活動
(C) 歐洲各國工業革命後，部分學者提出解決社會問題的想法
(D) 學者質疑中古時期以來基督教會的傳統知識與權威，希望在經濟上建立一個公平的社會。
- () 31. 民國十年，孫中山先生發表演講「五權憲法」，說：「五權憲法是兄弟所創造，古今中外各國從來沒有的」。請問：孫中山先生的「五權憲法」，可能有參考上述哪一個西方重要歷史文獻？
(A) 甲 (B) 乙 (C) 丙 (D) 丁。

背面尚有試題

※ 下課鐘響前不得繳卷

姓名：

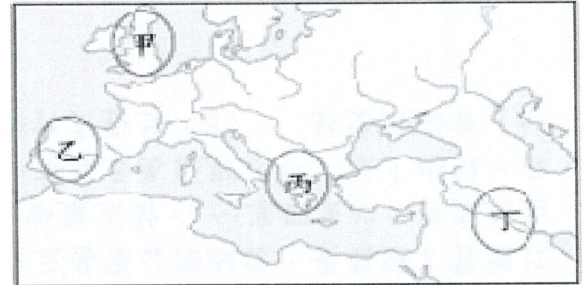
P.4

【題組三】

請依據下列圖表訊息，回答第 32 題至 33 題。

- ◎西元 1738 年，約翰凱發明飛梭，增快了織布的速度。
- ◎西元 1760 年，哈格雷夫設計新型紡紗機，稱為「紡織貞妮」，大大提高紡紗的速度。
- ◎西元 1769 年，瓦特改良蒸汽機成功，提供新的動力來源，取代傳統的人力、自然力，且可裝置於任何地點。
- ◎西元 1793 年，惠特尼發明軋棉機，分離棉絮與棉籽，改善棉織原料的生產效率。

- () 32. 上述一連串生產技術的發展，與下列哪一史事的出現有關？
 (A) 文藝復興 (B) 宗教改革
 (C) 工業革命 (D) 科學革命
- () 33. 上列資料敘述的生產技術變革，最早是由右圖中的何處展開？
 (A) 甲 (B) 乙 (C) 丙 (D) 丁。



- () 34. 日常生活中，由於多數人願意從事勞動，整體社會才能享受勞動的成果。請問：下列何者符合勞動的定義？
 (A) 之漢每天到健身房練身體 (B) 佳祥假日到河濱公園打球
 (C) 永仁畢業後擔任警察工作 (D) 曉萱熬夜苦讀準備期末考
- () 35. 臺北市設置志工管理整合平臺，讓有志成為志工作者、想招募志工的公私機構，都可以透過這個平臺進行媒合，並從平臺上獲取相關法令等資訊。從勞動的類型來檢視，志工的勞動類型與下列何者最相似？
 (A) 工地裡統籌規劃的工地主任 (B) 便利商店收銀理貨的店員
 (C) 車站中維持秩序的保全人員 (D) 請育嬰假在家育嬰的父母
- () 36. 全球經濟從新冠肺炎(COVID-19)疫情影響中慢慢復甦，一些企業開始增加職缺。有些跨國企業以提高報酬方式，準備爭奪時薪勞工，希望透過加薪或增加補貼，從其他工作崗位招募勞工，或吸引觀望者重新投身就業市場。關於前述跨國企業提高報酬徵才的過程，下列敘述何者正確？
 (A) 跨國企業是屬於勞動力的提供者 (B) 時薪勞工是屬於勞動力的需求者
 (C) 企業加薪違反勞動基準法的規定 (D) 提高時薪有助企業留住優秀人才
- () 37. 下列為四位同學對勞動參與的認知，請問何者說法「有誤」？
 (A) 大雄: 無酬的家務勞動，不具有任何的社會價值 (B) 胖虎: 提供勞動賺取報酬，是屬於市場勞動
 (C) 靜香: 家務勞動與市場勞動相輔相成，缺一不可 (D) 小夫: 市場勞動創造經濟價值，較受到重視

- () 38. 右表是阿凱一家人最近的生活狀態，根據內容判斷，誰正處於失業狀態？
 (A) 爸爸 (B) 媽媽 (C) 哥哥 (D) 妹妹。

| 稱謂 | 生活狀態 |
|----|--------------|
| 爸爸 | 從區公所退休，在家帶孫子 |
| 媽媽 | 在中正銀行擔任協理職務 |
| 哥哥 | 四處投履歷但卻接連遭拒 |
| 妹妹 | 就讀中正大學社會系三年級 |

- () 39. 承上題，失業者可依照哪一部法律的規定，向政府申請失業給付，以維持失業期間的基本生活開銷？
 (A) 勞動基準法 (B) 就業保險法
 (C) 公平交易法 (D) 消費者保護法
- () 40. 小禾大學畢業後找到第一份正式的工作，教授和爸爸都不約而同的提醒他進入職場後，一定要遵守「工作倫理」。有關「工作倫理」的敘述，哪一項「錯誤」？
 (A) 時時發揮敬業精神 (B) 轉賣公司機密賺錢 (C) 持續不斷充實自己 (D) 建立正確的工作觀
- () 41. 為了歡慶耶誕假期與新年假期，某銀行推出如下的優惠。請問：下列有關活動的內容說明，何者敘述正確？

自 12/22 起至 1/5，持本行信用卡於購物網站消費，單筆刷滿 888 元且登錄成功，即可享有最高 8% 折抵現金優惠

- (A) 要先將現金儲值於卡片內 (B) 此信用卡由中央銀行發行
 (C) 信用卡屬於一種商品貨幣 (D) 屬於先消費後付款的模式
- () 42. 老師在說明貨幣時指出：「如果一隻哆啦 A 夢娃娃在甲店售價為 10 個銅鑼燒，而同樣的娃娃在乙店的售價為 8 顆蘋果，在這種情況下，很難確認哪一家店的哆啦 A 夢娃娃比較貴。但若有共同的貨幣，這個問題就能迎刃而解。」請問上述說法最能凸顯貨幣的何種功能？
 (A) 交易媒介 (B) 價值衡量 (C) 價值儲存 (D) 債務清償

※ 下課鐘響前不得繳卷

姓名：

P.5

() 43. 貨幣的出現使市場交易更加便利，但其實是經過一連串的演進過程。有關貨幣演進的敘述，下列何者最為正確？

- (A) 以物易物缺乏價值衡量標準，且耗時費力
- (B) 商品貨幣由政府發行，並強制規定其價值
- (C) 法定貨幣不易保存，所以又發展金屬貨幣
- (D) 中華民國的法定貨幣由台灣銀行負責發行

() 44. 在貨幣市場上，下列哪個人最可能需要出售外國貨幣？

- (A) 到英國劍橋大學留學的約翰
- (B) 赴撒哈拉沙漠訓練的彥博
- (C) 從東京返國的金牌選手婁淳
- (D) 前往非洲擔任志工的曉雯

() 45. 右圖的鈔票上標示著其面額，但真正貨幣的價值是透過下列何者來判斷？

- (A) 貨幣所能購買的產品數量
- (B) 貨幣發行的時間是否悠久
- (C) 貨幣的圖案設計美觀與否
- (D) 該國的邦交國數量來判斷

() 46. 我國中央銀行於民國 68 年修正及公布的「中央銀行法」中，由總統府改隸行政院，肩負起國內經濟發展的重要任務。請問：下列對央行的敘述，何者「錯誤」？

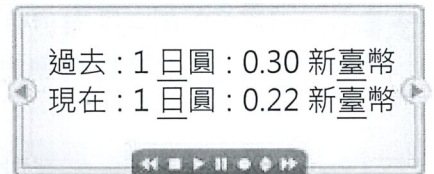
- (A) 管理外匯市場
- (B) 健全銀行業務
- (C) 提供民眾開戶
- (D) 維持金融穩定

() 47. 根據右圖，下列何者最可能發生在此變化之後？

- (A) 最近應該多安排一些日本旅遊
- (B) 先前購買的日圓脫手必能賺翻
- (C) 最近可以多出口些商品到日本
- (D) 日本進口的產品會比過去更貴

() 48. 承上題，跟過去相比，現在新台幣對日幣的匯率，可以用哪個名詞來說明？

- (A) 貶值
- (B) 升值
- (C) 出超
- (D) 入超



() 49. 胖虎有在做外幣買賣投資，定期以新台幣兌換美元，右圖是他近期來的兌換紀錄，圖中顯示為不同的時間點以 1 美元兌換新台幣的匯率，若僅根據圖中內容判斷，並以新台幣為衡量單位，請問在哪一個時間點，對他大量出脫手上持有的美元是最為有利的？

- (A) 甲
- (B) 乙
- (C) 丙
- (D) 丁。

() 50. 西元 2000 年到 2009 年間，辛巴威曾遭遇自獨立以來罕見的惡性通膨，甚至印出面額高達 100 兆的鈔票，不過當年 100 兆辛巴威元(ZWL) 只能買 3 顆雞蛋，當地的公廁甚至出現警告標語：「嚴禁將鈔票當衛生紙使用，以免阻塞…」，情況嚴峻迫使辛巴威棄用本國貨幣而改用美元，大家都用美元來支付日常所需物品。經由上述，可呈現出美元具有哪一個特性？

- (A) 普遍接受性
- (B) 延遲支付性
- (C) 價值儲存性
- (D) 債務清償性

