

※ 下課鐘響前不得繳卷

班級： 座號： 姓名：

1~17 題地理, 18~33 題歷史, 34~50 題公民 請用 2B 鉛筆作答, 將答案畫至答案卡上。

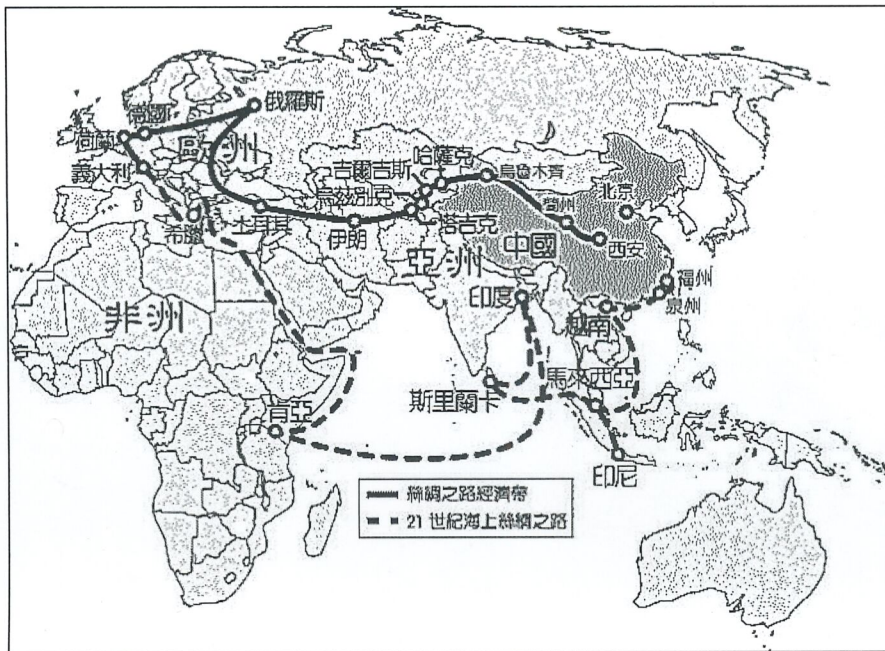
P.1

共 50 題, 每題 2 分, 滿分 100 分

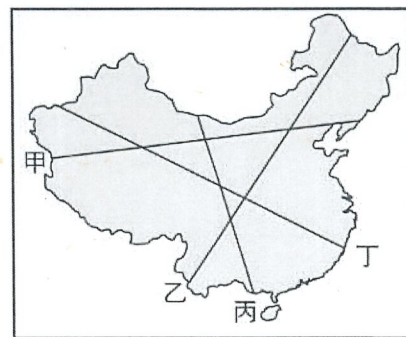
地理

- ( ) 1. 上海交通大學 2023 年發佈《全球城市產業創新指數報告》，排名顯示，深圳是全球產業創新能力最強的 5 座城市之一，凸顯其城市的產業創新表現突出。請問：深圳為中國都市中崛起最為快速者，其所具備的優勢為何？  
 (甲)位居中國海岸線中心 (乙)鄰近香港可經驗交流  
 (丙)位於珠江出海口附近且交通便利 (丁)原有都市規模巨大且人口多。  
 (A)甲乙 (B)甲丙 (C)乙丙 (D)乙丁。

- ( ) 2. 「一帶一路」計畫是習近平在 2013 年提出的政策，主要目的之一是要擴大中國在國際上的影響力。右圖是「一帶一路」路線圖，下列關於其路線特色的說明，何者正確？  
 (A)「一路」的起點是西安，終點是歐洲  
 (B)「一帶」的政策執行下，中國和鄰國的交通及貿易往來主要為鐵路運輸  
 (C)「一路」是藉由大西洋串聯東南亞和非洲的貨運  
 (D)「一帶」的運輸路線最主要將可帶動中國東部經濟帶的經濟成長。

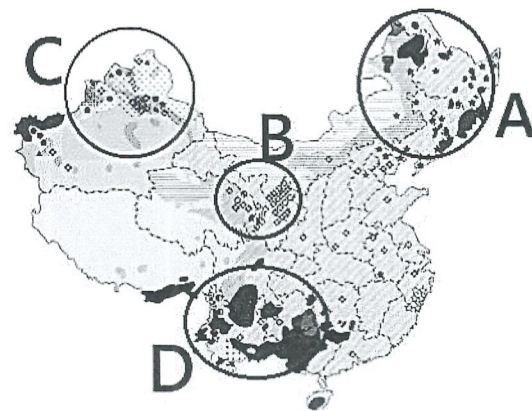


- ( ) 3. 下列哪個因素是中國實施「一帶一路」計畫的主要目的和核心任務之一？  
 (A)加強中國的基礎建設 (B)解決中國龐大的債務問題  
 (C)發展高科技產業 (D)提高對外國投資的強度。
- ( ) 4. 中國的人口分布相當不平均，呈現明顯的區域差異。右圖為中國簡圖，請問：下列有關中國人口分布的描述，何者**錯誤**？  
 (A)大致為東密西疏的分布特徵  
 (B)大致可用黑河與騰衝兩地連線為界  
 (C)右圖中的丙線就是前述的分界線  
 (D)該線以東環境負載力較高，人口總數多於西半部。



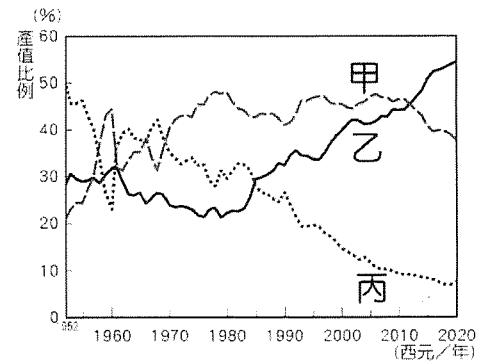
- ( ) 5. 上海市，中國直轄市，是中國的經濟、金融、貿易、航運、商業、上游製造和對外開放中心，也是中國最發達的城市之一，下列有關上海的優勢敘述何者正確？  
 (A)自古即是重要商港，目前是中國華南最重要的水陸交通樞紐  
 (B)為中國的行政中樞和重工業中心，帶領周邊都市發展  
 (C)原料動力充足，蘊藏豐富煤鐵礦產得以發展工業  
 (D)近年開闢的浦東新區，是中國許多大型企業公司總部聚集之處。

- ( ) 6. 中國的族群組成多元，大致包含 55 個民族。不同民族因分布地區的環境特性相異，使其適地發展出各具特色的文化樣貌。請問：右圖為中國民族分布圖，圖中哪一個地理區少數民族因地形阻隔，族系最多，文化多元而複雜？  
 (A)A (B)B (C)C (D)D。



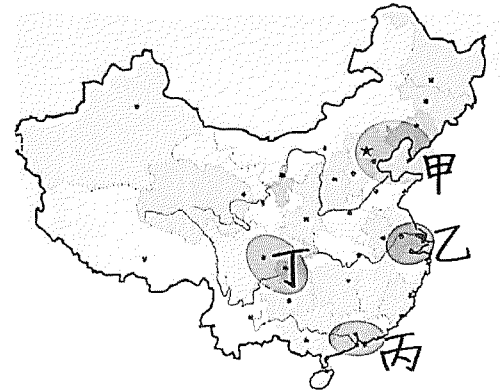
背面尚有試題

- ( ) 7. 當強風捲起大量地表沙塵,使能見度惡化的沙塵天氣出現時,造成地面能見度低於 1 公里者,稱為「沙塵暴」。每年冬、春二季,中國時常發生沙塵暴,大量的沙塵隨風飄揚,已造成中國北方居民生活上的困擾,甚至影響韓國、日本等地。請問:沙塵暴的形成,主要與何種氣候區內過度開墾,關係最為密切?  
(A)乾燥氣候區 (B)寒帶氣候區 (C)季風氣候區 (D)高地氣候區。
- ( ) 8. 1979 年,中國當局隨著改革開放的進行,宣布施行「一胎化政策」,嚴格規定居住在城市的人口每對夫妻僅能生一胎,若需生第二胎還得申報等待核准,若不合規定,將遭遇鉅額罰款。2015 年,由於該政策帶來種種弊端,正式遭到廢除。請問:「一胎化政策」帶給中國的各種影響,與下列何者最不相關?  
(A)據聯合國估計,本世紀 15 至 64 歲的中國人數量將下降 60%以上,勞動力大幅度減少  
(B)中國已由「養小為主」轉變成「養老為主」的社會,估計至 2073 年每 100 個勞動力得負擔扶養 102 個老人  
(C)中國人對於姓氏的傳承概念和重男輕女的傳統,使得性別比失衡,男性比女性比例多出了 3500 萬人  
(D)中國荒漠化問題嚴重,荒漠化土地面積 257.37 萬平方公里,占國土面積 26.8%,主要與過度開墾關係密切。
- ( ) 9. 工業發展是中國近代經濟成長的主要動力,根據右圖的中國三級產業產值比例變化圖判斷,中國工業產值應為圖中哪一條曲線?  
(A)甲 (B)乙 (C)丙。
- ( ) 10. 中國過去幾十年在湄公河上游,即該國境內興建數十座大壩,這些大壩截斷河水,導致下游的中南半島國家飽受嚴重旱災之苦,沉積物也被大壩攔截,使得下游過去肥沃的土壤嚴重流失,大大衝擊越南等國的農業。請問:中國在湄公河上游大量興建水壩的河段為何?  
(A)珠江 (B)黑龍江 (C)瀾滄江 (D)長江。



◎附圖為中國簡圖,請問:

- ( ) 11. 圖中甲、乙、丙這三大經濟圈有何共同特色? (甲)氣候暖溼 (乙)海運便利 (丙)地勢低平 (丁) 礦產豐富。  
(A)甲乙 (B)甲丙 (C)乙丙 (D)乙丁。
- ( ) 12. 圖中甲~丁為中國經濟發達的四個地區,下列關於四個地區的發展特色,何者敘述正確?  
(A) 甲→長江和海岸線的交會點,水運便利  
(B) 乙→近郊的中關村帶動高科技產業的發展  
(C) 丙→最早改革開放的地區  
(D) 丁→發展程度最高,為中國最主要的金融中心。



◎中國在改革開放之後,經濟急速起飛,在外國資金、技術的挹注下,各類型的產業均有亮眼的表現,各種工業製品的產量亦名列世界前茅,因此有「世界工廠」之稱。請問:

- ( ) 13. 在改革開放初期,東南沿海經濟特區得以快速發展的原因,主要得利於下列哪一項條件?  
(A)原料 (B)動力 (C)技術 (D)政策。
- ( ) 14. 中國被稱為「世界工廠」,主要是因為在過去的三、四十年中,哪一級產業部門生產力大幅提升的結果?  
(A)農業 (B)製造業 (C)服務業 (D)高科技工業。
- ( ) 15. 承上題,中國此一產業部門的生產力之所以能大幅成長,主要是因為在過去的三、四十年中,中國擁有何項優勢?(A)煤礦產量世界第一 (B)廉價的勞力 (C)技術領先 (D)一帶一路的商機。

◎附圖為中國三大經濟帶示意圖,請根據地圖回答下列問題:

- ( ) 16. 「此區為中國主要糧倉,也是重要的能源礦生產基地,近年因工資較低廉,發展深具潛力。」請問:此區為哪一個經濟帶?  
(A)甲 (B)乙 (C)丙。
- ( ) 17. 「中國為了促進某區的經濟和社會發展,發展了包括西電東送、西氣東輸、青藏鐵路、南水北調等項目的政策。」請問:此區為哪一個經濟帶?  
(A)甲 (B)乙 (C)丙。



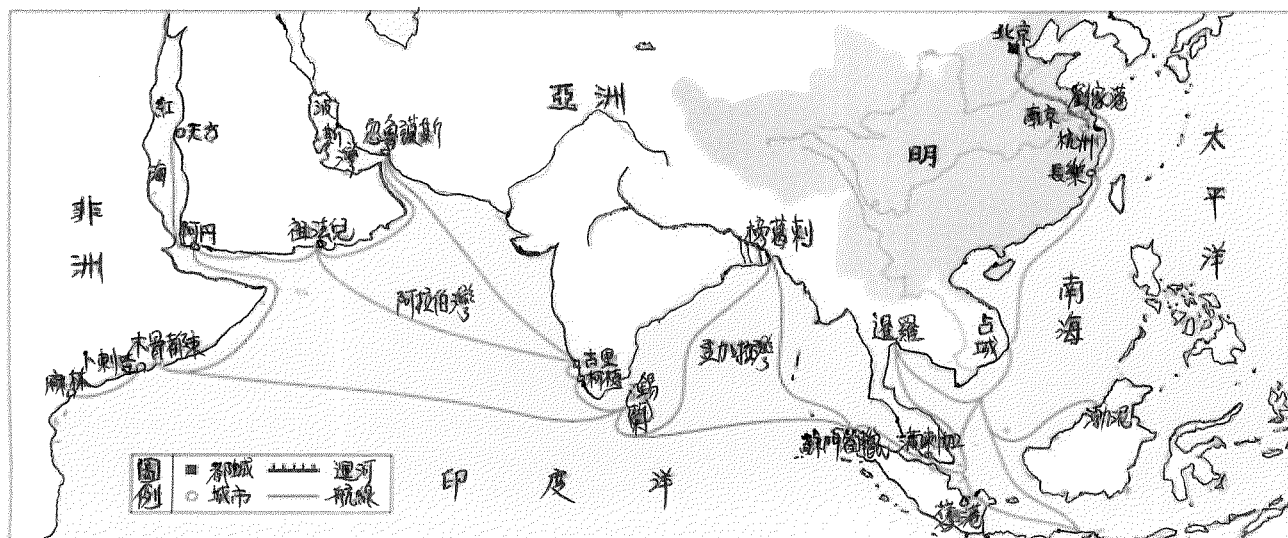


歷史

- ( ) 18. 唐朝滅亡後，中國東北方的契丹族崛起，並且勢力越過長城以南，長期對漢人政權造成嚴重的威脅。請問：上述發展的原因，與下列契丹族的哪一項作為有關？  
 (A)聯合女真族，共同夾擊漢族 (B)進行海上探險活動，吸引南方民族投降  
 (C)取得燕雲十六州的軍事要塞 (D)建立驛站系統，加強南北兩方經貿關係。
- ( ) 19. 西元十一世紀後的宋朝，面對北方的遼、西夏等國的威脅，發展出與傳統漢人政權不同的對外政策，如宋真宗時的《澶淵之盟》，宋、遼兩國締約為兄弟之國。請問：此項盟約對宋朝而言有何意義？  
 (A)完全解決宋朝長期的外患威脅 (B)彰顯宋朝國力在其他國家之上  
 (C)擴大宋朝的疆域版圖 (D)建立宋朝與周邊國家的平等外交關係。
- ( ) 20. 北宋晚期，一位官員評論政府的某項重要決策，指出：「此決定就像是一個擁有萬貫家財的富人，與貧窮的人為鄰，富人想要併吞對方的土地來擴充自己的家，就與強盜密謀，承諾將鄰人的土地分強盜一半，其所擁有的財富也給強盜，強盜於是同意合作。趕走貧窮鄰人後，富人雖有龐大財富，卻日日夜夜被強盜覬覦，想一夜高枕無憂都不可得啊！」請問：上述描述的重要決策，應該是指下列何者？  
 (A)聯金滅遼 (B)聯蒙古滅金 (C)經濟重心的南移 (D)推行文人政治。
- ( ) 21. 南宋名將岳飛，著名的滿江紅中一段：「…駕長車，踏破賀蘭山缺。壯志飢餐胡虜肉，笑談渴飲匈奴血。」(白話意譯：希望能夠早日率領長列軍車，浩浩蕩蕩踏破賀蘭山關口！到那時，我們餓了就可以慷慷慨慨的啃吃□□肉；渴了就可以談笑風生的啜飲□□血，以消我們心頭之恨。)請問：上文滿江紅詞中的「□□」，是指當時的哪一個草原民族？(A)匈奴 (B)女真 (C)契丹 (D)蒙古。
- ( ) 22. 歷史老師上課時播放一部電影，電影名稱為「鐵木真：開天闢地」。請問：這位歷史人物可能有下列哪一項作為？(A)消滅六國，建立第一個大一統帝國 (B)成立太學，使得儒家思想成為思想的主流  
 (C)攻滅宋朝，劃分階級並實施差別統治 (D)統一部族，建立蒙古國並展開西征。
- ( ) 23. 大雄擷取網路一段資料：「十三世紀的義大利人馬可波羅的著作《東方見聞錄》，書中記載他從威尼斯出發走陸路經過西亞、中亞到達中國，在中國的大都晉見元世祖並在元朝任官，多年後從中國返回威尼斯，此書的完成，影響了後來歐洲人對東方的認識及探索興趣。」請問：依據元代的社會階層分類，馬可波羅應該屬於下列哪一階層的人？(A)漢人 (B)色目人 (C)南人 (D)蒙古人。
- ( ) 24. 元朝時，來自中國南方福建的大雄，在經過數年的寒窗苦讀，北上京城參加科舉考試。請問：大雄在準備科舉考試期間，最應該要研讀的是下列何人的著作？(A)張擇端 (B)畢昇 (C)朱熹 (D)忽必烈。
- ( ) 25. 美術老師上課說：「清明上河圖是中國著名的畫作，畫中呈現宋朝首都汴京，城市居民的生活多樣化，當時因為□□□□的廢除，商業活動非常熱絡，不分白天或晚上，街上的人潮熙熙攘攘。」請問：上文中□□□□，是指下列何者？(A)坊市制度 (B)發行紙幣 (C)海禁政策 (D)驛站系統。
- ( ) 26. 明清兩朝代，皆曾經於沿海地區實施海禁，而當時欲與中國貿易的國家，必須先接受中國冊封，才能以進貢的名義和中國通商。請問：明朝初年，實施海禁政策的原因為何？  
 (A)蒙古侵略北方邊防 (B)打擊臺灣鄭氏政權的經濟  
 (C)倭寇劫掠東南沿海 (D)傳教士捲入宮廷政爭。
- ( ) 27. 歷史課堂上，同學們討論中國某一朝代的「盛世」特色。  
 大雄說：「此時君主運用高壓與懷柔並行的策略，既籠絡士人又企圖消除人民的反抗意識。」  
 靜香說：「朝廷表面支持學術文化，但不少的讀書人卻因為個人寫作的詩文，觸犯當政者的禁忌而入獄，甚至遭到誅殺。」  
 胖虎說：「這長達一百多年的盛世，將今日的蒙古、新疆、西藏等地皆納入中國版圖。」  
 請問：上述三位同學所討論的是哪一個朝代？  
 (A)清朝 (B)明朝 (C)元朝 (D)宋朝。

- ( ) 28. 自西方的新航路發現後，對世界歷史的發展造成重大影響。請問：下列何者是其對當時中國的影響？  
 (A)為了引進美洲作物，白銀因而大量流出中國 (B)透過白銀的交易，促使中國與世界各地的經貿交流  
 (C)中國沿海的居民開始大量移民到朝鮮、日本 (D)中國對外貿易增加，解決了當時走私貿易的問題。
- ( ) 29. 暑假期間，曉華與家人到日本九州長崎市觀光旅遊，來到行程景點的「舊出島神學校」，導遊介紹說：「出島是一座建設於西元 1636 年的人工島，此時日本對外採取『鎖國政策』，限制西方傳教士與商人在日本的活動，…出島是當時外國商船唯一可以停泊的貿易港口，而舊出島神學校，當時除了是一間基督教神學校，也是日本現存最古老的基督教神學院建築。」請問：舊出島神學校的建立，與下列的哪一個國家有關係？  
 (A)中國 (B)西班牙 (C)葡萄牙 (D)荷蘭。

◎請根據下圖的「鄭和出使路線圖」，回答 30 題至 31 題：



- ( ) 30. 根據鄭和出使的路線判斷，明成祖派鄭和率領船隊前往的「西洋」，應是指下列何地？  
 (A)非洲、太平洋 (B)東南亞、印度洋 (C)歐洲、大西洋 (D)美洲、臺灣海峽。
- ( ) 31. 經由上圖鄭和船隊在海上長期的航行活動，影響到後來明清時期的哪一項歷史發展？  
 (A)在歐亞地區建立四大汗國 (B)歐洲各國成為中國朝貢體制下的國家  
 (C)漢人大量移民到東南亞地區發展 (D)明清時期海禁政策的結束。

◎請閱讀下列短文，回答 32 題至 33 題：

「西元 1582 年，利瑪竇和同伴們到達澳門，開始他在中國漫長的傳教生涯。…為了引起中國人的注意，利瑪竇不但學習漢語，還研讀儒家經典。他也不再穿著僧服，而把自己打扮得像一個中國的讀書人，並開始遊走中國各地，…最後落腳北京。一路上，他與中國官員有很多交流機會，他將自己所知的西方科學，特別是數學、天文學和地圖學，透過書籍翻譯，教給這些中國的知識分子，同時也藉機傳教。後來與他來往最為密切的幾個中國朋友，如李之藻和徐光啟，都是被這些科學知識所吸引。…但新來的天主教，並不能立刻融入中國文化之中。當時的佛教徒與儒生，就常常對天主教教義提出質疑。…為了順利推動傳教，利瑪竇只好說，祭天或祭祖與天主教教義沒有本質上的衝突，轉信天主教的中國信徒仍然可以繼續拜祖先。…但不是所有人都能接受利瑪竇的看法。到了清朝康熙年間，羅馬教廷下令禁止教徒祭祖，…衝突愈演愈烈，到了雍正年間，天主教的傳教行為，在中國遭到全面查禁。」

資料來源：史景遷，《利瑪竇的記憶宮殿》。台北：麥田

- ( ) 32. 利瑪竇來到中國傳教過程，透過什麼方式吸引中國士人的接近，並結交了幾個重要的中國好友？  
 (A)傳教過程吸收佛教教義 (B)接受中國傳統多神信仰  
 (C)禁止中國教徒祭祖祀孔 (D)積極傳入西方科技知識與思想。
- ( ) 33. 利瑪竇以自身的傳教方式，成功的將天主教傳入中國，但是卻在清初之際遭到查禁，其原因應為下列何者？  
 (A)羅馬教宗禁止信徒祭祖祀孔 (B)傳教士企圖顛覆清國政權  
 (C)科技思想衝擊儒家文化 (D)清朝皇帝崇信佛教而反對天主教。



公民

- ( ) 34. 黃姓女醫師在臉書粉絲專頁發表健髮、高濃度血小板血漿療法文章，被衛生局認定違法，裁罰五萬元，因醫療法第八十四條規定「非醫療機構，不得為醫療廣告」，黃提訴願被駁回，再提行政訴訟。此外，她主張完全禁止醫師打醫療廣告是侵害憲法保障的言論自由，因此聲請釋憲。司法院負責釋憲的【甲】認為條文全面禁止醫師刊登醫療廣告，確違反憲法保障言論自由意旨，判決違憲並此法條日即失效。下列哪些屬於【甲】機關所負責的職權？(甲)審理政黨違憲解散案件 (乙)審理公務員彈劾案 (丙)審判一般民眾訴訟案件 (丁)提出總統、副總統彈劾案 (戊)審理總統、副總統彈劾案。(A)乙丁 (B)乙丙 (C)丙戊 (D)甲戊。
- ( ) 35. 右圖甲~丁為緊急命令的發佈流程，下列何者不屬於的職權？
- |                                     |                  |
|-------------------------------------|------------------|
| (甲)國家遭遇緊急危難<br>或財政經濟變故時             | (乙)經行政院<br>會議決議  |
| (丙) <input type="text"/> 發佈<br>緊急命令 | (丁)十日提交<br>立法院追認 |
- (A)統帥陸海空三軍  
(B)發布法律、命令  
(C)直接任命司法院院長  
(D)擁有國防、外交的實際決策權
- ( ) 36. 關於行政機關—立法機關的配對，下列何者正確？  
(A)新竹市公所—新竹市代表會 (B)花蓮市政府—花蓮市議會  
(C)三星鄉民代表會—三星鄉公所 (D)台東縣政府—台東縣議會。
- ( ) 37. 因為【甲】的區長過世，地方選委會在日前辦理區長缺額補選投票作業，住在此區的恩振，認為參與投票是身為公民該有的權利與義務，便前往投開票所投下自己神聖的一票。請問恩振最有可能居住在下列哪一個行政區中？(A)桃園市 (B)嘉義市 (C)南投縣 (D)宜蘭市。
- ( ) 38. 今年六福村的保育類動物—東非狒狒，在流蕩時遭到獵殺，監察委員調查發現，農業部林業署及自然保育署輕率聯繫獵人，卻未充分說明情境，導致圍捕安置行動演變成獵殺；而桃園市政府身為野生動物保育法地方主管機關，卻於圍捕行動中，未指派行動指揮官，人力調度猶如散沙，任由民眾圍觀。對此，監察院對農業部、桃市府提出★★，希望讓荒腔走板的政府部門學習以後該如何正確因應這樣的狀況。請問：★★為監察院做出的何種行為？(A)彈劾 (B)糾正 (C)糾舉 (D)罷免。
- ( ) 39. 屏東潮州夜市長期占用道路擺攤，屢遭民眾檢舉，攤商頻喊苦，對此，潮州鎮鎮長決定在愛國路封路 500 公尺讓攤商轉移陣地，並協助轉型合法化，讓此地成為潮州鎮首個合法夜市。經向【甲】機關提案後，其審議通過潮州鎮臨時攤販集中場管理自治條例。關於【甲】機關的敘述，何者正確？  
(A)甲為潮州鎮議會 (B)甲負責執行中央委辦事項  
(C)甲負責監督該自治條例的推動情況 (D)甲負責推動執行地方自治項目。
- ( ) 40. 日前「屏東明揚國際火災案」，傷亡共計 121 人，造成 4 名消防人員殉職，內政部部长因此案至【甲】機關進行專案報告並且接受質詢。同時，【乙】機關將依因公殉職撫卹規定，以最高等級辦理因公撫卹事宜，每名殉職者可請領各項撫卹、慰問金包括公務人員保險、因公殉職撫卹金等。請問，關於甲、乙兩機關的職權，下列敘述何者正確？  
(A)法案於甲機關三讀通過後須交由司法院公布 (B)甲機關負責審理總統、副總統罷免案  
(C)乙機關可以懲戒違法的公務人員 (D)乙機關負責辦理專門職業及技術人員考試
- ( ) 41. 承上題，請問與內政部長產生方式相同的為下列何者？(甲)審計長 (乙)司法院院長 (丙)行政院副院長 (丁)檢察總長 (戊)大法官。  
(A)甲丙 (B)丙丁 (C)甲戊 (D)乙戊。
- ( ) 42. 我國中央與地方政府的分權方式採均權制度，凡事務有因地制宜之性質者，屬於地方權限。請問：下列何者不屬於地方政府的職權？  
(A)進行都市更新 (B)颱風來襲是否放假 (C)管理地方法院 (D)審核地方預算。

- ( ) 43. 台北地檢署某檢察官日前在台北市與一女大生發生車禍，沒有報警卻在爭執賠償時，向女大生說出「這條路有很多旅館」等語，被女大生申訴性騷擾。監察院審查通過【甲】案，將移送司法院【甲】審理。對此，北檢表示尊重監察院的決議。請問，(甲)(乙)分別為何者？  
(A)彈劾；懲戒法院 (B)糾舉；懲戒法院 (C)糾舉；上級長官 (D)糾正；憲法法庭。
- ( ) 44. 小傑的爸媽帶小傑到歐洲旅遊，到著名的少女峰時，小傑突然想到國文課老師教的「書信結構及用語」，便將所學派上用場，想從少女峰寄幾張明信片給親朋好友，回台兩個月了，表姊告訴小傑遲遲未收到他的明信片，依我國地方制度層級，請判斷小傑當初哪張明信片的地址必須修正？  
(A) 嘉義縣太保區祥和一路東段一號 (B) 高雄市岡山區 60 巷 19 號  
(C) 彰化縣鹿港鎮民權路 168 號 (D) 花蓮市達固湖灣大路 1 號。
- ( ) 45. 今年六月時在野黨立憲民主黨稱由於首相岸田文雄計劃國防增稅，讓國民面臨高物價，卻未做好人民要求的物價飆漲對策，認為岸田無承擔政權的資格，因此國會提交內閣不信任決議案，最後，不信任決議案遭自民黨與公明黨等反對多數票否決。此舉在我國亦有相似的機制，我國的不信任案是由(甲)機關之成員對(乙)提出，若不信任案通過，則(乙)必須辭職。請問，下列敘述何者正確？  
(A)甲代表行政院、乙代表立法院院長 (B)甲代表司法院、乙代表總統  
(C)甲代表立法院、乙代表總統 (D)甲代表立法院，乙代表行政院院長。
- ( ) 46. 我國於 2024 年 1 月 13 日將舉行第 15 屆總統、副總統及立法委員選舉，關於這次立委選舉的說明，下列何者敘述錯誤？(甲)得票 3% 以上的政黨，可依比例分配不分區立委席次(乙)立法院院長為民選的(丙)立委選舉制度中單一選區，是指一個選區只選出一個立委 (丁) 立委選舉制度中兩票制是指一票選區域立委，一票選政黨。  
(A)甲乙丙丁 (B)甲乙 (C)乙丙 (D)丙丁。
- ( ) 47. 我國各院之間各有權力相互制衡，有關這些權力運作的敘述，何者正確？(A)立法院對政府施政不滿，可以發動委員對行政院長提出罷免案 (B)行政院針對立法院之決議事項，若覺得窒礙難行，可移請立法院覆議 (C)倒閣案通過，立法院可提請總統解散行政院 (D)總統任命行政院院長，需經過立法院同意。
- ( ) 48. 每年的 11 月到隔年 2 月是欣賞唯美落羽松的最佳時機，小馨喜歡漫步在高大又充滿秋冬氣息的落羽松林，讓她覺得格外愜意適，下列是她預計這個秋冬要欣賞落羽松的縣市，請問：哪一個地方的自治層級與「嘉義市」相同？(甲)「桃園市」八德區 (乙)「苗栗縣」三灣鄉 (丙)「基隆市」天外天復育公園 (丁) 南投縣「南投市」。  
(A)乙丙 (B)乙丁 (C)甲丙 (D)甲丁。

台中新社花海今年與花毯節合體，市府花許多經費、人力、物力策畫和布展，新社就像「台灣的普羅旺斯」，從 11 月 11 日開始展開為期 23 天的花卉盛典，推出全台首座體資最大，高 16 米、5 層樓高的飄浮空中花卉城堡「漂浮花都」，不僅於整點表演漂浮雲霧的動態秀，也推出全新職人村企劃，體驗景觀、美食、採果、生態導覽、職人手作等豐富多元的遊程，如「安妮公主花園」，園區種植許多香氛香草植物，可體驗摘取茶樹葉，親手製成精油純露或茶樹防蚊液，希望能讓遊客賞花、賞景吃美食。請問：

- ( ) 49. 台中市今年將新社花海與花毯節合體，主要是希望能夠達到地方政府的哪項自治項目？  
(A)從事社會服務 (B)促進經濟發展  
(C)推展教育文化 (D)維護安全衛生。
- ( ) 50. 關於台中市推展花毯節的活動，預算的編列及決算審議程序如右圖所示，敘述正確的有幾項？  
(A)4 項 (B)3 項 (C)2 項 (D)1 項

