

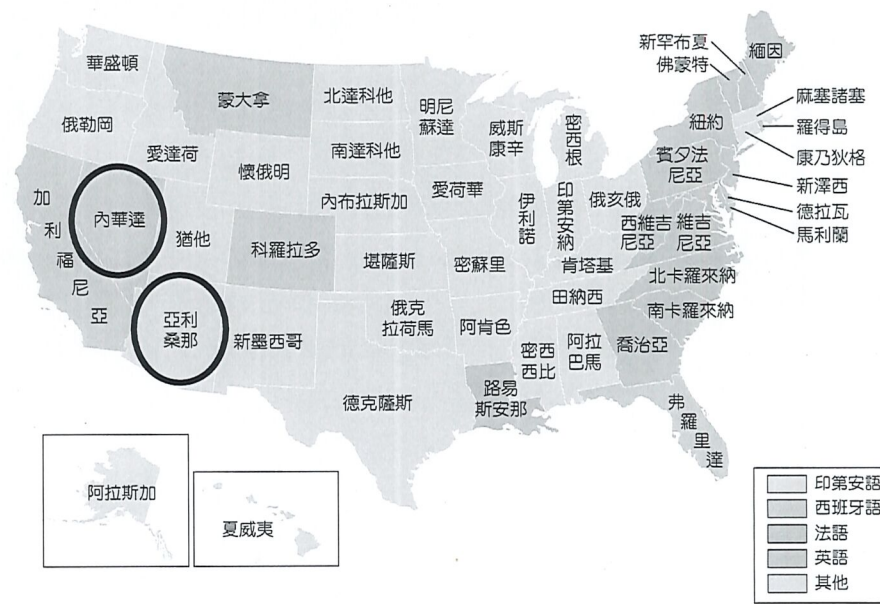
※ 下課鐘響前不得繳卷

班級： 座號： 姓名：

※ 注意! 請務必在答案卡最上方欄位寫上班級、座號和姓名。

P.1

1. 位於美國西南內陸的內華達州(拉斯維加斯)及亞利桑那州(鳳凰城)一帶(如右圖圓圈處), 陽光炙熱、降水量少, 形成乾燥少雨的沙漠氣候, 鳳凰城當地的職業籃球隊亦取名為太陽隊。請問: 造成此區乾燥少雨的原因為何?



(A) 位於西風背風側 (B) 距離海洋很遙遠  
(C) 沿海有暖流通過 (D) 熱帶低氣壓籠罩

2. 美國職業籃球聯盟(NBA)的人氣球隊洛杉磯湖人隊, 西元 1948 年成立於明尼蘇達州, 明尼蘇達州位於美、加五大湖邊境, 有「湖泊之州」之稱, 西元 1960 年湖人隊雖搬到美西大城洛杉磯, 但仍繼續採用「湖人」的舊名。請問: 明尼蘇達州的湖泊形成主因與下列何種營力有關?

(A) 河川沖積 (B) 冰河侵蝕  
(C) 斷層陷落 (D) 風力侵蝕

3. 二次大戰後, 美式文化擴散全球, 許多跨國企業、體育運動、流行文化等產業, 均透過商業包裝, 行銷世界各地。因此美式文化不僅是文化, 同時也代表商品輸出。下列何者「並非」美式文化或產品?

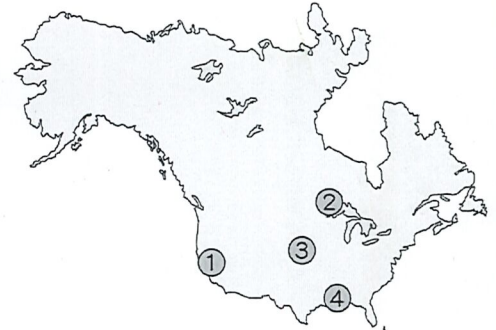
(A) 麥當勞速食 (B) 寶萊塢電影 (C) Disney 動畫 (D) Costco 量販

4. 西元 2019 年的中美貿易戰, 中國將由美國進口的大豆稅率提高至 25%, 由於成本提高, 使得中國商人採購美國大豆的意願大幅下降。請問: 這件事對於美國種植大豆的農夫可能會有什麼影響?

(甲) 改種其他作物 (乙) 降價尋求買家 (丙) 挑選產量更高的大豆種子 (丁) 找更多人力進行集約耕作  
(A) 甲乙 (B) 甲丙 (C) 乙丙 (D) 丙丁

5. 右圖為北美洲常見自然災害分布圖, 有關下列敘述, 何者正確?

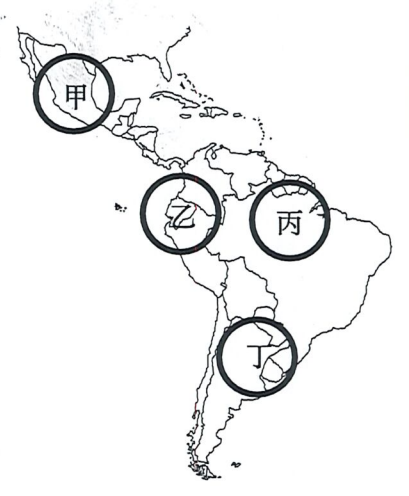
(A) 1 常見到颱風侵襲, 要做好防颱準備  
(B) 2 常有鋒面滯留, 嚴防大雨造成淹水  
(C) 3 為龍捲風走廊帶, 春、夏交替常見  
(D) 4 為板塊接觸帶, 地震活動非常頻繁



6. 西元 2016 年, 巴拿馬運河完成了為時近 9 年的大規模擴建, 下列對巴拿馬運河重要性的敘述, 何者正確?

(A) 是盎格魯美洲與拉丁美洲的分界線 (B) 連接了太平洋與印度洋的最短捷徑  
(C) 此處冬天易有浮冰, 必須小心通過 (D) 從紐約到加州的海運最適合經此處

7. 豚鼠又名天竺鼠, 其祖先來自南美洲的安地斯山, 在當地原住民的文化中, 豚鼠占有重要地位, 它們不僅是一種食物來源, 也是藥物來源和宗教儀式的祭品, 16 世紀後由歐洲商人帶到西方, 1960 年代以後, 在南美洲以外地區對豚鼠的需求開始增加, 至今成為常見的家養寵物。請問: 若想探詢天竺鼠的故鄉, 應該前往右圖中何處?



(A) 甲 (B) 乙 (C) 丙 (D) 丁

8. 承上題, 文中所提及的「當地原住民」為哪一個族群?  
(A) 印第安人 (B) 因紐特人 (C) 斯拉夫人 (D) 貝都因人

9. 巴西的森巴舞節奏輕鬆明快, 形成熱情奔放的舞步, 是巴西的招牌舞蹈。請問: 巴西這種除了傳統文化外, 亦融合其他文化特色的現象, 在融合的文化之中, 「不包括」下列何者?  
(A) 拉丁文化 (B) 非洲文化 (C) 印第安文化 (D) 伊斯蘭文化

10. 我國目前有 13 個邦交國, 有 7 個友邦位於中南美洲, 其中又以位居中美地峽和西印度群島為多。請問: 下列哪一項農產品最可能是我國從這些友邦進口而來的?  
(A) 小麥 (B) 咖啡 (C) 棉花 (D) 橄欖

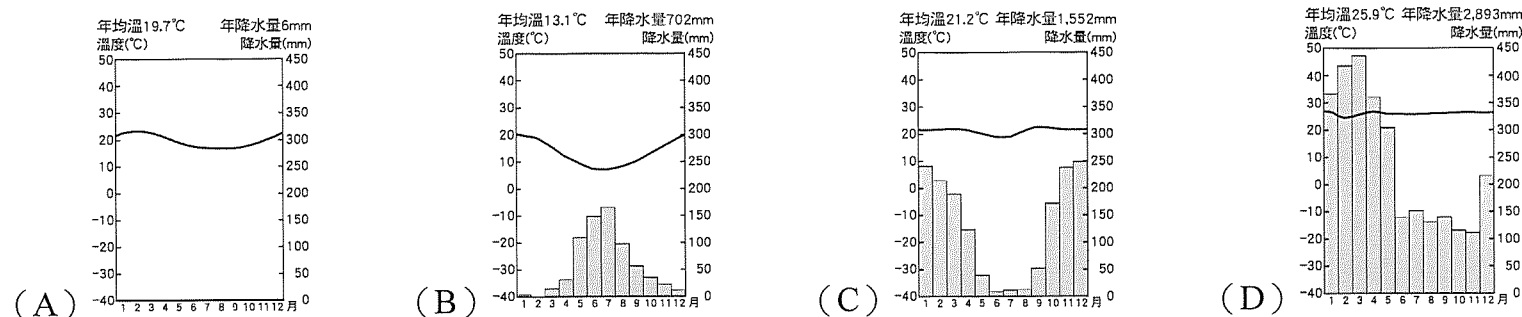
11. 近年來區域經濟組織紛紛成立, 許多國家相互結盟以增加競爭力, 例如: 歐洲聯盟、亞太經濟合作會議。請問: 中南美洲因哪一個國家加入北美自由貿易協定(現稱 USMCA), 而吸引許多國外廠商前往該國設廠?  
(A) 巴西 (B) 智利 (C) 墨西哥 (D) 阿根廷

背面尚有試題

12. 巴西第一大城聖保羅人口超過 1200 萬，第二大城里約人口也有 600 多萬，都市化程度偏高是中南美洲多數國家常見的現象。請問：形成這種現象的主要因素為何？

- (A) 都市就業機會充足 (B) 都市農礦原料豐富 (C) 鄉村經濟過於蕭條 (D) 政府強迫遷往都市

13. 西班牙葡萄酒市場觀察站於 2021 年發布了一份關於世界葡萄酒貿易的報告。報告中指出西班牙以 21.1 億升的出口量，超過義大利成為世界第一大出口國，法國則列第三，智利和澳大利亞居五大出口國的後兩名。文中所提及的出口國皆有某一種適合栽種葡萄的氣候類型。請問：從該氣候類型的特徵來判斷，下列哪一張氣候圖最有可能是智利葡萄酒產地的氣候圖？



14. 比較北美洲商業性農業與季風亞洲集約農業的特色，下列敘述何者「錯誤」？

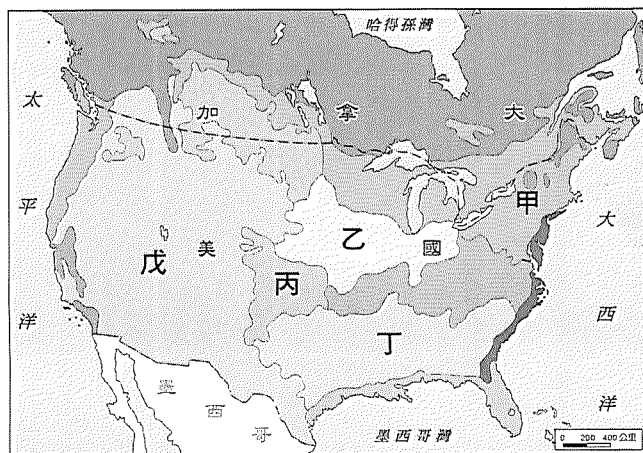
- (A) 北美洲形成專業化農作帶 (B) 北美洲高度依賴機械化耕作  
(C) 季風亞洲單位面積產量高 (D) 季風亞洲多只種植單一作物

15. 美國種植的棉花每年只能收成一次，而且需長達六個月成長期才能收成，收成後大量運銷國外製作成衣。請問：美國棉花生產的地區主要位在右圖中何處？

- (A) 甲 (B) 乙 (C) 丙 (D) 丁

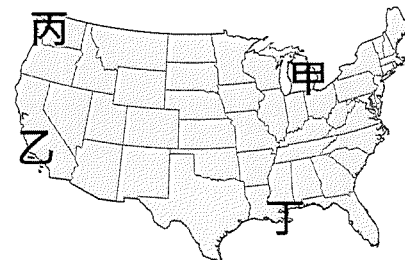
16. 美國農業部對新年度作物做出預估表示，2023/24 年度，美國小麥產量預期較上年度的 4490 萬噸增加至 4516 萬噸，除了美國以外，包括阿根廷、加拿大、中國、歐盟與印度等小麥產量也都可望增長，澳洲、俄羅斯、烏克蘭以及哈薩克等小麥產量則預期將會下滑。請問：美國主要生產小麥的農業帶，位於右圖中何處？

- (A) 甲 (B) 乙 (C) 丙 (D) 丁



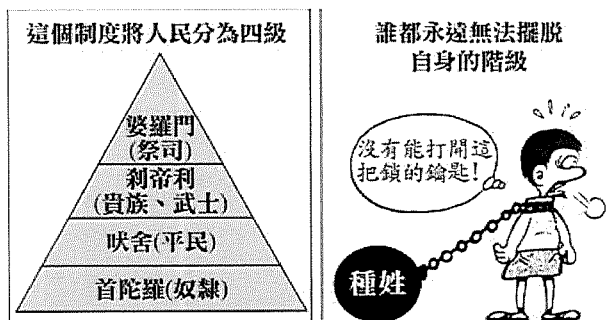
17. 匹茲堡鋼鐵人隊是一支美國職業足球隊(NFL)，位於匹茲堡，該城市因擁有豐富的煤、鐵等原料，重工業發達，連同周邊的底特律、芝加哥和加拿大的多倫多等城市，形成北美洲傳統的鋼鐵和汽車工業中心。請問：該工業帶位於右圖中何處？

- (A) 甲 (B) 乙 (C) 丙 (D) 丁



18. 課堂裡老師播放了如右所示的簡報，請同學們討論該項制度的特點與影響，請問下列哪位學生的說明正確？

- (A) 甲生：源於日耳曼人為維護自身統治優勢而推行  
(B) 乙生：釋迦牟尼悟道前的身分是隸屬婆羅門階級  
(C) 丙生：統治者鼓勵以通婚打破身分、職業的枷鎖  
(D) 丁生：這制度結合了古印度婆羅門教教義來實施



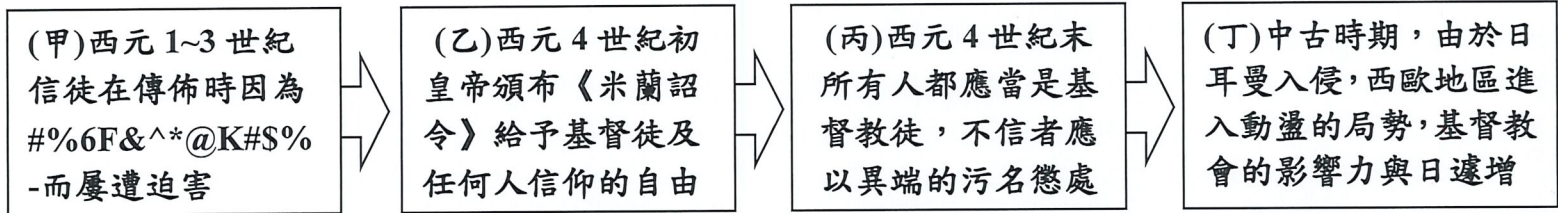
19. 「他本是迦毗毗羅衛國淨飯王的兒子，從小天資聰慧，文武兼備，不知世間其他人原來飽受各種痛苦。直到有一天出城時，他看到一位老人走在路上，面容憔悴、骨瘦如柴，走著走著就倒下來死了，他才明白無論何種階級，人原來都會歷經生、老、病、死的痛苦…。為了尋求離苦之道，他出家修行，終在菩提樹下頓悟，於鹿野苑開始傳教…。」請問：若要評論上述人物在歷史上的影響及貢獻，以下何種說明較為合適？

- (A) 創立並傳播一神信仰的觀念 (B) 打破原來種姓制度的局限  
(C) 奠定佛教外傳東南亞的基礎 (D) 造成伊斯蘭教的衝突分裂

20. 承第 19 題，有關佛教的發展情況，下列敘述何者錯誤？

- (A) 西元前 3 世紀因阿育王提倡而在印度地區廣泛傳布 (B) 此信仰大約在西漢末年經西域地區傳入中國  
(C) 朝鮮、日本等地的佛教從錫蘭、東南亞地區傳入的 (D) 唐朝時融入中國思想，為中國佛教鼎盛時期

小齊對早期基督教的發展深感興趣，將其重要演變歷程製成如下的示意圖，請參閱並回答第 21-23 題：



21. 在他搜尋的資料中，出現亂碼「#%6F&^\*@K#S%」的地方不可能為何？  
 (A)拒絕施行向羅馬皇帝表達敬意的禮儀 (B)基督徒拒服帝國的兵役  
 (C)堅決信奉阿拉為唯一真神、真正主宰 (D)違背羅馬傳統的多神信仰
22. 在奧林匹亞每四年舉行一次的運動會（敬神慶典），從上述示意圖中的哪一個階段開始會被視為「異教徒活動」而遭到廢止？ (A)甲 (B)乙 (C)丙 (D)丁。
23. 示意圖(丁)中提及教會的影響力不包括下列何者？  
 (A)鼓勵信徒努力工作、追求財富以榮耀上帝 (B)宣講、興學與濟貧，成為穩定社會的力量  
 (C)設學校抄寫古籍，保存古希臘、羅馬典籍 (D)教堂成為中古歐洲藝術典範的重要表現
24. 某篇文章中提到：「西元 1054 年對於基督教而言是特殊的一年，羅馬教宗利奧九世派出的代表來到拜占庭帝國，並宣布將君士坦丁堡大主教及其追隨者開除教籍，作為基督教東方世界領導者的君士坦丁堡大主教則當眾將詔令燒毀，並宣布開除利奧九世及其追隨者的教籍...。」請問：此篇文章的主題最可能為何者？  
 (A)政權與教權之間的爭奪 (B)基督教世界的第一次分裂  
 (C)基督教教會的宣教發展 (D)基督教世界的第二次分裂
25. 承第 24 題，右側是此事發生後，西歐與東歐地區的差異比較表，何項正確？  
 (A)甲乙 (B)乙丙  
 (C)丙丁 (D)甲丁。
- | 比較項目 | 甲、教派 | 乙、宗教領袖 | 丙、政教關係 | 丁、信仰中心 |
|------|------|--------|--------|--------|
| 西歐地區 | 羅馬公教 | 羅馬教宗   | 政教合一   | 佛羅倫斯   |
| 東歐地區 | 希臘正教 | 拜占庭皇帝  | 政教分離   | 君士坦丁堡  |
26. 「某位君主為了統治上的考量，需要招募許多能夠書寫的人才。一開始在他的國度中，竟然找不到太多有文化的人，這是因為西羅馬帝國滅亡後，城市生活逐漸消失，文化知識也幾乎被遺忘殆盡。因此這位君主特地聘請知名學者，來主持文化復興工作，諸如設立新學校、抄寫古羅馬的重要拉丁文著作，使拉丁文成為各地共通的文字系統。」請問：上述學者的身分，最可能是下列何者？  
 (A)西元前五世紀的希臘哲學家 (B)西元八世紀的基督教教士  
 (C)西元 14 世紀的伊斯蘭教徒 (D)西元 16 世紀的新教派信徒

下列內容是改寫自薄伽丘的十日談：「亞伯拉罕是個善良忠信的大商人，好友勸他改信基督教...於是他前往羅馬，暗中觀察教宗、主教們的生活與言行。他發現教會自上而下都在做壞事，各個愛錢如命、販賣人口、貪戀美色，甚至連教職、教會器物都能拿來買賣，到處充滿罪惡...。他覺得天主應該要懲罰這些人.....但也認為儘管他們(教士)的行為使基督教蒙羞，基督教卻愈來愈興盛，顯然是上帝將基督教當成最神聖的宗教而加以保護的結果，最終還是受洗成為了基督徒。」請回答第 27-28 題：

27. 這篇以人為主角，討論信仰與社會現象的文學作品，反映了當時時代的何種思想？  
 (A)以神為本位的價值觀毫無動搖，故主角皈依了基督教  
 (B)封建思想根深蒂固，教會成為人們生活中心  
 (C)理性主義時代來臨，學者關注的是社會現實而非救贖  
 (D)表現出以人為本的精神，追求現世的幸福。
28. 下列有關作者所處時期的社會現況描述，何者正確？  
 (A)巴爾幹半島北部城市的富商支持藝文創作，使該地成為文藝復興發展的搖籃  
 (B)禁絕以拉丁文寫作，促成方言文學興盛，激起各國的民族意識與族群認同感  
 (C)拜占庭學者西遷與阿拉伯人翻譯的書籍傳回歐洲，引發古典文化的研究熱潮  
 (D)藝術家運用新的技法從事雕塑或繪畫，不再採取聖經裡的宗教故事作為題材

請閱讀下列資料並回答第 29-30 題：

第 28 條：當錢幣在錢櫃中叮噠作響，增加的只是貪婪和利己之心。至於教會代禱的功效，僅由神主宰。

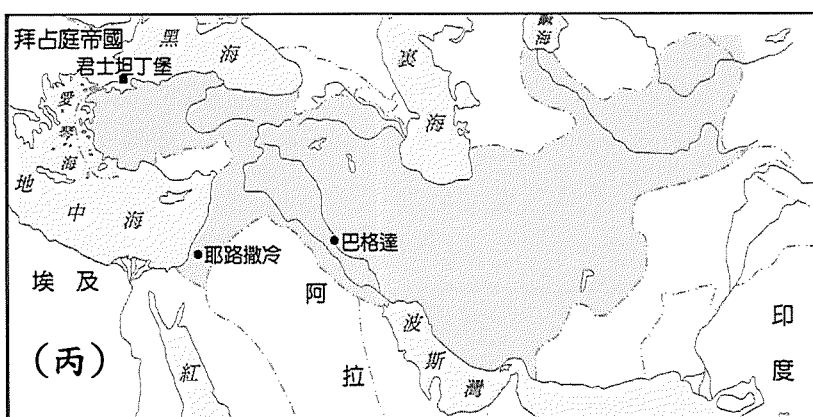
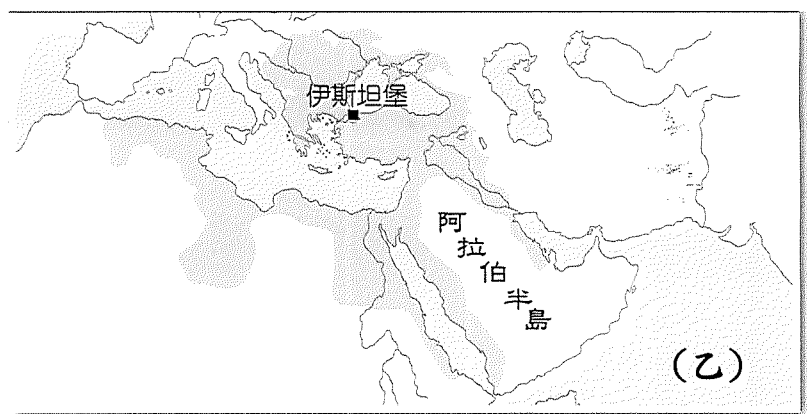
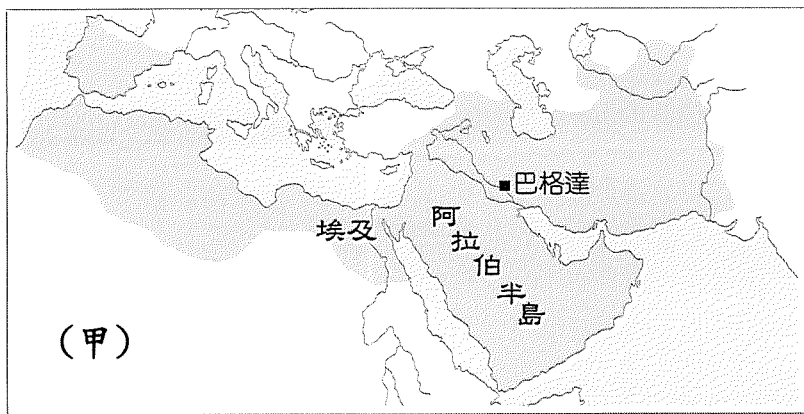
第 37 條：真誠悔過的基督徒，或生或死，就是沒有贖罪券，也能分享神和教會的賜福和恩典。

第 94 條：應當告誡基督徒通過苦行、死亡和地獄，忠心追隨其主基督。

第 95 條：唯有經歷各種苦難，而不是虛假的平安擔保，才能有把握進入天國。

29. 這份資料揭開 16 世紀宗教改革的序幕，使歐洲在信仰上更為紛歧。請問：上述內容想傳遞的訊息為何？  
 (A)金錢是萬惡的淵藪，努力賺錢不是榮耀上帝的方法  
 (B)英王和其繼承者是英格蘭教會唯一至高的領袖  
 (C)信徒從天主代理人手中獲取贖罪券，就能進入天國  
 (D)救贖不必然仰賴神職人員，只需憑藉虔誠信仰
30. 歐洲歷經的這場改革，對大航海時代的來臨有推波助瀾的作用，現存中國由傳教士利瑪竇帶入的坤輿萬國全圖、菲律賓王城區的教堂建築、澳門大三巴牌坊，都是印證下列哪一教會組織向海外積極傳教的成果？  
 (A)服從拜占庭皇帝的君士坦丁堡教會 (B)西班牙人羅耀拉創立的耶穌會  
 (C)隸屬喀爾文教派分支的長老教會 (D)英國國王領導的英格蘭教會
31. 此番改革浪潮所帶來的影響包括下列哪些？(甲)信徒閱讀聖經，提高了識字率 (乙)新教君主聯合本國教會強化民族意識 (丙)三十年戰爭後透過國際法限制信仰自由 (丁)肯定工作的價值，促進歐洲經濟成長。  
 (A)甲丙丁 (B)乙丙戊 (C)甲乙丙 (D)甲乙丁。

請參閱下列四張圖卡，回答第 32-33 題：



32. 「西元七世紀，伊斯蘭勢力在此地崛起，之後不斷的向外擴張，使得曾受波斯與羅馬文化影響的地區，在習俗、哲學、法律、政治體系上，開始與伊斯蘭文化相互揉合。」請問：符合上文描述的應是哪張圖卡？  
 (A)甲 (B)乙 (C)丙 (D)丁。
33. 承第 32 題，與該圖卡所代表之政權有關的說明何者正確？  
 (A)首都巴格達經濟發達，還是座擁有學院、圖書館的文化之都  
 (B)消滅拜占庭帝國後，將伊斯蘭教勢力帶入巴爾幹半島  
 (C)迫害前往耶路撒冷朝聖的基督徒，引發羅馬教宗號召信徒東征  
 (D)透過通商途徑將印度數字系統、中國印刷術與火藥帶入西歐地區。

34. 繼推出「進擊的巨人比薩」、打造「進擊的巨人主題餐廳」後，「必勝客」自即日起再推出台灣限定「進擊的巨人週邊商品」，包括有角色三角盤、保溫袋等系列週邊，吸引粉絲蒐集。請問必勝客的競爭方式與下列何者完全相同？(甲)速食店與世界盃足球賽合作，推出限量冰壩杯 (乙)書店會員日全館結帳滿千 77 折 (丙)炸雞店要挑戰消費者的味蕾，推出皮蛋口味蛋塔 (丁)飲料店響應環保，消費滿 300 元送環保吸管。  
(A)甲乙丙丁 (B)乙丙丁 (C)甲乙丙 (D)甲丙丁。
35. 為了擴增服務，提高績效，複合式餐飲店在台灣發展許久，俱樂部、KTV、購物中心、大賣場結合餐飲服務也不斷提高，例如好樂迪、星聚點、好市多、宜家家居(IKEA)等，都以不同形態提供多樣化服務，成了賣場吸客、留客的誘因。上述這些複合式餐飲店的做法目的正確的有幾項？(甲)提供附加價值(乙)為了增加銷貨收入(丙)為了降低生產成本(丁)為了削價競爭。(A)1 項 (B)2 項 (C)3 項 (D)4 項。
36. 宥蓁和宥廷到大阪環球影城遊玩，旅遊手冊上面推薦必吃皮卡丘造型披薩肉包，園區內幾乎人手一個，但一個要價將近 150 元新台幣。因為園區內的餐廳數量有限，比起一般路邊的商家，競爭程度較(甲)，因此遊樂區內商品的售價通常較一般市場(乙)。上文中(甲)、(乙)依序應填入下列何者？  
(A)高、高 (B)低、低 (C)高、低 (D)低、高。
37. 關於消費者保護法的相關敘述，下列何者錯誤？  
(A)針對消費者網路購物訂有相關的保障規定  
(B)旨在維護交易秩序，確保廠商間公平競爭  
(C)各地方政府依據此法設立消費者服務中心  
(D)民眾可撥打全國消費者服務專線尋求協助。
38. 寬銘剛與女友交往，為了讓女友開心，他決定要給女友一個生日驚喜-送女友一個獨一無二的生日蛋糕。但是，這個蛋糕究竟是要由連煎蛋都不會的自己花費時間去研究？還是去買專人客製化蛋糕？寬銘相當猶豫，好友佳胤於是給出建議，他提出了專業化生產的諸多好處來說服寬銘，雖然(A)專業化生產可能會縮小生產規模，但是專業化生產仍然有(B)可使品質提升(C)產量增加(D)和節省時間等優點。請問，佳胤的說明何者有誤？
39. 寬銘在考量後決定交給專業，他在女友生日前一個月，在網路上訂購有女友糖塑人偶的客製化巧克力蛋糕，但生日當天發現女友不喜歡巧克力，於是寬銘便打電話要求廠商更換蛋糕口味，卻遭到拒絕。請問：下列何者正確？  
(A)可以致電公平交易委員會檢舉 (B)可以依《消費者保護法》的要求退換貨  
(C)不可主張 7 天猶豫期，不能退換貨 (D)適用 7 天猶豫期的規定，可要求店家退換貨。
40. 【甲】日前接獲檢舉，怡仁綜合醫院及天成醫院 2022 年 9 月 1 日聯合調漲門診掛號費，甚至早於同年 1 月 1 日亦同時調漲急診掛號費，已構成【乙】所禁止之聯合行為，並分別處怡仁綜合醫院新台幣 90 萬元、天成醫院 70 萬元，總計 160 萬元罰鍰。根據上文內容判斷，【甲】、【乙】應分別填入什麼？  
(A)消費者文教基金會、公平交易法 (B)公平交易委員會、消費者保護法  
(C)公平交易委員會、公平交易法 (D)消費者保護處、消費者保護法。
41. (甲)芋好到太平青鳥書店購買文創商品(乙)穎萱上網幫隊友購買扯鈴發光器(丙)貞祐透過售票系統購買五月天演唱會門票(丁)佳蓁透過免費平台下載英文歌曲。請問上述何者在無形市場進行交易？  
(A)甲乙 (B)乙丙 (C)丙丁 (D)乙丁。
42. 班級在討論教室布置競賽，如果學藝股長玫蕙在繪製海報和剪紙藝術的效率和品質都比阿垂好，則下列四位同學對兩人如何分工才最有利的說法，何者正確？

A	予瑄:兩人應各自從事機會成本較小的事。
B	玉蕙:適性揚才，應該讓玫蕙只考慮選擇她喜歡的做。
C	品諺:應該都讓阿威做，訓練阿垂提升從事這兩件事的能力。
D	宥丞:能者多勞，這兩件事應該都讓玫蕙做。

【題組一】

2022 年台灣人口數 2321 萬人，排名世界第 57 名，但根據經濟部最新統計，去年咖啡豆進口金額突破 2 億美元，擠入全球第 28 名，比起 10 年前爬升 11 個名次。國土雖小，但是喝咖啡的人口數卻不少！國人愛喝咖啡的比例增加，也改變了便利商店的經營模式，現今的便利商店幾乎都有提供現沖咖啡的服務。為了吸引顧客，便利商店推出中杯單品美式買 6 送 6，另一家則祭出大杯美式買 1 送 1，搶攻咖啡消費市場。

43. 上述便利商店咖啡銷售所採取的競爭方式與下列何者相同？ (A)身分證對中 3 碼遊樂園免費暢玩 (B)網路購物享有免運費送到家服務 (C)餐廳新增兒童遊戲區吸引親子家庭前來消費 (D)線上訂購低溫商品，可使用超商取貨。
44. 承上題，關於這樣的競爭方式，下列敘述何者**錯誤**？ (A)有可能造成廠商惡性競爭 (B)短期看來有利於消費者 (C)長期以來有可能產生商品質下滑的缺點 (D)目的是為了降低生產成本。

驚人的黑金商機也吸引到阿雷的注意，於是阿雷決定也要開設一家咖啡店，地點就選在咖啡店分布密度最高的基隆，這裡有形形色色各式各樣的咖啡店，且價格差距不大，阿雷為了吸引消費者光顧，決定除了販售咖啡之外還另外販售鹹食和甜點等品項，提供更多的商品選擇。

45. 對阿雷開設咖啡店地點的分析，何者正確？(甲)店家多，代表店家之間高度競爭(乙)店家多，代表消費者較具有商品價格主導性(丙)店家多，應該調高售價才有利潤(丁)店家多，代表消費者的選擇較少。  
(A)甲乙 (B)甲丁 (C)乙丙 (D)丙丁。
46. 阿雷找了兩位同時熟悉甜點和鹹食製作的廚師小侷和定宇，若以一天工作 8 小時計算，以下是他們一天的總產量，請問下列敘述何者正確？ (A)定宇製作甜點的機會成本最低 (B)小侷製作鹹食的機會成本最低 (C)定宇製作一份甜點的機會成本是 5/3 份甜食 (D)小侷製作一份鹹食的機會成本是 1/2 份甜點。

	鹹食	甜點
小侷	2 份	4 份
定宇	5 份	3 份

【題組二】

瑪雷和帕拉迪島兩國為了防止卡加布列國的侵犯，決定生產並製造立體機動裝置和重武裝機槍兩項武器，以下是兩國製造兩項武器時所需時間，請問：

(完成一個所需時間)	瑪雷	帕拉迪島
立體機動裝置	3 小時	2 小時
重武裝機槍	1 小時	4 小時

47. 有關兩國製造武器數量的分析，哪一項數據是正確的？ (A)瑪雷製造 1 座重武裝機槍的機會成本是 3 座立體機動裝置 (B)帕拉迪島製造 1 座重武裝機槍的機會成本是 2 架立體機動裝置 (C)帕拉迪島製作 1 架立體機動裝置的機會成本是 3/2 座重武裝機槍 (D)瑪雷製造 1 架立體機動裝置的機會成本是 1/3 座重武裝機槍。
48. 若兩國決定在武器的製造上進行合作，兩國應如何生產，以達成雙贏的效果？ (A)第一周由瑪雷進行兩項武器的製作、第二周再由帕拉迪島負責，輪流生產兩項武器 (B)因能力有所差距，為了達到最佳效率，由帕拉迪島承擔兩項武器的製造 (C)由瑪雷生產立體機動裝置、帕拉迪島生產重武裝機槍 (D)由帕拉迪島生產立體機動裝置、瑪雷生產重武裝機槍。

兩國除了在武器製造上決定合作，也決定開放通商口進行貿易，因帕拉迪島地勢較為狹小，高低落差較大，主食小麥種植成本較瑪雷為高，請問：

49. 兩國決定貿易進出口商品時，最重要的考量依據為何？  
(A)兩國所得高低 (B)生產技術 (C)商品價格 (D)政府政策。
50. 若帕拉迪島在考量後決定進口瑪雷生產的小麥，關於帕拉迪島的人民敘述何者正確？ (甲)帕拉迪島人民可以有更多的小麥選擇 (乙)帕拉迪島人民可以獲得更多的利潤 (丙)帕拉迪島的麥農可以擁有更多的銷貨收入 (丁)帕拉迪島的麥農可能面臨失業的問題。 (A)甲丁 (B)乙丙 (C)甲丙 (D)乙丁。