

※ 下課鐘響前不得繳卷

班級：

座號：

姓名：

地理科 (第 1-17 題)

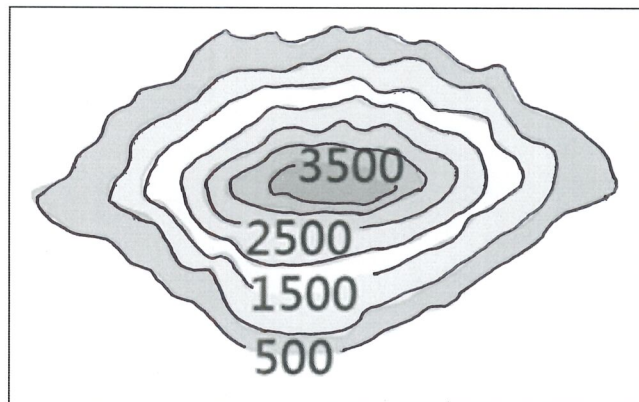
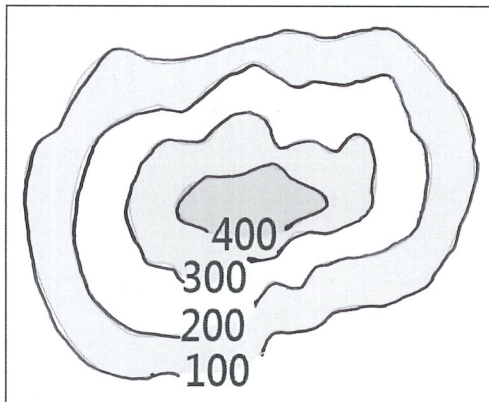
P.1

1. 陽明山國家公園擁有豐富地熱、溫泉的特色，關於陽明山國家公園的敘述何者錯誤？

- (A) 因火山活動而形成地熱
- (B) 因河水沖積形成平原地形
- (C) 陽明山屬於大屯火山群
- (D) 此地地景是受內營力影響

2. 約翰與樂樂判斷兩幅等高線地形圖，他們以下的討論，何者正確？

- (A) 樂樂-兩幅地形成因是外營力
- (B) 約翰-右幅地形類似中央山脈
- (C) 樂樂-左幅地形類似大肚台地
- (D) 約翰-左右兩幅都算是山地地形



3. 宗宗去台灣西部的彰化工作，他發現

這裡的海岸跟他從小到大生長的家鄉海岸差距很大，他會在彰化看到哪種海岸的利用方式？

- (A) 許多漁塭蚵架養殖漁業
- (B) 浮潛看海底的熱帶珊瑚
- (C) 雄偉峭壁的礫灘觀光
- (D) 多天然良港發展漁業

4. 承上題，宗宗的家鄉海岸線較直，海底較深，沒有天然良港。宗宗的家鄉在哪裡？

- (A) 花蓮
- (B) 基隆
- (C) 墾丁
- (D) 台南

5. 托爾夫是一個地質學家，他為了觀察台灣的離島地質，參訪了一個環礁地形，海洋生態獨具特色，目前以保育為主所以沒有一般觀光客。這個島嶼的特色是什麼？

- (A) 位在熱帶區
- (B) 有錐狀的山
- (C) 位在大陸旁
- (D) 多沙的環境

6. 托爾夫前往下個離島。此島嶼地質構造上是沿海丘陵的延伸，與海水面上升有關，湖泊、溼地吸引候鳥棲息。這個島很有可能是哪個島？

- (A) 綠島
- (B) 琉球嶼
- (C) 金門列嶼
- (D) 釣魚台列嶼

7. 托爾夫再度前往第三個離島，此處具有平坦的火成岩台地是個火山島，海岸陡峭，陸地上有保育類野生動物，海域生態也很豐富。這個離島很有可能是

- (A) 馬祖列嶼
- (B) 基隆嶼
- (C) 太平島
- (D) 澎湖群島

8-10 是題組。阿翰是台東人，他假日到台北旅遊，以下是他的遊記，請對照地圖，完成○○的地形區。

8. 「大清早，從台東出發，順著○○向北行駛，看到兩側山脈層巒疊嶂。」○○指的是…

- (A) 花東縱谷平原
- (B) 宜蘭平原
- (C) 屏東平原
- (D) 彰化平原

9. 「接著經由清水斷崖前往宜蘭，一路上看到左側的○○山脈，緊臨右側的太平洋，形勢驚險。」○○指的是…

- (A) 海岸山脈
- (B) 中央山脈
- (C) 雪山山脈
- (D) 玉山山脈

10. 最後我穿越了 12.9 公里的○○山脈，台北離我愈來愈近了。○○指的是…

- (A) 海岸山脈
- (B) 中央山脈
- (C) 雪山山脈
- (D) 玉山山脈

11. 米寶跟同學們分享來自八卦台地的鳳梨酥，開始討論起關於台地的種種，何者的說法是正確的？

- (A) 恩恩：台地是台灣的農業精華區
- (B) 多多：台地是古沖積扇抬升而形成
- (C) 峻峻：台灣最多的埤塘位在恆春台地
- (D) 軒軒：台灣最北方的台地是桃園台地。



背面尚有試題

※ 下課鐘響前不得繳卷

班級：

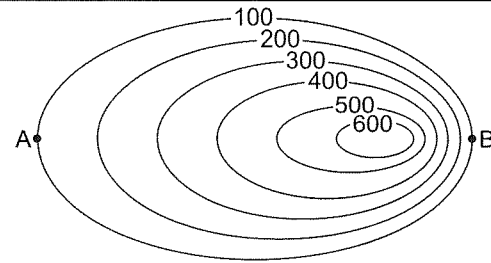
座號：

姓名：

P.2

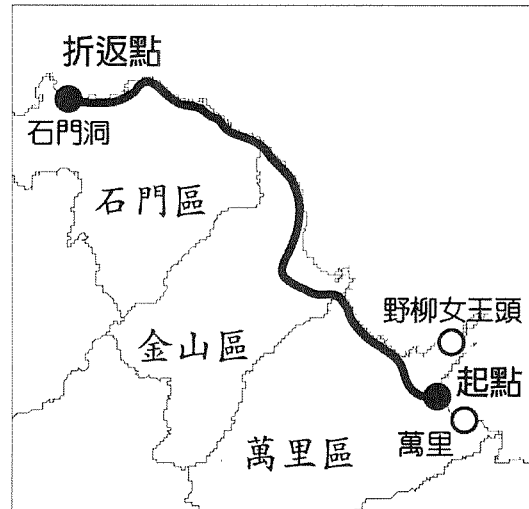
12. 四位同學觀察右側的等高線地形圖，何者的判斷是正確的？

- (A)恩恩：這是一個盆地 (B)多多：有河谷也有山脊
(C)峻峻：A 點到 B 點先陡後緩 (D)軒軒：最高點不超過 700 公尺。



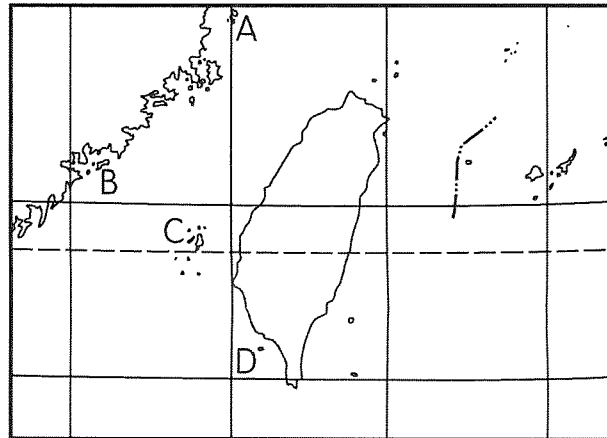
13. 右圖是正雄參加馬拉松比賽路線圖，參賽者在路跑過程中，他不會看到哪個海岸景觀？

- (A)曲折的海岸線 (B)許多沙洲潟湖 (C)在海灣的漁港 (D)海岸平原狹窄。



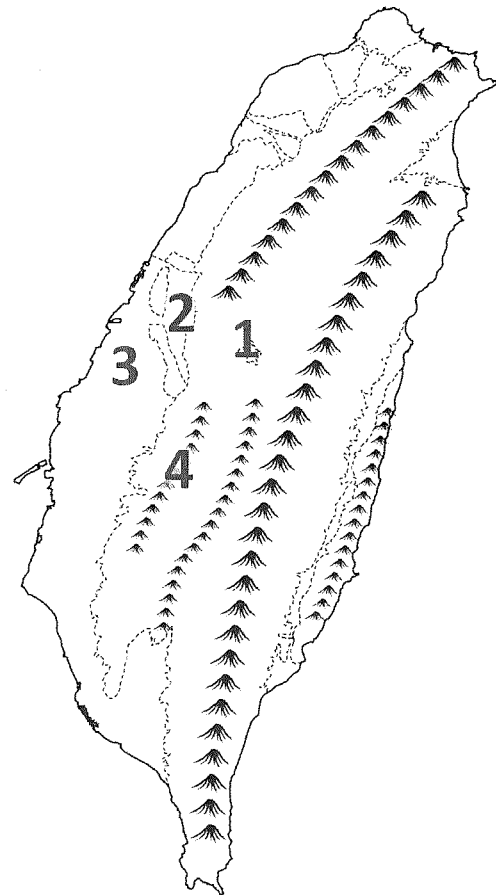
14. 地理課四位同學看右側的地圖討論台灣的離島，何人的說法是正確的？

- (A)恩恩：A 是大陸島
(B)多多：D 是大陸島
(C)峻峻：B 是火山島
(D)軒軒：C 是珊瑚礁島



15. 四位同學設定去中南部四天三夜的行程，他們一人選擇一個地點規畫，當他們利用地圖做簡報分享時，參考右圖誰設定的地圖位置是錯誤的？

- (A)恩恩：1 去埔里喝紅茶順道搭日月潭纜車
(B)多多：2 去台中逛國美館還有科學博物館
(C)峻峻：3 屏東平原吃燕巢芭樂看看泥火山
(D)軒軒：4 到阿里山搭乘小火車看絕美日出



16. 玉里大橋兩側位在不同的板塊上，因此橋面每年會長高 2~3 公分。關於這段文字及玉里大橋的位置敘述何者正確？

- (A)會長高是受到外營力的影響
(B)玉里大橋位在花東縱谷平原
(C)玉里大橋東側的板塊是歐亞大陸板塊
(D)玉里大橋的變動是河流沖積使河床提高。

17. 盆地內的通風不易，夏天容易有悶熱高溫情況。以下哪個地點夏季可能有這樣的情況？ (A)台中 (B)新竹 (C)苗栗 (D)嘉義。

※ 下課鐘響前不得繳卷

班級：

座號：

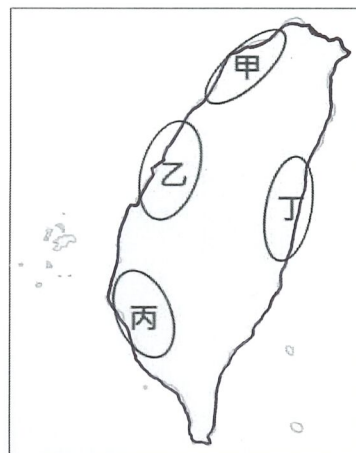
姓名：

歷史科-第 18~33 題

P.3

日本人類學家在臺灣進行大規模的田野調查時，曾訪問一耆老潘乾坤口述如下：「我們這一族原名為馬卡道，和臺南方面的平埔仔是同一祖先傳下來的。我們住在鳳山的平原…在荷蘭人統治時，我們族中的一、兩個社，曾經接受教化，學會用羅馬拼音寫族語的方法。在鄭氏政權統治時，我們曾被討伐，在戰爭中，首領 Sukune 陣亡，由 Maikui 接替繼續率領族人。後來我們在清帝國時期歸化，族人分散成幾個社，最後遇到漢人的侵占，族人各自退到偏僻的地方生活。…」請回答第 18-21 題：

18. 根據上文所述，馬卡道族人的生活方式可能有受到下列何者的影響？(甲)西班牙人(乙)荷蘭人(丙)葡萄牙人(丁)漢人。(A)乙丁 (B)甲丙 (C)甲乙丙 (D)甲乙丙丁。
19. 從資料中劃雙線的部分判讀，下列敘述何者不符合當時該社族人的生活情景？
 (A)會使用羅馬字母拼寫族語的方法閱讀聖經福音書
 (B)長老須出席統治者召開的地方會議，聽取當局的施政措施
 (C)野生梅花鹿數量銳減，衝擊原本的經濟生活型態
 (D)逐漸接觸並學習儒家文化，擺脫基督教信仰的影響。
20. 文中提及「後來我們在清帝國時期歸化…」，這意謂馬卡道族人的身分或狀態為何？
 (A)被視為教化之外的「生番」 (B)不需要向清政府繳納稅金、服勞役
 (C)會被納入鳳山縣的管轄之中 (D)以游耕、狩獵為主的的生活方式未受影響。
21. 18 世紀中期，遇到漢人侵占土地、大面積開墾時，不願臣服的族人若想遷徙到外來勢力未及之處，應該撤退到右圖中的何處生活？ (A)甲 (B)乙 (C)丙 (D)丁。



根據西班牙籍的臺大教授飽曉鷗 (Jose Eugenio Borao Mateo) 編撰《Spaniards in Taiwan 1582-1641 西班牙人在臺灣》的書冊資料，可知西班牙佔據基隆、淡水期間，先後有 47 位傳教士到臺灣，每年駐臺傳教士人數在 4 到 20 人之間，高峰期 (1633-1636 年間) 有 17-20 位傳教士駐臺。當時臺灣是從馬尼拉到日本或中國的跳板，因此有些傳教士為了到日本或中國而短暫停留基隆，也列入統計中。後來，因西班牙當局對北臺灣的重視逐漸降低，減少駐軍，不少歸降的原住民趁機反叛，導致信教人數或是傳教成果皆遠不如荷蘭人。請回答第 22-23 題：

22. 西班牙傳教士來臺宣揚的主要是哪一宗教信仰？ (A)天主教 (B)伊斯蘭教 (C)基督教 (D)佛教。
23. 從其著作中可以瞭解 17 世紀的北臺灣有哪些發展情況？(甲)當地原住民能說一些簡單的西班牙語 (乙)和平島的聖薩爾瓦多城內有教堂建築 (丙)馬賽人會使用新港文字與漢人簽訂的土地契約 (丁)日本的鎖國政策是造成傳教成果不佳的因素之一。(A)甲乙丁 (B)乙丙丁 (C)甲乙丙 (D)甲丙丁。

請閱讀下方資料後回答第 24-28 題：

資料一：想要前往臺灣的人，須先通知原戶籍地，並經過地方官員的審查批准，取得證照後單身赴臺，若是偷渡來臺被抓捕者，將會受到嚴厲懲罰。

資料二：臣奉旨征討臺灣，親眼所見土地肥沃、物產豐富--有硫磺、蔗糖、鹿皮…等。且逆賊投降歸順後，此處可作為東南沿海四省之門戶(屏障)，幫助皇上鞏固邊防，永絕沿海的禍患…。

資料三：臣以欽差身分來臺督辦軍務，有鑒於此次外力侵擾與生番有關，臺灣東部地區急需開墾，故奏請解除舊禁，以完全消除敲詐、勒索等違法行為，並廣泛招攬有意願開墾的人民。

24. 受到資料一所述政策的影響，請推斷當時的臺灣社會可能出現哪些現象？(甲)單身赴臺的漢人男性，會有部分與平埔族女性通婚 (乙)港口城市出現洋行、領事館官邸等建築物 (丙)來臺的漢人男女人口比例會失衡 (丁)無親眷在身邊的男性遊民，容易聚賭喝酒、偷竊搶奪，成為社會治安的隱憂。
 (A)甲乙丙 (B)甲乙丁 (C)甲丙丁 (D)乙丙丁。
25. 資料二中提及的「臣」與「皇上」，應該是指下列哪一組人物？ (A)施琅／康熙皇帝 (B)沈葆楨／同治皇帝 (C)劉銘傳／光緒皇帝 (D)鄭成功／雍正皇帝。
26. 承第 25 題，這位官員是用哪些理由來說服皇帝保留臺灣？(甲)強調臺灣戰略位置的重要性 (乙)強調對外通商的便利性 (丙)說明東部地區急需人力開發 (丁)列舉臺灣物產的豐富性。(A)乙丙 (B)甲丁 (C)甲乙丙 (D)甲丙丁。
27. 資料三中的「臣」與「外力侵擾」是指下列何者？ (A)施琅／鄭氏政權的反清行動 (B)沈葆楨／牡丹社事件引發日軍犯臺 (C)劉銘傳／清法戰爭波及北臺灣 (D)沈有容／紅毛番兩度侵占澎湖群島。
28. 請依據「資料內容」出現的先後順序進行排列，何者正確？ (A)資料一→資料二→資料三 (B)資料二→資料三→資料一 (C)資料二→資料一→資料三 (D)資料三→資料二→資料一。

背面尚有試題

※ 下課鐘響前不得繳卷

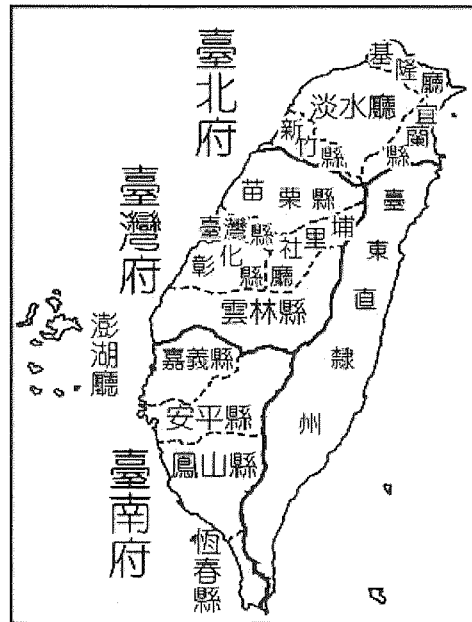
班級：

座號：

姓名：

P.4

小宸參加「清帝國行政區劃」研討會，主辦方提供資料如下：「清帝國時期，臺灣的行政區劃最初為一府三縣，納入福建省管轄。後因朱一貴事件，調整為一府四縣兩廳，乾隆年間為嘉許諸羅縣民眾協助平亂的義舉，而將諸羅縣改名為嘉義縣；至嘉慶年間(1812年)，又因有海盜的侵擾而增設噶瑪蘭廳，形成一府四縣三廳。…而後，在 19 世紀後期，因列強覬覦臺灣，屢次侵擾，清廷才又進行調整以加強建設…。」請回答第 29-31 題：



29. 依上文所述，可知清帝國調整臺灣行政區劃的原因，主要是下列何者？
 (A) 考量商業與貿易的需求 (B) 依據土地拓墾的成果 (C) 增強文化與種族的融合 (D) 基於治安與國防的需要。
30. 19 世紀後期，臺灣的行政地位由「府」升格為「省」，行政區劃如右圖所示是在哪一場戰爭結束之後？ (A) 英法聯軍之役 (B) 牡丹社事件 (C) 鴉片戰爭 (D) 清法戰爭。
31. 承第 29 題，若要為此戰事設計一部動畫短片，以下何種場景不符合史實？
 (A) 淡水、基隆、澎湖均淪為戰場，兩軍死傷無數
 (B) 原住民在恆春半島頑強抵抗，日軍傷亡慘重
 (C) 清廷派兵援助藩屬國越南，戰火波及東南沿海
 (D) 劉銘傳奉旨來臺加強防務，在北臺灣力抗敵軍。



琳琳想規劃與家人到基隆一日遊的行程，他在網路上搜索到如下的景點照片，請問：

(甲) 縱貫線起點

(乙) 二鯤鯓砲台

(丙) 獅球嶺隧道

(丁) 法軍公墓



32. 上列圖檔所顯示的景點，哪一項應該不會出現在其行程中？ (A) 甲 (B) 乙 (C) 丙 (D) 丁。
33. 若還想搜尋與圖檔(丙)同屬一個時期展開的交通建設，下列哪一資料是不符合的？

(A) 購置輪船往來於臺灣、東南亞與中國大陸之間

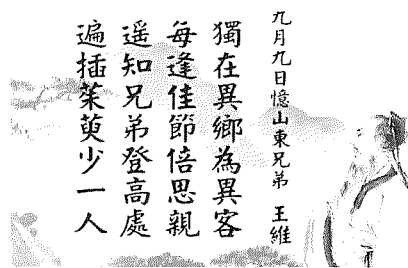
(B) 增設電報系統，可遠達福建省福州府

(C) 開闢北、中、南三條通往山區與東部的道路

(D) 在臺北設置郵政總局，開辦電報學堂

公民科-第 34~50 題

34. 右圖是唐朝詩人王維的詩作，從詩面字義來看，詩人表達的是對哪一親屬關係的思念之情？(A) 配偶關係 (B) 直系血親 (C) 旁系血親 (D) 姻親關係。



35. 現代家庭生活模式及組成模式呈現多樣化的面貌，請判斷下列關於「家庭生活模式及組成模式」的敘述，何者有誤？
 (A) 我和先生因忙於事業，錯過生小孩時機，因此我們都沒有小孩：頂客家庭 (B) 我的爸爸在中國大陸工作，兩個月才回來台灣一次，我和媽媽每天透過視訊和爸爸聯繫：單親家庭 (C) 我從越南嫁來台灣，目前居住在基隆，和先生一同撫養兩個小孩：跨國婚姻家庭 (D) 爸媽在我小時候就離婚了，我一直都和爸爸一起住。今年，爸爸再婚，我有了一個新媽媽，新媽媽也有一個小孩，現在我家共有四個人：繼親家庭。
36. 公民老師在上完第三章「親屬關係」之後，請同學們上台分析自己的家庭結構。請問下列何者的報告完全正確？
 (A) 柏廷：我的直系血親有爺爺、爸媽和弟弟 (B) 宜婕：我的旁系血親有伯父、伯母和堂姊
 (C) 芳瑾：我的母親和我的伯母互為妯娌關係 (D) 阿明：阿姨、姨丈及舅媽皆屬於我的姻親。
37. 靜香帶著與前夫胖虎所生的兒子小夫，與大雄再婚，共組家庭。請問：小夫和大雄屬於何種親屬關係？
 (A) 姻親 (B) 法定血親 (C) 直系血親 (D) 旁系血親。

※ 下課鐘響前不得繳卷

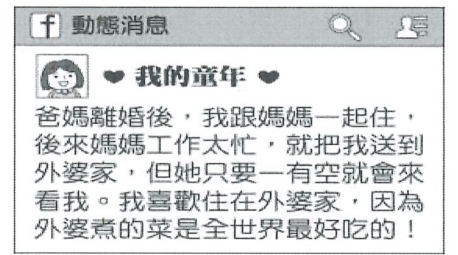
班級：

座號：

姓名：

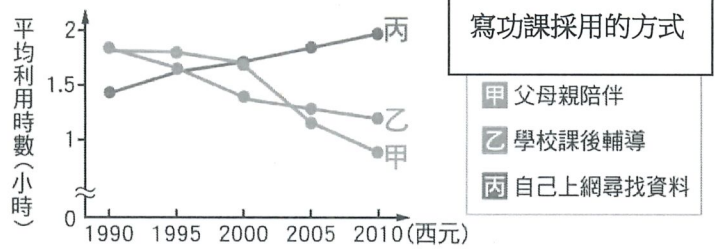
P.5

38. 阿丸在臉書分享自己的童年故事(如右圖)，文章中他提到所經歷的家庭型態變化過程，應為下列何者？



- (A) 兩地家庭→隔代教養家庭
- (B) 單親家庭→跨國婚姻家庭
- (C) 單親家庭→隔代教養家庭
- (D) 頂客家庭→重組家庭。

39. 右圖為地虎國某學者統計該國之國小學童，針對完成回家功課「所採用的方式」與「平均利用時數」各年度的變化情形。請根據該圖內容判斷，顯示出何種家庭功能正在轉變？

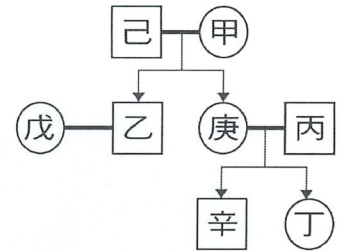


- (A) 經濟功能
- (B) 教育功能
- (C) 生育功能
- (D) 保護與照顧功能。

40. 根據內政部統計，到西元 2020 年 9 月底為止，臺灣總人口的自然增加數為「負」11,250 人；西元 2020 年可能是內政部在臺灣實施戶口統計近七十年以來，臺灣總人口第一次出現衰退，未來的年輕人負擔勢必愈來愈大。從上文中可以推論出，上述之人口衰退趨勢現象的可能影響原因為何？

- (A) 生養價值觀改變
- (B) 老人安養設施健全
- (C) 生育率大幅提升
- (D) 親子間關係逐漸疏離。

41. 右圖為徐小婷家的親屬關係示意圖。圖中□代表男性，○代表女性，線段—代表婚姻關係，箭頭↓代表親子關係。徐小婷向朋友提到，自己與家中任何一位成員均非血親關係，請問：徐小婷與庚的親屬關係，和圖中哪兩位成員之間的關係相同？



- (A) 乙和戊之間
- (B) 甲和庚之間
- (C) 庚和辛之間
- (D) 甲和丙之間。

42. 在性別平權的潮流下，為落實家庭中的性別平等，政府針對民法進行修改，請問下列敘述何者與現行法規不符？

- (A) 家務工作上，夫妻互為代理人，共同分擔。
- (B) 子女生活費的負擔，由夫妻雙方依實際經濟情況共同分擔。
- (C) 未成年子女姓氏由父母雙方協議之，可書面約定從父姓或從母姓。
- (D) 行使親權時，若父母意思不一致，法院會考量父母之最佳利益作出決定。

43. 目前我國已邁入高齡社會，在保護照顧或經濟負擔上，家庭與社會都面臨沉重的壓力。針對上述的問題，下列何者會是政府協助高齡者的因應政策？(甲)提供到宅服務 (乙)設立外籍配偶生活輔導班 (丙)建構完善的長期照護制度 (丁)規畫全面公共托育政策。(A)甲乙 (B)甲丙 (C)乙丁 (D)乙丙。

44. 七年級同學在公民課堂後，討論課堂學習內容。同學們各自提出自己對於親子權利與義務的理解，請判斷下列同學的說法，何者正確？

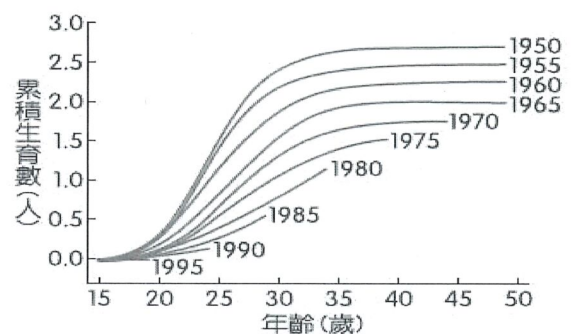
- (A) 《刑法》規定：父母對於未成年子女，有保護及教養之權利義務。
- (B) 未成年子女因年幼無判斷能力，故無個人權利，僅可聽命父母指揮。
- (C) 親子間的權利義務，依性別區分，父親照顧兒子，母親照顧女兒。
- (D) 子女長大後有奉養父母的責任，但子女若有遭家暴或遺棄，可請求法院減輕或免除其扶養義務。

45. 右表是中正大樓的住戶名單—根據內容判斷，哪層樓的住戶屬於【折衷家庭】？

1樓	蔡氏夫婦與他們的兩個孩子	3樓	陳先生夫婦與陳太太的弟弟
2樓	楊小姐及同事王小姐	4樓	李爺爺、李氏夫婦與其兒子李小弟

- (A) 1樓
- (B) 2樓
- (C) 3樓
- (D) 4樓。

46. 右圖呈現某國不同年分出生的婦女，在育齡期間累積的生育數。為了改變圖中資料呈現的趨勢以維持人口結構穩定，下列何者最可能是未來該國政府採行的作法？



- (A) 提高幼兒教育補助津貼
- (B) 強化家庭平權觀念
- (C) 推動長期老人安養服務
- (D) 積極宣導節育觀念。

背面尚有試題

※ 下課鐘響前不得繳卷

班級：

座號：

姓名：

P.6

新北市一名父親因為兒子買肉圓少加辣椒，酒後家暴妻子和兒子，引發大眾關注。依據衛生福利部統計，近幾年家庭暴力通報數每年約 13 萬件。這些通報的家暴案中，超過一半是婚姻、離婚或同居關係暴力，比例超過 50%。但自 2016 年起，其他成員施暴比例則多過配偶，以 2018 年為例，家庭其他成員施暴有 3 萬 7138 件，直系血親施暴約占 40% 為最多，另配偶施暴有 3 萬 1879 件。

衛福部人員認為，近年家暴數增加，一方面是政府努力宣導，讓大眾知道家暴可以求助；另一面修法增加責任通報人員，例如：納入移民業務人員、村里幹事等，讓更多人可以介入。此外，呼籲民眾應多關心身邊的人，看到類似家暴事件，就「雞婆」一些幫忙通報。若有家人介入處理，也能及早制止悲劇發生。他還指出，很多家暴案都有感情依附關係，受害人離不開加害人，或是想檢舉卻遭其他家屬指責。受害人隱忍不是維持關係的好方法，應該要向外界求助，各地政府都有社工或家庭暴力及性侵害防治中心（簡稱家防中心）可以幫忙。若緊急情況，可打 110 報警，或打 113 通報，也能求助家防中心。有些團體呼籲衛福部修法，加重處罰家暴者。衛福部人員回應，目前兒童及少年福利與權益保障法已經規定，成年人故意對兒少犯罪，可加重其刑至二分之一。

（資料來源：改寫自蘋果日報，記者蔡永彬，2019/01/14）

47. 根據上述文章內容，請判斷下列選項何者敘述有誤？

- (A) 上述新北市家暴案件，可由該孩童的母親向法院申請保護令。
- (B) 保護令內容可包含禁止繼續施暴、命令加害人不得靠近被害人等限制。
- (C) 部分人員對於家庭暴力事件有責任依法通報，其所依據的法源為《家庭暴力防治法》。
- (D) 在家暴事件之後，依據《性別平等教育法》的規定，法院可宣告限制或禁止父母行使親權。

媽媽們每年各項收入金額				單位：美元			
廚師（準備三餐）	7,935	社交服務專員 （規畫活動）	9,492	女僕兼家管（打掃）	5,707	職業護士（傷口護理）	488
私人司機（載送子女）	5,300	理髮師（剪頭髮）	339	會議規畫員 （籌備派對）	1,702	場地維護工（整理庭院）	683
教師／家教 （課業輔導）	8,200	個人助理（跑腿購物）	1,868	室內設計師 （居家布置）	857		
兒童照護員 （照顧子女）	24,648	會計員（家庭財務管理）	693	私家偵探（調查行動）	963		
總計							68,875

（資料來源：改寫自經濟日報，2018/05/13）

48. 上述表格內容為美國保險網站分析，美國全職媽媽全年家務勞動工作，若依據行業薪資數據，應該可以達 6.9 萬美元。根據上述表格內容，請判斷下列敘述何者正確？(甲)家務勞動應該是有價值的 (乙)全職媽媽沒有外出賺錢，所以無權擁有經濟自主權 (丙)全職媽媽在家庭上貢獻頗多 (丁)「男主外，女主內」，家務工作由媽媽負責是應該的。

(A) 甲乙 (B) 乙丙 (C) 甲丙 (D) 甲丁。

根據行政院內政部公布最新的資料顯示，全臺的家戶人口數持續下探，從 1990 年的 4 人，到 2010 年跌破 3 人來到 2.92 人，至 2017 年剩 2.73 人，連續 27 年下滑。根據統計，2017 年國內 2 人以下的家庭人口戶數已占全國總戶 42.3%，而 3 人以下的家庭人口戶數更占全國總戶數的 70%。隨著每戶家庭人口數的減少，加上現代人工作繁忙，下廚不易，也進而帶動外食產業的成長。

（資料來源：民國 106 年村里鄰戶數及人口數，內政部戶政司）

49. 根據上述內容，試分析我國家戶人口數逐年下滑的原因，你認為與哪項因素最無關？

- (A) 高齡化 (B) 少子化現象 (C) 不婚、晚婚比例提高 (D) 離鄉工作。

50. 根據上述內容，在文中提到的發展趨勢下，我國社會比較有可能出現何種發展及變遷？(甲)外食產業商機無限 (乙)廣設醫療院所 (丙)住宅需求坪數縮小 (丁)擴展家庭比例增加。(A) 甲乙 (B) 甲丙 (C) 乙丙 (D) 丙丁。