

※ 下課鐘響前不得繳卷

班級：

座號：

姓名：

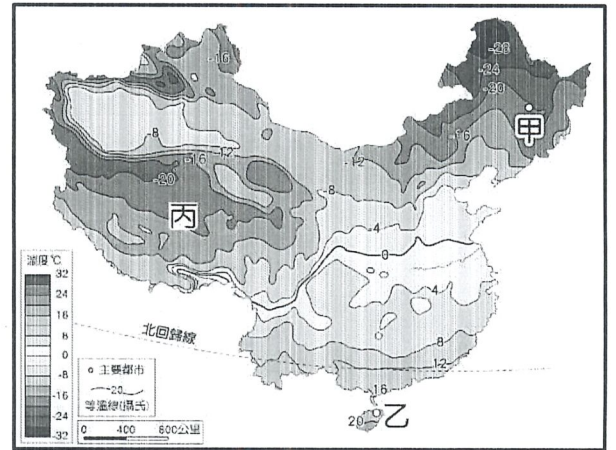
1~17 題地理, 18~33 題歷史, 34~50 題公民 請用 2B 鉛筆作答, 將答案畫至答案卡上。

P.1

共 50 題, 每題 2 分, 滿分 100 分

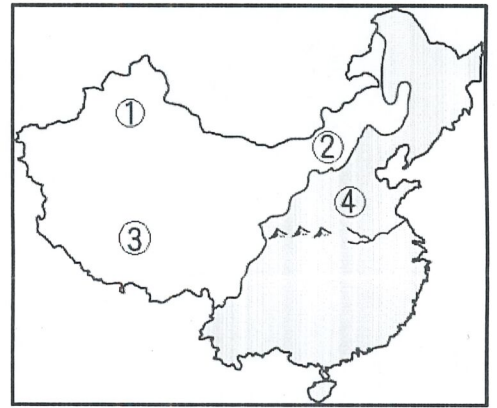
地理

- ( ) 1. 右圖為中國一月等溫線分布圖, 圖中甲、乙、丙三地的溫度差異甚大。請問: 造成三地間氣溫差異的主要原因為何?
- (A) 甲地氣溫偏高, 是受地勢較低影響
  - (B) 乙地較溫暖, 是因為緯度較低
  - (C) 丙地因距海較遠, 故冬季寒冷
  - (D) 有無季風吹拂影響了三地氣溫的差異。



- ( ) 2. 中國人口數雖然已於 2023 年被印度超越, 但超過 14 億的人口數對糧食的需求仍為沉重的負擔。請問: 現代的中國常透過哪些方式, 來增加和穩定糧食的供應?
- (甲) 建設農業專區, 擴大生產規模 (乙) 發明無人操作的農耕機械減少勞力使用  
 (丙) 引入番薯、玉米等新作物 (丁) 研發殺蟲劑以利減少病蟲害 (戊) 開發河套等荒地擴大耕種面積。
- 上述正確的是: (A) 甲乙丁 (B) 甲丙戊 (C) 乙丙丁 (D) 丙丁戊。

- ( ) 3. 中國各牧區受氣候與地形影響, 採取的畜牧方式和牲畜有別, 附圖為中國簡圖, 請問下列關於圖中各地畜牧特色的敘述, 何者正確?
- (A) ①→可見到驅趕駱駝等牲畜的游牧民族
  - (B) ②→牧民居住蒙古包, 隨季節驅趕牛羊上、下山
  - (C) ③→牧民在水草豐美的河岸定居放牧
  - (D) ④→犛牛能適應環境, 為當地特有牲畜。

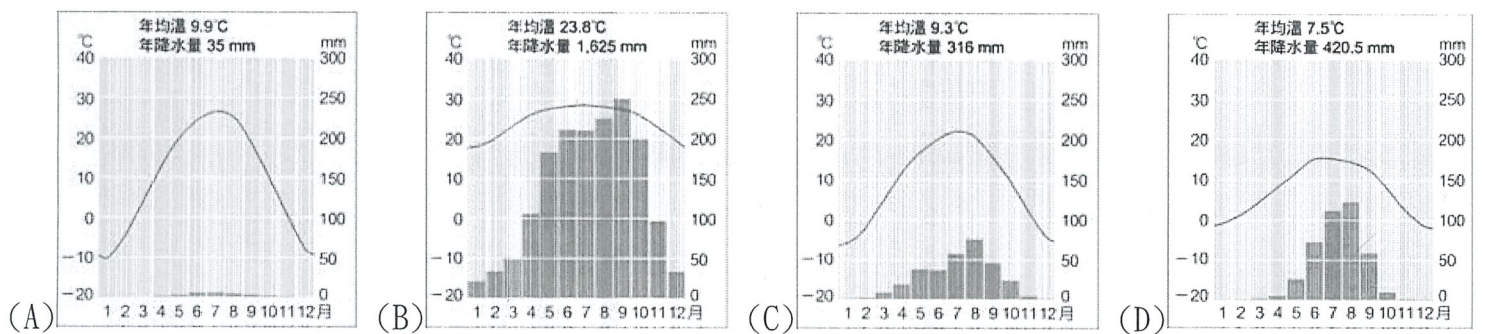


- ( ) 4. 中國居民傳統的維生方式多為農業和畜牧業, 這兩種維生方式的空間分布差異, 與下列哪一項因素的關係最密切?
- (A) 地勢高低 (B) 雨量多寡 (C) 緯度高低 (D) 土壤肥沃度。

- ( ) 5. 右圖是中國行政區簡圖, 圖上標示甲~戊的行政區具有什麼特色?
- (A) 是中國重要的政治、經濟核心
  - (B) 歷史上曾被歐美國家殖民統治
  - (C) 行政地位僅高於直轄市
  - (D) 是少數民族聚居的地方。



- ( ) 6. 呼倫貝爾大草原是中國著名的天然牧場, 有人稱之為世界上最好的草原, 也是中國著名旅遊景點。旅客若想前往觀光, 可以參考下列哪一張氣候圖, 大致了解溫帶草原氣候的特徵以便做好行前規劃?



- ( ) 7. 中國東半部距海較近, 氣候特性受季風影響顯著, 下列何者為中國東半部的氣候特徵?
- (A) 受海洋影響, 風力強勁
  - (B) 受高度影響, 南北部溫差小
  - (C) 因距海較近, 全年降水平均
  - (D) 受季風影響, 夏雨冬乾。

背面尚有試題

※ 下課鐘響前不得繳卷

班級：

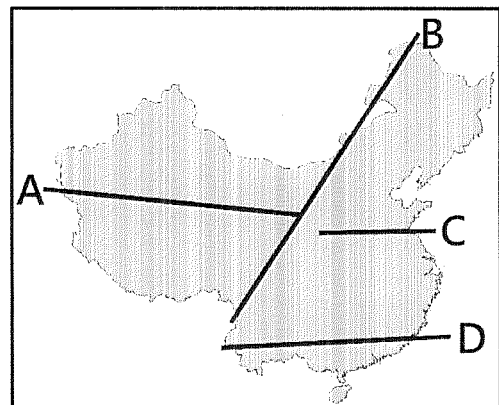
座號：

姓名：

P.2


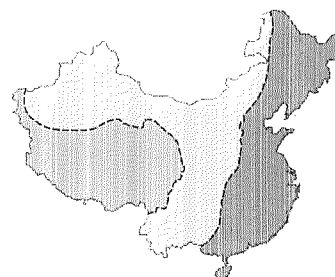
◎附圖為中國簡圖，甲~丁代表四條地理分界線。請問：

- ( ) 8. 中國有句俗諺—「南米北麵」。長期以來，北方人喜歡吃麵食、南方人喜歡吃米飯，是常見的主食現象。之所以造成此南北食俗方面的差異，其根源與「南稻北麥」的種植差異不無關係。請問：中國的小麥和水稻種植分界，大致為附圖中的哪一條線？  
 (A)A 線 (B)B 線 (C)C 線 (D)D 線。
- ( ) 9. 附圖中 A~D 四條線的位置都很接近中國重要的地理分界，請問下列各項的配對，何者正確？  
 (A)A 線→1 月均溫 0°C 等溫線 (B)B 線→500mm 年等雨量線  
 (C)C 線→農業和畜牧業分界 (D)D 線→溫帶與副熱帶分界。



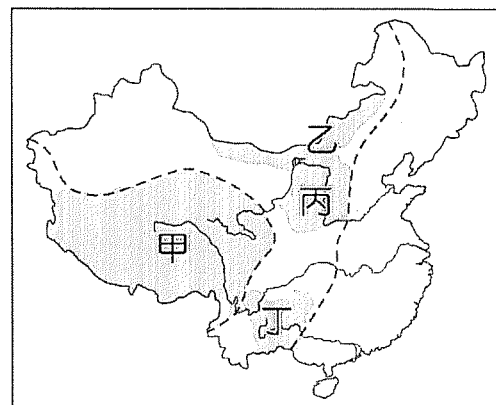
◎中國的地勢大致可分成三級階梯，如附圖。請問：

- ( ) 10. 將中國分成三級階梯的主要依據為下列何者？  
 (A)山脈走向 (B)板塊種類 (C)河川流向 (D)海拔高度。
- ( ) 11. 中國西高東低的地勢分布，對其影響可能有：  
 (甲)主要河川大多由西向東流 (乙)暖溼的海洋水氣可以深入內陸  
 (丙)東西部居民生活作息不同 (丁)梯田景觀多分布於西半部。  
 上列敘述中正確的有哪些？(A)甲乙 (B)甲丙 (C)乙丙 (D)乙丁。
- ( ) 12. 右圖為中國五大地形面積比例圖，請根據圖中數據判斷中國第二級(次高)階梯的主要地形包括哪兩類？(A)乙甲 (B)丙丁 (C)甲丙 (D)丁戊。



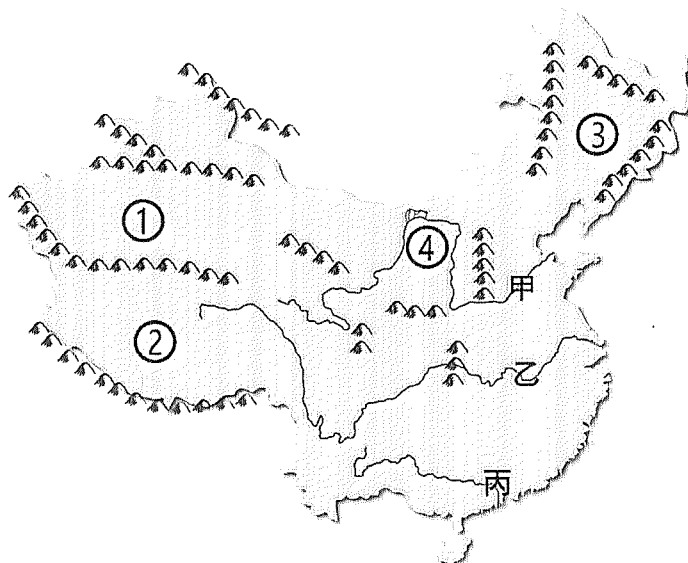
◎附圖為中國的高原地形分布圖，請問：

- ( ) 13. 「這一地區地面支離破碎、植被稀疏、土質結構疏鬆，長期以來，由於受水力、風力侵蝕相互交錯影響，成為世界上水土流失最為嚴重的地區，也導致地表形成千溝萬壑的地形特色。」請問：上文最有可能是反映圖中哪一個地形區的環境問題？  
 (A)甲 (B)乙 (C)丙 (D)丁。
- ( ) 14. 中國地形複雜，圖中哪一個地形區為是中國最大、世界海拔最高的高原，有「世界屋脊」之稱？(A)甲 (B)乙 (C)丙 (D)丁。



◎附圖為中國的地形簡圖，請問：

- ( ) 15. 新聞報導：「2023 年亞洲最深油井在中國面積最大的盆地開鑽施工，井深 9472 公尺高過珠穆朗瑪峰。」上文所述的油井應位於圖中何處？  
 (A)① (B)② (C)③ (D)④。
- ( ) 16. 「因平原面積廣大，農民以機械化的方式提升效率，並擴大生產規模，以提高糧食的生產量。」上文所述的農業景觀應位於圖中何處？  
 (A)① (B)② (C)③ (D)④。
- ( ) 17. 「中國的鄱陽湖、洞庭湖等湖泊，自 1960 年代以來被大規模圍湖造田，由於湖泊容積減小，嚴重減弱湖區的調蓄抗災功能，是近年中國水患加劇的原因之一。」上文所述的開發區域應位於圖中哪一條河流的流域？(A)甲 (B)乙 (C)丙。



**歷史**

- ( ) 18. 一本介紹魏晉南北朝時期的專書，書中提到鮮卑族的北魏孝文帝，為了推行漢化，推動許多的漢化措施。請問：下列何者不是當時的漢化措施？ (A)將首都遷到洛陽 (B)自稱君子國  
(C)鼓勵胡漢通婚 (D)規定鮮卑人穿漢服、改漢姓。
- ( ) 19. 聯合國教科文組織分別於 1987 年、2000 年、2001 年，將中國的甘肅省「莫高窟」、河南省「龍門石窟」與山西省「雲岡石窟」，列入《世界遺產名錄》，請問：這三處世界文化遺產屬於下列何種特色？  
(A)豪門世族的經典建築 (B)交通網絡的水利工程 (C)佛像雕刻的偉大藝術 (D)城市建築的典範。
- ( ) 20. 西元 751 年(唐玄宗天寶 10 年)，唐朝軍隊在中亞的怛羅斯河畔，被□□打敗，其中有不少的造紙匠被俘虜，最後造成中國重要發明的西傳。請問：上述的□□，應該填入下列哪一個國家？  
(A)大食 (B)新羅 (C)吐蕃 (D)日本。
- ( ) 21. 秦王嬴政統一天下，建立「皇帝」作為君主的稱號；統一天下後，他繼承了先秦以來實施的中央集權與郡縣制度，奠定了中國政治史上兩千餘年的專制政治格局。請問：秦始皇的哪一項措施有助於中央集權且能穩固政權的統治？ (A)實行封建 (B)大化革新 (C)設立太學 (D)統一文物。
- ( ) 22. 課堂上進行學習報告，主題為「漢武帝與唐太宗的對外關係」。請問：下列有關這兩位皇帝的敘述，何人的說法正確？ (A)大雄說：「這兩位皇帝為了防禦北方匈奴族入侵而興建了『長城』。」  
(B)小夫說：「唐太宗派張騫出使西域，使漢人對中亞等地更加了解」  
(C)胖虎說：「漢武帝打敗東突厥，被尊稱為『天可汗』。」  
(D)靜香說：「唐太宗將文成公主和親吐蕃，促進了漢藏之間的文化交流」。
- ( ) 23. 中國歷史上的西周與西晉，其朝代的滅亡與結束，主要原因應與下列何者有關係？  
(A)不同宗教信仰的對立 (B)外族的入侵與叛亂  
(C)對外商業貿易的衝突 (D)政府統治嚴苛而失去民心。
- ( ) 24. 佛教為世界三大宗教信仰之一，自從傳入中國後，逐漸成為中國歷史文化的一部分。請問：下列有關佛教在中國歷史的發展過程，何者敘述不正確？  
(A)大約在西漢末年，經由西域傳入中國  
(B)魏晉以來的政權變動頻繁，人心尋求宗教慰藉而在中國盛行  
(C)經由高僧玄奘的大量翻譯佛經，使隋朝成為中國佛教的鼎盛時期  
(D)隋唐時期，經由中國的傳播，佛教東傳至日本與新羅等地。
- ( ) 25. 大雄和小叮噹來到中國某個城市裡，看到身穿短衣窄袖的婦女在路上行走，以及許多戴著頭巾的伊斯蘭教信徒在路旁祈禱，最後兩人走累了，進入一家客棧休息，向服務生點了葡萄酒、胡麻餅，順便看著藝人表演胡旋舞。請問：大雄與小叮噹兩人所來到的時代，最有可能是下列何者？  
(A)唐朝 (B)魏晉南北朝 (C)秦朝 (D)周朝。
- ( ) 26. 唐太宗曾說：「自古皆貴中華，賤夷狄，朕獨愛之如一。」(譯文：自古以來君主都重視漢人，歧視外來胡族，可是我能夠不分胡漢，一視同仁。)請問：唐太宗這句話的意義，最能彰顯唐代前期社會文化的哪一個特色？ (A)上品無寒門，下品無世族 (B)好男不當兵，好鐵不打釘  
(C)胡漢融合，兼容並蓄 (D)貴族沒落，布衣卿相。
- ( ) 27. 一本名為《中國文化史》的專書，內容敘述：「商鞅變法後，秦國可能已經全面實行戶籍制度，…漢代無疑已經有相當嚴密的戶口制度。…但是隨著封建瓦解，中間貴族階層逐漸消失，天子直接領有萬民。為有效掌握人民及相關資源，戶籍制度提供統治者所需要的基本資料，國家對人民的賦稅或徵兵才有所依據。」請問：依據此本專書的作者觀點，秦漢兩代全面實施戶籍制度的原因，應該與下列何者有關？ (A)建立尊卑的政治秩序 (B)掌握人力資源的利用  
(C)強化胡漢民族的融合 (D)加強對官員的思想控制。

背面尚有試題

資料一：西周著名青銅器「毛公鼎」上的銘文，其譯文摘要如後：「周宣王說：“叔父啊！現在我要謹慎地 遵循先王的使命，命令你治理我國內政外交，忠於大大小小的政事，保護我的王位，小心地遵循神靈的意志，主管四方諸侯，不要讓他們發動叛亂。我如今在位，也需要發揮你的智慧。我不是昏庸之人，你不能荒怠自圖安逸，要虔誠地早晚輔助於我，協同大大小小的謀劃事宜，不要閉口不言，要告訴我先王的美德，用以昭仰上天，敬重地行使天命，使四方諸國康樂安定，讓我不給先王帶來憂慮！”」

資料二：成語「問鼎中原」的典故內容：「春秋五霸的楚莊王，率兵北上，攻打周天子都城附近的領地，周天子惶恐不安地派使臣慰勞楚王，不料楚王卻向使臣詢問九鼎的大小與輕重，但九鼎是天子權力的象徵，此舉動可見楚王背後奪權的野心。」

- ( )28. 根據資料一的譯文摘要，周宣王將國家內政外交委託毛公協治理，主要是因為兩人有何種的關係？  
 (A)血緣與親屬關係 (B)老師與學生關係 (C)貴族與奴隸關係 (D)朋友與同儕關係。
- ( )29. 綜整資料一及資料二的內容，主要是說明哪一種統治措施的興衰過程？  
 (A)郡縣制度 (B)中央集權 (C)科舉制度 (D)封建制度。
- ( )30. 從資料二中的內容描述，天子地位因為受到挑戰而日漸低落，請問：因為王室的衰微，造成下列哪一個現象的出現？ (A)以世襲確立身分的社會階層更加穩固  
 (B)平民經由宗法冊封儀式得以晉升任官  
 (C)秦國變法圖強而統一天下  
 (D)犬戎攻入首都而東周結束。

◎請以下表內容，回答第 31~33 題：

(甲)	貴族獨占受教育的權力，只有貴族能擔任政府官員
(乙)	以家世背景、才能、品德等條件作為選才的標準，但之後卻只重家世背景
(丙)	國家根據政府不同需求設立各種科目，包含：「孝子」、「廉吏」等，由地方官員定期向政府推薦人才，經國家檢定後給予錄用或升遷
(丁)	以開科取士的方式選拔人才，其中包含進士、明經、明法、明算等科別，只要有能力者都可報考，讓更多不同階層參與政府的運作

- ( )31. 上述四則資料，探討主題應該為何？ (A)中央集權的方式 (B)經學傳家的影響  
 (C)編列戶籍的意義 (D)選拔人才的方式。
- ( )32. 上述四則內容出現的時間，依照時間先後排列應該為何？  
 (A)甲乙丙丁 (B)乙丙丁甲 (C)乙甲丁丙 (D)甲丙乙丁。
- ( )33. 魏晉以來，出現世族鼎盛，且有「上品無寒門，下品無世族」的弊端，此現象應該與哪一則資料內容有關？ (A)甲 (B)乙 (C)丙 (D)丁。

公民

- ( ) 34. 2023 年法國各工會組織及多黨派鼓動多次全國式的罷工示威在全法國展開。反對馬克龍政府的退休改革計畫，預計巴黎將有多達 7 萬名示威者。請問：法國示威者罷工抗議是展現出民主政治的何項特色？(A)政黨政治 (B)法治政治 (C)民意政治 (D)責任政治。
- ( ) 35. 駕駛人注意了！為了擺脫台灣的「行人地獄」惡名，立法院三讀通過《道路交通管理處罰條例》34 條修正案，自 2023 年 6 月 30 日起正式生效實施。新法規定只要斑馬線有行人，汽車駕駛人不與禮讓，最高可開罰 6000 元；而且肇事導致人受傷或死亡最高可處 3 萬 6000 元罰鍰。請問：實施此條修正案是展現出民主政治的何項特色？(A)政黨政治 (B)法治政治 (C)民意政治 (D)責任政治。
- ( ) 36. 西元 2020 年總統、國會大選，除了舊有的民主進步黨、中國國民黨、時代力量、親民黨外，加上臺北市市長柯文哲的台灣民眾黨、視前總統陳水扁為精神領袖的一邊一國行動黨及前民視董事長郭倍宏的喜樂島聯盟，共同競爭執政權。請問：此處強調的是民主國家的何項民主政治特色？(A)政黨政治 (B)法治政治 (C)民意政治 (D)責任政治。
- ( ) 37. 蘇丹民眾與學生在該國的北柯多方省(North Kordofan)集會抗議物資短缺問題，不料有多人遭政府軍射殺，其中 4 人為中學生，對此不幸事件民眾再上街頭，譴責政府的殺戮行為。請問：上述政府射殺民眾的做法，明顯違反何項民主國家存在的目的？(A)保障基本人權 (B)維持社會秩序 (C)保衛國家安全 (D)發展社會福利。
- ( ) 38. 阿德和媽媽一起看網路直播，聽到直播主說：「民主國家的法律除了要求人民必須遵守，政府權力也應被約束外，必須要同等的對待人民與政府。」阿德問媽媽：「直播主這段話要闡述的意思是什麼呢？」請問：媽媽應如何回答才有貼近阿德的提問？(A)民主國家制訂政策時，應傾聽民意強調主權在民的理念 (B)政府施政若背離民意，相關人士應該負起責任辭職下臺 (C)國家的權力極大，人民不遵守法律將會受到嚴厲的處罰 (D)無論政府或人民，都應該遵守法律規範才符合法治政治。
- ( ) 39. 維基百科有關梵蒂岡城國簡介如下：首都：梵蒂岡，宗教：羅馬天主教，人口：825 人，元首：方濟各，語言：義大利語、拉丁語，貨幣：歐元。請問：上述哪一項屬於國家的組成要素之一？(A)語言 (B)宗教 (C)人口 (D)貨幣。
- ( ) 40. 右列新聞引發小禾的關注，根據國家組成要素判斷文中的阿布哈茲是否為國家的爭議，請問：與下列何種國家組成要素最直接相關？(A)主權 (B)領土 (C)人民 (D)政府。
- ( ) 41. 美國國務院同意的軍售案內容，包括價值約三·五五億美元的六十枚 AGM-84L 魚叉二型反艦巡弋飛彈、價值約八千五百萬美元的一百枚 AIM-9X Block II 型響尾蛇空對空飛彈，以及價值約六·六五億美元的台灣監視雷達計畫，為拜登政府第五度與最大一筆對台軍售案。美國拜登政府稱此為因應中方企圖改變現狀而提供台灣軍事所需。上述有關我國向美國採購武器內容，屬於民主國家存在何項目的？(A)保衛國家安全 (B)維持社會秩序 (C)發展社會福利 (D)保障基本人權。
- ( ) 42. 蘇格蘭2014 年 9 月已經舉行過一次獨立公投。公投結果，55%的蘇格蘭選民反對獨立，45%的蘇格蘭選民贊成獨立。蘇格蘭首席部長斯特金(Nicola Sturgeon)提議，在 2023 年 10 月 19 日舉行第二次蘇格蘭獨立公投。請問蘇格蘭舉行公民投票最主要的原因為何？(A)政府官員須接受民意代表監督 (B)政府的政策須有民意支持 (C)使政權能和平轉移 (D)政黨可透過選舉公平競爭。

阿布哈茲(Abkhazia)地處黑海東岸，位於黑海和大高加索山之間，是一片狹長的低地。其雖然存在於地圖之上，也有政府管理公共事務，人民正常的生活與依法納稅，但聯合國及其他絕大部分國家認為其只是喬治亞的一部分，也不是國際組織的成員。



- ( ) 43. 由於學生身分特殊，使得針對不當懲戒提起訴訟的權利受到限制。民國 84 年司法機關做出解釋，認為學生因其懲戒使得學生身分喪失，得提起訴訟。民國 108 年司法機關又做出解釋，指出各級學校學生若權利遭受侵害或不當懲戒皆能提起訴訟。根據上述內容判斷，有關文中權力與權利的敘述，下列何者正確？(A)立法機關擁有權力解除學生訴訟限制 (B)司法機關能剝奪違法學生的訴訟權利 (C)學生能向學校提起訴訟屬於積極權利 (D)學校目前已無懲戒與管教學生的權力。
- ( ) 44. 當政府不當行使權力時，人民有些制衡政府權力的方式，下列哪一項方式是不正確的？(A)人民聲請法院解散政府 (B)人民投票罷免違法的市長 (C)人民請立法委員監督政府 (D)由媒體揭露政府不當權力。
- ( ) 45. 為避免政府濫權而隨意侵犯人民的權利，政府的權力必須受到憲法和相關法律加以規範限定。從上述內容可見民主國家政府間運作的何種概念？(A)民意政治 (B)定期選舉 (C)有限政府 (D)主權在民。
- ( ) 46. 下課時下列四位同學討論公民課中有關「法治」的內容，請問：哪些同學的說法是不正確的？(A)昊文、允喬、可青 (B)允喬、吉力、昊文 (C)可青、允喬、吉力 (D)可青、吉力、昊文

法治是指由統治者制定法律，而且所有人都必須守法。



昊文

法治國家的法律由民意代表制定，約束統治者及人民。



允喬

在法治國家一切事務都交由法律治理，並沒有統治者。



吉力

法治能夠有效限制人民的權力，以避免多數民眾濫權。



可青

**題組：**根據《史記》記載，商朝紂王雖然天資聰穎，有口才，行動迅速，接受能力很強，而且氣力過人，能徒手與猛獸鬥；但是他剛愎自用，拒絕臣下的諫勸。商朝紂王還加重賦稅，把鹿台錢庫的錢堆得滿滿的，把鉅橋糧倉的糧食裝得滿滿的，他多方搜集狗馬和新奇的玩物，填滿了宮室。商朝紂王如此荒淫無度，百姓們非常怨恨他，有的諸侯也背叛了他。於是他就加重刑罰，設置了叫做「炮烙」的酷刑，讓人在塗滿油的銅柱上爬行，下面點燃炭火，爬不動了就掉在炭火裡被活活燒死。約公元前 1046 年，周武王聯合西方 11 個小國會師孟津，乘機對商朝發起進攻，牧野之戰，大批俘虜倒戈，紂王的軍隊被打敗，紂王倉皇逃進內城，登上鹿台，穿上他的寶玉衣，跑到火裡自焚而死，商朝滅亡。而我國為亞州第一個民主國家，現行憲法是依據國父孫中山先生提出的獨特創見所建立，成為「五權分立」的憲政體制。

- ( ) 47. 關於上述商朝紂王的歷史與我國現今的社會比較，下列哪一項敘述是不正確的？(A)商朝紂王是人治社會，我國是法治社會 (B)商朝立法規範明確不會頻繁更動，我國無固定標準 (C)商朝立法鞏固紂王的權力，我國立法是保障人民權利 (D)商朝立法由紂王決定，我國立法由民選代表依據法定程序制定。
- ( ) 48. 關於上述商朝滅亡的歷史，下列哪一項敘述較合適？(A)商朝法律是凌駕於紂王之上 (B)商朝屬於法治政治體制 (C)紂王根據百姓的意願加重刑罰 (D)紂王只根據自己的意願向人民加重賦稅。
- ( ) 49. 「五權分立」的憲政體制，為了防止行政機關濫用私人的弊病，是將哪個權力獨立出來？(A)考試權 (B)監察權 (C)立法權 (D)司法權。
- ( ) 50. 「五權分立」的憲政體制，為了避免議會專制的弊病，是將哪個權力獨立出來？(A)考試權 (B)監察權 (C)立法權 (D)司法權。