

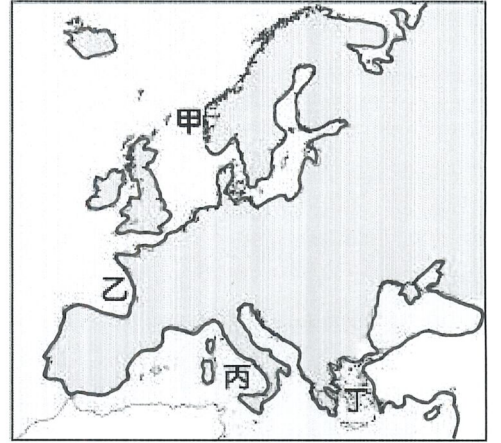
※ 下課鐘響前不得繳卷

姓名：

※ 注意! 請務必在答案卡最上方欄位寫上班級、座號和姓名。

P.1

1. 在法國留學的弈宇，為自己的假期規畫了一趟旅行，他從巴黎附近的車站搭車，一路往東欣賞沿途的美景，幾天的旅程中，經過了比利時、荷蘭，最後到達波蘭的首都華沙，路上看到稠密的人口分布、忙碌的工商活動與蓬勃的農業發展，堪稱是全歐洲的精華區。請問弈宇此趟旅行中車子行駛於哪一個地理區？
(A) 烏拉爾山 (B) 阿爾卑斯山 (C) 歐洲大平原 (D) 巴爾幹半島
2. 歐洲三面環海，南歐及北歐兩個分區多半島，因為海洋與陸地交錯分布，使海灣得以深入內陸地區，而有利於航運與貿易的發展。請問：下列哪一個半島所在的分區位於北歐？
(A) 伊比利半島 (B) 義大利半島 (C) 巴爾幹半島 (D) 斯堪地那維亞半島
3. 中國東南沿海有發達的谷灣海岸，形成原因為沿海地區的丘陵谷地，受海平面上升的影響，使得低平的河谷被海水所淹沒，而形成海灣。請參考右圖，上述的谷灣海岸，在歐洲的哪一個地方也最常見？
(A) 甲 (B) 乙 (C) 丙 (D) 丁
4. 歐洲各地的氣候雖不盡相同，但其空間分布有規律可循，與同緯度內陸地區相比，大西洋沿岸的氣候略顯溫暖而潮溼，此種氣候特徵主要受到哪兩個因素的影響？
(A) 緯度、地形 (B) 西風、暖流
(C) 季風、地形 (D) 季風、距海遠近
5. 歐洲的地形大致平坦，氣候也相對溫暖溼潤，因此農業發達，農產豐富。請問：歐洲主要種植的農作物，最不可能包含哪些？(甲)小麥 (乙)咖啡 (丙)玉米 (丁)茶葉 (戊)馬鈴薯
(A) 甲丙 (B) 乙丁 (C) 丙戊 (D) 甲戊
6. 歐盟是由歐洲國家經過一系列的談判與合作，逐步組成的區域性經濟組織。請問：歐洲國家組成歐盟的原因，下列敘述何者正確？
(A) 阻擋歐洲以外的國家貨物進口 (B) 提高各國間的關稅並穩定稅收
(C) 強化軍事力量用以抵抗俄羅斯 (D) 促進歐洲的和平並提升競爭力
7. 俄羅斯是世界上面積最大的國家，國土橫跨歐、亞兩洲，分為歐俄區(歐洲)和西伯利亞區(亞洲)，請問：哪一座山為歐俄區與西伯利亞區的界山？
(A) 烏拉爾山 (B) 高加索山 (C) 喀爾巴阡山 (D) 庇里牛斯山
8. 阿杰在介紹俄羅斯的旅遊網站上，看到首都莫斯科境內的教堂照片，如右圖，旅遊介紹上說這是俄羅斯傳統的特色建築形式之一。請問：該教堂最可能為何種宗教的建築型態？ (A) 佛教 (B) 印度教 (C) 東正教 (D) 伊斯蘭教
9. 歐盟數個國家為了加速國與國之間的人員、貨物與各項商業交流往來等，以擴大區域經濟同盟的優勢，早在一九八〇年代，即致力於國界檢查、入關簽證等各項邊境管制作業進行討論，最後達成取消各項通關手續的約定。請問：歐洲國家之間若要相互開放邊境，必須加入簽署哪一項公約？
(A) 申根公約 (B) 南極公約 (C) 華盛頓公約 (D) 北大西洋公約
10. 俄羅斯由於國土廣大、氣候寒冷，各地的交通往來多以陸運為主，右圖是俄羅斯的鐵路幹線分布圖，請問：俄羅斯鐵路分布的疏密情形，與下列哪一個因素密切相關？
(A) 人口分布 (B) 地勢起伏 (C) 雨量多寡 (D) 鄰國強弱
11. 承上題，恩恩欲搭乘俄羅斯的鐵路從甲地到乙地找丁丁，請問這一路上恩恩看到窗外地形起伏的變化，最可能會有什麼樣的改變？
(A) 山地→高原→平原 (B) 平原→高原→山地
(C) 山地→平原→高原 (D) 平原→山地→高原

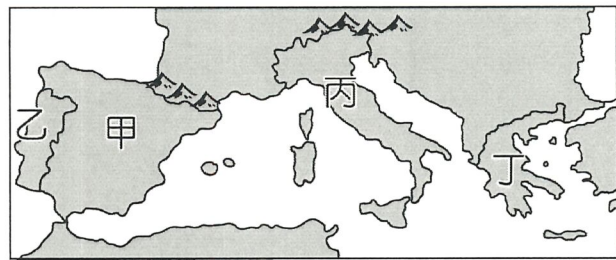


※ 下課鐘響前不得繳卷

姓名：

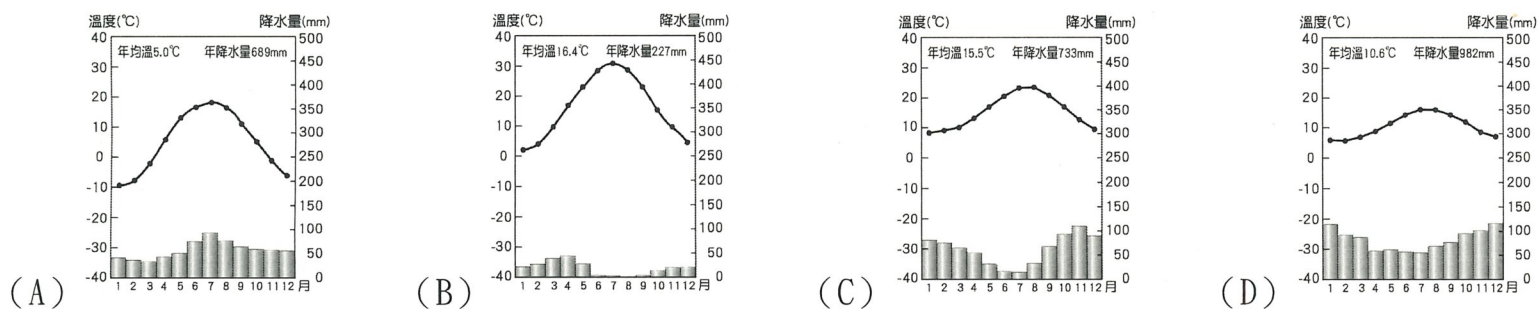
R2

12. 2024年夏季奧林匹克運動會即將在法國巴黎舉行，就讀體育系的小程，若想要到奧林匹克運動會的起源地進行採訪並做成報告，請問：他要到右圖中的哪個國家才能夠得到最完整的資料？



- (A) 甲 (B) 乙 (C) 丙 (D) 丁

13. 承上題，小程來到該國訪問時，發現當地氣候溫暖且陽光充足，吸引了許多人來此觀光度假。請問：該國的氣候圖最接近下列何者？



14. 自2004年起，歐盟從原本的15個會員國，逐漸加入東歐地區的國家，時至今日，歐盟已有27個會員國。請問：在新加入歐盟的多數東歐國家中，具備哪一項優勢條件，在近年吸引許多外資前往投資設廠？

- (A) 資金充裕 (B) 技術先進 (C) 礦產豐富 (D) 工資低廉

15. 在2020年英國脫歐期間，英國首相要前往歐盟總部，參加由各個歐盟成員國領導人所組成的歐洲理事會會議交換意見。請問：英國首相最可能前往哪一個城市開會？

- (A) 倫敦 (B) 巴黎 (C) 布魯塞爾 (D) 巴塞隆納

16. 俄羅斯近代以來，透過何種資源的出口，因此累積許多的外匯，經濟實力大增？

- (A) 鑽石 (B) 石油 (C) 稻米 (D) 咖啡

17. 中國、俄羅斯、巴西、印度與南非被稱為金磚五國(BRICS)，請問：下列有關俄羅斯的敘述，何者「有誤」？

- (A) 大部分人口為斯拉夫民族 (B) 人口大多分布於西伯利亞地區
(C) 境內針葉林廣布，林業發達 (D) 歐俄平原種植小麥，是主要糧倉

18. 以下哪一位君主在位時，羅馬開始進入帝國時期，並開啟了此後兩百年的「羅馬和平」時代？

- (A) 屋大維 (B) 查士丁尼一世 (C) 迪奧多西一世 (D) 君士坦丁一世

19. (承上題) 關於古羅馬文明的敘述，以下何者正確？

- (A) 王政時期，在幾位君主的勵精圖志，開疆拓土，建立了橫跨歐亞非三洲的大帝國。
(B) 羅馬帝國與中國的漢朝遙相輝映，當時的漢朝稱呼羅馬帝國為大食。
(C) 共和時期末，擔任執政官的將領，往往與元老院爆發政見衝突，最後凱撒獨攬大權，建立帝國。
(D) 拉丁文隨著羅馬帝國的版圖擴張傳播至歐洲各地，成為日後中古西歐的共通語文。

20. 「距今六千多年前，此地區的人們觀察到，大約每隔365天，天狼星在拂曉時分，和太陽同時位於東方的地平線上。因此他們定365天為一年，每年分為12個月，每月30天，年末加上5天。這種遵循太陽週期的曆法，依自然現象將一年分為『泛濫季』、『長出五穀季』、『收割季』三個季節」。

根據上文，「此地區」的發明最可能與下列何者有關？

- (A) 推算河川氾濫情形，掌握農業生產。 (B) 追尋宇宙創世真理，崇奉一神信仰。
(C) 相信人死後靈魂若能通過審判，就能死而復生。 (D) 公民參與城邦事務，展現民主精神。

21. 雅典被認為是民主政治的起源地，但許多部分與今日的民主制度有極大差異。生活在西元前五世紀的雅典公民，應該透過下列哪個途徑來擔任執政的官員？

- (A) 由成年男性輪流擔任 (B) 由公民投票選舉產生 (C) 從公民中抽籤選出 (D) 由元老院成員任命

22. 《漢摩拉比法典》的序言中聲明：「……天神叫道：『漢摩拉比，值得讚美的人君，諸神的虔敬者，……你當使正義廣被四方，你當創除邪惡，你當教化萬民，你當增進萬民福祉……漢摩拉比，……你使巴比倫繁榮……』。」請問以下關於《漢摩拉比法典》的敘述中，何者正確？

- (A) 整部法典由象形文字來進行書寫
(B) 這段聲明的文字強調的是法律由神所授予且公正
(C) 此法典由蘇美人所創建
(D) 此法典強調君王的地位性高於神祇

23. (承上題) 下列何者是《漢摩拉比法典》所強調的原則？

- (A) 以和為貴 (B) 以牙還牙 (C) 人人平等 (D) 民貴君輕

※ 下課鐘響前不得繳卷

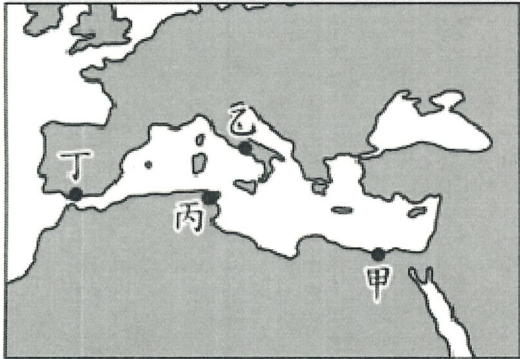
姓名：

P.3

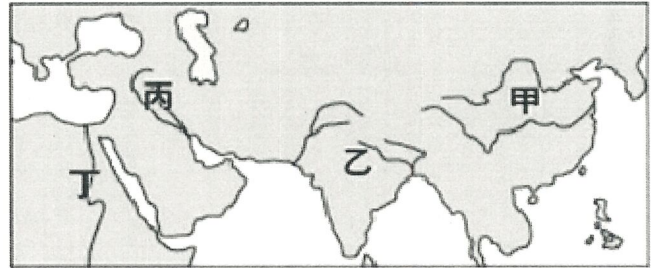
24. 有關中國商朝、埃及與西亞這三個古文化在文字上的發展，下列敘述何者正確？

- (A) 埃及使用楔形文字在商業與文書上 (B) 西亞以象形文字與字母文字作為主要文字
(C) 埃及的象形文字後來成為西方文字的基礎 (D) 商朝的甲骨文依舊停留在圖案階段

25. 西元前四世紀，亞歷山大創立跨歐、亞、非的帝國，並在其征服的疆域內興建城市。圖一中的甲、乙、丙、丁，何者最可能是他所興建的城市？ (A) 甲 (B) 乙 (C) 丙 (D) 丁



圖一



圖二

26. 阿漆到大英博物館參觀某古文化展覽，看見了牆面上一塊塊泥版，上面有古人用蘆葦刻壓的文字，文字筆畫大多為具三角形的線條，時間約西元前 3000 年所留下的古蹟。請問：這個古文化最可能位於圖二中哪個代號的位置？ (A) 甲 (B) 乙 (C) 丙 (D) 丁

27. 歐洲有句俗諺：「光來自東方，法律來自西方」，其中「光」意指文化的開端。請問其所謂的「東方」是指何地的古文化？ (A) 中國 (B) 埃及 (C) 希臘半島 (D) 兩河流域

28. 羅浮宮將舉辦一場「文明的曙光：美索不達米亞」珍藏品的展覽，在檢查展品清單時，聞西發現了一項不適合本次展覽主題的展品，請問此展品是下列何者？

- (A) 刻在玄武岩上的《漢摩拉比法典》 (B) 莎草紙上的《死者之書》
(C) 巴比倫古城的還原模型 (D) 泥板上的楔形文字

29. 歷史老師上課時講述羅馬帝國的發展史，小芳一邊聽課一邊整理筆記，她比較了東、西羅馬帝國，以下有一項她錯了，請問是下列何者？

	西羅馬帝國	東羅馬帝國
(A) 形成時間	羅馬帝國於 4 世紀末時分裂形成	羅馬帝國於 4 世紀末時分裂形成
(B) 主要區域	巴爾幹半島、小亞西亞、埃及	西歐、義大利半島、伊比利半島
(C) 亡於...	日耳曼民族	鄂圖曼土耳其人
(D) 滅亡時間	西元 476 年	西元 1453 年

30. 電影《出埃及記》內容為某個民族在埃及遭受迫害，之後在先知摩西的帶領下，最終回到神的應許之地。下列有關該民族的敘述，何者錯誤？

- (A) 創立猶太教 (B) 以上帝耶和華為唯一真神
(C) 宗教信仰影響了基督教與伊斯蘭教 (D) 神的應許之地位於地中海西岸

31. 十九世紀德國著名學者耶林曾說：「羅馬人曾三次征服世界，第一次以武力，第二次以宗教，第三次則是用□□。」羅馬人以「拉丁文」將□□刻於十二塊板子上，其中已具備「傳喚」、「審判」、「求償」、「繼承」等概念，甚至還有先進的「無罪推定」原則，顯示羅馬人觀念頗為進步。請問後上□□，指的是下列何者？

- (A) 建築 (B) 教育 (C) 法律 (D) 文字

32. (承上題) 小倩穿越時空，回到那十二塊板子頒行時代的羅馬，她可能會看到下列何者景象？

- (A) 重要決策由貴族組成的元老院決議後，交由執政官執行。
(B) 「奧古斯都」開啟了長達兩世紀的羅馬和平。
(C) 羅馬城於義大利中部開始建立，以國王為領導中心。
(D) 國家分裂成東、西兩部份，東羅馬帝國以拜占庭（君士坦丁堡）為首都，又稱拜占庭帝國。

33. 歐幾里德是世界史上著名的科學家，他在埃及的亞歷山卓教書並度過一生，其著作被認為是史上最成功的教科書。請問：關於歐幾里德的生平與影響，下列何者錯誤？

- (A) 他生活在希臘化時期 (B) 他著有《幾何原本》
(C) 明朝末年，傳教士利瑪竇曾徐光啟將他的名著翻譯成中文 (D) 他的理論奠定物理學的重要基礎

背面尚有試題

※ 下課鐘響前不得繳卷

姓名：

P4

34. 由於夏天用電需求比其他時期高，為了提倡節約用電，我國每年6月~9月實施夏季電價制度，隨著用電度數增加，每度電費也愈高。台電設置這樣的制度，採用的誘因與下列何者相同？

- (A) 玲玲因為吃得太飽而不停打嗝
- (B) 南韓只要能在奧、亞運奪得金牌，可以免除當兵的義務
- (C) 駕駛人在斑馬線上未依規定禮讓行人，最重罰6000元
- (D) 拍攝菸檳宣導影片，贏得全國特優，給予獎金10000元

35. 民眾攀登玉山主峰路線，一般都是先抽籤排雲山莊床位，住一晚後才攀登主峰，惟山莊僅116床，「僧多粥少」，未中籤的山友不少會選擇玉山單攻，但過去單攻是「先搶先贏」，先申請就會先審核入園，導致名額容易被有經驗的山友，或專業登山社搶下。玉管處表示，以往的機制常被山友抱怨，現在改成「抽籤制」，優化登山申請機制。關於玉管處的資源分配的敘述，下列何者正確？(A) 現在的資源分配方式缺點為資源可能長期被占用 (B) 現在的資源分配方式讓所有人都有機會取得資源 (C) 現在的資源分配方式較能因應使用者的差異，滿足不同需求 (D) 現在的資源分配方式，只要使用者付出時間，即可取得資源。

餐點種類	銷貨收入	生產成本
酸辣麵	140	90
椒麻雞	120	甲
打拋豬	100	70

36. 如右表所示，若僅考量利潤，該餐廳的最佳選擇是「酸辣麵」，且此選擇的機會成本是「椒麻雞」。根據上述內容判斷，表中「甲」的數值，最可能為下列何者？(A)90 (B)80 (C)70 (D)60

37. 小婕想辭掉月薪40000元的工作，租一個「店面」開一間手沖咖啡店，店面的租金為每月15000元，一杯咖啡的原料成本為60元，預計一杯賣120元，一個月能賣800杯，小婕未來想推出每月的1號，買百折10元的活動，增加銷售量。下列敘述何者錯誤？

- (A) 小婕現在開手沖咖啡店的總生產成本每月為63000元
- (B) 小婕現在開手沖咖啡店的銷貨收入每月為96000元
- (C) 小婕現在開手沖咖啡店的是不划算的，利潤小於0
- (D) 畫線處，小婕所運用的經濟學概念與「早場電影價格較低」相同。

題組一

日本推出大型街頭機台「寶可夢加傲樂」，引發大小玩家的遊玩狂熱，全台灣有設置《加傲樂》機台的通路多達700多處，其中有許多為7-11門市，時常都能看到排隊的人潮。

辰宇每週日下午會幫媽媽顧店4小時，賺取800元零用金，由於辰宇是寶可夢超級粉絲，即使手上已有100張寶可夢卡匣，這個週日他還是一心想要贏得一張五星卡，因此，他選擇不幫媽媽顧店，在7-11排隊玩機台花了420元，仍無法如願得到五星卡，最後，他不死心的花1000元在網路上購買一張五星卡。

台灣7-11不但經營24小時也提供各式服務與商品，成為許多民眾的日常好夥伴，為了刺激買氣，日前也與寶可夢聯名合作，推出5款兼具可愛與實用的周邊商品，如「皮卡丘直傘」、「精靈球購物袋」、「寶可夢毛巾」等，寶可夢迷透過消費集點即可加購。請問：

38. 關於辰宇購買這張稀有五星卡，下列敘述何者正確？

- (A) 辰宇購買五星卡所付出的機會成本總共為1420元
- (B) 辰宇排隊所花費的時間亦須計入機會成本
- (C) 五星卡因為數量太少，對於所有的人來說，都具有稀少性
- (D) 從畫線處可呈現辰宇資源無窮，欲望有限

39. 店家利用寶可夢聯名商品，刺激買氣，是以何項因素影響消費者？

- (A) 所得水準 (B) 預期心理 (C) 商品價格 (D) 消費者偏好。

題組二

今年上半年，政府為解決蛋荒，大量進口雞蛋，然而，這些雞蛋存放時間過長，品質參差不齊，許多進口蛋，被發現含有動物用藥殘留物，或是出現發霉的問題，這使得消費者對進口蛋產生擔憂，近期都改買國產蛋，結果國產蛋價格持續上漲。

蛋農呼籲政府不要干預市場，應該讓市場自行調節價格，蛋農會因為蛋價升高而增加雞蛋的供應量。請問：

40. 從第一段敘述，依經濟學理論，若其他條件不變，僅考量價格因素，消費者目前對於國產蛋最可能會採取下列何種做法？

- (A) 平常2天吃1顆蛋，現在改成每天吃1顆蛋
- (B) 不管價格有無變動，想買的數量不會改變
- (C) 吃雞蛋補充蛋白質的習慣，改吃豆腐、奶製品
- (D) 消費者因為國產蛋太貴改吃進口蛋

※ 下課鐘響前不得繳卷

姓名：

41. 從畫線處，蛋農因為有利可圖而增加雞蛋的供應量，與下列何者運用的經濟學概念最類似？

- (A) 虎航 9 週年慶，推出全航線單程 99 元起的活動
- (B) 颱風過後菜價升高，農民開始大量種植高麗菜
- (C) 10 月 1 日國際咖啡日，7-11 精品拿鐵買 1 送 1
- (D) 限量高貴名牌包，貴婦們趨之若鶩至專櫃搶購。

P.5

題組三

小傑原本要在今日去加油，由於國際油價下滑，中油宣布明日起汽油價格調降 0.4 元，小傑決定等到隔天再去加油。

隔天到了加油站，小傑看到使用自助加油機，每公升再省 0.8 元，於是小傑自己使用自助加油機加油。請問：

42. 中油加油站購置自助加油機，是為了節省何項生產資源的支出？


- (A) 租用土地 (B) 購買機器 (C) 聘雇人力 (D) 研發產品

43. 從畫線處判斷，小傑消費行為主要是受到哪個因素影響？

- (A) 預期心理 (B) 產品價格 (C) 個人偏好 (D) 所得水準

44. 右圖為中油加油站營收結果，其中甲代表銷貨收入，乙代表利潤。若後來發現生產成本中少列入「購置自助加油機」的費用，在此筆費用列入計算後，圖中甲、乙最可能出現的情況為下列何者？

- (A) 甲上升，乙不變 (B) 甲不變，乙上升
- (C) 甲下降，乙下降 (D) 甲不變，乙下降



題組四

秋、冬是流感好發季節，尤其 65 歲以上老人除了流感併發症死亡率居各年齡層之冠，為了減少流感帶來的相關併發症，流感公費補助施打對象包括 65 歲以上長者、孕婦、潛在疾病者、6 個月以上至國小入學前幼兒、國小、國高中職及五專學生、醫護、長照、托育人員等，希望符合民眾應儘早完成接種，以提升保護力。請問：

45. 優先將疫苗免費提供給長者或緊急需求者，就資源分配的立場，主要是基於下列哪一項目的？ (A) 落實社會的公平正義 (B) 節省政府資源 (C) 提升政府形象 (D) 穩定國內經濟。

46. 承上題，資源分配的目的，與下列何者相同？

- (A) 學校圖書館熱門書籍預約登記 (B) 棒球賽依照位置遠近調整不同售價
- (C) 設置婦幼專用停車格 (D) 公園遊樂設施先搶先贏

題組五

倫倫今年考完國中會考，成績相當優異，可以錄取台北明星高中，但又考量基隆在地就學，不僅節省時間，還可以領取獎學金，減少家庭負擔。右圖是他對於三所學校所能獲得的獎學金及喜好排名(1 代表最喜歡)，請問：

學校	獎金(市府+學校)	喜好排名
台北明星高中	0 元	1
基隆 A 高中	30 萬	2
基隆 B 高中	35 萬	3

47. 根據倫倫所列表格，下列敘述何者正確？

- (A) 以獎金來看，若選擇台北明星高中，機會成本為 65 萬元
- (B) 以獎金來看，選擇基隆 B 高中的機會成本是 35 萬元
- (C) 不論是考量獎金或是喜好程度，選擇基隆 A 高中的機會成本都是基隆 B 高中
- (D) 以喜好程度來看，選擇基隆 A 高中及基隆 B 高中的機會成本是一樣的。

48. 若只考慮喜好程度，倫倫的最佳選擇應該是(甲)，會做這樣的選擇，是因為選擇(甲)的機會成本比較(乙)。請問(甲)、(乙)分別為？ (A) 台北明星高中、低 (B) 基隆 B 高中、低 (C) 基隆 B 高中、高 (D) 基隆 A 高中、低。

題組六

2011 年陸學森先生攜手一群具有環保與創新概念的夥伴，成立了一家以創意加科技為核心價值的睿能創意科技公司，從設計及銷售 Gogoro 電動機車開始，時至今日，這家公司賣出的電動機車數量，已穩居台灣機車品牌銷售前三名。

此公司研發了一款 Gogoro Delight，超低座高、小巧車身，各種身形的女生都很好駕馭，備有可收合杯架、車廂香氛組、抗菌握把等，並且配有牽車模式、安心護送燈等貼心設計，是專為女性量身定做的電動機車。請問：

49. 此公司推出為女性量身訂做的電動機車的做法，考量的生產課題與哪一項相同？ (A) 星羽思考店裡的餅乾應該要手工製造還是機器生產 (B) 宏恩考慮開設以客製化為主的蛋糕店 (C) 庭揚思考餐廳的小卷應該是清蒸還是紅燒 (D) 漢宏思考應該要開咖啡廳還是簡餐店。

50. 身為創辦人的陸學森先生，在經濟學上所擔任的角色為生產者，與下列何者不同？ (A) 種植稻米販售的農夫 (B) 夜市賣 QQ 球的小販 (C) 鴻海集團董事長 (D) 工廠生產口罩的操作員。