

※ 下課鐘響前不得繳卷

班級：

座號：

姓名：

R1

1. ( ) 船長呼求救援，以下是求救的內容。「我的船在高雄港西南方 65 公里處，在墾丁西方。」關於以上內容，何者敘述是正確的？

(請參考台灣行政區圖)

(A) 船的位置應該在澎湖縣的南方 (B) 船的位置應該在太平洋上 (C) 船的位置應該在基隆的東北方 (D) 船的位置應該在北回歸線上。

2. ( ) 承上題，船的位置應該在哪個半球呢？(A) 東半球、南半球 (B) 東半球、北半球 (C) 西半球、南半球 (D) 西半球、北半球。

3. ( ) 根據聯合國海洋法公約規定，各國擁有在其經濟海域內資源的使用權。臺灣因四面環海，島嶼眾多，擁有廣大的經濟海域，但因與鄰近國家的經濟海域重疊，經常有漁業上的糾紛。關於上文的解釋，何者錯誤？(A) 經濟海域是領海基線向外推 12 浬的範圍 (B) 日本和台灣的經濟海域重疊 (C) 經濟海域內發現礦物可以開採利用 (D) 菲律賓和台灣的經濟海域重疊。

4. ( ) 哪則新聞標題可以判斷出台灣是交通位置的樞紐？

(A) 民國 108 年收取的過境航路服務費高達新臺幣 24.2 億元

(B) 中颱「小犬」最快 4 日清晨觸陸，專家不排除 90 度直角朝西北衝

(C) 台灣四面環海該如何善用海水？加蓋 8 座海淡廠，新竹、台南先行 5 年內完工

(D) 台灣真的有在動！氣象局一圖揭「9 年板塊移動走向」，背後原因不只有地震而已。

【5-8 題請參考右圖】



5. ( ) 位在日本的和央想要在十二月底搭機直飛到夏威夷，兩地的時區不同，她在時間上會遇到何種情況呢？(A) 兩地沒有時差問題 (B) 兩地相差大概六個小時 (C) 跨越國際換日線需加一天 (D) 夏威夷比起日本較晚跨年。

6. ( ) 印尼的奧格斯先生想要在十二月初去日本拜訪天海，他準備的行李為何要帶厚重的服裝？(A) 因為經度的差異 (B) 日本是溫帶地區 (C) 日本是高緯度地區 (D) 此時太陽直射北半球。

7. ( ) 人在夏威夷的和央，她被什麼海域包圍？(A) 太平洋 (B) 印度洋 (C) 大西洋 (D) 北極海。

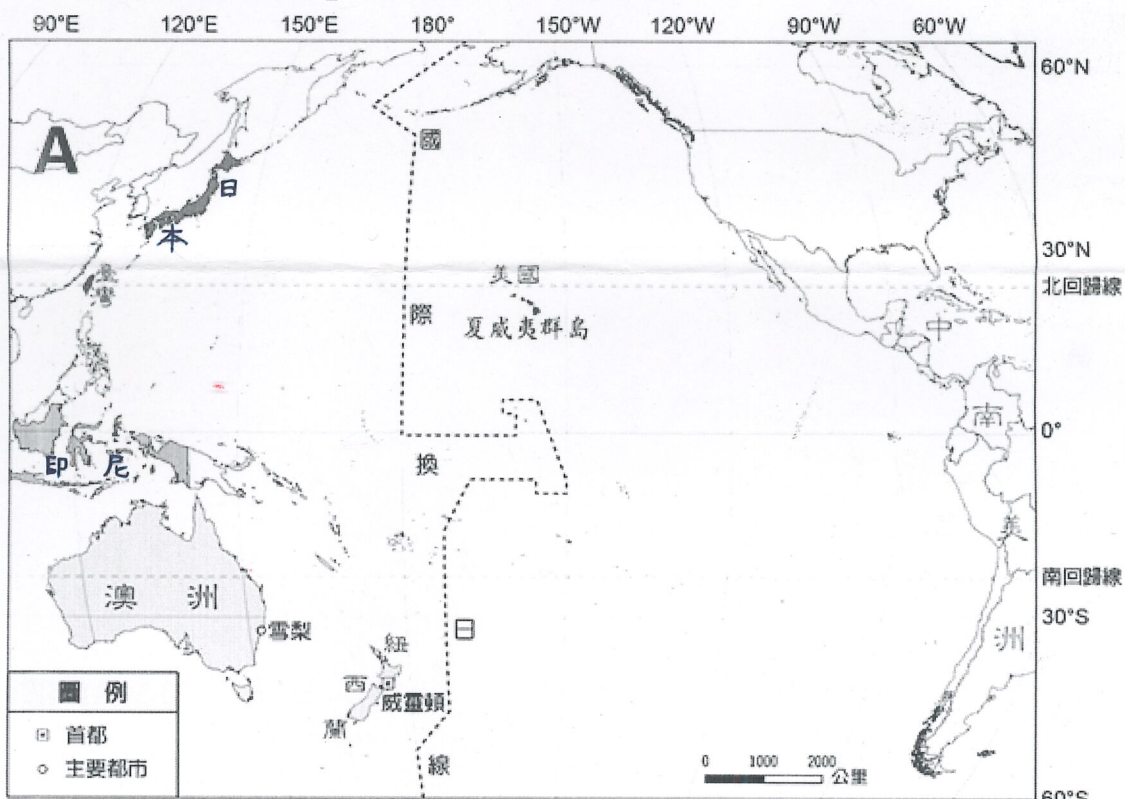
8. ( ) 關於 A 這個洲的敘述何者正確？(A) 面積小於非洲 (B) 與歐洲相鄰 (C) 主要在南半球 (D) 是大洋洲。

9. ( ) 臺灣每年冬天會有大批的候鳥在此過冬，等到隔年春天，再飛回到北方繁殖後代的鳥類，如紅尾伯勞、黑面琵鷺等。這些冬候鳥會選擇到臺灣來過冬的原因是什麼？(A) 台灣的緯度較低 (B) 北方的經度較高 (C) 北方被太陽直射 (D) 此時太陽直射北半球。

10. ( ) 熱愛賞鳥的軒軒若要在冬天參加台江國家公園拍攝黑面琵鷺的活動。他拍攝的方向瀕臨哪個海域？(A) 東海 (B) 南海 (C) 太平洋 (D) 台灣海峽。

11. ( ) 主恩好奇地轉動地球儀，他分享觀察地球儀的心得如以下四點，下列哪一則心得是正確的？(A) 北半球的陸地比南半球的陸地多 (B) 全球的陸地面積比海洋面積大 (C) 大西洋面積是三個海洋中最大的 (D) 歐洲的面積是七大洲中最小的。

12. ( ) 主恩在地球儀上找到台灣島的位置，他和身旁的同學聊起台灣的種種，哪位同學的敘述是正確的？(A) 多多：台灣的面積有 36 萬平方公里 (B) 舒勻：南回歸線經過台灣的中南部 (C) 竣竣：台灣在海陸交界處生態豐富 (D) 閱傑：台灣的離島範圍到達印度洋。



背面尚有試題



※ 下課鐘響前不得繳卷

班級：

座號：

姓名：

R2

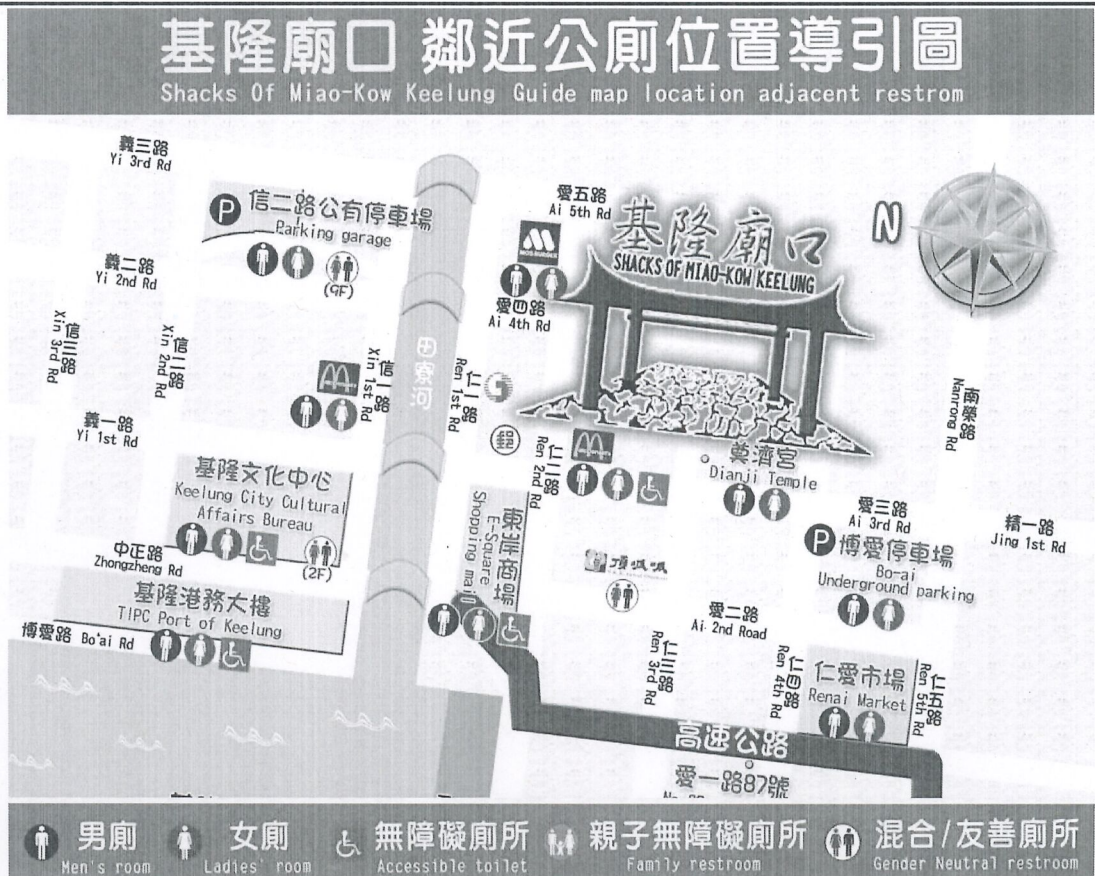
13. ( )關於右圖「基隆廟口 鄰近公廁位置導引圖」的敘述何者正確？

- (A)地圖的上方為北方
- (B)圖中有三種地圖要素
- (C)廟口在文化中心東方
- (D)此地圖可以計算距離。

14. ( )樂樂在看兩張圖幅大小相同的地圖。甲地圖的比例尺是 1 : 2000，乙地圖的比例尺是

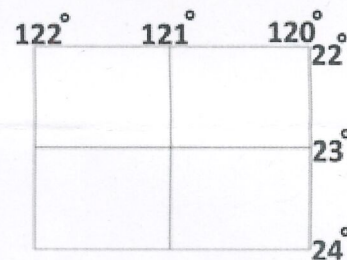
1 : 2000000000000，關於這兩張地圖的比較，何者正確？

- (A)甲地圖的內容比較簡略
- (B)甲地圖是小比例尺地圖
- (C)乙地圖的實際範圍比較大
- (D)資訊有限無法作以上判斷。



15. ( )娜美在製作新海航圖(參考右圖)，她先繪上經緯度，但還未畫上海陸的輪廓，魯夫一行人來到娜美的工作室看新航海圖並做了一些推測。以下的討論中，哪個人所說的正確無誤？

- (A)魯夫：這張地圖的位置在東半球
- (B)索隆：台灣會出現在這張地圖上
- (C)喬巴：經緯度可以看出絕對位置
- (D)羅賓：這個位置看來是寒帶氣候。



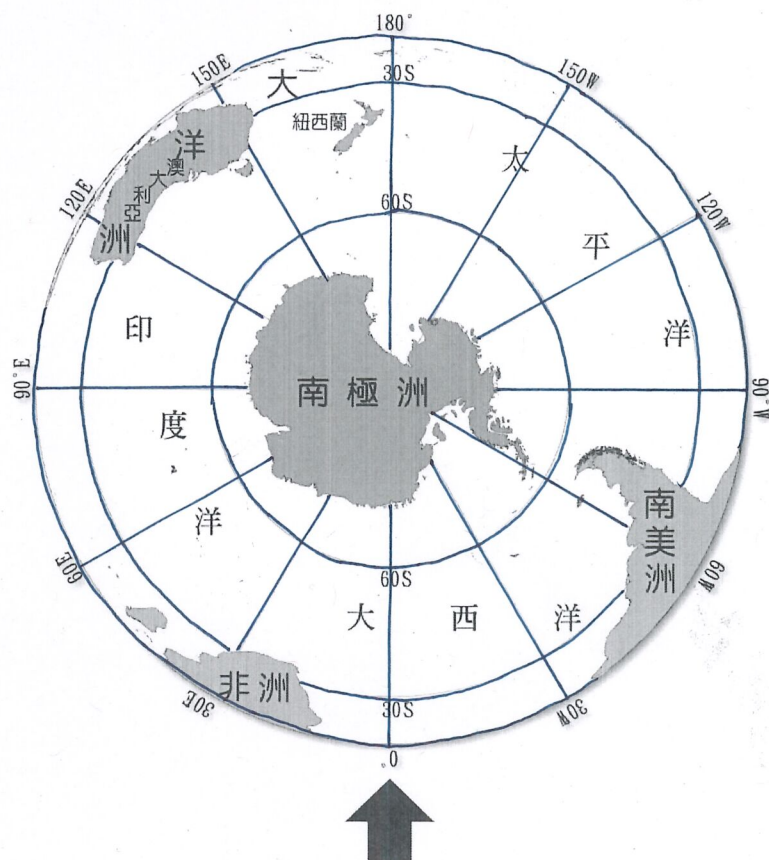
【16-17 題參考右圖】

16. ( )要前往南極海域捕蝦的約翰船長正在參考一張以極點為中心的地圖，關於約翰船長對地圖「圓線」的解讀，何者是正確的？

- (A)最大圈的圓線是赤道
- (B)圓線最大的數值是 180
- (C)圓線的數值可以判斷時區
- (D)圓線有大小圈所以是經線。

17. ( )承上題，約翰船長想要沿著本初經線(參考箭頭)從南極返回自己的國家，會遇到何種情況？

- (A)跨越很多時區 (B)一路向北方走
- (C)緯度愈來愈高 (D)海溫愈來愈冷。





※ 下課鐘響前不得繳卷

班級：

座號：

姓名：

P.3

西元 2019 年起，基隆市政府與文化局執行「大基隆歷史場景再現整合計畫」，針對「和平島 B 考古遺址」進行開挖及大規模研究。經考古發掘出諸多不同時期的文化堆積層（如下編號甲~丁），出土文物和遺跡豐富多樣，特別是某歐洲國家於 1626 年興建之諸聖修道院遺構，為迄今在臺灣所發現年代最早的天主教教堂遺留，極具文化資產價值。請回答第 18-22 題：

(甲) 錢幣、喀拉瓦卡十字架 及金屬帶扣、鈕扣	(乙) 素面紅陶碎片、磨製石 器、玉鏃	(丙) 煉鐵爐壁殘件、融化的 鐵渣和玻璃飾品	(丁) 燃燒的灰爐、骨製的魚 叉、打製的石器
-------------------------------	---------------------------	------------------------------	------------------------------

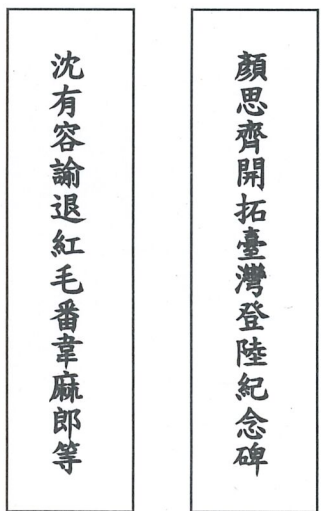
18. ( ) 編號「丙」文化堆積層的出土文物與課程中所講哪一個地方的文化遺址特徵相符合？ (A) 十三行文化遺址 (B) 南關里遺址 (C) 大坵坑遺址 (D) 圓山文化遺址。
19. ( ) 若按照史前時代以器物種類和製作技術為劃分依據，從編號乙~丁出土文物判斷，這三個文化堆積層由上到下被挖掘出的順序應該為何？ (A) 乙→丙→丁 (B) 丙→乙→丁 (C) 丙→丁→乙 (D) 丁→乙→丙。
20. ( ) 短文中畫雙線處提及的某歐洲國家應該是指下列哪一個？ (A) 英國 (B) 葡萄牙 (C) 荷蘭 (D) 西班牙。
21. ( ) 承上題，該國家在臺灣所建立的貿易據點，除了基隆之外還有何處？ (A) 大員、赤崁 (B) 淡水、蛤仔難 (C) 雲林、嘉義 (D) 彰化半線、竹塹。
22. ( ) 承第 20 題，下列有關此歐洲國家在臺發展商貿情形的描述何者錯誤？  
 (A) 曾在雞籠地區修築聖薩爾瓦多城 (B) 因日本實施鎖國政策，對日貿易計畫受挫  
 (C) 與鄭芝龍聯手壟斷東亞貿易市場 (D) 西元 1642 年遭荷蘭人擊敗，退出北臺灣據點

清康熙 35 年，福建省福州府的火藥庫失火，五十餘萬斤硫磺、硝石全遭焚毀，郁永河自動請命來臺採集硫磺，康熙 36 年（西元 1697 年）春天，他從金門搭船抵達府城（今臺南安平），在此停留兩個月購買採礦工具與物資後，搭乘牛車一路北上，歷經艱苦終於抵達八里坌（今淡水）。由於硫磺多分布於今北投、士林一帶，考慮到瘴氣和交通不便的問題，他決定在此地區駐紮數月，僱用當地原住民以獨木舟載運硫土到他的工寮換取布匹，再由漢人工匠展開提煉硫磺的工作，直至同年 11 月煉足需要的量，才離開臺灣。郁永河將此番歷程寫成《裨海紀遊》（又名《採硫日記》）一書，其內容大量記錄了 17 世紀末臺灣西部原住民的習俗與風情，使後人得以從中窺其原始面貌。請回答第 23-25 題：

23. ( ) 《裨海紀遊》中所記錄之府城地區的原住民，在當時應是被政府歸入下列哪一類？ (A) 高砂族 (B) 生番 (C) 山地同胞 (D) 熟番。
24. ( ) 承上題，下列哪些敘述符合這類原住民族群的發展狀況？ (A) 與漢人接觸的時間較晚，多數能保有自身語言、文化與風俗 (B) 大部分都是居住在近山地區或東岸離島 (C) 向外來統治者納稅、服勞役，歸順後漢化程度較為徹底 (D) 均為現今原委會認定的 16 個原住民族。
25. ( ) 從短文所述，可推測郁永河所僱用採集、運送硫土的原住民，應為下列何者？ (A) 撒奇萊雅族 (B) 西拉雅族 (C) 凱達格蘭族 (D) 噶瑪蘭族。

勇志翻閱《圖說臺灣》一書，其中有兩幅（如右圖）拓印的碑文，足以印證大航海時代臺灣、澎湖一帶各方勢力競逐的情形。請回答第 26-28 題：

26. ( ) 這兩幅碑文印證了十七世紀臺、澎地區哪一段歷史活動情形？ (A) 以臺灣為據點的海商，因紅毛番來襲轉移至澎湖群島 (B) 明朝駐軍於澎湖，使海商逐漸轉移至臺灣本島活動 (C) 明朝初年為防備倭寇實施海禁政策，臺灣成為其活動的大本營 (D) 清帝國為打擊鄭氏政權實施鎖國政策，下令離島居民遷回內地。
27. ( ) 若要走訪這兩塊石碑所在之處，應該前往何處？ (A) 澎湖天后宮及雲林北港鎮 (B) 臺南安平古堡和赤崁樓 (C) 雞籠和平島、淡水紅毛城 (D) 北港天后宮與金門、馬祖地區。
28. ( ) 「沈有容諭退紅毛番韋麻郎等」的碑文，呈現了下列哪一件史實？ (A) 荷蘭人攻打澳門的葡萄牙人 (B) 鄭成功圍困熱蘭遮城，趕走了荷蘭人 (C) 西班牙東來亞洲尋求貿易據點未果 (D) 明軍將領逼退佔據離島的荷蘭人。



背面尚有試題



※ 下課鐘響前不得繳卷

班級：

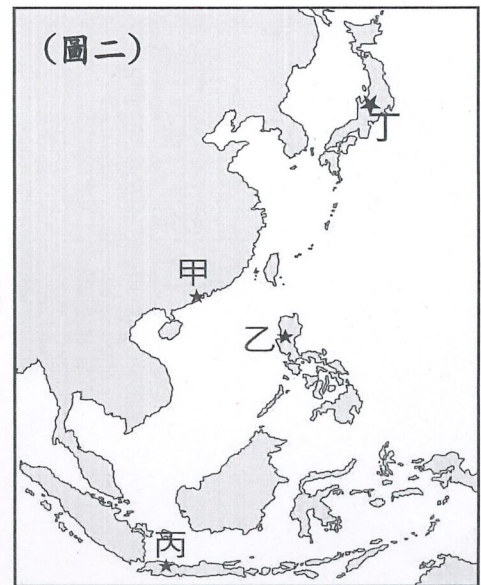
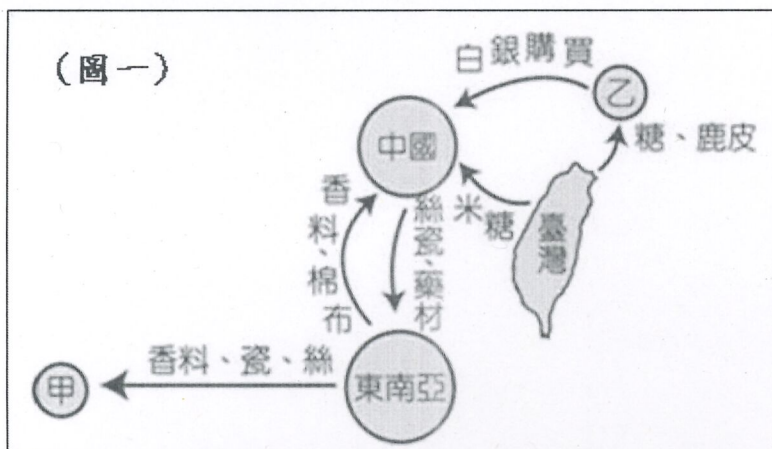
座號：

姓名：

P.4

位處西太平洋交通樞紐的臺灣，在西元 16~17 世紀成為各方勢力競逐的目標。(圖一)是某一公司在臺灣經營轉運貿易的示意圖，(圖二)是歐洲人在東亞的重要貿易據點。請參閱附圖並回答第 29-30 題：

29. ( ) (圖一)「甲地」組成的公司總督曾說：「臺灣真是一頭好乳牛。」這句話表示臺灣為他們公司帶來相當大的利益。有關該公司在臺貿易情況的說明，何者正確？(A)曾在北臺灣興築商業市鎮—普羅民遮城(B)西元 1662 年遭施琅圍困九個月後退出臺灣(C)對「乙地」的貿易計畫受挫後，遭西班牙人擊敗而離臺(D)曾與(圖一)「乙地」來臺經商者，因課稅問題發生過貿易糾紛。
30. ( )該公司設立於亞洲的貿易總部是位在(圖二)中何處？ (A)甲 (B)乙 (C)丙 (D)丁。



老師講述某一時期臺灣的對外貿易情形，並發給同學以下資料。請閱讀後回答第 31-33 題：

- 資料一：順治 13 年（西元 1656 年），清廷正式頒布「禁令」，敕諭浙江、福建、廣東、江南、山東、天津各省督撫提鎮曰：「嚴禁商民船隻私自出海，有將一切糧食、貨物等項與逆賊貿易者，...不論官民，俱行奏聞正法（判處死刑），貨物入官，本犯家產盡給告發之人。該管地方文武各官不行盤詰擒緝，皆革職，從重治罪；地方保甲通融隱匿，不舉發者，皆論死。」
- 資料二：臺灣將蔗糖、鹿皮和絲織品、藥材（來自中國）輸往日本，再輸入鐵、銅、鉛、棉布等軍用物資；並且把運至臺灣的中、日商品轉售到菲律賓和南洋等地，購入香料...
- 資料三：□□商船於 1670 年首度來台，與東寧王國（臺灣）協議成立非正式通商條款 37 條，1672 年正式訂定協議條約 13 條，並在安平籌設商館；依協議，東寧王國（臺灣）向□□輸出蔗糖、鹿皮、瓷器、絲綢，輸入軍火、棉布等物。

31. ( )根據資料一~資料三的內容判斷，劃雙線處的「逆賊」應為下列何者？(A)南明的鄭成功勢力(B)鄭芝龍的海商集團(C)倭寇（日本海盜）(D)荷蘭聯合東印度公司。
32. ( )從資料三的敘述判斷，短文中的□□應為下列何者？ (A)荷蘭聯合東印度公司 (B)葡萄牙東印度公司 (C)法國西印度公司 (D)英國東印度公司。
33. ( )關於此一時期臺灣經濟活動的解讀，下列何者錯誤？ (A)與中國大陸之間的商貿往來是透過走私的方式 (B)該時期大量進口軍用物資主要是為了掃蕩生番，使其歸順(C)從瓷器、香料、絲綢等商品的進出口，可知臺灣在當時扮演轉運站(轉口貿易)的角色(D)實施「寓兵於農」的屯田制，所生產的稻米多用於軍糧使用，少有出口。
34. ( )父母皆為日本人，出生在台灣的阿武(乙)父母為中華民國人，出生在美國的立行(丙)從烏克蘭嫁到台灣，去年剛完成九合一大選投票的瑞莎(丁)長期在台灣工作的荷蘭人諾亞。若依照我國國籍法規定，屬於我國國民的有那些?(A)甲乙(B)甲丁(C)乙丙(D)丙丁。
35. ( )曾經偵辦多起重大案件的陳漢章檢察官有著愛穿女裝的嗜好，被網友封為「最美檢座」。他透露：「其實我一度很懷疑自己能否做到完全女性化外表的生活，有時走出門都畏畏縮縮，害怕他人眼光，更怕大家覺得我是怪胎。」後來在周遭親友鼓勵下，漸漸不再畏懼外界眼光，變得更開朗，勇敢做自己。請問陳漢章的表現展現下列何種核心價值?(A)全球公民(B)人性尊嚴(C)社會福利(D)人身自由。



※ 下課鐘響前不得繳卷

班級：

座號：

姓名：

R5

36. ( ) 今年剛考入梅仁國中的小萱老師因年輕貌美，頗受同仁歡迎，但同時也出現困擾；校長時常以各種理由要求與小萱共進午餐，小萱礙於對方權勢，始終不敢拒絕。一次午餐後，校長更是對小萱上下其手，讓小萱身心受創。請問，小萱可以透過何項法規來保護自己？(A)性別工作平等法(B)性別平等教育法(C)性騷擾防治法(D)勞動基準法。

37. ( ) 有關公民與國民的差異，敘述錯誤的有幾項？(甲)兩者都必須具備我國國籍(乙)公民可以參與討論國家政治，國民不行(丙)國民指的就是「狹義的公民」(丁)符合年齡的公民可以投票要求民選首長下台負責。(A)4項(B)3項(C)2項(D)1項。

伊朗 22 歲的少女阿米尼 (Mahsa Amini) 因戴頭巾的方式不符合標準，遭道德警察帶走後突然傳出死訊。阿米尼之死引起伊朗各地城鎮爆發反政府示威，許多婦女勇敢挺身而出，焚燒頭巾表達憤怒，抗議者大喊「女性、生命、自由」，要求政府廢除女性服裝規定，此事件稱為「頭巾革命」。時代雜誌 (Time) 前記者莫阿維尼 (Azadeh Moaveni) 撰文說明伊朗這波抗議風潮的源起，並指出如今有許多年輕的女性走上街頭，她們追求的是能正常生活，包括上大學，到國外旅遊，實施法治，參與政治，和能夠自由表達意見與決定自己穿著。

38. ( ) 婦女走上街頭焚燒頭巾，要求政府廢除女性服裝規定的行為展現出現代公民應具備的哪一種德性？(A)和平尊重與包容(B)遵守法律規範(C)理性思考批判(D)參與公共事務。

39. ( ) 根據畫線處判斷，伊朗女性抗議的原因與下列何者相同？(A)空服員工作限制只有女性應徵(B)父母認為男生還是念理科比較合適(C)公共場所設置哺乳室(D)妮妮工作時被上司觸摸臀部。

40. ( ) 根據上述文章，伊朗女性期待政府應該出什麼改變？(A)增強女性差別待遇(B)保障人性尊嚴(C)深化刻板印象(D)彰顯國家權力。

在過去，伊朗的國籍原則以 OO 主義 為主，但兒童僅能通過父親獲得伊朗國籍，如果僅有母親是伊朗人，則孩子無法獲得伊朗國籍，導致伊朗母親和外籍父親所生的孩子在伊朗無法平等獲得教育、就業、醫療和社會服務，甚至連手機 SIM 卡都沒辦法買。

2019 年，伊朗修改國籍法以擴大公民權利，使大量女性公民與外國人生產的孩子可以成為伊朗公民。請問：

41. ( ) 畫線 OO 處，應該填上下列何者？(A)移民(B)歸化(C)出生地(D)血統。

42. ( ) 有關伊朗國籍的規定，何者敘述錯誤？(A)2019 年以前存在著年齡歧視的問題(B)如果母親是伊朗人但父親為外國籍者，在 2020 年以後出生才可以申請獲得伊朗國籍 (C)根據伊朗的國籍取得規定，可以發現在 2019 年以前伊朗的女性人權並未受到保障(D)伊朗取得國籍的主要途徑與美國不同。

四位同學在準備公民報告，他們準備前往「白色恐怖景美紀念園區」參觀並完成心得，在導覽的過程中同學了解到：此處原為「新店二十張景美軍事看守所」，為白色恐怖時期軍事、政治、治安案件之審訊、羈押的場所，許許多多政治受難者在此遭到刑求、判處徒刑送往綠島或是死刑。

白色恐怖是針對中國共產黨叛亂的特殊狀況而實施，透過特別法律剷除異己、鞏固威權主義的領導中心，對於批評或反對政府者、持不同政見者（如主張臺灣獨立等等）進行整肅迫害，任意冠上意圖顛覆政權之罪名，將刑罰範圍過分擴張。無孔不入地監控人民，對言行可疑人士或持不同政見者炮製假案、扣上匪諜的帽子，在全國各地濫捕、濫殺、刑求毆打及沒收財產，造成大量冤死、冤獄、傷殘，人民的生命財產、健康以及心靈上遭受嚴重損害。請問：

43. ( ) 同學在聆聽導覽，下列何者有可能出現在白色恐怖時期相關的導覽內容上？(A)國家在這個時期透過法律保障人性尊嚴，人民在這個時期獲得絕對的自由(B)這個時期限制了人民自由，但人性尊嚴並未被剝奪(C)國家公權力在這個時期遭到濫用，人民的基本權利失去保障(D)剷除異己的行為是為了保障大多數人的安全，是非常時期的非常手段，可以被接納。

44. ( ) 參觀完園區之後，四位同學有感而發，請問誰的敘述是錯誤的？(A)櫻瑞：理想生活沒有客觀標準，可以自我決定要活成什麼樣子(B)依齡：人性尊嚴是人權保障的核心價值(C)西濱：人權是與生俱來，不用努力即可擁有(D)國禎：每個人都是獨特的，所以人性尊嚴的保障也應有所差異。

今年五月，某知名大學經濟系學生會代表選舉發生爭議事件，有一組候選人提出 16 項明顯有侵略性的政見(如右圖)，這些言論一經公布後在網路上迅速蔓延，內容因嚴重侵犯性別、LGBTQ(同性戀)、職業與智識等多個族群，引發不小的風波。後由該校性別平等教育委員會接手調查，後續依性平會調查結果及學生個人獎懲辦法辦理，系上也啟動輔導機制進行輔導。

45. ( ) 根據右圖所寫之政見內容，下列何者敘述錯誤？(A)政見第五點已經構成了性別歧視的範疇(B)這些政見內容已經侵犯人性尊嚴(C)政見第九點剝奪了女性的人權(D)政見第二點已經構成種族歧視。

## 二、內容

1. 非應屆生禁止進入系學會
2. LGBTQ 與狗不得在會中辦打傳說對決
3. 移除監視器、減少會辦抽菸取締次數
4. 原住民、僑生、體育生入學名額減少
5. A 罩杯以下女生國防必修 2 學分
6. [REDACTED]
7. 大四畢業母胎單身進行結紮手術
8. 和牛列為海底撈必點項目，未點者勒令退學
9. 女生微積分強制穿高中制服上課
10. 住宿者大二第一志願選城中
11. 迎新宿營男女混住
12. 欠錢不還超過一個月剃手指
13. 三一者強制退學
14. 加設刷卡權限，BMI 20 以上禁止搭乘電梯
15. [REDACTED]
16. 禁止系上同學與職業軍人交往

背面尚有試題



※ 下課鐘響前不得繳卷

班級：

座號：

姓名：

P.6

46. ( ) 性別平等教育委員依照《性別平等教育法》啟動調查，下列何種情況所適用的法律與之相同？(A) 就讀高中的紫晨搭乘公車時被鄰座的伯伯觸摸胸部 (B) 擔任國小老師的阿蘭在學校游完泳淋浴時遭到上班族小智用手機偷拍 (C) 在法院工作的大學研究生阿偉趁國中八年級的先韻參訪法院時，對其裸露生殖器 (D) 擔任護士的瑤瑤被醫生小宇觸摸臀部。

此事發生後，部分學者對於頂大生(頂尖大學)「優越感無限膨脹」的心態心生憂慮，頂大學生得天獨厚，但不能因為獲得的機會比別人好，就以自我為中心，把少數的弱勢族群變成取笑對象，在社會中，難免會有人拿到較多資源，如果不培養對弱勢者的尊重和包容，就會造成更多霸凌和欺負。

除了「優越感爆棚」之外，民主成熟度的倒退也是學者更加憂心的；現今年輕人要求擁有「18 歲公民權」，意即希望年滿 18 歲的年輕人也可以擁有選舉權，獲得「完整的參政權利」，但一旦發生上述事件後，卻又有人跳出來以學生「心智尚未成熟」來緩頰。學者們認為：既然心智尚未成熟，即使在法律上已經「成年」，仍然不應具備成為合格完整「公民」之資格。

47. ( ) 根據上述文中所提之「完整的參政權利」，符合者有幾項？(甲) 可以去銀行開戶 (乙) 可以參加公民投票 (丙) 可以投票選出喜歡的民意代表 (丁) 可以結婚。(A) 1 項 (B) 2 項 (C) 3 項 (D) 4 項。

48. ( ) 頂大生優越感無限膨脹，忽略了弱勢族群的感受，我們不應嘲笑剝削，而是該做到讓弱勢群體能平等享有權利，獲得更多的資源分配，才能符合現代公民的何項德性？(A) 參與公共事務 (B) 捍衛公平正義 (C) 理性思考批判 (D) 遵守法律規範。

「18 歲公民權」公投案(如右圖所示)已於 2022 九合一大選中結束，因投票率未過半而沒有通過，依法規定須經立法院重新提案、審查，才能再度交付公民複決，因此 18 歲公民權議題將被延宕。倡議團體青民協則表示，不會放棄任何可能途徑，將繼續為落實世代正義努力。

49. ( ) 我們能順利判讀公投題目，應與下列哪個基本公民德性相同？(A) 遵守法律規範 (B) 參與公共事務 (C) 理性批判思考 (D) 捍衛公平正義。

50. ( ) 我們在參與公民投票時，可以透過哪些管道了解公民投票案的內容？(甲) 收看新聞或政論節目 (乙) 查找網路資訊 (丙) 聆聽家人朋友意見 (丁) 參考公投公報內容。(A) 甲乙丙丁 (B) 甲乙丙 (C) 乙丙丁 (D) 甲乙丁。

