

※ 下課鐘響前不得繳卷

姓名：

※ 注意! 請務必在答案卡最上方欄位寫上班級、座號和姓名。

P.1

地理 1~17 題，歷史 18~33 題，公民 34~50 題。每題 2 分

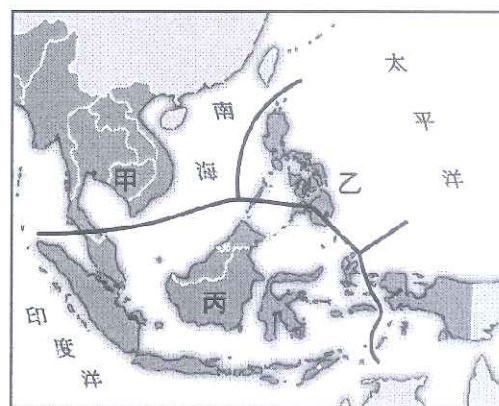
- 近年來，有許多來自東南亞的移工到臺灣來工作，其中部分移工經常聚集在各地的伊斯蘭教清真寺做禮拜。這些在清真寺做禮拜的移工，最可能來自下列哪一個國家？ (A)泰國 (B)越南 (C)緬甸 (D)印尼。
- 隨著中國工資的提高，全球許多製造業者紛紛提出市場調查報告，以求找尋下一個能成為「世界工廠」的國家，以降低生產成本。根據右圖的報告內容，這個國家最可能是下列何者？ (A)印尼 (B)印度 (C)泰國 (D)越南。
- 印度大平原從東到西種植的作物依序為：黃麻→水稻→小麥。上述現象的形成與哪一項因素關係最密切？ (A)地形起伏 (B)氣溫高低 (C)降水多寡 (D)距海遠近。
- 小明到馬來西亞首都吉隆坡觀光，在當地麥當勞買不到下列哪一種產品？ (A)雙牛起司堡 (B)勁辣雞腿堡 (C)豬肉滿福堡 (D)麥香魚堡。
- 右圖是小明在地理課上台報告東南亞地區時所使用的地圖資料，請問小明的報告題目最可能為下列哪一項？(A)東南亞的氣候特色 (B) 東南亞國協的產業結構 (C) 東南亞熱帶栽培業的分布與發展 (D)東南亞的宗教文化。
- 擁有 13 億人口的印度，有個世界之最：1%的人擁有印度全國財富的一半以上，全國一半以上的人卻僅擁有全國財富的 4.1%根據 2017 年國際貨幣基金的統計，印度的人均 GDP 僅有 1,875 美元，遠低於台灣的 22,230 美元。但在寶萊塢 (Bollywood) 電影發達的孟買，走在街上的印度人穿著華麗，穿戴著耀眼的黃金飾品，與好友在餐廳聚餐。同一塊土地上，印度 18 歲以下人口有 4.47 億人，占總人口的 43%，其中約 40%的兒童遭受著貧窮、缺乏教育、營養不良，甚至每天 面臨死亡的威脅。請根據上文判斷，下列敘述何者正確？(A)這個「世界之最」應為貧富差距最大 (B)這個「世界之最」應為跨國勞工最多 (C)從 GDP 來看，印度勞工到臺灣多從事技術性勞工 (D)以人口比例來看，印度應屬高金字塔的人口結構。
- 東協各國具有多元性的文化發展，各國間很難取得一致的認同，但是卻可透過區域結盟，從團結抵禦外侮到發展經濟。請問：下列何者是東協國家共同合作所期望達成的主要目標？ (A)宗教信仰大多相近，彼此有共通的文化 (B)區域合作整合成一個新興市場，藉以吸引外資投入 (C)藉由結盟形成政治共識，加入美國軍事合作計畫 (D)多曾經備歐美國家殖民，可以同仇敵愾對抗外侮。
- 中國興建的 11 座大壩攔截了中南半島湄公河上游的河水，自然水流遭逢最大破壞，威脅到下游國家數百萬居民的生存。請問：下列哪一個國家是受害國家之一？ (A)越南 (B)印尼 (C)菲律賓 (D)馬來西亞。

優勢

- 壯年人口比例世界第一
- 以英語為官方語言
- 平均薪資為中國的 1/4

劣勢

- 傳統制度導致社會流動率低
- 基礎建設仍嫌不足

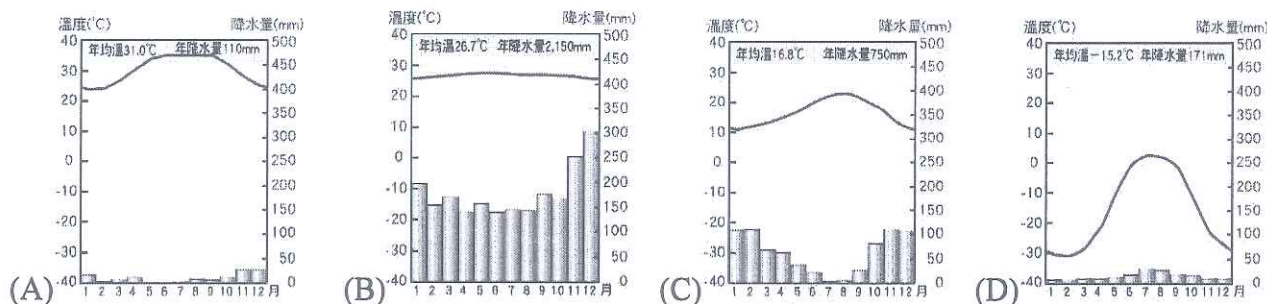


附圖為東南亞地區簡圖。請問 9-10 題：

- 圖中 A 處代表哪個海洋？ (A)太平洋 (B)印度洋 (C)大西洋 (D)地中海
- 圖中哪個地區位居歐、亞、非、澳四洲大洋航線的要衝，海運地位重要，是東南亞第一大港？ (A)甲 (B)乙 (C)丙 (D)丁

天然橡膠是製作汽車輪胎的重要原料，世界橡膠樹多數種植在東南亞的印尼、泰國及馬來西亞等國家。請問 11-12 題：

- 文中提及的橡膠樹其種植地區的氣候環境，與下列哪一張氣候圖所顯示的氣候類型最相符？



背面尚有試題

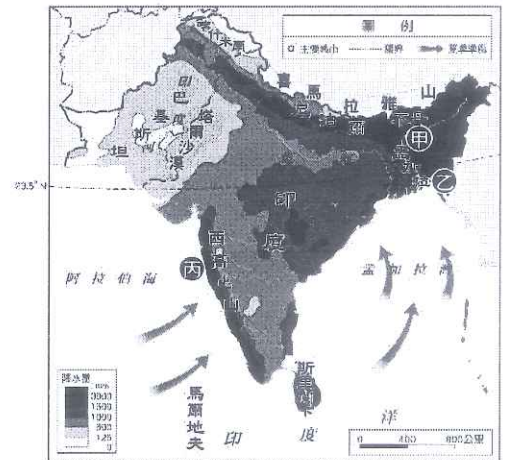
※ 下課鐘響前不得繳卷

姓名：

P.2

12. 印尼、泰國及馬來西亞成為世界上重要的橡膠產地，主要是因具有下列哪些環境優勢？(甲)均為東協會員 (乙)氣候溫暖溼潤 (丙)人多工資低廉 (丁)農業技術先進 (A)甲乙 (B)甲丙 (C)乙丁 (D)乙丙。

印度孟買近日來遭受大雨侵襲，三日累積降水量就已超過年平均降水量，各地淹水成災。同時，東北部的阿薩姆邦也遭受豪雨襲擊，不僅水災頻仍甚至還有土石流的現象發生，除了造成人民的生命財產損失外，農作物的收成也大受影響。右圖是南亞的雨量分布圖，請回答下列問題 13-15 題：



13. 上述災害最可能出現在哪一個月分？ (A)1 月 (B)4 月 (C)8 月 (D)11 月。
14. 從右圖判斷，南亞地區的雨量分布受下列哪些因素影響？A-地形、B-風向、C-氣壓系統、D-距海遠近？ (A)ACD (B)BCD (C)ABD (D)ABC。
15. 豪雨影響了甲區哪一項農作物的收成？ (A)茶樹 (B)水稻 (C)甘蔗 (D)小麥。

印度擁有全世界最多的壯年人口，印度總理莫迪上任以來積極將印度發展為「全球製造中心」，推出「印度製造」政策，藉此改善印度經濟脆弱的環節。然而，這項政策還是面臨諸多自然和人文的挑戰與限制。例如：印度夏季季風的風向，加上喜馬拉雅山的阻隔，導致工業的汙染大量集中於恆河谷地，形成霧霾；此外，印度政府欲透過高端資訊科技的發展來提高國際競爭力，但國內人民的普遍素質是否足以與產業接軌，也考驗著政府的智慧和執行力。請問 16-17 題：

16. 文中提到「印度經濟脆弱的環節」指的最可能是下列何者？ (A)人民英語能力不足，難與外商溝通 (B)礦產資源缺乏，重工業難以發展 (C)國內基礎設施不足，生產效能相對低落 (D)勞工工資過高，對外商無吸引力。
17. 文中說明，導致恆河谷地嚴重霧霾的風向為何？ (A)↗ (B)↘ (C)↙ (D)↖。
18. 西元 1940 年代與西元 1980 年代，中華民國政府面臨許多重大內政與外交事件，而當時總統的國政責任與決定，可謂重大且影響深遠；依據中華民國總統府官網的資料，行憲後歷任總統與副總統，第 1~5 任 (1948 年~1975 年) 與第 6~7 任 (1978 年~1988 年) 的中華民國總統，應該各是指下列何人？ (A)孫中山、蔣中正 (B)蔣中正、蔣經國 (C)蔣經國、李登輝 (D)李登輝、陳水扁。



19. 「國民政府宣布將遷都□□，以西南各省作為抗戰大後方，並利用中國廣土眾民的條件，制定長期抗戰方針。」請問：□□是指右圖的哪一座城市？ (A)甲 (B)乙 (C)丙 (D)丁。
20. 國民政府推動各項措施與改革的「十年建設」期間，仍面臨許多挑戰，歷史學者常以「內憂」與「外患」來區分並解釋。請問：上述的「內憂」與「外患」，各是指下列何者？ (A)內憂-中共；外患-日本 (B)內憂-軍閥；外患-蘇聯 (C)內憂-軍閥；外患-德國 (D)內憂-中共；外患-蘇聯。
21. 下列有關日本對中國的侵略史實，如：(甲)九一八事變(乙)盧溝橋事變(丙)一二八事變。上列歷史事件，依照時間先後排列，下列何者「正確」？ (A)甲→乙→丙 (B)乙→甲→丙 (C)丙→甲→乙 (D)甲→丙→乙。
22. 八年抗戰期間，中國從「獨自對日作戰」，轉變為「與英美等盟軍並肩作戰」，其中轉變的關鍵事件為何？ (A)九一八事變 (B)盧溝橋事變 (C)珍珠港事變 (D)南京大屠殺。
23. 第二次世界大戰期間，日軍以非人道手段，在所征服地區進行的各種暴行，下列何者敘述「不正確」？ (A)日軍 731 部隊在滿州國，長期執行活體實驗，造成數千人中國人、蘇聯人、朝鮮人死亡 (B)日本勞力短缺，徵用眾多朝鮮人民到軍艦島上開採煤礦，造成被徵召的朝鮮人民遭到非人道待遇 (C)在朝鮮和臺灣等地，一些婦女遭到日軍誘騙或強迫，充當「慰安婦」 (D)日軍為實現「大東亞共榮圈」的願景，在美國的珍珠港投下原子彈，造成大量平民的死亡。

※ 下課鐘響前不得繳卷

24. 歷史學界對這場「國際會議」的意義，至今仍有許多的討論，不過當時的國民政府在這場會議上，取得美國總統羅斯福的支持後，遂於會議的次年，設立了臺灣調查委員會，進行接收臺灣的準備工作，這也是國民政府對臺政策轉趨積極的重要開端。請問：上述的這場「國際會議」，應該是指下列何者？ (A)巴黎和會 (B)開羅會議 (C)雅爾達會議 (D)亞非會議。

資料一：「他」 3 歲登基，其父擔任監國攝政王。登基大典在太和殿舉行，他由父親抱著坐上寶座上的時候，看到龐大的場面和鼓樂喧天，被嚇得哭起來。父親不得不低聲哄勸：「別哭，一會兒就完了。」

資料二：1931 年，「他」在外國勢力協助下於東北再次登基，直至 1945 年再次宣讀退位詔書。

25. 請問：根據上述資料一與資料二的綜合判斷，「他」應該是指下列何人？ (A)溥儀 (B)周恩來 (C)袁世凱 (D)張學良。

26. 劉伯伯到四川九寨溝旅遊，途中看到一個石碑豎立於山坡上，上面記載所謂中共紅軍突破國軍包圍後的「二萬五千里長征」。請問：此石碑所記載的「二萬五千里長征」，其歷史背景為何？ (A)蔣中正誓師北伐，完成統一 (B)紅軍接受蘇聯協助前往東北，接收日軍占領區 (C)國民政府對中共發動五次的圍剿 (D)日軍進占長江流域，紅軍突圍至陝西北部。

【題組一】1920 年代至 1940 年代，因為國民黨與共產黨的競爭與合作關係，所以發生許多重大歷史事件，進而影響當時中國的政治發展與演變。請依此回答 27~30 題：


27. 民國八年的「五四運動」後，孫中山為了討伐軍閥、建立一支忠於國民黨的革命武力，最後決定接受哪一個國家的援助？ (A)日本 (B)美國 (C)英國 (D)蘇聯。

28. 西元 1920 年代，廣州「國民政府」的北伐軍事行動，一開始頗有新獲，但是在民國 16 年時發生何事後，蔣中正正在南京另組「國民政府」？ (A)共產黨的成立 (B)國共決裂 (C)西安事變 (D)二萬五千里長征。

29. 下圖(一)與圖(二)分別是「同一個事件」中，但是由立場不同的兩方所寫出的新聞。請問：在這個事件之後，國民政府決定改採何種政策？ (A)「停止內戰、一致抗日」 (B)「攘外必先安內」 (C)「外爭主權、內除國賊」 (D)「打倒軍閥、統一中國」。



圖(一)



圖(二)

30. 西元 1940 年代，八年抗戰結束後，國共雙方為了爭奪日軍占領區，掀起全面內戰，至國民政府宣布全國「動員戡亂」，最後國軍在戰場上一再失利，中華民國政府則遷往台灣。請問：上述的「國共內戰」，造成國民政府失敗的原因敘述，何者「不正確」？ (A)官員貪污腐化頻傳，使人民對政府不信任 (B)政府未能妥善解決通貨膨脹問題，物價飛漲，民怨四起 (C)在戰場上國軍不斷失利，而且財政金融全面崩潰，引發社會的動盪恐慌 (D)中共獲得美國的大力支援，軍隊實力已經可以抗衡國民政府。

※ 下課鐘響前不得繳卷

姓名：

P.4

【題組二】依據孫中山的《建國大綱》一書，中華民國的建國程序一共分為軍政時期、訓政時期以及憲政時期；而隨著國民政府的北伐完成與統一，建國大綱的理念與規劃，開始在中國的土地上實現。請依此回答 31~33 題

31. 下列表格中「○○○○」，應該是指當時的哪一個政黨團體？ (A)臺灣民眾黨 (B)民主進步黨 (C)中國國民黨 (D)中國共產黨。

訓政時期約法中以黨治國條款		
性質	內容	條款目次
政權	「○○○○」全國代表大會代表國民大會行使統治權	30
組織權	「○○○○」中央執行委員會選任國府委員	72
解釋權	「○○○○」中央執行委員會解釋約法	85

32. 訓政時期，在南京國民政府的執政下，政府與民間分頭並進，在許多方面，推動各項現代化措施，實現孫中山先生的建國規劃，史稱「十年建設」。請問：下列有關「十年建設」的內容，何者敘述「不正確」？ (A)積極與各國協商各項條約內容，美、英等國因此先後與中國簽訂平等新約 (B)民間人士晏陽初等人，在地方上推動平民教育 (C)政府廣築鐵路、公路與發展航空運輸 (D)發行法幣，統一清末以來混亂的幣制。

33. 下列有關建國大綱的「軍政時期」、「訓政時期」、「憲政時期」三階段理念與歷史發展，下列敘述何者「不正確」？ (A)軍政時期的目標在打倒軍閥，完成中國的統一 (B)訓政時期開始於北伐完成後，憲政時期開始於國共內戰結束後 (C)民國 36 年 12 月 25 日，在國民政府主席蔣中正簽署下，正式實行憲政 (D)訓政時期以孫中山思想為黨國的最高準則。

34. 若依照下列四位同學所做的行為進行分析，何者的行為屬於「犯罪」？(A)玉敬騎乘機車未戴安全帽被處 500 元罰鍰(B)龍棋無正當理由跟追婦女被警方拘留(C)修瑜砸壞瑞恩的手機被判處社會勞動(D)庭毅不小心弄丟了若元的手錶被要求賠償。

35. 為了維護個人法益，入侵他人電腦或是以電腦程式干擾他人的電腦會受到刑罰的制裁。請問，下列何項罪的制定也是屬於維護個人法益的範圍？(A)軍人接受他國招待洩漏國防資料(B)將女友囚禁在家中衣櫃(C)詐騙集團偽造鈔票(D)為報復社會縱火焚燒國民住宅。

36. 為了讓監獄中的罪犯完成國民義務教育學歷，爾後能順利復歸社會，基隆市規劃課程輔導班，邀請國中老師至監獄授課，並鼓勵受刑人踴躍報考。請問，上述行為主要是為了達成刑罰的何種目的？ (A)矯正犯罪(B)處罰犯罪(C)預防犯罪(D)報復犯罪。

37. 就讀國小的馨玲在母親節時寫了一篇介紹媽媽的文章，但有一個地方出現問題，請幫她找一找在文章中哪個地方需要修正：

我的媽媽每天都很努力的工作。她上班的時候通常會穿著一件(A)黑底藍邊的長袍，坐在正中間聽很多人講話。媽媽的工作就是要懲罰做壞事的人，(B)媽媽不用找證據，警察叔叔和檢察官阿姨都會幫忙她找證據。我很喜歡檢察官阿姨，媽媽說：(C)檢察官阿姨的任務就是在法庭上擔任原告，幫助被欺負的人討回公道，所以檢察官在法院上(D)地位很高，比被告還要高。

38. 睿廷向朋友借了一部影集回家觀賞，影集內容與一件刑事案件有關，但因包裝盒破損，僅剩部分可以辨識，如下表所示。根據我國法律判斷，若將四張光碟片按照案件處理順序進行排列，何者正確？(A)丁丙乙甲(B)乙丁甲丙(C)丁乙甲丙(D)乙丙丁甲。

光碟	劇情說明
甲	...歷經多次開庭，地方法院即將做出判決....
乙	...他涉嫌殺人案被提起公訴，該如何面對接下來....
丙	...發監在即，未來的他將如何面對漫漫長夜....
丁	...警方根據各種證據，傳喚他進警局做筆錄...

39. 四位同學在討論八年級公民第四單元的課文內容，請問哪位同學敘述正確？(A)旺成：被害者不追究，但家屬仍向檢察機關提告屬於告訴(B)宥臻：被害者自行至地方法院提告屬於自訴(C)翊慈：犯罪嫌疑人在法院判決後承認犯行屬於自首(D)小揚：行人看到有人暈厥在路邊於是報警屬於告發。

※ 下課鐘響前不得繳卷

姓名：

P.5

綽號「台大宅王」的碩士張彥文在 2014 年砍殺前女友 47 刀並親吻屍體私處，當場遭到逮捕。一審依殺人、強制性交等罪判無期徒刑，二審不得易科罰金部分改判 21 年 6 月，更一審考量他和被害家屬在賠償上取得和解，減刑至 15 年。更二審認為張下手凶殘，金錢無法彌補被害人父母傷痛，仍判無期徒刑，褫奪公權終身；最高法院今駁回上訴，全案定讞。請問 40-42 題：

40. 文中判處的「無期徒刑」類型與下列哪些刑罰不同？(甲)拘留(乙)罰金(丙)死刑(丁)沒收。(A)甲乙(B)乙丙(C)丙丁(D)甲丁。
41. 下列敘述何者正確？(A)褫奪公權也是刑罰的一種，與沒收不同(B)根據文中敘述，殺人罪是可以進行和解的(C)犯罪者因犯行導致被害傷亡，是沒有權利在法院中進行任何陳述的(D)全案定讞後，由法官執行處罰。
42. 在刑事案件最終判決定讞前，即使是現行犯或是涉嫌重大的人，就算被逮捕、起訴，也不代表有罪。請問，這是法律的何項原則？(A)罪刑法定原則(B)無罪推定原則(C)程序正義原則(D)不告不理原則。

夢嬌是一位新手媽媽，有一日她開車載著二歲的女兒前往大型賣場買東西，將車輛停妥之後，夢嬌熄火將女兒留在車上，並告知女兒很快回來，不料今日結帳人數意外地多，比起以往延遲了將近 30 分鐘。

當時正值酷暑，女兒在車上很快地就因車內溫度過高而導致熱衰竭。路人經過時發現了已經昏厥的女孩，立即報警。警方到場之後破車救援，無奈救援無效，二歲幼女宣告不治。夢嬌聽聞之後當場崩潰痛哭，其他家屬也很快抵達現場，安慰著夢嬌。夢嬌在接受完警方的問詢之後返回家中，不久後就收到了地檢署的傳喚，夢嬌因過失致死罪被移送，有可能遭到起訴。家屬聞聽相當驚訝，立即前往警局抗議，表示並未要追究此事，為何還可能被告？警方表示移送或起訴的程序都是依法規定，他們也必須依法行事。請問 43-45 題：

43. 文中畫線處的依法規定，是指何項法律？(A)刑法(B)刑事訴訟法(C)民法(D)憲法。
44. 文中所提到的「移送」，與刑事案件處理的哪一階段相同？(A)法庭進行審理(B)依法執行社會勞動(C)檢察官訊問被告(D)原告提起自訴。
45. 下列選項敘述正確的有哪些？(甲)警察沒有起訴犯罪的權力(乙)過失致死罪屬於非告訴乃論(丙)此案只要家人不追究，就算起訴也可以進行訴訟上和(丁)地檢署隸屬行政院法務部。(A)1 項(B)2 項(C)3 項(D)4 項。

17 歲的堂郁某天酗酒後騎乘父親的重型機車在外遊蕩，結果在過彎的時候因超速失控，滑到對向車道衝撞一輛正在停等紅燈的汽車。汽車駕駛沒有受傷，但是車頭毀損，引擎蓋嚴重凹陷，堂郁本人也因為這次意外而撞斷了腿，於是堂郁自行向警方提出傷害罪的訴求。警方進行現場勘驗之後，將相關物證交給甲單位，最後卻依不符合犯罪要件而以不起訴處分，反而堂郁不但被依公共危險罪起訴，還必須面臨賠償汽車駕駛修車費用的問題。請問 46-50 題：

46. 堂郁向警方表達要提起傷害罪的訴求屬於何項行為？(A)告訴(B)自訴(C)公訴(D)告發。
47. 文中屬於甲單位的職權範圍有下列幾項？(甲)受理報案，填寫三聯單(乙)輔助偵查(丙)提起公訴(丁)指揮判決的執行(A)甲乙(B)乙丙(C)甲丁(D)丙丁。
48. 不起訴汽車駕駛傷害罪的原因是基於法律的何項原則？(A)無罪推定(B)誠實信用(C)罪刑法定(D)不告不理。
49. 關於堂郁所需賠償汽車駕駛修車的費用，何者敘述正確？(A)堂郁為限制責任能力人，可以依法減輕賠償金額(B)賠償的問題不能和解(C)賠償屬於附加於主刑的從刑，與沒收相同(D)父母必須負連帶賠償責任。
50. 若堂郁的公共危險罪名成立，他需負擔的刑事責任與下列幾位相同？(甲)20 歲的瘖啞人文隆(乙)滿 16 歲已經合法結婚的兩宣(丙)13 歲就讀國一的恩如(丁)65 歲的阿土伯(戊)82 歲受監護宣告的李爺爺。(A)1 位(B)2 位(C)3 位(D)4 位。

題目很多，請小心作答，加油！