

※ 下課鐘響前不得繳卷

班級：

座號：

姓名：

P. 1

請用 2B 鉛筆作答，並且務必記得在答案卡寫上及塗上個人資料

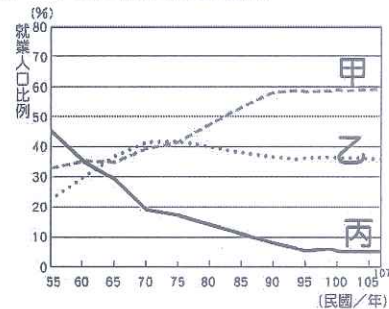
1~17 題地理，18~33 題歷史，34~50 題公民，共 50 題，每題 2 分，滿分 100 分

【地理】

1. 臺灣長久以來一直是多元族群活躍之地，除了原住民，也包容了漢人及新住民，形成多元文化的社會。請問：下列關於臺灣各族群的組成特色，何者正確？(A)最早定居臺灣的族群為漢人 (B)臺灣國際移工的第一大來源國是越南 (C)臺灣的外籍配偶以來自中國的比例最高 (D)原住民為臺灣人數最多的族群。

2. 右圖為臺灣歷年三級產業的就業人口比例的變化圖，下列各種職業與圖中產業類型的配對，何者錯誤？

(A)Uber Eats 的外送員→甲 (B)竹科工程師→甲 (C)建築工人→乙 (D)酪農業者→丙。



3. 「桃園近海堪稱臺灣最佳的漁場之一。竹圍以南沿海發育著全長 27 公里的藻礁生態系，過去因污染少，大片藻礁讓小魚利用孔隙產卵，魚量豐沛，早年物資缺乏，沿海居民還常在此抓螃蟹、撿珠螺，彷彿天然的海鮮儲藏室。其外海是烏魚最早流經的臺灣海域，秋冬時，烏魚要尋找溫暖的地方產卵，就會順著洋流由北方南下來到臺灣的西部海域，是臺灣近海漁業的重要漁獲。」請根據上文判斷，下列敘述何者正確？

(A)桃園居民在沿海抓螃蟹、撿珠螺屬於近海漁業 (B)捕捉烏魚的作業海域是在離岸 0~12 哩的範圍 (C)烏魚是隨中國沿岸流流經臺灣海峽 (D)桃園外海海底有廣大的大陸棚，為重要魚場。

4. 右表為 2017 年臺灣對美國、中國、南韓、日本四個貿易對象的貿易統計表，依據表中資料判斷，下列哪一個臺灣貿易情況的敘述是正確的？

國家	甲	乙	丙	丁
貿易額				
進口額 (億美元)	419	302	168	500
出口額 (億美元)	208	369	147	890

(A)臺灣該年總貿易額成長率是 16.5% (B)臺灣對乙國的貿易是入超 (C)臺灣對甲國的貿易總額最大 (D)丁國最有可能是中國。

5. 右圖為臺灣北部、中部、南部、東部四個區域的分區圖，下列關於各區的工業發展特色，何者正確？

(A)甲區有臺灣最早成立的加工出口區 (B)乙區是臺灣最大的工業地帶 (C)丙區是臺灣的重工業中心 (D)丁區的科學工業園區最近幾年才成立。



6. 臺灣農業經營採取集約耕作的方式，畜牧則採取欄牧的方法，都與下列何項因素關係最密切？

(A)人口密度大 (B)交通四通八達 (C)因應市場需求 (D)生產技術先進。

7. 臺灣地區的箱網養殖事業自民國六十年代末期在澎湖地區開始萌芽發展，經過多年的發展，已初具規模，下列關於臺灣箱網養殖漁業經營的特色，何者正確？

(A)除澎湖外，在臺灣西南部的屏東沿海一帶也有發展 (B)利用地下水養殖，可降低成本 (C)解決了水源污染問題，可永續發展 (D)屬休閒漁業的一部份。

8. 臺灣在 2002 年加入世界貿易組織，開放農產品市場，使本土農業面臨重大衝擊，下列何者是臺灣在農業發展上較無法與國外農產品競爭的最主要原因？

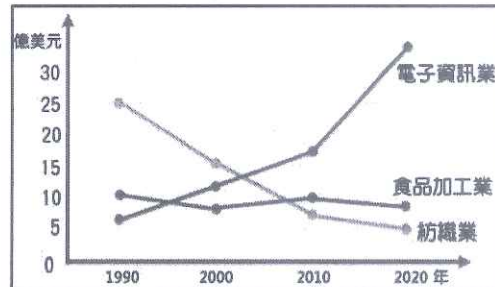
(A)臺灣氣候不利發展農業 (B)規模小，生產成本較高 (C)農產品價格偏低，利潤低 (D)農業污染嚴重，品質下降。

9. 「2020 年新冠肺炎(COVID-19)疫情爆發，民眾因為擔憂感染肺炎，減少外出進行『面對面』消費的行為，另一方面，臺灣網際網路的普及，消費者可以隨時隨地使用電腦、手機或平板上網、瀏覽資訊等，便利性大幅提高。」上文是節選某商業雜誌的一段報導，若是要為這段文字下一個標題，以下列何者最佳？

(A)無店鋪銷售方式蓬勃發展 (B)以量制價的時代來臨 (C)大賣場商機無窮 (D)零售業和批發業的合作與競爭。

10. 右圖是某國三種產業歷年產值的變化趨勢圖。從圖中資料研判，該地區的工業發展具有下列何種特徵？

(A)該國經濟發展目前以民生工業為主 (B)該國工廠有愈來愈分散的趨勢 (C)工業發展的比重已超過服務業 (D)技術和資本在工業中所占的比例愈來愈高



11. 「2021 年 4 月 BBC 以『為什麼世界需注意臺灣的乾旱』為題撰文，指出臺灣面臨 56 年來最嚴重的乾旱，○○地區的寶山第二水庫，蓄水量也達到有史以來最低，只有 7%。主要全球 90% 的先進晶片都是由臺灣製造，○○地區為臺灣高科技重鎮，若因缺水導致停工可能對全球晶片電子產業產生危害，故備受世界矚目。」上文中的○○地區應是指下列哪一個縣市？

(A)臺北 (B)高雄 (C)臺中 (D)新竹。

※ 下課鐘響前不得繳卷

班級：

座號：

姓名：

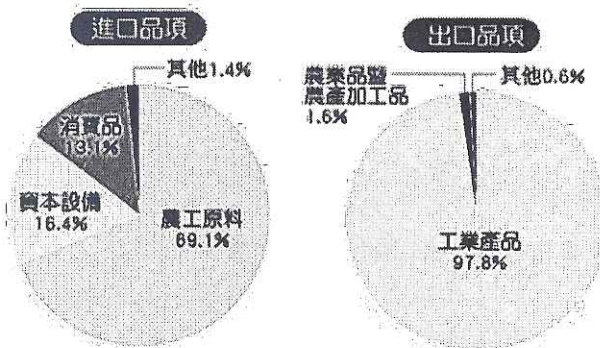
P.2

12. 臺灣工業發展可分為四個階段，下列關於各階段工業發展的重點，何者正確？

	時間	發展重點
(A)	民國 40 年代以前	鋼鐵工業
(B)	民國 50 年代	生技醫藥
(C)	民國 60 年代	石化工業
(D)	民國 70 年代以後	民生工業

13. 工廠選擇適當的設置地點，能為企業降低生產成本，創造出更大的利潤，因相似類型的工業，會選擇相似的工業區位。請問下列哪一組工業的設廠區位是相同的？(A)麵包、鮮奶 (B)蔗糖、冰淇淋 (C)鋼鐵、電子加工 (D)成衣、果醬。

14. 右圖是民國 106 年臺灣進、出口品項圓餅圖，由圖判斷，臺灣的經濟發展與國際貿易有下列哪一項特色？(A)該年臺灣貿易為出超 (B)臺灣相當依賴國外的原料及市場 (C)高科技工業為臺灣經濟發展的主力 (D)因工業發展，臺灣農村人口外流嚴重。



◎ 鳳梨原產地在中南美洲，引進臺灣後，高屏地區為主要產地，早年曾是臺灣水果加工之王，高雄鳳山的鳳梨罐頭工廠，日治時期即已成立。鳳梨罐頭的出口，曾支撐臺灣上萬家庭的經濟，最輝煌時年產值高達 120 億台幣。直到 1980 年代工商業快速發展，農村人口流向都市，缺乏勞工且工資上揚，於是不少工廠選擇外移，鳳梨加工因而沒落。近年臺灣鳳梨約有 10% 外銷，其中 97% 輸往中國。臺灣銷往中國的鳳梨多為「金鑽鳳梨」，雖然售價較高，但主打皮薄、香味濃、肉質纖細、果芯可食用，深重中國民眾喜愛。但中國在 2021 年 2 月 25 日以臺灣鳳梨有病蟲害為由，宣佈 3 月 1 日起暫緩進口，農委會隨要求中國提科學證據，卻一直沒有提供，農委會也到產區去找，目前仍未發現介殼蟲的實證。故此禁令激起熱烈討論，引出究竟是商業抑或政治因素干擾等重要話題。中國片面宣布禁止進口臺灣鳳梨，行政院長蘇貞昌呼籲國人支持國產水果，國營事業如台酒等，也將加入「水果國家隊」，研發多種鳳梨製品，如鳳梨餅乾、果醬、果乾等，並將持續以獎勵方式會開拓中國以外的市場，譬如日本、新加坡、澳洲等地。請問：

15. (甲)鳳梨出口屬於臺灣國際貿易的一部份(乙)臺灣鳳梨的商品化程度高(丙)與中國的鳳梨交易呈入超的狀況(丁)「金鑽鳳梨」應屬精緻農業(戊)以有機方式栽種提高產值。根據文中描述，目前台灣的鳳梨產業具有上述幾項特色？(A)2 (B)3 (C)4 (D)5。
16. 早期鳳梨罐頭工廠會選擇在高雄鳳山設廠，與下列哪一種工業選擇的設廠區位條件一樣？(A)玻璃工廠 (B)煉鋁工廠 (C)水泥工廠 (D)製鞋工廠。
17. (甲)出口過度依賴單一市場，風險大(乙)農業勞動力流失，勞力老化(丙)產業單一化，缺乏應變能力(丁)他國廉價鳳梨的競爭。根據文中所述，臺灣目前的鳳梨產業面臨哪些困境與挑戰？(A)甲乙 (B)乙丁 (C)丙丁 (D)甲丙。

【歷史】

18. 右側是日治時期學齡兒童(6-12 歲)就學率簡表，西元 1940 年代，臺人就學率的攀升極有可能與下列何項政策有關？

西元	臺人就學率	日人就學率
1904 年	3.8%	67.7%
1914 年	9.1%	94.1%
1920 年	25.1%	98.0%
1930 年	33.1%	98.8%
1940 年	57.6%	99.6%
1944 年	71.3%	99.6%

- (A)尊重臺人意願採取差別待遇原則 (B)因應南進政策強化實業教育發展
(C)配合皇民化運動實施六年義務教育(D)設置台北帝國大學帶動升學風潮。

19. 日治時期設置的中學校以招收日人為主要，西元 1915 年，部分台灣仕紳為爭取臺人受教育的機會，成立了下列哪所專收臺人子弟的教育設施？(A)國語講習所 (B)臺中中學校 (C)嘉義農林專門學校 (D)國語師範學校。

※ 下課鐘響前不得繳卷

班級：

座號：

姓名：

P.3

西元 1920 年代起，臺灣出現一群致力於啟迪民智、爭取民權與地方自治的知識份子，如林獻堂、蔣渭水、賴和等人，他們以請願、集會、演講等合法的手段，推動長達十餘年的政治社會運動，喚起臺人的民族意識，《台灣新民報》還曾舉辦模擬投票有獎徵答活動，請讀者猜猜誰會當選、得票數多少。直到西元 1930 年代後期，隨著國內外局勢的變化，這些政治社會運動才逐漸銷聲匿跡。請回答第 20-21 題：

20. 此長達十餘年的政治社會運動，其開始與沉寂各與哪一事件有關？
 (A) 一戰後民族自決風潮影響；皇民化運動的推行 (B) 甲午戰敗臺民武裝抗日；第二次世界大戰結束
 (C) 日本國內要求民主的聲浪高漲；第一次世界大戰爆發 (D) 中日戰爭的爆發；第二次世界大戰結束。
21. 當時這些運動對臺灣社會所帶來的影響包括哪些？(甲)經多次請願終於成功設置臺灣議會(乙)出現台灣史上第一個合法政黨(丙)臺灣人民首次行使投票權選舉地方民意代表(丁)公民直選總統實現第一次政黨輪替。
 (A) 丙丁 (B) 甲乙 (C) 甲丁 (D) 乙丙。

二二八和平紀念公園，原名臺北新公園，日治時期闢建的都市公園，因其興建與落成晚於圓山公園(臺北第一座大型公園)，故命名為「新公園」，西元 1915 年完工成為後成為市民休閒活動的好去處。中華民國政府接收臺灣後，因隨之而來的政治、經濟動盪，引發政府與人民間的矛盾衝突，西元 1947 年 2 月 28 日下午臺北民眾衝入公園內的「臺灣廣播公司」廳舍，對外廣播發出控訴，掀起全臺反抗活動的序幕，臺灣省行政長官也多次於該電臺透過廣播向民眾喊話，使得新公園與二二八事件的發生產生歷史關聯。西元 1996 年 2 月 28 日，適逢豎立於公園內的和平紀念碑正式揭碑，基於歷史上的意涵，新公園改名為「二二八和平紀念公園」，成為一個追溯歷史、撫平傷痛的紀念公園。請回答第 22-23 題：

22. 追溯此公園興建的緣由，最可能與日治時期哪一方面的變遷有關？ (A) 供奉日本神祇、參拜神社 (B) 引進西方司法制度，培養法治觀念 (C) 都市的發展與星期制作息 (D) 倡導解放纏足、剪除辮髮等觀念。
23. 有關公園內「和平紀念碑」碑文上所敘述事件的說明，下列何者不正確？
 (A) 此衝突發生於國民政府遷台後 (B) 該事件爆發時的行政長官是陳儀 (C) 導火線是查緝私菸時誤殺市民，民眾前往抗議卻遭當局射殺 (D) 民眾控訴政府的內容包括官員貪污腐化、經濟惡化、物價飛漲。

1947 年，政府下令「動員戡亂」，意指動用全部人力及資源，以支援軍事行動平息叛亂，次年國民大會制訂《動員戡亂時期臨時條款》，明確規範在國家遭遇重大變故時，總統得經行政院會決議做緊急處分，不受憲法原訂程序之限制。1949 年 5 月台灣省政府主席兼警備總司令○○為維護社會治安，發布公告，限制人民言論、集會、結社等自由權，同年 12 月戡亂失利的中央政府遷至臺灣，為爭取國際支持，自隔年起有限度地開放人民參政。請回答第 24-26 題：

24. 《動員戡亂時期臨時條款》是為因應哪一場動亂而制定？
 (A) 甲午戰爭 (B) 中日戰爭 (C) 二二八事件 (D) 國共內戰。
25. 上文中「○○」欄位應是何人？所頒布政令的主要目的為何？ (A) 陳儀；擴大行政長官公署的職權 (B) 陳誠；防範共產思想滲透及傳播 (C) 柏楊；平息地方反政府的聲浪 (D) 連戰；壓制黨外民主運動的發展。
26. 「有限度開放人民參政」是指戒嚴期間人民可以直接選舉下列哪些地方首長及民代？
 (A) 立法委員、國民大會代表 (B) 正、副總統 (C) 縣市長、縣市議員 (D) 直轄市長、省政府主席。

樂信瓦旦，出生於 1899 年，泰雅族賽考列克群人，九歲時進入角板山蕃童教育所讀，兩年後轉入桃園尋常高等小學校，在總督府刻意栽培下畢業於臺灣總督府醫學校(今國立台灣大學醫學院)，1921 年 10 月返回部落，擔任駐守角板山、尖石等地區的公醫，一面從事現代醫療，傳授族人助產知識，一面協調族人與日人的關係，1929 年娶了日本妻子後改名為日野三郎。1945 年，中華民國接收臺灣、澎湖，他又改名為林瑞昌，曾擔任第一屆省參議員及臨時省議員。1949 年在「高砂族自治會」擔任主席，常提案爭取族群權益，如增加原住民民意代表名額、設置山地行政管理局、協助復興山地農村生活等，1952 年因為主張政府應該歸還原住民被占領土地，被臺灣省保安司令部指控為宣揚共產主義，與鄒族的高一生、湯守仁等人依「高山族匪諜案」罪名逮捕下獄，於 1954 年 4 月 17 日遭政府處決。請問：

27. 樂信瓦旦早年的求學階段，反映日治時期原住民社會的何種現象？ (A) 貫徹教育隔離政策有效抑制武裝抗日 (B) 透過醫療與教育改變原住民傳統文化 (C) 採取劃界封山措施有助於復興原住民族群 (D) 理蕃政策造成原住民土地的流失。
28. 他的第二次改名，應與下列哪一政策或事件有關？
 (A) 日治初期的林野調查，開始以族劃分原住民 (B) 推行皇民化運動，要求說國語、改姓名
 (C) 山地平地化政策，維護其語言傳承及固有命名方式 (D) 國民政府遷台後，政府要求說國語、改漢姓。
29. 政府遷臺後設置了「原住民保留地」，何以上文中樂信瓦旦等人仍「主張政府應該歸還原住民被占領土地」？
 (A) 政府未改變日治時期以來原住民土地為國有地的屬性 (B) 受到共產黨煽動、滲透影響
 (C) 欲擴大原住民生存領域，捍衛傳統文化 (D) 開放買賣私有土地，山區生活條件惡化。

〈請接續作答〉

※ 下課鐘響前不得繳卷

班級：

座號：

姓名：

P.4

公視影集《天橋上的魔術師》改編自作家吳明益的同名小說，劇情中暗藏許多過往歷史情景：如柴家書店的老闆經常偷偷印製、販售違禁書籍，柴家雙胞胎女兒的同學阿蓋在夢遊時，以為自己進入到廟口石獅子的身體裡，透過牠的眼睛窺見鄰居們的秘密，最終柴家被軍警盯哨，情治人員查捕之際意外引發火災，柴家人中僅雙胞胎中「珮珮」一人存活。導演藉此影射 1980 年的「林宅血案」，當時黨外人士林義雄因參與「美麗島事件」被起訴。在他第一次接受軍法審判時，兇手潛入林家殺害其母親、長女與一對雙胞胎幼女，最終僅有林家長女存活，至今這起謀殺事件至今沒有偵破。請回答第 30-31 題：

30. 劇中石獅子其實是台灣憲兵的象徵，阿蓋夢遊時窺見鄰居們的秘密，便是暗喻到處都有執法的憲兵隊在監視著所有人的一舉一動。此場景是在講述臺灣哪個時期的社會現況？
 (A)戰後臺灣光復時期 (B)戒嚴期間的白色恐怖 (C)皇民化運動時期 (D)終止動員戡亂時期。
31. 關於林義雄遭軍法審判之「事件」的敘述，何者不正確？
 (A)該事件發生於 1979 年 (B)民眾與憲警發生激烈衝突的地點在高雄
 (C)遭到逮捕的「黨外人士」是指民主進步黨黨員 (D)時值國內經濟、教育迅速發展，人民對政治民主的要求提高。

民國 79 年 3 月，國會通過延長增額國代任期三年，引起輿論撻伐，一群大學生聚集在中正紀念堂（今自由廣場）靜坐抗爭，向政府提出解散國民大會、廢除《臨時條款》等訴求，同年 6 月，李登輝總統回應學運訴求召開「國是會議」，隔年，國大臨時會完成第一階段的修憲，廢除《臨時條款》、宣告終止動員戡亂。請回答第 32-33 題：

32. 這起大學生在紀念堂前廣場合法抗爭、靜坐抗議的集會，與何項措施關係最密切？ (A)政府宣布解除戒嚴 (B)立院三讀通過《促進轉型正義條例》 (C)完全落實地方首長直接民選 (D)政府下令動員戡亂。
33. 下列哪些事件能展現在這場學運過後，台灣的民主政治更加落實？(甲)實施中央民意代表全面改選 (乙)開放省長與直轄市市長直接民選(丙)黨外人士成立民主進步黨(丁)人民直接選舉正副總統。
 (A)甲乙丙 (B)乙丙丁 (C)甲丙丁 (D)甲乙丁。

【公民】

34. 對於社會規範的主要含義，下列哪一位同學說的不正確？
 (A)社社：法律原則上只能規範人的外在行為 (B)會會：風俗習慣是人類生活中長久累積的一種社會規範
 (C)規規：要維持社會秩序的穩定，須仰賴各種社會規範相輔相成 (D)範範：倫理道德強調人與上天的關係
35. 不同文化接觸時，常會因為刻板印象及資源權力分配不均，而使文化之間產生高低優劣的區別。下列敘述中何者沒有隱含這樣的概念？
 (A)應透過文化交流檢視文化內涵並去蕪存菁 (B)次文化是異於主流文化的獨特文化
 (C)白種人有義務協助其他文化越來越進步 (D)次文化會造成社會上秩序混亂
36. 臺灣行動電話普及率高居世界前列，但公共場所中因不當使用手機而干擾他人的現象也隨處可見。上述現象顯示何種社會規範的重要性？ (A)宗教戒律 (B)群己倫理 (C)風俗習慣 (D)環境倫理
37. 甲、漢字從商代的甲骨文，演變成周代的大篆、小篆，於此基礎上再演進成隸書、楷書、行書等各種形式。乙、世界各地因為地形、緯度等差異，會有不同的氣候，不過都會形成適合當地人們的不同居住設計。上述兩段文沒有出現哪個文化的特性？
 (A)約制性 (B)差異性 (C)普遍性 (D)累積性
38. 新的規定出現時，常常會有「上有政策，下有對策」的現象，外在的行為表現不違反(甲)，但關於人與人互動標準的(乙)並未改變，距離社會秩序的和諧穩定仍有一段路。請問下列敘述何者正確？
 (A)甲應是指法律，乙應是指風俗習慣 (B)若要改善社會秩序，甲與乙必須相輔相成
 (C)為了穩定社會，應使甲的規範擴及內心層次 (D)甲與乙都是由國家經過一定程序制定的
39. 社會規範代號：甲—風俗習慣、乙—倫理道德、丙—宗教信仰、丁—法律
 (1)警察依據《道路交通管理處罰條例》對小叡開了一張闖紅燈罰單
 (2)小宇每週日會至教會做禮拜，小摩每天都會向聖地麥加朝拜五次
 (3)小蔚：「端午節就該吃南部粽，北部粽只是 3D 立體油飯」
 (4)小均：「曾經被插過隊，感覺很差，每個人都應該好好排隊。」
 請問上述(1)~(4)依序出現的社會規範代號為何？
 (A)丁、甲、乙、丙 (B)丁、乙、甲、丙 (C)丁、丙、甲、乙 (D)丁、丙、乙、甲
40. 關於正式規範與非正式規範的比較，下列敘述何者正確？
 (A)前者包含法律及倫理道德，透過一定程序制訂而成 (B)前者具有強制力，處罰的力道可能較重
 (C)前者功能在啟發良知，後者則以外在行為的修正為主 (D)只需致力發展其中一項，就可穩定社會和諧

<請接續作答>

※ 下課鐘響前不得繳卷

班級：

座號：

姓名：

P.5

41. 「關於性別、性傾向議題的討論，讓我們有機會認識每個人不同的樣貌，進而建立一個和諧、互相尊重的社會。自 1990 年世界衛生組織將同性性傾向從精神疾病中除名後，2019 年台灣終於通過同性婚姻保障的法律，但兩年過去了，霸凌、歧視、仇恨及不了解仍然頻頻發生，許多人仍然活在恐懼及不自由的氛圍。」根據上述內容，下列哪個選項錯誤？
(A)欲達到社會和諧，只依靠法律可能不足以完成 (B)法律屬於正式規範，可影響不合時宜的非正式規範做出改變
(C)上述提及的社會規範包含法律及倫理道德 (D)法律具有強制力，能夠使人們真心學會互相尊重
42. 現在的臺灣無庸置疑是一個多元文化的社會，各族群來自不同的文化背景。
請問：下列何種態度最有助於營造多元文化社會？
(A)評定各文化的等級，給較低等的文化多一些補助 (B)每個人優先肯認自己的文化
(C)盡力將弱勢文化加以轉化為主流文化 (D)以法律強制規定每個文化的生活方式
43. 假日的校園是開放空間，但使用操場的民眾及學生卻將飲料、零食的垃圾隨手丟棄，造成負責清潔的班級負擔。
請問下列何者的提議對於改善此現象較沒有幫助？
(A)制定相關法律，設置監視器，對違規者開罰
(B)以行動劇演出的方式，喚起居民對於人及環境互動的倫理意識
(C)分析亂丟垃圾的人來自什麼種族，並公告禁止該種族的人進入
(D)組成假日環保義工隊，以實際的行動向民眾表達我們的重視
44. 新聞報導寫道：一名信仰伊斯蘭教的印尼籍幫傭，因遭到雇主強迫吃豬肉，甚至禁止其每天五次膜拜的行為，所以自雇主任處逃離而失聯，形成另一環社會隱憂。請問：該名移工因為戒律而不吃豬肉，是因為哪一種社會規範影響？
(A)倫理道德 (B)風俗習慣 (C)法律 (D)宗教信仰
45. 承上題，針對這則新聞，下列哪個同學的反思並沒有站在保護多元文化的角度？
(A)源源：「雇主沒有尊重不同的文化內涵，可能導致社會產生更多衝突。」
(B)冠冠：「我們應該先避免直接批評任何一方，先釐清雇主本身的信仰狀況後再共同討論。」
(C)睿睿：「政府應該制定法律保障任何國籍的勞工在台灣的基本權利。」
(D)宸宸：「幫傭的宗教信仰比較低劣，雇主有責任陪他改正。」

<46-47 為題組>

鮭魚之亂與原住民姓名權

日前壽司店推出名字含有「鮭魚」二字者，可免費享用餐點，吸引許多人改名響應。於是有人討論著，如何改名最划算？是否要將各式海鮮、遊樂園一起加入名字？另外也有人關注到目前法律規定每人原則上限改名三次，要省著點用。

該現象也引起社會上對於「姓名」代表的意義有不同想法。有人認為姓名是乘載著家族的期待，應莊重看待；也有人認為姓名是代表每個獨立個體，而每個人都應該是自由的人、自己的主人。

這些鑽研與爭執，在「他們」的眼裡看起來都是奢侈。對於在台灣的原住民而言，姓名這件事並不輕鬆，過去他們只能以聲音相近的漢字作為身分證上姓名的表示，經歷修法後，開放以漢字加上羅馬拼音並列呈現，但仍不能僅以羅馬拼音或族語呈現。當時的政府面對抗議僅回應：「原住民族使用族語姓名會造成社會困擾，根據憲法 23 條，為增進公共利益之必要，得以限制之。」這樣的解釋，無疑對原住民族是再次的傷害。

46. 依據上文描述，下列誰說的不對？
(A)娟姐：「姓名只能改三次的規定，屬於正式規範」
(B)諾諾：「因為生活經驗所累積對姓名的看法，其社會規範類型與『舉頭三尺有神明』一樣」
(C)淵哥：「語言、文字使用的差異，是因為族群與生活環境不同」
(D)軒軒：「不同的族群為了生活在一起，必須討論出共同能接受的社會規範，而法律是其中最具約制性的」
47. 下列何人的發言沒有從多元文化的角度反思這件事情？
(A)昕昕：「雖然原住民族處於相對弱勢，但他們更需要肯認自己的文化，不要放棄。」
(B)湯湯：「為了落實尊重與包容，制定法律時，我們應該具備換位思考的能力。」
(C)安安：「為了整體社會的公共利益，減少互動上的不便，原住民族的犧牲是必須的。」
(D)寧寧：「漢人可以自由改變姓名，對照上原住民族連名字都還找不回來，著實讓人感到文化位階帶來的不平等影響。」

<請接續作答>

※ 下課鐘響前不得繳卷

班級：

座號：

姓名：

P.6

<48-50 為題組>

- 甲、2021/5/7 司法院公佈了〈釋字第 803 號解釋文〉，針對王光祿等案所牽涉的原住民族狩獵文化、動物保育、槍枝管理等規範爭議進行解釋。最後的決議內容，可以看到大法官肯定原住民的狩獵文化是憲法所保障之基本權利，但關於「必須使用自製獵槍」、「不能狩獵保育類動物」等決議，仍存有許多不同意見。
- 乙、2019 年臺灣通過了保障同性婚姻的法律，雖然社會上仍有許多的不理解，但人們的傳統觀念慢慢出現改變。由於同性婚姻專法並非每個國家都有建立，導致跨國同性伴侶的結婚權利仍然遭到限制，未來仍須更加努力。
- 丙、過去我們將身體或心智有缺陷的人稱為「殘障者」，認為照顧他們是出自「慈善的福利」；2007 年我們將《身心障礙者保護法》修改為《身心障礙者權益保障法》，試圖提醒我們重新反思「障礙」出現的原因，改變人與人的互動關係。

48. 觀察上述三段敘述中，各種社會規範的互動過程，下列何種狀況並未提及？
- (A) 甲段是風俗習慣與法律規範的衝突 (B) 乙段可用來說明「維護社會和諧不能僅靠單一種規範」
- (C) 丙段的過程試圖透過倫理道德的改變來影響法律規範的調整 (D) 三段敘述皆呈現出不同的社會規範會互相影響
49. 哪些敘述中有出現具備約束力的正式規範？
- (A) 甲乙 (B) 乙丙 (C) 甲丙 (D) 甲乙丙
50. 幾位同學試圖從上述內容歸納出一些結論，誰說的不太對？
- (A) 丞丞：「社會規範有可能會隨時間、地點而有差異。」
- (B) 甯甯：「法律是具有強制力的正式規範，能夠帶來強力的保障，但若設計不當，傷害也非常大。」
- (C) 謙謙：「法律對於不合時宜的非正式規範能發揮影響力。」
- (D) 和和：「法律具有強制力，不會被非正式規範所影響。」

<作答完畢，請再次檢查畫卡是否有誤>