

1~17 題地理, 18~33 題歷史, 34~50 題公民 請用 2B 鉛筆作答, 將答案畫至答案卡上。

P.1

共 50 題, 每題 2 分, 滿分 100 分

地理

- () 1. 「洋食, 日文發音 Yoshoku, 是日本式西餐。自古以來, 日本人就積極吸取外國飲食文化, 並將之昇華為自己喜愛的風格。例如明治初期因為追求西化, 再加上對法國料理的嚮往, 日本人開始積極學習烹調並品嚐西方料理, 更將食用方式與味道改成日本人習慣的模式, 如使用筷子、利用味噌與醬油調味、與米飯搭配等等, 這些重組改造構築奠定了今日日式洋食的風貌。」對於上文這種現象的說法, 下列何者最為正確? (A) 日本文化具有東西方特色 (B) 日本文創產業蓬勃發展 (C) 日本受文化衝擊後, 傳統文化式微 (D) 日本文化具有強烈的排外性。
- () 2. (甲) 位於板塊接觸帶 (乙) 冬夏季風風向 (丙) 電子業發達 (丁) 出口導向為主的產業活動 (戊) 平原集中在西部。上述條件中, 屬於臺灣、日本、南韓三國共同點的項目有幾項? (A) 2 (B) 3 (C) 4 (D) 5。
- () 3. 「彭博資訊報導, 日本觀光局日前公布, 新冠肺炎疫情重創全球觀光業, 赴日遊客數驟降, 來自疫情重災區○○和□□的遊客分別暴減 88% 和 80%, 為遊客數大幅減少的主因。日本觀光客驟降, 也顯示各國實施的入境限制及航空業削減運量正在抑制旅遊, 並且衝擊全球觀光產業。」上文提的兩國為日本最大的觀光客來源國, ? (A) 美國、南韓 (B) 中國、南韓 (C) 中國、澳洲 (D) 美國、臺灣。
- () 4. 2021.03.20 NHK 報導, 日本東北部宮城縣沿海 20 日傍晚發生規模 6.9 強震, 日本氣象廳傍晚 6 時 11 分發出海嘯警報稱, 宮城縣沿海可能有高度一公尺高的海嘯, 傍晚 7 時 30 分解除警報, 但各地仍有萬名以上居民陸續撤離。日本氣象廳初步判斷, 這可能是 2011 年引起 311 東日本大地震的餘震, 提醒日本民眾仍須小心注意。? 右圖為關於此次地震的報導, 請問下列敘述何者正確? (A) 此次地震為印澳板塊、北美板塊互相擠壓所引發 (B) 震源位於宮城縣外海、太平洋上 (C) 地震引發的海嘯屬於外營力, 常造成重大損失 (D) 臺灣和日本位於同一個時區。
- () 5. (甲) 朝鮮半島居民有製作泡菜的飲食習慣 (乙) 日本溫泉廣布, 全國各地都有適合泡湯的去處 (丙) 精緻的壽司與魚料理成為日本傳統飲食文化特色 (丁) 靠近日本海的傳統聚落合掌村, 屋頂呈現三角形的斜頂造型 (戊) 朝鮮半島傳統民居多設置「溫突」, 居民習慣席地而坐。上述關於東北亞的地理特色中, 哪些項目的形成與「氣候」的關係最密切? (A) 甲乙戊 (B) 甲丁戊 (C) 丙丁戊 (D) 甲乙丙。
- () 6. 日本擁有許多知名的跨國企業, 例如優衣庫 (UNIQLO), 其總部設立於東京, 研發中心位於東京和紐約, 衣服等商品 90% 為中國生產製造, 擁有約 70 家合作工廠。請問: 日本積極進行海外投資與設廠, 並擴展跨國企業的最主要目的為何? (A) 獲取他國生產技術 (B) 減少國內失業率 (C) 與他國簽訂經濟合作條約 (D) 降低生產成本。
- () 7. 近年來日本因人口快速老化, 面臨老人照顧服務員嚴重短缺的問題, 為此, 日本集中研發機器人看護、外骨骼輔具等高科技醫療產業, 在世界上極具競爭力。請問: 多年來日本人口快速老化的主要原因為何? (A) 出生率一直偏低 (B) 死亡率持續下降 (C) 產業自動化的結果 (D) 失業率升高。
- () 8. 下列關於朝鮮半島地形特徵的敘述, 何者正確? (A) 北部地形以高原地形為主 (B) 整體地勢西高東低 (C) 主要河川多流入日本海 (D) 主要山脈- 白頭山脈位置偏半島東側。
- () 9. 南韓央行 1 月宣布, 2020 年的人均國民所得可能超越義大利, 在所得上南韓超越七大工業國集團 (G7) 的會員國, 證明了這個國家確實已加入成為富裕國家的一員。如同臺灣經濟從二戰後民生凋敝到現在科技發達, 南韓也是經過多年努力才有如今的成就。請問: 下列關於南韓經濟發展的敘述, 何者正確? (A) 早期以加工出口業吸引外資, 例如浦項鋼鐵集團的煉鋼廠 (B) SK 集團早期為南韓紡織業的領導企業, 帶動服務業的發展 (C) 現代集團成立現代汽車公司, 奠定民生工業的基礎 (D) 三星電子憑藉技術領先的優勢, 製造資訊科技等高附加價值產品。



背面尚有試題

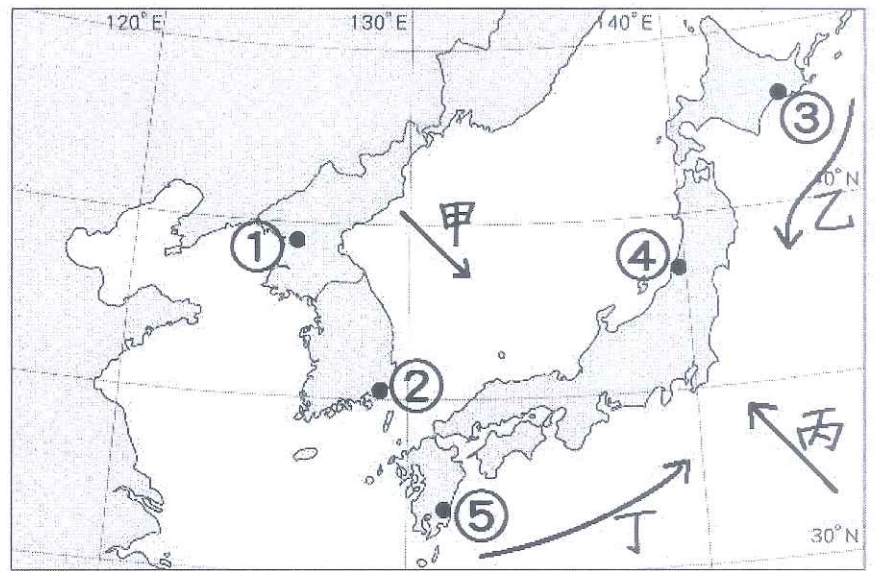
◎ 2020 年韓劇《愛的迫降》講述南韓富可敵國的財閥千金，因為一場飛行傘意外入境北韓，遇上北韓的軍官，兩個人逐漸愛上彼此的故事。劇中除了愛情劇不能少的情節外，各種北韓生活的描述，也吸引了觀眾目光。在《愛的迫降》裡，北韓人的生活跟南韓人天差地別，以往在資訊封鎖之下，北韓人僅能透過其它韓劇來了解南韓這個「資本主義王國」，建立自己的想像，可是反過來，南韓人自己其實亦不甚了解北韓這個近鄰，《愛的迫降》的出現勾起了南韓對北韓的好奇心：到底北韓人們怎樣生活？北韓是否真的如一般所說那樣黑暗、邪惡？即使是出於商業理由而有所跨大或扭曲也好，韓劇作為媒介，的確引發兩韓之間一種互為想像的關係。請問：

- () 10. 劇中女主角的飛行傘因意外由南韓入境北韓時，應該會越過下列哪一處分界？(A) 太白山 (B) 大韓海峽 (C) 北緯 38 度線 (D) 鴨綠江。
- () 11. 劇中女主角為南韓的財閥千金，家族財團富可敵國，影響了南韓經濟命脈，這反映了南韓的經濟資本集中於少數的大型財團的問題，造成此現象的主要原因是什麼？(A) 歐美跨國企業資金的投入 (B) 企業為求降低生產成本，故擴大規模 (C) 著重高科技工業導致的結果 (D) 因競爭力強，故政府刻意扶植。
- () 12. 南韓的娛樂影視產業相當發達，連續劇、綜藝節目、偶像團體等影音產品行銷世界各地，被稱為「韓流」現象，此現象甚至傳至北韓，有些人會冒著被抓判刑的風險，偷偷安裝天線接收中國電視台的訊號來觀賞韓劇。請問：下列何者與韓流現象較無關？(A) 屬於文化創新產業 (B) 可帶動南韓第三級產業的發展 (C) 規模過大，導致貧富差距擴大 (D) 發達的網際網路是促使此風潮的最大助力之一。
- () 13. 右列附表中，關於南韓、北韓兩國特色的比較，何者錯誤？

	(A) 政治體制	(B) 礦產	(C) 工業類型	(D) 首都
北韓	共產國家	煤、鐵礦豐富	民生工業	平壤
南韓	民主國家	缺乏天然資源	高科技工業	首爾

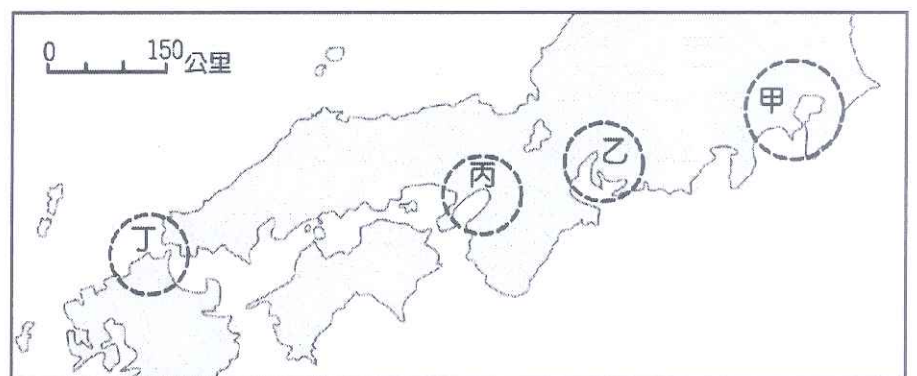
◎ 附圖為朝鮮半島與日本群島的簡圖，甲~丁為季風或洋流，①~⑤為都市，請根據附圖回答下列問題：

- () 14. 在日本「潮境」是指寒、暖兩水團的混合區，特別指西太平洋的黑潮與親潮的海水混合處，浮游生物孳生，吸引許多洄游魚類聚集，成為魚場。請問：黑潮、親潮分別是指圖中哪兩道洋流？(A) 甲、丙 (B) 丙、甲 (C) 乙、丁 (D) 丁、乙。
- () 15. 下列關於圖中 5 個都市氣候特色與成因的敘述，何者正確？(A) 冬季時，① 比④ 寒冷乾燥，主要是受大陸冷氣團影響 (B) 春季時，③ 的櫻花比⑤ 早開，主要是受緯度影響 (C) 夏季時，② 比① 的降雨量多，主要是受地勢高低影響 (D) 冬季時，④ 比③ 的降水量多，主要是受洋流性質影響。



◎ 附圖為日本的主要工業區位置圖，請問：

- () 16. 由附圖可知日本的工業區多在沿海地帶，顯現了日本經濟活動下列哪一項特性？(A) 日本的水力發電為唯一可自給自足的動力來源 (B) 日本企業需大量吸收國際基金，以維持企業的運作 (C) 國際貿易是日本經濟的重要命脈 (D) 日本工業區多屬勞工區位。
- () 17. 下列關於附圖四個工業區地理位置或範圍的敘述，何者錯誤？(A) 甲→屬於京濱工業區 (B) 乙→位於近畿平原上 (C) 丙→主要都市包括大阪、神戶等 (D) 丁→最接近南韓的釜山港。

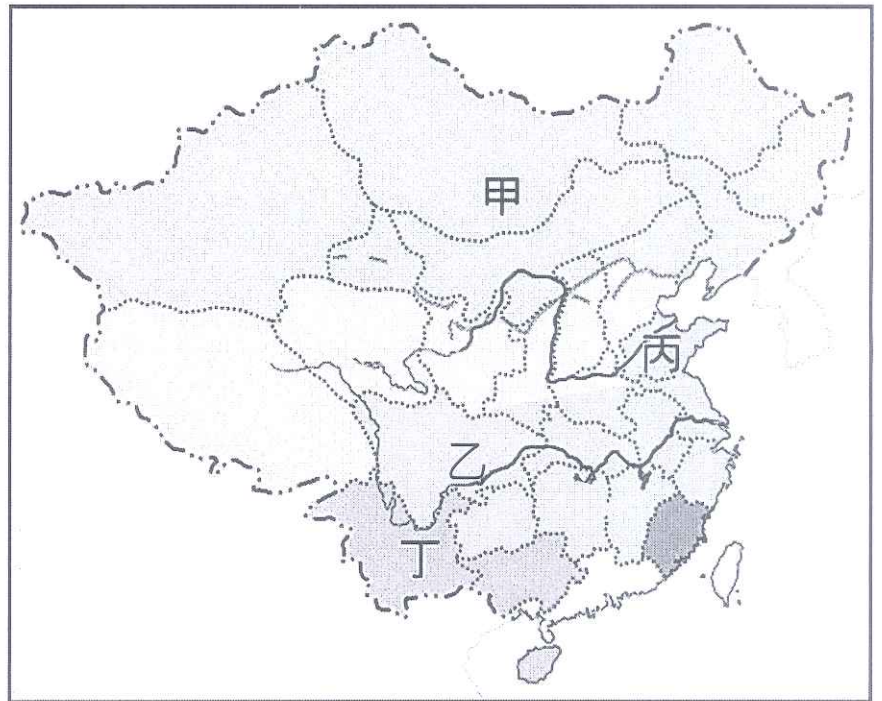


歷史

- () 18. 年老的瑪莉翻閱著父親在西元 1911 年到中國遊歷時所寫的手札，然因年代久遠而有些模糊不清之處，從她重新整理後的資料中，請選出不符合當時史實的敘述？ (A)清政府公布內閣名單，然閣員多為皇族引發非議 (B)三月底革命黨人在廣州起義失敗，許多年輕義士被埋葬在黃花崗 (C)清政府頒布鐵路國有政策，東北各省士紳多有不滿，發動武昌起義 (D)辛亥年革命成功的關鍵在於多省響應，宣布脫離清政府而獨立。
- () 19. 考前複習時元生將孫中山先生所組織的兩個革命會黨並列比較如下表，正確的項目內容為何？ (A)甲、丁 (B)甲、乙 (C)乙、丙 (D)乙、丁。

項目	甲、時間	乙、成立地點	丙、時代背景	丁、目標
興中會	清光緒 20 年 (西元 189□ 年)	日本東京	日俄戰爭過後，清廷推動預備立憲的鼓舞	驅除韃虜，創建民主共和體制的政府
同盟會	清光緒 31 年 (西元 1905 年)	夏威夷檀香山	受到甲午戰爭中國戰敗的刺激	結合其他革命團體，擴大宣傳革命理念

- () 20. 清宣統 3 年，在美國的孫文寫了封信給革命同志：「近日祖國風雲日急，古有「天府之國」美稱的某處已動，若能得手，則兩廣、雲、貴、閩、浙不得不急起為之援應…。」請問：信中所提事件發生於右圖中何處？ (A)甲 (B)乙 (C)丙 (D)丁。
- () 21. 清末，朝野人士面對外力的衝擊，提出許多不同的救國途徑。某日，小周在朋友住處看到一張憑票，上面寫著：「驅逐韃虜，恢復中華，創建民國，平均地權。」請問：小周的朋友應屬下列哪一黨派？ (A)保皇黨 (B)立憲派 (C)革命派 (D)共產黨。
- () 22. 承上題，小周友人向其說明憑票上所寫 16 字綱領的含意，其中哪一句話與民生經濟最為相關？ (A)驅除韃虜 (B)恢復中華 (C)創立民國 (D)平均地權。
- () 23. 民初政治裡曾出現過短暫的「洪憲帝制」，下列有關袁世凱稱帝前的布局，請按事件發生的先後順序加以排列？(甲)解散國會、另訂新約法擴大總統職權(乙)逼迫國會選他為正式大總統(丙)在反日聲浪中將 5 月 9 日訂為國恥紀念日(丁)營造恢復帝制的輿論，順勢接受擁戴。 (A)乙→甲→丙→丁 (B)乙→丙→甲→丁 (C)甲→乙→丁→丙 (D)甲→乙→丙→丁。
- () 24. 民國 2 年，國民黨籍的宋教仁出任內閣總理，卻在 3 月國會召開前夕於上海遭刺殺身亡，此事調查結果眾說紛紜，但「疑似」袁世凱暗中授意的論述，仍讓孫中山等人發動「二次革命」討伐之，最終卻以失敗收場。下列與此內戰相關的說明何者正確？ (A)袁藉此逼迫溥儀退位，成功將臨時政府遷至北京 (B)起因於民初政黨政治興起，但對袁落實民主政治缺乏信心 (C)袁缺少維護共和體制的信念，急於宣布恢復帝制 (D)臨時約法採行總統制，給予袁專權的機會。
- () 25. 關於民初軍閥的敘述，下列何者錯誤？ (A)實力較強的軍閥派系以奪取象徵中央的南京政府為目標，爭戰不休 (B)軍閥的形成與清末編練新軍、軍隊私有化的現象有關 (C)軍閥割據一方，使中國難以達成實質統一 (D)各方軍閥常依附列強、擴充軍備，以武力解決政治糾紛。
- () 26. 小安觀看《全民星攻略》，在來賓搶答資格賽環節中，出現「革命團體光復會」、「提倡自由學風」「北京大學校長」等提示，他便猜出提示所指是民國史上哪一位人物？ (A)徐志摩 (B)陳獨秀 (C)周作人 (D)蔡元培。



題組(一)

小華利用附圖進行歷史專題報告，講述民國初年的某一事件，請就圖片內容回答 27-29 題：



- () 27. 根據圖中的標語、口號判斷，他所報告的是哪一歷史事件？ (A)二次革命 (B)保路運動 (C)五四運動 (D)五九國恥。
- () 28. 該事件是發生於哪一時空背景下？ (A)19 世紀末歐洲各國為爭取在華特權、瓜分中國利益，強行租借港灣 (B)第一次世界大戰爆發，日本藉機對德國宣戰佔領膠州灣 (C)洪憲帝制時期，派遣大量華工前往歐洲戰場協助英法 (D)軍閥割據時期，中國遭和會否決收回山東權益等主張。
- () 29. 關於這場亂事的後續發展及其影響，下列敘述何者正確？ (A)迫於輿論壓力最後中國代表仍忍痛在和約上簽字 (B)擴大新文化運動的影響，加深對國家及民族的認同 (C)總統迫於日本威脅接受二十一條要求部分條款 (D)服膺共產主義思想者於民國 10 年成立了新政權掃蕩軍閥。

題組(二)

民國初年，作家魯迅發表小說《狂人日記》，引起廣大迴響：「... 凡事總須研究，才會明白。古來時常吃人，我也還記得，可是不甚清楚。我翻開歷史一查，這歷史沒有年代，歪歪斜斜的每頁上都寫著「仁義道德」幾個字。我橫豎睡不著，仔細看了半夜，才從字縫裡看出字來，滿本都寫著兩個字是吃人...」。請回答 30-31 題：

- () 30. 依據上文，請判斷該篇小說最有可能刊行在哪份雜誌上？ (A)點石齋畫報 (B)兒童世界 (C)萬國公報 (D)新青年。
- () 31. 從《狂人日記》內容可得知下列何者不是當時文學發展的主要趨勢？ (A)頒行新式標點符號，避免斷句不同造成誤解 (B)主張以白話文取代文言文，以求通俗易懂 (C)批判西方思想的權威地位，復興儒家學說 (D)重新評估一切舊觀念、舊思想，打破禮教束縛。

題組(三)

張幼儀，1900 年出生於上海，家族聲望顯赫：祖父是高官，父親是名醫，二哥是哲學家和政治活動家，四哥則是中國銀行總裁，名望與金錢都不缺，但這家族的女性缺乏自由。1915 年，她依著「父母之命、媒妁之言」嫁給了徐志摩，在這段「小腳與西服」的婚姻中，被嫌棄沒出國、沒讀過新思想、新文化的張幼儀，遭遇徐志摩以各種理由出軌，在懷第三胎時接到離婚通知，甚至曾被要求把孩子打掉。幸好住德國的二哥，保護她、接納她的婚姻不幸，1922 年 3 月，她在離婚協議上簽字，徐約好給的五千元贍養費，她分文不取。為了給孩子更好的教育，她留在德國攻讀幼兒教育。1925 年，離婚前懷的那個孩子死於腹膜炎，心痛的張幼儀咬牙完成學業，回國後在東吳大學教德語，出任上海女子商業儲蓄銀行副總裁，將銀行業務愈做愈好，還兼任雲裳時裝公司總經理。從離婚的那一刻開始，她走向獨立自主，便能做個完整的人了。請回答第 32-33 題：

- () 32. 文章中的哪段內容，不符合「新時代女性」的觀念與作為？ (A)依著「父母之命、媒妁之言」嫁給徐志摩 (B)在徐志摩準備好的協議書上簽字離婚 (C)關注兒童教育問題，留在德國完成學業 (D)接受男女平等觀念引導，自行創業、經營銀行。
- () 33. 張幼儀的經歷，反映出民初「婦女解放」呼聲高漲中的哪些現象？(甲)女性能夠選擇展現自己的方式(乙)男女授受不親的觀念牢不可破(丙)走出家庭，進入就業市場(丁)積極爭取參與政治活動。(A)甲丁 (B)甲丙 (C)乙丁 (D)乙丙。

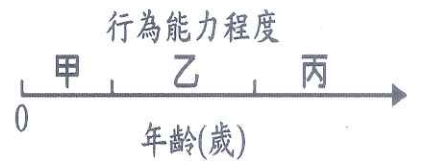
公民

P.5

- () 34. 6 歲的羅利和 10 歲的萊德兩個是好鄰居，常在一起玩樂，有天，(甲)羅利用阿奇幼幼園的貼紙和萊德換了汪汪隊的鉛筆，兩個人都非常開心；(乙)萊德還到便利商店買養樂多到羅利家一起享用；(丙)羅利的媽媽很喜歡萊德，知道他生日快到了，送給他一台價值 2000 元的遙控飛機，萊德滿懷欣喜的收下這禮物。請問下列何者正確？
- (A)甲的敘述，兩人交換貼紙與鉛筆，基於契約自由原則，在民法上具有法律效力。
 (B)丙的敘述中，2000 元的禮物太貴重，不符合他的年齡身分，未得到萊德父母同意前，此行為不具法律效力
 (C)丙的敘述具有法律效力，因屬於純獲法律利益的行為。
 (D)乙的敘述中，由於萊德為限制行為能力人，此行為應該簽定要式契約，才具有法律效力與保障。
- () 35. 嘉義一名 14 歲國二女學生和班上女同學發生誤會，對方竟然夥同另外 3 名同學購買硼砂加水稀釋，偷偷加入她的水壺裡，短短 4 個月內下毒 3 次，導致女學生身體不適，暴瘦 8 公斤，讓家長非常心疼憤而提告。醫生說，硼砂使用過量的話，嚴重的話，甚至會致人於死。最後，少年法庭法官裁定保護處分，由少年保護官輔導，被害者的媽媽也向對方要求賠償醫藥費及精神撫慰金共 30 萬。下列敘述何者正確？
- (A)由於 14 歲為限制行為能力人，由加害者的父母負連帶的賠償責任。
 (B)國二生為未成年，所以不須賠償。
 (C)因為加害者為無行為能力人，缺乏判斷力，所以 30 萬的賠償金額過高。
 (D)因加害者的行為出於故意，需想辦法自行負擔賠償責任。
- () 36. 一郎與夏芷是一對新婚夫妻，兩人購買了一棟房子，也與建商簽訂契約，兩人搬進去沒多久，卻發現房屋嚴重漏水，因此向建商要求賠償，但建商卻置之不理，甚至避不見面。兩人於是決定向法院提出訴訟，要求建商負起法律上的責任。關於上述事件，下列敘述何者有誤？
- (A)他們夫妻與建商訂定的房屋書面契約中，不論簽名或蓋章均具有同等效力。
 (B)建商隱瞞會漏水的事實，違反誠實信用原則
 (C)兩人除了向建商要求賠償，甚至可解除契約
 (D)因為是他們夫妻雙方搬進去後才漏水，所以建商不須負起民事責任。
- () 37. 承上題，根據我國《民法》規定，一郎與夏芷結婚要有效力，須符合結婚要件的成立，下列何者錯誤？
- (A)未成年結婚須法定代理人同意，所以 18 歲以上即成年，可自行與對方簽訂婚約
 (B)男生結婚必須滿 18 歲，女生必須滿 16 歲
 (C)雙方須向戶政機關登記，才有法律效力
 (D)雖口頭契約在民法上具有效力，但結婚一定要有書面形式，加上兩個以上證人
- () 38. 21 歲的小胖為了買一台車，便向 17 歲的好友小靜借了 5 萬元，兩人簽訂書面契約，並約定五年內歸還。下列敘述何者正確？
- (A)小靜是債務人，小胖是債權人
 (B)雙方互為債權人
 (C)此契約屬於「買賣」間的權利義務關係
 (D)若是小胖沒有在期限內將債務還清，小靜在這 15 年期間也都未行使請求償還債務的權利，基於時效消滅原則，15 年後小胖可拒絕還款。
- () 39. 承上題，小靜的媽媽後來知道此事，認為小靜才 17 歲，五萬元的借款太高，這樣的行為只要媽媽反對即不具法律效力，但因某些原因，此行為卻還是有效的。請問：最有可能的原因為何？
- (A)因兩人有簽訂書面契約 (B)小靜已經結婚
 (C)借錢是純獲法律利益的行為 (D)借錢是符合年齡及日常生活所必需。
- () 40. 家嘉在下課時表演疊杯，不小心失手，疊杯飛出去，打到成成的眼鏡，眼鏡當場掉落破碎，依民法規定，下列敘述何者正確？
- (A)家嘉須負損害賠償責任，以恢復原狀為原則，不能恢復原狀時則須金錢賠償
 (B)家嘉須負債務不履行責任
 (C)成成可要求家嘉賠償 10 副眼鏡的價格
 (D)家嘉是不小心的，所以不需承擔民事責任

背面尚有試題

- () 41. 庭妮最近剛找到一份百貨公司專櫃小姐的工作，在正式上班前，老闆與庭妮簽訂一份合約，合約內容之一為：勞工如遇懷孕則雇主有權利終止聘僱契約，進行解僱，請問這份合約是否有效？
 (A)有效，支付薪資的雇主擁有聘僱與否的權利 (B)無效，違反誠實信用原則
 (C)有效，基於契約自由原則，只要雙方合意即具有效力 (D)無效，已經違反法律。
- () 42. 右圖為民法中年齡與行為能力程度的示意圖，甲、乙、丙分別代表不同程度的行為能力。以下有五個不同年齡及精神狀況的人，(ㄅ)14 歲受到監護宣告的小瑞 (ㄆ)16 歲已結婚的小卉 (ㄇ)8 歲因故仍未就學的小豪 (ㄏ)18 歲念大一的琪琪 (ㄏ)23 歲受到輔助宣告的萱萱。請問：(ㄅ)~(ㄏ)與圖中的「乙」區屬於相同程度的行為能力有幾項？(A)1 項 (B)2 項 (C)3 項 (D)4 項。



二、題組

小傑騎車上班途中，一隻哈士奇突然衝出來要穿越馬路，小傑反應不及撞上去，連人帶車摔飛 5 公尺，造成手腳多處擦挫傷，送醫後縫了好幾針，機車也有部分毀損。小傑事後向飼主提出車損 2 萬 7 千元與精神賠償 1 萬 5 千元，飼主有意要負責，但認為金額實在太高無法接受，擬請調解委會進行調解，但仍然無法達成共識，小傑便向飼主提出訴訟。請問：

- () 43. 飼主在「法律上」必須負擔何種責任？
 (A)侵權行為責任 (B)契約不履行責任 (C)道義上的慰問責任 (D)政治上的責任
- () 44. 飼主欲進行調解，可向下列何處尋求調解委員會的協助？
 (A)鄉鎮市民代表會 (B)律師事務所 (C)法院 (D)鄉鎮市區公所
- () 45. 關於調解的相關敘述，何者正確？
 (A)調解成立後，當事人仍可向法院提起訴訟。
 (B)調解成立後須經法院核定，效力相當於法院判決的結果。
 (C)調解需繳交調解費，所以進行私下和解比較省錢省力。
 (D)訴訟上調解是指在法官面前調解，具強制執行力。
- () 46. 在訴訟的程序中，下列哪部分不可能會發生？
 (A)提起訴訟後，仍可在法官面前達成和解，且結果具強制執行力 (B)法官會視情況主動介入蒐證
 (C)當事人須主動提起訴訟，國家不會主動介入調查 (D)需由當事人自行提出對自己有利的證據。
- () 47. 在訴訟過程中，訴訟庭內的成員除了小傑外，可能會有(甲)負責審判的法官，(乙)穿著鑲藍邊黑色法袍的律師，(丙)負責記錄的書記官，(丁)負責翻譯的通譯，以及(戊)讓人權益受損的原告。請問，以上敘述正確的有幾項？(A)1 項 (B)2 項 (C)3 項 (D)4 項。

網路電子商務興起，透過網路平台交易之商業模式日益發達，銷售商品之管道也從傳統的實體店面，逐漸轉型至網路商店。

為了吸引網路消費者的目光，瀏覽網路商店所陳列販售之商品，網路商店的經營者就需要有清晰、美麗的商品照片。這時，部分貪小便宜的網路商店經營者為了節省這些精美照片的拍攝成本，便從「網路盜圖」，搜尋並複製販售相同商品之店家所使用的照片，侵害他人辛苦創作的智慧財產權。

網路銷售問題也層出不窮，近期就發生「蛋塔之亂」，蝦皮購物標錯價，出現肯德基 6 入蛋塔 35 元，以及萊爾富衛生紙 1 串 8 包只要 30 元的破盤超低價，吸引大量搶購。蝦皮購物原本公告，所有訂單，全部取消退款，並提供消費者「折扣券」，不過消保官認為，若消費者下訂後收到「兌換即享券」，就屬契約成立，業者最後也只能認賠。請問：

- () 48. 蛋塔之亂，業者最後認賠，履行訂單內容，依約給予即享券，讓消費者可至店家兌換蛋塔及衛生紙，是基於民法的何種原則？
 (A)契約自由 (B)禁止權利濫用 (C)消滅時效 (D)誠實信用。
- () 49. 消費者透過網路平台交易，與下列何項民法規範的權利義務關係相同？
 (A)繼承爸爸龐大的遺產 (B)與男友前往戶政機關登記 (C)到漫畫店租鬼滅之刃 (D)因不孕收養一名孤兒。
- () 50. 貪小便宜的網路商店從網路盜圖，除了刑事責任，還須負擔何種法律責任？
 (A)回復原狀 (B)損害賠償 (C)解除契約 (D)喪失未來受到智慧財產權相關的法律保障。