

※ 下課鐘響前不得繳卷

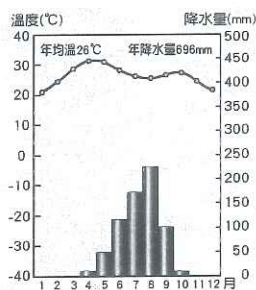
姓名：

P.1

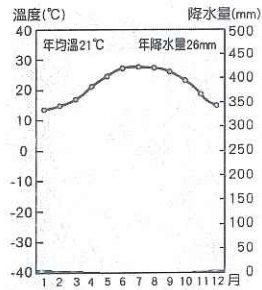
※ 注意! 請務必在答案卡最上方欄位寫上班級、座號和姓名。

地理 1~17 題，歷史 18~33 題，公民 34~50 題。每題 2 分

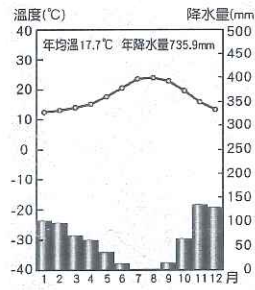
- 非洲為古老且堅硬的陸塊，富含礦產資源，地形以高原為主體。請問下列哪一個地區與非洲的地質特性最為相似？  
(A) 青藏高原 (B) 德干高原 (C) 阿富汗高原 (D) 安納托力亞高原
- 北非的撒哈拉沙漠與智利北部的阿他加馬沙漠皆為乾燥少雨的熱帶沙漠氣候，其終年乾燥少雨的原因是因為這兩個地區具有何項相同的地理條件？  
(A) 距海遙遠 (B) 西風吹拂 (C) 高壓籠罩 (D) 居背風側
- 下列何地「並非」全球主要的石油生產地？  
(A) 落磯山一帶 (B) 波斯灣沿岸 (C) 北非利比亞 (D) 西非奈及利亞
- 冒險王小傑挑戰攀登各大洲的第一高峰，這回他來到了非洲，請問小傑該前往右圖中的何地才能完成挑戰攀登非洲第一高峰的任務？  
(A) 甲 (B) 乙 (C) 丙 (D) 丁
- 撒哈拉沙漠為全世界第一大沙漠，也是非洲族群、文化的重要分界。關於撒哈拉沙漠南北兩側的族群、文化敘述，何者正確？  
(A) 以北：黑人、基督宗教 (B) 以北：阿拉伯人、伊斯蘭教  
(C) 以南：黑人、伊斯蘭教 (D) 以南：歐洲白人、基督宗教
- 尼羅河的定期氾濫，在中、下游淤積肥沃土壤，請問：尼羅河的定期氾濫與其上游流經下列哪種氣候區有關？



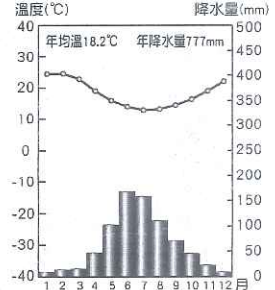
(A)



(B)



(C)



(D)

- 大洋洲具有重要的交通與戰略地位，乃是因其位於哪兩洲之間的關係？  
(A) 東：歐洲、西：美洲 (B) 東：亞洲、西：歐洲 (C) 東：美洲、西：非洲 (D) 東：美洲、西：亞洲
- 右表為大洋洲某一個國家的資料介紹。根據該國的地理特徵判斷，下列何者是該國在全球氣候變遷下最可能面臨的環境災害？  
(A) 過度灌溉造成土壤鹽鹼化 (B) 水土保持欠佳引發土石流  
(C) 海平面上升國土逐漸縮小 (D) 超抽地下水導致地層下陷

(D) 東：美洲、西：亞洲

項目	說明
位置	1°S~8°S, 173°E~175°E
地形特徵	珊瑚礁島
平均高度	2 至 3 公尺
水文特徵	河川短小

- 世界衛生組織於 2016 年發布的人類平均壽命報告中指出：「預期平均壽命最短的國家是獅子山、安哥拉、中非共和國、查德和象牙海岸。」請問：預期平均壽命最短的五國皆位於非洲，下列何者「並非」造成此現象最可能的因素？  
(A) 各國戰爭頻繁 (B) 受到殖民統治 (C) 連年飢荒歉收 (D) 傳染疾病叢生

- 非洲在雨林或溼潤的莽原區發展出一種原始的耕作方式(如下圖所示)，其最大的特色就是刀耕火種，需要常常遷徙，因此對自然生態的干擾較小，且還能保持土壤的肥力。請問有關此種農業型態最正確的描述為何？



- 在季風亞洲最為常見
- 受殖民母國影響而生
- 產量大，可外銷獲利
- 屬於粗放型態的農業

- 東非大裂谷有「地球上的傷疤」之稱，是世界最長的裂谷帶，成因為斷層活動使地塊陷落，形成南北向的帶狀地塹。請問下列哪一個地形區與東非大裂谷同為地塹地形？  
(A) 花東縱谷 (B) 河西走廊 (C) 橫斷山脈 (D) 美國大峽谷

- 非洲及南美洲的東南沿海皆為夏雨型暖溫帶氣候，該氣候的成因主要是受到下列哪些因素影響？  
(甲) 西風吹拂 (乙) 信風吹拂 (丙) 涼流流經 (丁) 暖流流經

- 甲丙 (B) 甲丁 (C) 乙丙 (D) 乙丁

背面尚有試題



※ 下課鐘響前不得繳卷

姓名： P.Z

13. 埃及在1970年完成亞斯文水壩的興建，為境內的尼羅河沿岸帶來不少益處，但也帶來不少環境問題。請問亞斯文水壩興建完成後為埃及帶來的變化中，其影響層面「不包括」下列何者？

- (A) 萬噸輪船得以通航 (B) 提高供水的穩定性 (C) 河口三角洲面積縮小 (D) 需使用肥料維持地力

14. 基於原料區位的考量，台灣企業家計畫到非洲投資設廠，下列哪一家公司「最無法」降低成本而獲得利潤？

- (A) 亮晶晶金飾—東非衣索比亞 (B) 真健康橄欖油—北非突尼西亞  
(C) 閃亮亮鑽石—南非共和國 (D) 甜蜜蜜巧克力—西非迦納

15. 帛琉為台灣的邦交國之一，擁有豐富的觀光資源，其位於東北半球的地理位置是大洋洲三大島群中離台灣最近的一群，於是台、帛政府於2021年3月17日共同宣布旅遊泡泡啟動，這是武漢肺炎疫情爆發後，台灣首次對外啟動的旅遊泡泡。請問帛琉所在的島群應為下列哪一個？

- (A) 印度尼西亞 (B) 玻里尼西亞 (C) 美拉尼西亞 (D) 密克羅尼西亞

16. 承上題，大洋洲三大島群中，大致以何者為分界線？

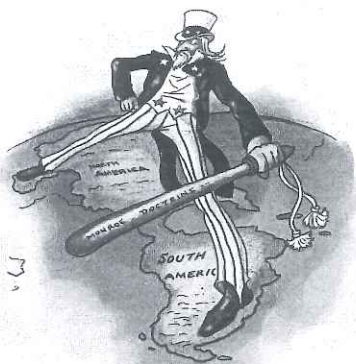
- (A) 赤道、本初經線 (B) 赤道、國際換日線 (C) 北回歸線、南回歸線 (D) 北回歸線、南極圈

17. 帛琉擁有的豐富觀光資源為為珊瑚礁地形與自然生態，請問下列哪一個島嶼(群)的成因與帛琉相同？

- (A) 冰島 (B) 馬祖 (C) 馬爾地夫 (D) 夏威夷群島

18. 西元十九世紀時，在拉丁美洲與巴爾幹半島，興起一股民族主義及獨立建國的風潮，探究其發生原因，下列何者「錯誤」？ (A) 第一世界大戰的結束 (B) 啟蒙思想的影響 (C) 法國大革命的鼓舞 (D) 美國獨立的刺激。

19. 下圖是一幅諷刺性的政治漫畫，主要是批評十九世紀初美國的外交政策，而標題為「這裡除了我以外，任何人不許插手」。請問：這幅漫畫所代表的意義為何？ (A) 美洲各國期待美國的領導 (B) 美國獨立成功為各國典範 (C) 門羅宣言後美國主張歐洲國家不應干涉美洲事務 (D) 一次大戰後美國的反戰運動。



20. 大雄上歷史課作筆記，整理有關十九世紀「拉丁美洲」、「義大利王國」、「德意志帝國」的統一或獨立建國過程，發現有位歷史人物的作為，對此三個地區皆造成重要影響。請問：上述所說的歷史人物可能是指誰？ (A) 玻利瓦 (B) 拿破崙 (C) 俾斯麥 (D) 威爾遜。

21. 「巴爾幹半島」位於歐、亞、非三洲交界地區，在政治、民族與宗教上均呈現複雜的局面。請問：「巴爾幹半島」在十九世紀、二十世紀初的歷史發展，何者「正確」？ (A) 主要民族為信奉伊斯蘭教的斯拉夫人與希臘人 (B) 未獨立前受信仰希臘正教的阿拉伯人統治 (C) 獨立後各國能團結共同抵抗歐洲列強的入侵 (D) 第一次世界大戰前，此區有「歐洲火藥庫」之稱。

22. 下表為西元十九世紀時，「義大利」與「德意志」的統一過程比較，何者「錯誤」？ (A) 甲 (B) 乙 (C) 丙 (D) 丁。

項目	義大利	德意志
(甲) 領導核心王國	薩丁尼亞王國	普魯士王國
(乙) 重要領導人物	伊曼紐二世	威廉一世
(丙) 建立國家名稱	義大利王國	德意志帝國
(丁) 完成統一時間	西元1871年	西元1871年

背面尚有試題

23. 下列「歷史人物」與其「個人事蹟」之配對，何者「正確」？ (A) 俾斯麥 → 主張統一需透過武器和戰爭來完成，有「鐵血宰相」之稱 (B) 加里波底 → 組織「青年義大利」，鼓吹建立一個自由、民主的共和國 (C) 加富爾 → 率領「紅衫軍」，武力征服義大利南部 (D) 馬志尼 → 以首相職務，巧妙利用外交手段幫助統一。

24. 小叮噹閱讀一本有關十九世紀歐洲的經濟歷史，書裡內容敘述：「1834年由38個德意志邦聯之邦國組成同盟。在當時工業革命的浪潮下，同盟的成立有助於各邦國貿易的往來、減少內部的競爭。而同盟成立的主要倡導者是經濟學家佛里德里希·李斯特。由於同盟充滿貿易保護主義的色彩，它不容許奧地利帝國加入，這令奧地利帝國與普魯士的競爭更為激烈。」請問：上述所說的同盟可能是指當時的哪一個組織？ (A) 國際聯盟 (B) 三國協約 (C) 關稅同盟 (D) 三國同盟。



※ 下課鐘響前不得繳卷

姓名： P.3

25. 西元 1868 年，因為明治天皇的西化改革，使得日本的國力大增，並且開始積極向外擴張行動，諸如：【甲】發動甲午戰爭【乙】併吞琉球【丙】發動日俄戰爭【丁】朝鮮成為殖民地。請問：上述這些史實的發生，依照時間先後排列為何？ (A)甲乙丙丁 (B)乙甲丙丁 (C)丙乙丁甲 (D)丁乙丙甲。

26. 世界著名童書《格林童話》的作者格林兄弟，在寫作這些膾炙人口的童話故事時，兄弟倆認為：「含蘊在古代故事裡的語言、信仰、詩以及英雄般的美德，都可以使德意志人民意識到他們自己的民族美德，並且在政治混亂的年代為民族的生存與獨立而奮鬥。」請問：依據格林兄弟當時寫作的想法，他們應該歸類於下列哪一種的敘事風格？ (A)寫實主義 (B)文藝復興 (C)浪漫主義 (D)騎士文學。

27. 下列有關西元十九世紀的文化發展，「代表人物」與「代表作品」之配對，何者「正確」？(A)莫內 → 日出印象 (B)貝多芬 → 少年維特的煩惱 (C)狄更斯 → 英雄交響曲 (D)米勒 → 雙城記。

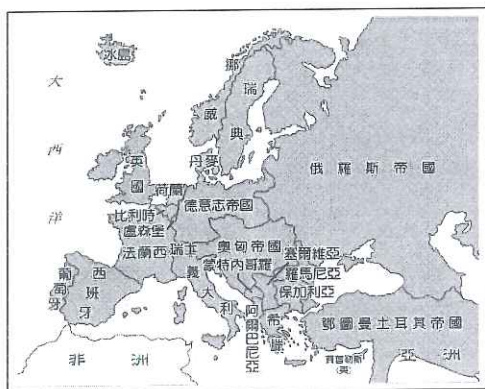
28. 所謂帝國主義的意義是指：「一國為了自身利益，對外侵占土地或控制其他地區的政治與經濟等。」在西方歷史上，帝國主義在工業革命後，列強憑藉科學及技術優勢，侵略亞洲、非洲與拉丁美洲等地區，且常用下列哪種理論合理化他們的侵略行為？ (A)啟蒙思想 (B)社會達爾文主義 (C)民族自決 (D)世界一家。

29. 西元 1917 年是第一次世界大戰的關鍵年代，除了俄國退出戰場外，最重要的是因為「某國」加入戰局，提供大量的軍事援助下，扭轉戰局且不久後結束戰爭。請問：上述的「某國」，是指下列哪一個國家？ (A)中國 (B)日本 (C)義大利 (D)美國。

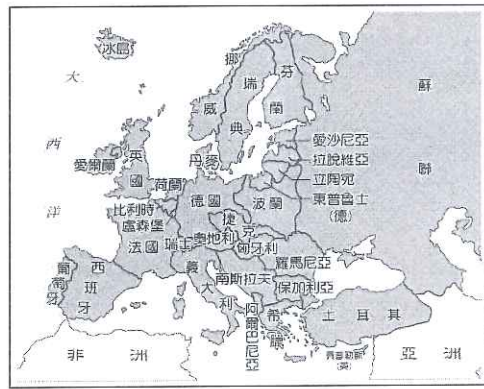
30. 下列有關第一次世界大戰的影響敘述，何者「錯誤」？ (A)戰後部分國家婦女獲得投票權 (B)出現全國動員的戰爭性質，是謂「總體戰」 (C)新武器與新戰術的運用，造成軍民死傷空前慘烈 (D)戰爭結束後，同盟國代表與協約國代表在巴黎召開和會，共同商議戰後世界局勢。

31. 下列有關西元二十世紀初的文化發展，「代表人物」與「重要成就」之配對，何者「正確」？ (A)愛因斯坦 → 放射性物質的研究 (B)佛洛伊德 → 精神分析學派的建立 (C)畢卡索 → 印象畫派 (D)海明威 → 西線無戰事。

【題組一】



圖(一)



圖(二)

上圖的圖(一)到圖(二)，是歐洲在第一世界大戰爆發前與結束後的形勢演變圖，請同學依據相關圖文內容，回答下列問題：

32. 第一次世界大戰爆發的導火線，最初是因圖上的哪兩個國家發生衝突而引起？ (A)奧匈帝國、保加利亞 (B)德意志帝國、鄂圖曼土耳其帝國 (C)奧匈帝國、塞爾維亞 (D)德意志帝國、羅馬尼亞。

33. 一次大戰前，俄羅斯帝國疆域廣闊，但是戰後帝國瓦解，除成立蘇聯共產國家外，其境內建立許多新興國家，諸如圖(二)所示的：愛沙尼亞、拉脫維亞、立陶宛等國家。請問：上述的新興國家，是依據當時何種理念而建立？ (A)民族自決 (B)孤立主義 (C)帝國主義 (D)門羅主義。

【題組二】

背面尚有試題

有名網紅因變性而受到矚目，月前自爆懷孕，還附上 12 周超音波照片，引發外界關注。該網紅的男友更表示是花費天價接受某醫師的「人體測試」，引發各界嘩然。高市衛生局介入調查，依違反社會秩序維護法第 63 條「散佈謠言，足以影響公共安寧者」將該網紅函送，若查證屬實將予以開罰，最重可處以新台幣 30000 元。事後，該網紅在網路上喊冤，表示從頭到尾都沒說自己懷孕，一切皆是媒體捕風捉影、斷章取義、妄自揣測...。請問：

34. 劃線處的開罰款金額類型與下列何者相同？ (A)提供菸品給未滿 18 歲者，處以新台幣 10000 元 (B)在網路上辱罵他人，處以新台幣 3000 元 (C)與他人通姦，需支付配偶 50 萬精神撫慰金 (D)竊取他人商標，支付鉅額賠償。



※ 下課鐘響前不得繳卷

姓名：

P.4

35. 根據報導內容，該網紅疑似接受「人體測試」而懷孕，有可能引發之倫理爭議與何者相同？(A)心理師將個案的訪談內容當成笑話講給朋友聽 (B)為了發展經濟，持續大量砍伐森林並開發水源地 (C)知名體育主播因久病纏身，希望接受安樂死 (D)護理師未經同意拍攝病人照片放在網路上供人瀏覽。

36. 「網紅」因資訊傳播發達而興起，下列關於「網紅」的敘述，何者錯誤？(甲)為了維護閱聽人「知的權利」，網紅的製播過程不受法律限制 (乙)網紅是主動的訊息提供者(丙)網紅也是一種職業，應遵守職業倫理規範(丁)媒體接近使用權是屬於網紅的專屬權利。(A)甲乙 (B)乙丙 (C)乙丁 (D)甲丁。

【題組三】

2020 年 11 月 18 日，中天新聞台因多次違規、內控機制失靈，以及持有人蔡衍明嚴重介入新聞製作等問題，經某政府機關 7 位委員一致決定駁回申請、不予換照。中天新聞台成為台灣自 2006 年來首家停播的電視新聞台。消息一出，引發各界激烈辯論，有部分媒體紅人指出政府作為是嚴重影響言論自由，剝奪中天新聞台行使媒體「第四權」的權利。請問：

37. 上述報導所指之某政府機關應為下列何者？(A)行政院文化部(B)國家通訊傳播委員會(C)消費者保護處(D)公平交易委員會。

38. 報導中所提到的媒體「第四權」與何項傳播媒體的功能相同？(A)政府製播拒毒宣導影片，讓人民了解毒品壞處，拒絕毒品誘惑(B)颱風來襲，縣市政府透過廣播、電視等媒體告知民眾停班停課事宜(C)媒體針對縣市首長舉行電話民調，了解民眾對政府之施政滿意度(D)透過電視轉播觀看美國職籃冠軍賽，紓解生活壓力。

【題組四】

原住民王光祿打獵釋憲案於 2021 年 3 月 9 日召開言詞辯論庭。立法委員鄭天財及原住民組織、獵人協會等利益團體到司法院前聲援，「升起狼煙」向祖靈等傳遞「狩獵文化無罪、法律規定違憲」訊息。鄭天財希望透過釋憲認定現在的《槍砲彈藥刀械管制條例》是違憲的，並呼籲相關單位能聆聽原住民族人的聲音，積極發揮「憲法價值守護者」的職責與功能，完整返還原住民族文化權利。

這次釋憲不僅影響當事人，更讓原住民族全體十分關注，甚至可能成為促使社會大眾對原住民族文化溝通、理解的重要契機。在場同時也有少數動物保育團體的人士到場關心釋憲情形。請問：

※王光祿案：台東布農族獵人王光祿於民國 102 年間，因年邁的母親想吃肉，持獵槍射殺山羌等保育動物，最高法院依違反《槍砲彈藥刀械管制條例》及《野生動物保育法》判處 3 年 6 月徒刑定讞；經提起非常上訴，最高法院認定有違憲之虞，裁定停審並聲請釋憲。該案件引發臺灣社會對原住民文化及權利的抗議與討論。

39. 聲援團體至司法院表達立場，關於司法院職權敘述何者正確？(A)由司法院法官召開憲法法庭釋憲(B)司法院中設有公務員懲戒委員會負責針對違法公務員進行糾舉(C)司法院下轄各級法院，包含檢察官也隸屬司法院(D)司法院負責審理正副總統彈劾案。

40. 若是認定現行之《槍砲彈藥刀械管制條例》違憲，將面臨法條失效的結果。請問，這是屬於憲法的何種特性？(A)最高性(B)強制性(C)固定性(D)原則性。

41. (甲)由立法院三讀通過、公布實施(乙)與《國籍法施行細則》的法律位階相同(丙)由行政機關制定修改(丁)具有具體實現憲法內涵之功能。前項有關《槍砲彈藥刀械管制條例》的敘述，正確的有幾項？(A)4 項(B)3 項(C)2 項(D)1 項。

42. 文中所提之「獵人協會」的敘述，何者正確？(A)依照《政黨法》組成團體(B)具有匯集民意與監督政府的功能(C)通常是透過提名候選人的方式參與政府政策的規劃與執行(D)關注的政策面向較多元全面性。

43. 原住民的狩獵文化因為與漢人的法律規範和保育觀念有所差異，進而引發報導中的歧異與對立。這是屬於何種文化現象？(A)文化交流(B)文化衝突(C)文化融合(D)文化傳承。

44. 在漢族文化的思潮影響下，狩獵文化被認定為「野蠻、未開化」而受人排斥，甚至被立為違法行為，請問關於此事件的敘述，何者正確？(A)漢族文化掌握較多的權力和資源(B)原住民族文化屬於強勢文化(C)這是一種文化創新(D)文化交流只會帶來正面影響。

【單選】

背面尚有試題

45. 今天，我們可以腳穿美國品牌的運動鞋，網路接通就可以跟遠在巴西的哥哥視訊聊天，如果嘴饞的話，還可以去東京吃拉麵當午餐、再回家吃牛肉麵當晚餐。上述內容主要是因為某種現象的興起而產生，這種現象的成因與何者較無關係？(A)交通運輸的革新(B)國際貿易的興盛(C)資訊科技的發達(D)環境氣候的變遷。



※ 下課鐘響前不得繳卷

姓名：

P.5

46. 知名動畫《鬼滅之刃》廣受青少年喜愛，但其組隊殺鬼的內容被質疑助長青少年聚眾滋事之疑慮，不過作品中仍不乏呈現出人性關懷、團隊情誼以及見義勇為之情操，引導出正確的價值觀。劃線處說明在強調《鬼滅之刃》仍具有下列哪項特性？(A)傳遞生活相關之日常訊息(B)帶給觀眾有趣的內容、抒發觀眾壓力(C)發揮社會多元教育功能(D)提供民眾表達意見的管道。
47. 某位員警將公務 LINE 群組回報中的簡訊內容：「基隆市和平區信義路 35 號獨居死者陳志明（身分證字號 C123456789）於家中冰箱前倒臥死亡，該址無入侵或門鎖破壞跡象，發現人為其姐陳春嬌，陳春嬌對死因無意見，自行報請行政相驗」。的死亡報驗訊息轉傳給正在就讀警校的弟弟作為案例討論資料。請問：該員警的行為是否觸法？(A)不違法、因為是業務上的正當行為(B)不違法，因為受法令(政府資訊公開法)的保障(C)違法、觸犯個人資料保護法(D)違法、觸犯刑法妨害電腦使用罪。
48. 網際網路的發展使得犯罪型態更加複雜，此時更需要謹守科技倫理來妥善運用與維護網路之訊。請問下列何者不屬於網路犯罪？(A)電腦公司為了提高銷售量，濫發電子商用郵件，造成多位民眾網路信箱垃圾郵件氾濫(B)利用網路問卷取得網友資料以後，將資料轉售給行銷公司(C)在網路上散播未成年少男少女的裸體照片(D)國際駭客組織「匿名者」揚言癱瘓台灣民生系統網路。
49. 關於智慧財產權的內容，何者敘述錯誤？(A)逸夫研發出「寵物翻譯機」並依法申請專利(B)科展同學在自己製作的機器人上加入蘋果 Siri 的聲控功能，改良機器人的控制系統，這樣的做法並未觸犯智慧財產權(C)金庸先生在 1972 年完成小說「鹿鼎記」，電視台若要翻拍他的小說，只要等到 2022 年就不用再依著作權法購買版權(D)明志將網路上下載的球隊隊徽製成衣服在網路上販售，已侵犯球隊擁有的商標權。
50. 電影「侏儸紀公園」敘述生物科研集團利用上古時代一顆存有恐龍血液的琥珀，從中獲得恐龍基因而成功「復活恐龍」。請問：(甲)運用幹細胞移植技術幫助患者重獲健康(乙)農委會利用人工養殖技術復育瀕臨絕種的活化石-「鱉」(丙)美國種子公司利用基因轉殖技術研發出同時具有稻米和胡蘿蔔養分的「黃金米」(丁)科學家發明出一種綜合多種細菌的「雞尾酒分解法」，一起合力來「吃」掉塑膠堅硬的分子結構，用短短 7 周的時間，就把各種塑膠分解完畢吃光光。上述四個選項中何者所使用之生物科技的範圍與電影中所描述的類型相同的有幾項？(A)1 項 (B)2 項 (C)3 項 (D)4 項。