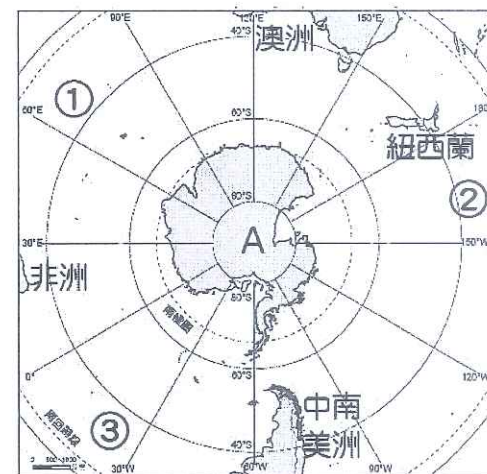
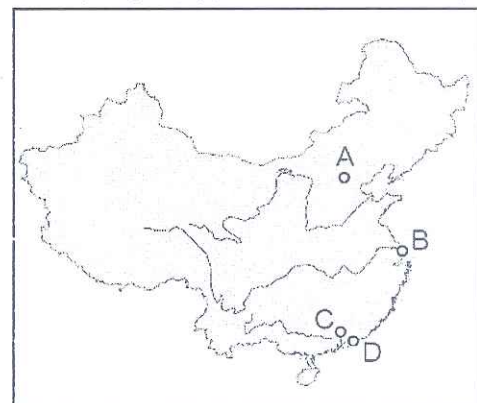
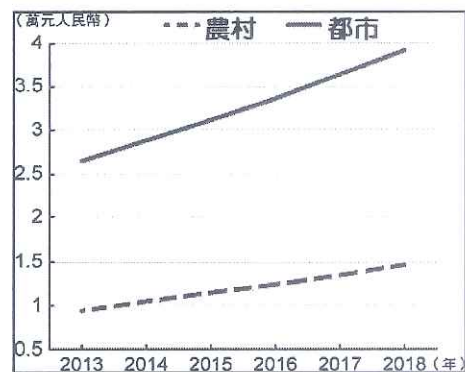


※ 下課鐘響前不得繳卷

姓名：

共 25 題，每題 4 分，滿分 100 分

- ( ) 1. 右圖為中國農村與都市居民人均可支配收入統計圖，根據圖中資料判斷，農村與都市收入的差距最有可能導致中國下列哪一種政策或計畫實行？(A)開始經濟改革開放 (B)部分都市推行居住證制度 (C)大規模建設高速鐵路 (D)制定農業環境保護法規。
- ( ) 2. (甲)本國勞工工作機會被中國勞工搶走(乙)積欠的龐大建設費用無力償還(丙)國家主權和政治可能被中國干預(丁)國內環保團體的壓力。與中國合作一帶一路的國家，國內已有反彈聲浪，部分國家開始放棄投資項目，最主要是因為面臨上列哪些問題？(A)甲乙 (B)乙丙 (C)丙丁 (D)甲丁。
- ( ) 3. 「中國的生產優勢現今面臨許多挑戰，企業成本大幅增加，多國企業早已布局將工廠轉往其它國家，不斷尋找可替代中國市場的投資環境。從蘋果供應鏈有兩成移到印度，AirPods 產能三成轉至越南，即可見端倪。另外，2018 年中美貿易戰開始，有更多外資從中國撤出搬到東南亞國家。」請問：上文提到外國企業從中國遷移至他國的主要關鍵，應包括下列哪些因素：(甲)美國對中國提高關稅(乙)人民幣不斷升值(丙)歐美反中情緒拒買中國貨(丁)中國基本工資持續上漲。上列中正確的原因是哪些？(A)甲乙 (B)乙丙(C)丙丁 (D)甲丁。
- ( ) 4. 右圖為中國四個一線都市—「北上廣深」的分布圖，其中哪一個都市位於海運和河運的交會點，交通便利且腹地廣大，是中國主要的金融中心，東方明珠塔為其主要地標？(A) A (B) B (C) C (D) D。
- ( ) 5. 一地的氣候特徵和水文型態是密不可分的，一地是全年有雨或是乾溼季分明，便會反映在河川流量的穩定性。請問：下列哪一種氣候區內的河川全年流量變化最小、最穩定？(A)溫帶海洋性氣候 (B)溫帶季風氣候 (C)溫帶大陸性氣候 (D)溫帶地中海型氣候。
- ( ) 6. 下列 2020 年所報導的國際新聞，哪一項和全球暖化的關係最小？(A)氣候異常乾旱導致澳洲與美國西部野火肆虐 (B)北極海測出 42 年來最少海冰 (C)日本爆發 69 年來首次出現的「本土登革熱」疫情 (D)印尼 4 座火山接連爆發，數千民眾緊急撤離。
- ( ) 7. 右圖為南極地圖，A 點為南極點，請問圖中各地的相對位置敘述，下列何者正確？(A) A 點位於非洲東方 (B)中南美洲位於澳洲南方 (C)紐西蘭位於 A 點北方 (D)澳洲位於紐西蘭東南方。
- ( ) 8. 美麗的自然風光及豐富的文化是許多旅遊者熱愛紐西蘭的重要原因，請問：下列關於紐西蘭觀光行程的安排，哪一項是正確的？(A)造訪紐西蘭最大城市威靈頓，到港口搭乘帆船 (B)與原住民一因紐特人一起跳哈卡舞、吃奇異果 (C)驅車至紐西蘭氣候最溼冷的南島西岸，遊覽峽灣風光 (D)到北島參加冰河健行，徒步探索冰河。
- ( ) 9. 宋人岳飛的盡忠報國形象，一直為後人所景仰，而他完成的一首詞滿江紅，則述說著個人對時代的悲切，滿江紅中一段：「…駕長車，踏破賀蘭山缺。壯志飢餐胡虜肉，笑談渴飲匈奴血。…」請問：滿江紅詞中的「胡虜」、「匈奴」，是指當時的哪一個草原民族？(A)契丹 (B)匈奴 (C)女真 (D)蒙古。
- ( ) 10. 歷史老師為加強學生對課文主題：「西班牙、葡萄牙人新航路與東亞經濟網絡建立」的理解，寫下了一段話：「十五世紀末，歐洲人發現了通往亞洲的新航路，他們帶著從美洲得到的□□□□，透過亞洲殖民據點的轉運，大量購買中國的商品，而鄰近的日本，也以本國所產的□□□□交換中國的商品；此時，由於東亞各國與西方各國以此為交易媒介，販運各種商品至世界各地，進而促使全球經濟網絡的形成。」請問：上述內容中的□□□□，是指下列何物？(A)番薯 (B)玉米 (C)馬鈴薯 (D)白銀。
- ( ) 11. 下列有關宋元時期的「經濟發展」敘述，何者不正確？(A)宋代對外貿易以海路為主，政府在廣州、泉州等地設立「市舶司」，進行收稅事宜 (B)蒙古帝國在各地廣設「驛站」，提供信使、官員與旅人歇息處所 (C)北宋畫家張擇端的「清明上河圖」，以國都「臨安」為繪畫背景，展現城市生活的熱絡 (D)元帝國首都，因為國內外商人雲集，有各種雜技表演與節日慶典，熱鬧非凡。



※ 下課鐘響前不得繳卷

姓名：

- ( ) 12. 清帝國統治中國時，針對不同的民族實施多元的統治政策，其中對「蒙古」和「西藏」，清帝國是以何種方式進行統治？(A)強迫兩族都要「薙髮留辮」(B)保護和支持其宗教信仰，藉以拉攏民心(C)大興「文字獄」，箝制人民思想(D)舉行科舉考試，以籠絡人心。
- ( ) 13. 西元十八世紀末與十九世紀初，英國曾經兩度派遣使節團來華，企圖打破兩國的通商限制，但因為英國使節覬見皇帝的跪拜禮節問題，最終皆無功而返。請問：上述所描述的歷史事件，顯示出當時中國對外關係的觀念為何？(A)以「朝貢貿易」關係為基礎的天朝體制(B)用「歲幣」換取兩國間的長期和平(C)「對等平行」的國際交往關係(D)以「和親政策」維持邊境的安全。
- ( ) 14. 西元十七世紀以來，中國與日本在面對西方國家的東來：從「閉關自守」到「門戶開放」的過程，有著許多類似的經驗：請問：下表有關「中國」與「日本」面對西力東來的比較，何者「正確」？(A)甲(B)乙(C)丙(D)丁。

選項	中國	日本
甲. 閉關自守的開始	鎖國政策	雍正禁教
乙. 通商口岸限制	上海	長崎
丙. 打開門戶的國家	美國	英國
丁. 口岸開放的事件	鴉片戰爭	黑船事件

- ( ) 15. 下列有關十九世紀清帝國「改革與變法」的「檢討與結果」，何者敘述「正確」？(A)「自強運動」：發生政變而導致改革的失敗(B)「庚子後新政」：廢除實行千餘年的科舉考試制度(C)「戊戌變法」：過度側重器物層面的改革，最終成效不彰(D)「立憲運動」：成立責任內閣，獲得立憲派人士的全力支持。
- ( ) 16. 下表為某個拍賣會場的拍賣品清單。請問：這些拍賣品可能是在清朝對外的哪一個戰役中被劫掠？(A)鴉片戰爭(B)英法聯軍(C)甲午戰爭(D)八國聯軍。

日期	拍賣品描述
1861.7	來自軍官們的兩批物品：一批八件；一批二十三件。其中包括「中國皇帝的大國璽」
1862.6	來自圓明園的三件琺瑯製品，「一個大香爐，…曾是皇帝書房裡的爐子。」
1864.7	三十六件標明來自圓明園的物品
2009.2	圓明園海晏堂外的噴泉裝飾：鼠首和兔首銅像

- ( ) 17. 為了確保政府運作符合憲法要求，當政府作為有違憲疑慮時，所建立的規範為下列何者？(A)違憲審查制度(B)法治政治(C)主權在民(D)分權制衡。
- ( ) 18. 何者不屬於司法院的職權範圍？(甲)統一解釋法律與命令(乙)審理憲法修正案(丙)處理公務員違法失職之懲戒事項(丁)審理總統、副總統的罷免案。(A)甲丁(B)乙丙(C)甲丙(D)乙丁。
- ( ) 19. (A)辦理全國國中教育會考(B)考核公務人員績效(C)辦理警察人員特考(D)審查公務人員任用資格。請依上述選項選出不屬於考試院的職權項目。
- ( ) 20. 總統是我國元首，以下關於總統的任期與職權敘述，何者正確？(甲)任期四年，連選得連任(乙)對行政院負責(丙)統帥陸海空三軍(丁)具有人事任命權(戊)提名司法院長、公布法律。(A)甲乙丙(B)乙丙丁(C)丙丁戊(D)甲丁戊。
- ( ) 21. (甲)開票、計票(乙)登記參選(丙)投票(丁)競選活動(戊)公布結果，請依照選舉的過程先後順序，選出正確的選舉流程：(A)丁乙丙甲戊(B)丙甲丁乙戊(C)乙丁丙甲戊(D)乙丙甲丁戊。
- ( ) 22. (A)Call in 進電視台表達對同性戀婚姻合法化意見的詩笛(B)在董氏基金會工作，向家人宣導菸害教育重要性的春美(C)參與「反萊豬、顧子孫」大遊行的阿鳳(D)宣布參選 2022 年基隆市長選舉的舜子。上述四位國民的行為，何者較不符合「政治參與」的定義？
- ( ) 23. (甲)依照公職人員選舉罷免法規定(乙)主要在落實憲法保障的創制權與複決權(丙)受監護宣告者不能參與人的選舉，但仍舊具有公民投票權(丁)若議題經投票不通過後，兩年內不得再提出。請問：關於公民投票的內容，敘述正確的有哪些？(A)甲丙(B)乙丙(C)乙丁(D)甲丁。
- ( ) 24. 不管是身為女性的千槿和男性的阿澈，都可以參與投票，請問這符合選舉的何種原則？(A)普通原則(B)平等原則(C)直接原則(D)無記名原則。
- ( ) 25. (甲)連選得連任(乙)負責執行上級政府交辦事項(丙)屬於地方民意代表(丁)競選年齡與宜蘭市長相同。依據法律規範，關於基隆市長的敘述正確的有幾項？(A)4 項(B)3 項(C)2 項(D)1 項。