

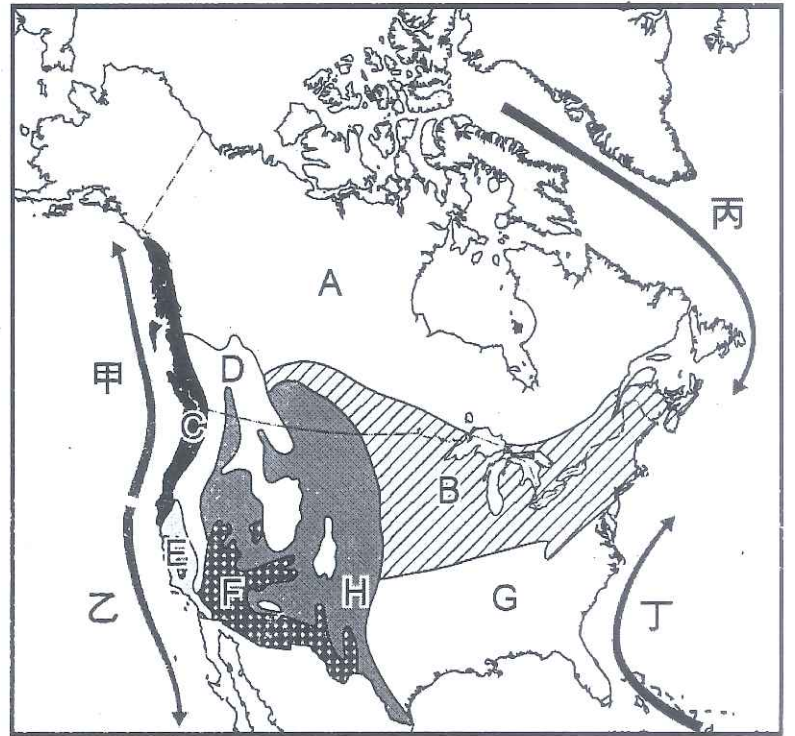
請用 2B 鉛筆作答，並且務必記得在答案卡寫上及塗上個人資料

1~17 題地理，18~33 題歷史，34~50 題公民，共 50 題，每題 2 分，滿分 100 分

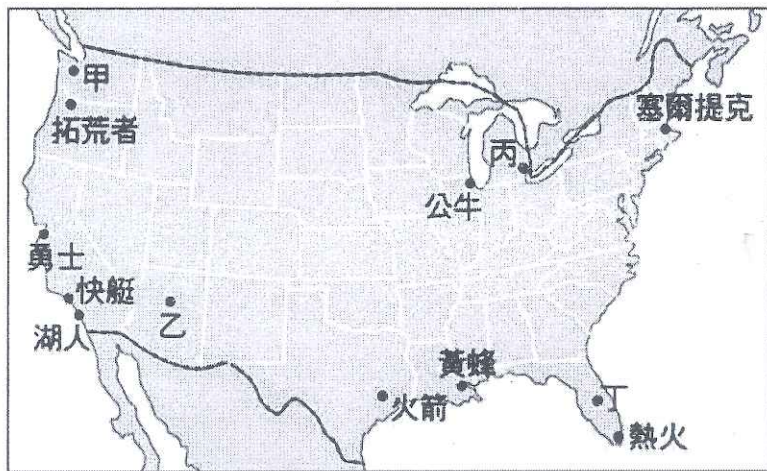
1. 巴拿馬運河是世界唯一的聯洋運河，關於該運河的敘述，下列何者「錯誤」？ (A)連接太平洋與印度洋 (B)切穿中美地峽山地 (C)紐約到台灣的商船經由此處可縮短距離 (D)位於巴拿馬境內。
2. 雄大來到位於極圈內的阿拉斯加欣賞極光奇景，同時也可以觀察到哪一個原住民族的生活特色？ (A)毛利人 (B)印地安人 (C)因紐特人 (D)拉丁美洲人。

附圖為北美洲氣候圖，圖中甲~丁為洋流。請問 3-4 題：

3. 初音未來到美國加利福尼亞州旅行時，看到一整片的葡萄果園。請問：他當時的位置最可能位於何處？ (A)C (B)E (C)G (D)H。
4. 西元 1912 年 4 月 15 日號稱「永不沉沒」的豪華郵輪鐵達尼號，因撞到冰山，在加拿大紐芬蘭外海 640 公里處沉船。據科學家研究，當年這些冰山主要來自格陵蘭，並順著哪一道洋流南下？ (A)甲 (B)乙 (C)丙 (D)丁。



下圖是有關美國的職業籃球協會(簡稱 NBA)的球隊分布簡圖，請依據題目回答 5-6 題：



5. 許多球隊的名稱常與當地的產業和自然環境有關，像活塞隊即因其地區礦產豐富，汽車工業發達而得名，請問活塞隊應位於圖中何處？ (A)甲 (B)乙 (C)丙 (D)丁。
6. 哪一個球隊所在城市最可能遭受強烈颶風侵襲，造成嚴重災害，影響其比賽須移至其他城市的場地進行？ (A)火箭 (B)公牛 (C)拓荒者 (D)勇士。

7. 墨西哥總統在 2019 年 3 月 26 日公開要求○○政府為侵略美洲的歷史道歉。他在個人臉書和推特表示，他已經分別致函該國國王費利佩六世和教宗，希望他們向墨西哥的原住民請求寬恕，按照當今的說法，他們過去的行徑已經構成侵害人權。請問，墨西哥總統致函的國家可能為何國？ (A)美國 (B)加拿大 (C)英國 (D)西班牙。
8. 印加帝國的舊都—庫斯科高 3,399 公尺，玻利維亞首都拉巴斯、哥倫比亞首都波哥大、墨西哥首都墨西哥城皆位於二千公尺以上的高地。中南美洲許多重要城鎮皆位於高原或山間盆地，主要原因為何？ (A)礦產資源豐富 (B)畜牧業較發達 (C)交通較為便利 (D)氣候涼爽宜人。
9. 一九六〇年代，巴西政府將首都由沿海的里約熱內盧遷至內陸的巴西利亞，該國遷移首都的主要考量因素為何？ (A)鞏固國防邊境 (B)開採內陸的礦產資源 (C)解決區域發展不均的現象 (D)擴大民眾的生活空間範圍。

下圖為華北農夫與北美農夫的對話，請根據對話內容回答 10-11 題。



10. 從對話的內容推判，下列哪些可能是北美農業的經營特色？A-集約度高、B-農場規模大、C-市場導向、D-專業化經營。(A)ABC (B)BCD (C)ACD (D)ABCD。
11. 北美農民說：「種植單一作物可節省支出、降低生產成本」，但也容易產生哪些問題？ (A)生產可能過剩 (B)農產品價格高 (C)農業人口較高 (D)工作時數增加。

北美洲高度的都市化、工業化與全球化，被認為是今日發展程度最高的區域之一，也是世界三大經濟板塊中居於領導地位者。請問 12-13 題：

12. 美國東北部經五大湖南側至密西西比河流域一帶和加拿大東南部的聖羅倫斯河谷地是北美洲最早發展的工業帶，也是目前世界主要的工業區。下列哪些是其工業發展的主要有利條件？ A-土地便宜、B-交通便利、C-勞力充足、D-原料豐富。(A)ABC (B)ACD (C)ABD (D)BCD。
13. 加拿大、美國、墨西哥三國在 2018 年 11 月 30 日共同簽訂了「美加墨協定」(UCMCA)，取代了原本的 NAFTA(北美自由貿易區)，在跨國的產業分工上，墨西哥主要提供何種優勢，在邊境設置工業區期望可提升國際競爭力與區域經濟的合作？(A)原料 (B)勞工 (C)技術 (D)資金。

有「赤道國」之稱的南美洲國家厄瓜多，有一座由中國廠商承包建設的大壩，臨近雷文塔多火山。大壩於 2016 年完工運轉至今，裝置的機械操作設施就出現 7648 道裂縫，地質學家對大壩所在地的脆弱地質發出警告。此外《紐約時報》披露「科卡科多-辛克雷水電站」原本是為了滿足厄瓜多的能源需求，幫助這個南美小國脫貧，但它卻讓國家陷入高額危險債務。中國透過借貸厄瓜多近 190 億美元，換取厄瓜多 80% 石油，這些借貸是為了供建造橋樑、高速公路、灌溉系統、學校、衛生診所，以及厄瓜多其他 6 座大壩建設。請問 14-17 題：

14. 由大壩文章內容推測，下列關於大壩的位置敘述何者正確？(A)位於安地斯山脈 (B)位於巴塔哥尼亞高原 (C)位於彭巴草原 (D)位於巴西高原。
15. 為了償還中國貸款，厄瓜多得抽取更多的石油，於是在亞馬孫叢林進行更深探鑽。然而大規模砍伐此地天然植被將導致嚴重環境破壞。請問此地的「天然植被」指的是下列何者？(A)針葉林 (B)莽原 (C)溼草原 (D)雨林。
16. 從報導文章判斷，厄瓜多的熱帶栽培業，除了香蕉、咖啡、可可等作物外，下列何者可能也是重要農產？(A)稻米 (B)橄欖 (C)棉花 (D)甘蔗。
17. 厄瓜多經濟衰退，起因於殖民式經濟型態，高度仰賴一兩種農礦產品輸出，可能造成何種問題？(A)原料不足 (B)市場風險大 (C)勞動力不足 (D)交通運輸不便。

西元 16、17 世紀歐洲科學人才輩出且成果豐碩，從哥白尼《天體運行論》的出版，到伽利略《關於托勒密和哥白尼兩大世界體系的對話》裡主張「太陽為宇宙中心」的觀點、以及牛頓在《自然哲學的數學原理》中提出「萬有引力定律」…等，這些學說、知識不僅改變人類對於自然的看法，促成近代科學的興起，還持續到 18 世紀末，衝擊著人類社會文明的發展，故有評論者謂「科學革命光芒掩蓋基督教崛起之後的一切成就，相形之下，文藝復興和宗教改革只是歷史的插曲…科學革命才是現代世界與現代心智狀態的真正起源。」請回答 18-20 題：

18. 依據上述評論者的觀點，科學革命最可能具有下列何項歷史上意義？(A)衝擊基督教信仰，否定精神生活 (B)改變思考方式，試圖用理性態度了解自然法則 (C)宣揚社會福利政策，以解決貧富差距問題 (D)扭轉古典創作風格，肯定以神為本位的宇宙觀。
19. (甲)大航海時代拓展了歐洲人的視野(乙)印刷術加速了知識的傳播(丙)羅馬教會與各國政府均出資獎勵各項研究(丁)顯微鏡、望遠鏡等新工具相繼改良(戊)學者多採用合理的研究方法追求知識法則。上述哪些是促成此時期科學發展的條件或因素？(A)甲乙丙丁 (B)乙丙丁戊 (C)甲丙丁戊 (D)甲乙丁戊。
20. 文中提及「這些學說、知識不僅…，還持續到 18 世紀末，衝擊著人類社會文明的發展」，意指科學革命啟發了下列哪一運動的出現？(A)文藝復興運動 (B)宗教改革運動 (C)啟蒙運動 (D)新文化運動。

揭開理性主義時代的英國學者--洛克，在 1680 年代光榮革命爆發前夕便已完成政府論一書，書中批評了獨裁專制的政治哲學，強調國家的產生是為了保護人們的「天賦人權」，如若政府破壞這些權利，那麼雙方的契約關係就被認為已廢止，人民有權起而反抗並建立新政府。請回答 21-23 題：

21. 下列何項敘述與洛克的主張相違背？(A)君主是上帝在世上活生生的形象；所以臣民必須服從王，如同服從神一般 (B)組織政府的目的是在維護人民之自由財產不受侵害，不受壓迫與欺凌 (C)上帝賦予人們若干權利，包括生存、自由、財產和追求幸福的權利 (D)人民的意志是國家權力的來源，故政府立法應以公共意志作為依據。
22. 洛克的論述對法國學者影響深遠，但不包括下列哪位的政治學說？(A)孟德斯鳩的「三權分立」(B)馬基維利的「君王論」(C)盧梭提倡的「主權在民」(D)伏爾泰強調的「言論自由」與「宗教寬容」。
23. 上述的政治學說成為十八世紀哪些改革的重要思想來源？(甲)美國獨立運動(乙)法國大革命(丙)部分君主營造「開明」形象(丁)英國清教徒革命。(A)甲乙丙 (B)乙丙丁 (C)甲乙丁 (D)甲丙丁。

歷史老師要同學們以近代歐洲的某一變革為主題上台報告，麥斯準備的內容如下：(請據此回答 24-26 題)

時間、發源地	十八世紀中期、英國
發展、進程	1. 業者發明飛梭、軋棉機、機器織布機等工具，以快速增加紡織品的產量 2. 煤、鐵需求增加，化學工業蓬勃發展 3. ○○改良蒸汽機，成為火車與船舶的動力來源
影響	物質文明的進步，人們得享物美價廉的工業化產品；□□的出現增加就業機會，形成許多新興的工業市鎮；貧富懸殊等問題叢生促使☆☆興起；△△為發展工業化，加速對外侵略的行動，導致國際衝突越演越烈


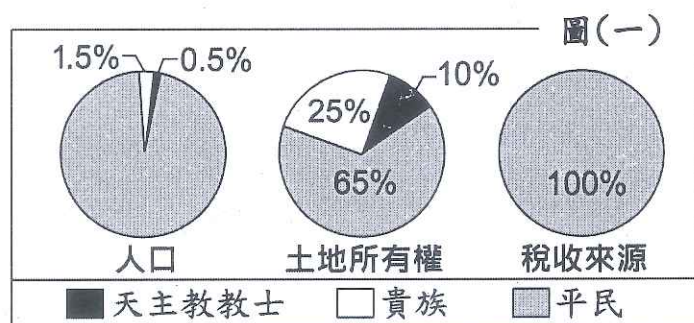
24. 從他準備的內容來看，可知其報告的歷史主題為下列何者？ (A)地理大發現 (B)宗教改革 (C)科學革命 (D)工業革命。
25. 麥斯請同學回答報告內容中缺漏的部分，何人回答正確？ (A)凱羅：○○應填入馬克思 (B)約翰：□□應填入共產制度 (C)包姆：☆☆應填入社會主義學說 (D)亨利：△△應是亞非國家。
26. 同學提問此一變革何以起源於英國，麥斯回答其優勢包括：(甲)政府制定有利工業發展的法律，如專利法(乙)社會政治動盪提供發明者創造的商機(丙)國內礦產蘊藏豐富，紡織品的原料來源充足(丁)擁有廣大海外殖民市場，資金充裕且勞力充足。被老師指出哪項是錯誤的？ (A)甲 (B)乙 (C)丙 (D)丁。

近代史上簽署過許多文件或法案，其義深遠且跨越當代價值仍影響著今日民主政治的發展。參閱下列四份資料，請回答 27-28 題：

<p><b>資料一</b> 平民代表們決定闡明人類自然且神聖的權利，國民會議在上帝之前及其庇護下，承認並且宣佈如下的人權與公民權…</p>	<p><b>資料二</b> 如未召開會議，經 25 位貴族同意，英王不得任意徵稅、擴軍，未經合法裁決，不得肆意逮捕人民或沒收其財產…</p>	<p><b>資料三</b> 合眾殖民地是自由獨立的國家，按其權利取消一切對英國王室效忠的義務，從此斷絕與英國之間一切的政治關係…</p>	<p><b>資料四</b> 王必須定期召開國會，和平時期未經國會同意，不得維持常備軍；英王不得干涉法律，議員們在國會享有言論自由…</p>
---	--	--	---


27. 上述文件與其歷史意義的配對何項正確？ (A)資料一是人權宣言：王權受到議會的限制 (B)資料二是權利法案：確立英國議會政治的體系 (C)資料三是獨立宣言：北美殖民地推翻暴政而建國 (D)資料四是大憲章：宣揚法國人民享有自由與平等的權利。
28. 請依這四份文件公布時間的先後排序，正確者為何？ (A)資料一→資料二→資料三→資料四 (B)資料二→資料四→資料三→資料一 (C)資料三→資料四→資料一→資料二 (D)資料四→資料一→資料二→資料三。

圖(一)和圖(二)是描述法國史上某一重大政治事件的圖表：圖(一)呈現事件發生前的社會狀況，圖(二)的高大建築是監獄。請回答 29-30 題：



29. 有關這次重大政治事件的說明，何者不正確？ (A)該事件爆發前，教士與貴族均享有免稅等特權 (B)引爆事件的導火線是三級會議不合理的投票方式與徵稅問題 (C)1789 年 7 月 14 日攻佔圖(二)這座監獄被視為揭開革命序幕，後來該日被訂為國慶日 (D)爆發當年即改建共和體制，處死國王，擁護路易拿破崙為總統。
30. 西元 1792 年起，此一事件發展轉趨激進的主要原因為何？ (A)歐洲各國君主組織聯軍進攻，革命政府恐懼外力介入 (B)拿破崙稱帝後下令廢止憲法、解散國會 (C)掌權的羅伯斯比爾因政變被推上斷頭台處死 (D)國會發動政變驅逐企圖恢復天主教的國王。

31. 圖(三)是《美國憲法》某次修正案的內容，此一修正案的通過最可能與 1860 年代的哪一事件有關？ (A)拒絕向英國納稅而掀起獨立運動 (B)13 州代表齊聚費城修訂落實啟蒙思想的聯邦憲法 (C)南北方因在政治、經濟及奴隸制度問題上的歧異而爆發內戰 (D)羅斯福總統為解決經濟危機而推行新政。
32. 拿破崙失敗後，歐洲各國為重建政治秩序，召開維也納會議，有關該會議的說明何者錯誤？ (A)會議的操縱者是奧國首相梅特涅 (B)為避免再發生大規模戰事，各國決定成立維持和平的國際機構 (C)以正統為原則恢復各國王室統治權 (D)各主要國家主張採取補償原則以維持「均勢」，增強法國周邊國家的力量以防止其再度擴張。
33. 法國七月革命的成功，促使英國各界要求國會改革，終在西元 1832 年起通過一連串改革法案，達成了哪些成果以增加參政人口？ (A)採公開記名投票以符合公正原則 (B)下議院通過的法案上議院仍具有否決權 (C)降低選民年齡限制，開放女性選民參政 (D)降低選民財產限制，重新調整選區席次。
34. 在經濟學的理论中，關於婷昀一家人中屬於失業者的有幾人？ (A)4 人 (B)3 人 (C)2 人 (D)1 人。



在美國境內或受美國法律管轄的任何地方，都不允許有奴隸制或強制勞役的存在，除非是依法判定的懲罰。

圖(三)

奶奶	退休在家含飴弄孫
爸爸	在銀行擔任副理
婷昀	剛辭職想要轉換跑道，尚無新的工作
弟弟	正在軍中服役
妹妹	一心想要打工賺錢的高中學生

35. 承上題，失業者可依據何種法律向政府申請津貼與補助，以維持他在失業期間的基本生活？ (A)就業保險法 (B)勞動基準法 (C)消費者保護法 (D)勞工退休金條例。
36. 翔翔最近買了「政府為籌募資金而發行的一種憑證」，賺了不少錢，可判斷其所投資的理財工具與下列何者相同？ (A)我得花管理費，才能委託專業機構進行理財 (B)將錢存在金融機構中賺取利息 (C)在美元貶值時，大量買進，待日後升值再賣出，賺取價差 (D)這種理財工具，讓我成為債權人。
37. 在整體產業升級過程中，政府對於失業的勞工會採取積極輔導，進行職業訓練，這種作法可以強化失業者何種功能？ (A)工作意願 (B)工作能力 (C)刺激求職行動 (D)增加求職需求。
38. 承上題，因為產業升級所導致的失業，與下列何種失業類型相同？ (A)大學畢業，四處投遞履歷的靖元 (B)國道改用 ETC 收費，所以收費員被解雇 (C)金融風暴的影響，公司倒閉而失業 (D)因經濟不景氣，導致公司業績不佳，因而被裁員。
39. 下表是小允將去年的積蓄投資在不同的理財工具中，從表中內容判斷，丙投資工具的投資報酬率為多少？ (A)83.3% (B)16.7 (C)-16.7 (D)-1.2%。

投資工具	投入金額 (萬元)	目前價值 (萬元)
甲	70	100
乙	80	90
丙	180	150
丁	150	200

40. 有關理財工具的投資報酬率與風險，兩者是呈現何種關係？ (A)正比 (B)反比 (C)無論是何種理財工具，其風險都是固定不變的 (D)無論是何種理財工具，其報酬都是固定不變的。
41. 承上題，從投資報酬率與風險關係判斷，甲最有可能為何種投資工具？ (A)存款 (B)基金 (C)債券 (D)股票。
42. 中正國的總人口數為 500 萬人，勞動人口為 300 萬人，失業人口為 30 萬人，請問中正國的失業率為多少？ (A) 10% (B)9% (C) 6% (D)1%。
43. 日前蕭敬騰在台北跨年晚會時，唱到第二首《王妃》時，在舞台上疑似重心不穩，不小心往前摔倒，但他仍然裝作若無其事的「躺」在舞台上，賣力演唱，想要緩和台上所有人的緊張感。請問，上述主要在描述蕭敬騰呈現工作倫理中哪種內涵？ (A)從事社會公益 (B)遵守專業倫理 (C)發揮敬業精神 (D)隨時學習新知。

44. 新冠狀病毒仍持續延燒，銀行為了協助人民防疫，宣布受疫情影響，無法按期繳交信用卡帳款者，提供客戶展延信用卡繳款服務。請問，銀行能考量消費困境，最能展現企業的何種精神？ (A)風險管理 (B)社會責任 (C)永續發展 (D)綠色經濟。

小毅在一間上市公司擔任工程師已經十多年，也擁有這間公司的股票，工作十多年如一日，沒有晉升的機會，小毅心生倦怠，興起自己創業的念頭，跟老婆討論後，他決定開一間火鍋店。

日前台灣開放含萊克多巴胺豬肉進口，為了讓消費者能安心食用，在火鍋店的牆上都有清楚標示店內豬肉製品，均來自於台灣國產豬，店內用的食材也都極為新鮮，經營了半年之後，在 Google Map 獲得不少了五星級評價，店內經常性客滿。

小毅是個非常體恤員工的老闆，每個星期有兩天的固定休假日，也會安排員工旅遊、或給予員工額外的獎勵金，與員工間的相處融洽。為了賺取額外的收入，小毅會利用固定的休假日，到觀光景點當街頭藝人，讓家庭的經濟能做更多元的安排。請問：

45. 小毅利用休假日到觀光景點當街頭藝人，賺取額外的收入，此作法所呈現的概念與下列何者相同？ (A)先將收入規劃一部分儲蓄，剩餘做支出的規劃 (B)利用記帳本，減少不必要的支出 (C) 將用不到的東西上網以二手商品拍賣 (D)考量物品是需要還是想要。
46. 關於上述文章的敘述，何者正確？ (A)創業者也屬於就業者 (B)因為小毅擁有上市公司的股票，所以當此公司虧損時，小毅需再拿出私人財產來支付公司的虧損 (C) 對於家庭日常生活的開銷，基於平等，須由夫妻平均分擔、各出一半 (D)小毅經營的火鍋店屬於獨資，資金的來源可向社會大眾募集。
47. 從上述劃線處，可以看出小毅火鍋店之所以成功，是因為其具有什麼倫理？ (A)工作倫理 (B)企業倫理 (C)環境倫理 (D)科技倫理。

遠東新世紀以於 2020 年獲《遠見雜誌》CSR 企業社會責任獎，董事長徐旭東指出：「集團擁有一貫化回收寶特瓶、海洋廢棄塑膠製程。2013 年起陸續在中國、日本及美國等地擴充聚酯回收產能，可將廢棄寶特瓶再製成飲料瓶、紡織品、運動鞋材、玩具和電子產品包材等，現在每年在全球回收 81 億支寶特瓶，能減少的溫室氣體相當於 2300 座大安森林公園的全年吸碳量；2016 年起與美國非政府組織—Parley for the Oceans 及運動品牌商 adidas 合作，回收海島國家的海洋廢棄塑料，至 2019 年已經成功減少超過 3000 噸海洋廢棄塑料，累計銷售 1700 萬雙由海洋廢棄塑料製成的運動鞋款，以降低廢塑料對海洋生態的破壞。請問：

48. 文中遠東新世紀的做法，最符合哪項企業倫理？(A)重視環境保護 (B)從事社會公益 (C)重視消費者權益 (D)保障員工權益。
49. 遠東新世紀實施回收再利用的作法，符合下列何種理念？ (A)追求利潤，降低成本 (B)分散風險 (C)綠色消費 (D)永續發展，跨世代的公平。
50. 根據上文，遠東新世紀所做的相關作為，下列何者也符合這樣的概念？(甲)選購包裝複雜的商品；(乙)使用節能標章的商品；(丙)建造綠色廠房；(丁)使用一次性及美耐皿餐具；(戊)竭澤而漁。 (A)甲乙 (B)乙丙戊 (C)乙丙 (D)丙丁。

〈作答完畢，請再次檢查畫卡是否正確〉