

※ 下課鐘響前不得繳卷

班級： 座號： 姓名：

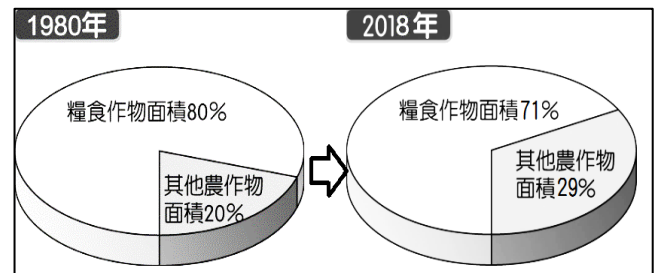
1~17 題地理，18~33 題歷史，34~50 題公民 請用 2B 鉛筆作答，將答案畫至答案卡上。

P. 1

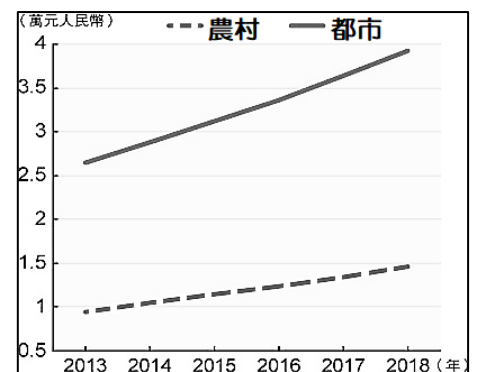
共 50 題，每題 2 分，滿分 100 分

地理

() 1. 右圖為中國國家統計局的資料，由圖可發現中國近四十年來不同類型的作物栽種面積比例出現明顯變化，造成其變化的主因可能和下列哪一項因素最相關？(A)因應市場需求改變和利潤的考量而做轉變(B)農產品有商品化的趨勢(C)經營方式愈來愈集約、科技化(D)工業快速發展，農地改為工業用地，耕地大幅減少。



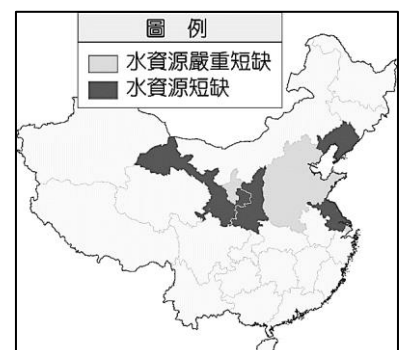
() 2. 右圖為中國農村與都市居民人均可支配收入統計圖，根據圖中資料判斷，農村與都市收入的差距最有可能導致中國下列哪一種政策或計畫實行？(A)開始經濟改革開放(B)部分都市推行居住證制度(C)大規模建設高速鐵路(D)制定農業環境保護法規。



() 3. Henry 來自寧夏，2011 年到香港讀書，畢業後留在香港。2017 年他開始了每天跨境到鄰近的某經濟特區上班的生活，每天約花 3 小時在路上。請問：Henry 上班的地點是在下列哪一個都市？(A)廈門(B)上海(C)深圳(D)海南。

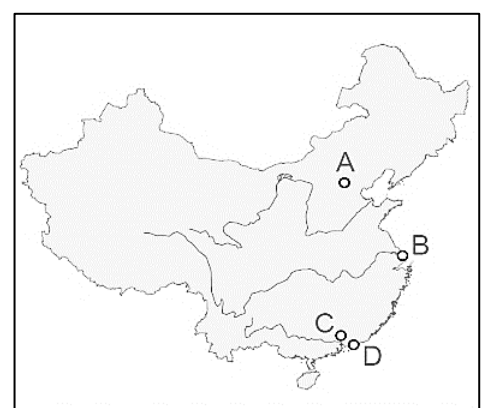
() 4. 21 世紀初國際上掀起中國熱潮，中國成為全球主要資金流出及流入國，占有重要國際地位。請問：中國的全球貿易投資與經濟狀況的描述，何者錯誤？(A)外國對中國的投資最主要來自亞洲、歐洲(B)中國對各洲投資以亞洲所佔比例最大(C)中國對外投資的主要目的是希望取得石油、礦產等自然資源(D)至 2018 年中國 GDP 世界第一，已成為世界最大經濟體與貿易大國。

() 5. 右圖為中國水資源短缺情形分布圖，中國由於人口增加及工商業發達，水資源漸趨不足。請問：此空間分布和下列中國的哪一種產業活動關係最密切？(A)經濟特區的工業大量用水(B)「一帶一路」計畫中的「一路」過度發展(C)華北平原的重工業相當發達(D)內蒙古高密度的畜牧養殖方式。



() 6. 中國近年興起網路購物節，交易金額龐大，例如天貓宣布今年雙 11 當日訂單達每秒 58.3 萬筆，30 分鐘營業額突破 1 兆台幣，顯示巨大的消費潛力。是什麼原因讓中國擁有龐大的消費潛力？可能原因有：(甲)政府政策的配合(乙)人民所得增加(丙)面積大且資源豐富(丁)電子商務蓬勃發展。上列中正確的原因是哪些？(A)甲乙(B)甲丙(C)丙丁(D)乙丁。

() 7. 右圖為中國四個一線都市—「北上廣深」的分布圖，其中哪一個都市位於海運和河運的交會點，交通便利且腹地廣大，是中國主要的金融中心，東方明珠塔為其主要地標？(A) A (B) B (C) C (D) D。



() 8. 中國多年來一直都是世界人口第一大國，其總人口在 2019 年突破 14 億大關。下列哪一項中國經濟發展的特色，與該國人數眾多較無關係？(A)中國為世界第二大的消費市場(B)中國主要的國際貿易狀況為出口大於進口(C)雖然工商業產值遠超過農業，但農業仍是中國重要的基礎產業(D)改革開放後，中國 GDP 大幅提高，但人均 GDP 仍偏低，2016 年僅排名世界第 74 名。

() 9. 日前一名美國人試圖體驗沒有「中國製」的生活，他從把衣服脫掉，只穿內褲加上一塊布開啟了一天，結果發現很難生存，不僅蘋果手機沒辦法用，買不到衣服，甚至連吃飯的餐具都成問題，因為處處都寫著 Made in China。請問：中國製的商品優勢與中國的何項特色最為相關？(A)農礦資源豐富(B)研發技術領先(C)國內消費市場廣大(D)勞工多且工資低廉。

() 10. 中國企業近年來為了快速獲取產業技術或進入歐美市場，紛紛併購國外企業，希望加速國內產業升級。在此目的下，下列哪一個產品製造的企業較不會被納入併購的名單中？(A)手術機器人(B)自動駕駛車(C)虛擬實境健身器材(D)彩色口罩。

背面尚有試題

※ 下課鐘響前不得繳卷

班級： 座號： 姓名：

P. 2

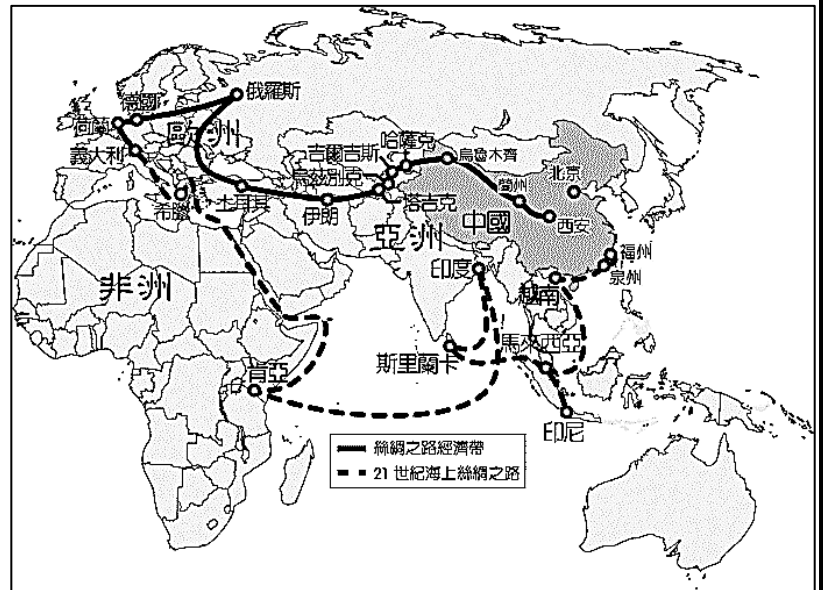
- () 11. 「中國的生產優勢現今面臨許多挑戰，企業成本大幅增加，多國企業早已布局將工廠轉往其它國家，不斷尋找可替代中國市場的投資環境。從蘋果供應鏈有兩成移到印度，AirPods 產能三成轉至越南，即可見端倪。另外，2018 年中美貿易戰開始，有更多外資從中國撤出搬到東南亞國家。」請問：上文提到外國企業從中國遷移至他國的主要關鍵，應包括下列哪些因素：(甲)美國對中國提高關稅(乙)人民幣不斷升值(丙)歐美反中情緒拒買中國貨(丁)中國基本工資持續上漲。上列中正確的原因是哪些？(A)甲乙(B)乙丙(C)丙丁(D)甲丁。

◎「一帶一路」計畫是習近平在 2013 年提出的政策，主要目的之一是要串連中國和東南亞、南亞、中東、非洲及歐洲各國的貿易路線。當時的背景是，在 2008 年金融海嘯以後，中國為了刺激國內的經濟而提出了大規模的財政支出計畫，結果雖然讓中國經濟有所起色，但過多的資本投資卻造成了新的問題。

在這樣的情況下，中國解決問題的方法是，借錢給參與一帶一路計畫的國家，讓他們有錢支付給中國來替他們興建基礎建設。中國打的如意算盤是：如果這些國家還錢，中國可以賺到利息，但如果還不出錢，他們就必須透過提供天然資源或是租借國家重要港口給中國的方式來還債。

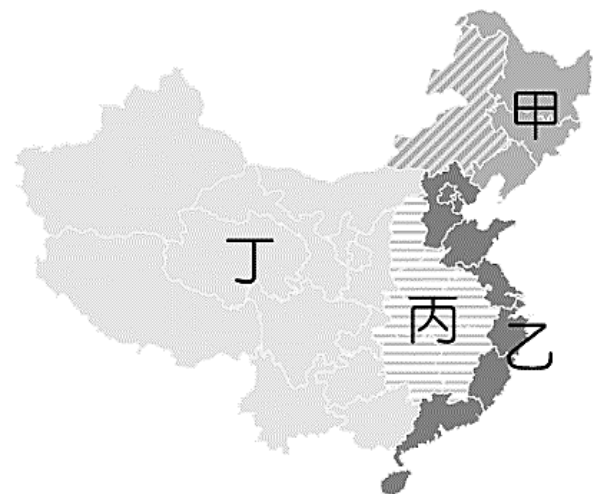
一直到 2017 年為止，一帶一路都還有很好的國際聲勢，但是在斯里蘭卡因為無力償債，被迫將具戰略地位的漢班托塔港，租借給中國長達 99 年之後，各國彷彿大夢初醒終於看清了一帶一路就是中國設下的債務陷阱，再加上其他隱憂，開始放棄投資項目。而屋漏偏逢連夜雨，在一帶一路發展受阻的情況下，今年爆發的肺炎疫情重創了多國的經濟，原本在中國的預期下，這是獲得這些國家資源與港口的好機會，但事實上，如果歐美大國介入，很有可能會要求中國減輕這些公司的債務，一旦債務成為呆帳，中國的損失將難以估計。《李妍慧 股感知識庫 2020.06.17》

- () 12. 文中提到中國想藉由推動「一帶一路」計畫來解決的國內問題，應該是指下列何者？(A)礦產開發過度(B)生產能力過剩(C)缺乏基礎建設(D)美國企業的競爭。
- () 13. 中國提出「一帶一路」政策，對外的主要目的為何？(A)強化各國資源的流通(B)加強與紐澳的區域合作(C)消弭與美國的紛爭(D)串聯五大洲進行貿易。
- () 14. 右圖是「一帶一路」路線圖，下列關於「一帶一路」路線特色的說明，何者正確？(A)「一路」的起點是西安(B)「一帶」和「一路」的終點分別是歐洲和非洲(C)「一路」是藉由印度洋串聯東南亞和非洲的貨運(D)「一帶」的運輸路線促使廈門等經濟特區再造商機。
- () 15. (甲)本國勞工工作機會被中國勞工搶走(乙)積欠的龐大建設費用無力償還(丙)國家主權和政治可能被中國干預(丁)國內環保團體的壓力。與中國合作一帶一路的國家，國內已有反彈聲浪，部分國家開始放棄投資項目，最主要是因為面臨上列哪些問題？(A)甲乙(B)乙丙(C)丙丁(D)甲丁。



◎2000 年起，中國政府將中國畫分為：東部地區、中部地區、西部地區和東北地區四大經濟區，如附圖所示。請問：

- () 16. 中國畫分四大經濟區反映其目前經濟發展出現下列何種現象？(A)區域發展失衡，出現顯著差異(B)區域偏重發展工業，農業資源不足(C)交通便利，串連各區域產業發展(D)國土規劃完善，重視生態保育。
- () 17. 圖中哪一個區域因位置較為內陸，改革開後起步較慢，發展不如東部，但近年來以較低廉的工資及自然資源優勢，吸引外國資金投入，成為未來發展潛力最被看好的地區？(A)甲(B)乙(C)丙(D)丁。



※ 下課鐘響前不得繳卷

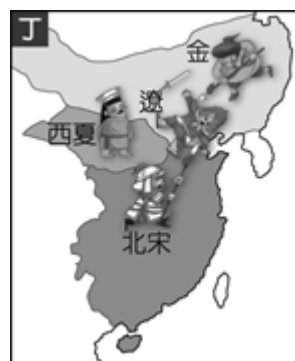
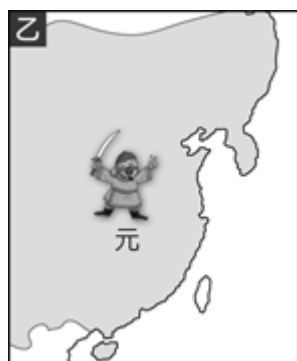
班級： 座號： 姓名：

P. 3

歷史

- () 18. 有一本書內容：「…西元十三世紀時，有位來自義大利威尼斯商人馬可波羅，跟隨父親經絲路輾轉來到中國，受到元世祖忽必烈的重用，曾留居中國多年，返國後口述自己在東方的經歷與見聞，完成馬可波羅遊記一書，而書中所記載的中國繁榮景象，激起後來歐洲人海外探險的動機之一。」請問：上文提到的威尼斯商人「馬可波羅」，在元代差別待遇的民族政策下，應該屬於哪個階級？(A)蒙古人 (B)色目人 (C)漢人 (D)南人。
- () 19. 宋人岳飛的盡忠報國形象，一直為後人所景仰，而他完成的一首詞滿江紅，則述說著個人對時代的悲切，滿江紅中一段：「…駕長車，踏破賀蘭山缺。壯志飢餐胡虜肉，笑談渴飲匈奴血。…」請問：滿江紅詞中的「胡虜」、「匈奴」，是指當時的哪一個草原民族？(A)契丹 (B)匈奴 (C)女真 (D)蒙古。
- () 20. 歷史老師為加強學生對課文主題：「西班牙、葡萄牙人新航路與東亞經濟網絡建立」的理解，寫下了一段話：「十五世紀末，歐洲人發現了通往亞洲的新航路，他們帶著從美洲得到的□□□□，透過亞洲殖民據點的轉運，大量購買中國的商品，而鄰近的日本，也以本國所產的□□□□交換中國的商品；此時，由於東亞各國與西方各國以此為交易媒介，販運各種商品至世界各地，進而促使全球經濟網絡的形成。」請問：上述內容中的□□□□，是指下列何物？(A)番薯 (B)玉米 (C)馬鈴薯 (D)白銀。
- () 21. 大雄說：「西晉的『永嘉之禍』與北宋的『靖康之禍』，都造成朝代的結束。」靜香說：「『永嘉之禍』與『靖康之禍』都因為□□□□而發生」請問：上述靜香所說的□□□□，是指下列何者？(A)外族入侵 (B)諸侯叛亂 (C)流寇之亂 (D)軍隊叛變。
- () 22. 下列有關宋元時期的「經濟發展」敘述，何者**不正確**？(A)宋代對外貿易以海路為主，政府在廣州、泉州等地設立「市舶司」，進行收稅事宜 (B)蒙古帝國在各地廣設「驛站」，提供信使、官員與旅人歇息處所 (C)北宋畫家張擇端的「清明上河圖」，以首都「臨安」為繪畫背景，展現城市生活的熱絡 (D)元帝國首都，因為國內外商人雲集，有各種雜技表演與節日慶典，熱鬧非凡。
- () 23. 宋元時期的科技成就豐碩，幾個重要科學發明的投入實用及大規模外傳均在此時，其中三項成就更是在航海、學術、戰爭方面有重大影響。請問：上述所指是哪些科技成就？(A)指南針、印刷術、火藥 (B)羅盤、造紙術、秧馬 (C)青銅器、造紙術、火藥 (D)指南針、印刷術、秧馬。
- () 24. 清帝國統治中國時，針對不同的民族實施多元的統治政策，其中對「蒙古」和「西藏」，清帝國是以何種方式進行統治？(A)強迫兩族都要「薙髮留辮」 (B)保護和支持其宗教信仰，藉以拉攏民心 (C)大興「文字獄」，箝制人民思想 (D)舉行科舉考試，以籠絡人心。
- () 25. 中國的版圖隨著歷史發展時有增減，首次將「蒙古」、「西藏」、「臺灣」、「新疆」等地先後納入版圖，並成就帝國盛世的是下列哪一個朝代？(A)宋代 (B)元代 (C)明代 (D)清代。
- () 26. 宋代在農業方面，有許多關鍵發展與成就，例如「新稻種」的引進，再加上當時的耕作技術改良與進步，使得糧食產量大增。請問：當時是由何處引進新稻種（早熟稻）？(A)天竺（印度） (B)占城（越南） (C)呂宋（菲律賓） (D)巴達維亞（印尼）。

【題組一】請根據下面四張歷史演變形勢圖【甲】、【乙】、【丙】、【丁】，回答27~29題



- () 27. 請判斷上圖內容發生的時間先後，正確排列為何？(A)甲乙丙丁 (B)乙丁丙甲 (C)丙乙甲丁 (D)丁丙甲乙。
- () 28. 北宋與南宋時期，在對外關係上，皆曾擬定「聯合次要敵國消滅主要敵國」之重要戰略，對當時造成嚴重的覆亡結果。請問：上面四張歷史形勢圖，哪兩張代表這種戰略的實施？(A)甲乙 (B)甲丙 (C)甲丁 (D)乙丁。
- () 29. 西漢初年，因為國力較弱，對當時的北方草原民族的入侵，採取屈辱的和親政策，而在宋朝建立之初，因為北方草原民族的入侵，當時的宋真宗在率軍親征後，採取何者方式，來維持兩國長久的和平？(A)和親政策 (B)支付歲幣 (C)文化交流 (D)經濟合作。

背面尚有試題

※ 下課鐘響前不得繳卷

班級：

座號：

姓名：

P. 4

【題組二】請依下列歷史人物的代號，回答30~33題

【甲】鐵木真	【乙】忽必烈	【丙】朱熹	【丁】沈括	【戊】朱元璋	【己】鄭和
【庚】吳三桂	【辛】利瑪竇	【壬】徐光啟			

- () 30. 在歷史上，他先後與繼位者發動了「三次西征」，並創建了橫跨歐亞大帝國。請問：這位歷史人物是指誰？(A)甲 (B)乙 (C)己 (D)庚。
- () 31. 南宋時期的理學集大成者，他將論語、孟子、大學、中庸合稱為「四書」，並撰寫四書集注，成為元代以後的科舉考試定本。請問：這位歷史人物是指誰？(A)丙 (B)丁 (C)戊 (D)壬。
- () 32. 西元十五世紀初，在當時的皇帝派令下，他率領龐大艦隊出使「西洋」，擴大了當時「朝貢貿易」的規模與範圍。請問：這位歷史人物是指誰？(A)乙 (B)戊 (C)己 (D)庚。
- () 33. 西元十六世紀以後，他結合「西學」與「教義」，獲得不少士大夫的認同，奠定天主教在華發展的基礎。請問：這位歷史人物是指誰？(A)丙 (B)丁 (C)辛 (D)壬。

公民

《新聞閱讀題》請閱讀新聞內容，並依題意選出正確答案。

(閱讀一)

工運指標活動「秋鬥」於 109 年 11 月 22 日登場，遊行隊伍上街表達「反毒豬、反雙標、反黨國」等訴求，抗議中央執政失當。其中，抗議萊豬的民眾在執政黨中央黨部外貼滿上千個「毒」字，甚至朝執政黨部丟雞蛋、石頭；現場團體不斷放送歌曲諷刺執政黨當年在野時反美牛，執政後卻雙重標準。在野黨與社會團體齊聲要求蔡政府正視民意，也揚言不排除在立法院繼續杯葛行政院長蘇貞昌的施政報告，並對行政院長提出不信任案...。請問：

- () 34. 依照上述新聞內容劃線處判斷，關於不信任案的敘述何者正確？(A)不信任案通過後，10 日內須交由立法院追認(B)不信任案通過後，總統也不能主動解散立法院(C)不信任案通過後，行政院長應辭職，為了相互制衡，此時總統就必須被動解散立法院(D)不信任案若未獲通過，該行政院長任期內皆不可再提不信任案。
- () 35. 民眾因不滿政府的政策而齊聚執政黨中央黨部抗議執政失當。試問上述執政黨所掌握的權力種類與下列何者相同？(A)審查中央政府的預算(B)提出紓困方案緩解失業率(C)負責公務人員撫卹與任免(D)處理民眾訴訟案件。
- () 36. 行政院有提施政報告之責、立法院則有監督之責，這可以用來說明政府之間存在何種關係？(A)主權在民(B)法治政治(C)權力分立(D)違憲審查制度。

(閱讀二)

根據內政部近日函釋：「民眾必須出具兩位精神科專科醫師評估鑑定的診斷書，加上合格醫療機構開具的手術證明，才能變更身分證性別。」意即若要在身分證上變更性別，必須先動變性手術。台灣伴侶權益推動聯盟今(20)日質疑，相關規定不但違反人權，也有「違憲」之虞，伴侶聯盟將循途徑挑戰內政部的行政命令。伴侶聯盟常務理事許秀雯表示，除了會提出訴願，也不排除要求《甲》進行釋憲，希望透過法律改革，捍衛多元性別者的基本人權...。請問：

- () 37. 根據上文所述，為了確保政府運作符合憲法要求，當政府作為有違憲疑慮時，所建立的規範為下列何者？(A)違憲審查制度(B)法治政治(C)主權在民(D)分權制衡。
- () 38. 承上題，此規範建立目的就是為了限制政府權力，實現「憲政精神」，請問，下列何者較不屬於「限制政府權力」？(A)政府施政須向人民負責，若政策失敗就會在下次選舉失利(B)政府不以主觀好惡決定，依據法律行使職權(C)政府將各種功能的權力加以分散，交給不同機關執行(D)人民必須遵守法律的規定。
- () 39. 何者不屬於上文所提之(甲)所屬院會的職權範圍？(甲)統一解釋法律與命令(乙)審理憲法修正案(丙)處理公務員違法失職之懲戒事項 (丁)審理總統、副總統的罷免案(A)甲丁(B)乙丙(C)甲丙(D)丙丁。
- () 40. 請問：(甲)的身分和職權是如何產生的？(A)參與國家考試取得(B)委員互相推選產生(C)總統直接任命(D)總統提名經立法院同意。

※ 下課鐘響前不得繳卷

班級：

座號：

姓名：

P. 5

(閱讀三)

監察院去年(109 年)就曲棍球協會人員涉侵占公款案，彈劾台中地檢署檢察官陳隆翔，引起司法界大反彈發起「捍衛司法尊嚴」連署，職務法庭在今年 6 月 30 日判陳不受懲戒，監察院不服，提起再審。監委高涌誠並在上個月 28 日赴法務部巡察時，針對調查報告直指陳隆翔案中涉及制度面缺失，監院要求法務部改進，檢討制度面。沒想到，事過近 1 年半，法務部並無任何作為，只表示會進行「宣導」。對於法務部的冷漠以對、相應不理，終於引發監察委員的怒火，揚言對法務部提請相關處置！請問：

- () 41. (甲)考試院長(乙)立法院長(丙)立法委員(丁)行政院長。上述哪些職位產生方式與監察委員相同的有幾項？
(A)1 項(B)2 項(C)3 項(D)4 項。
- () 42. 監察院行使的彈劾權是(甲)憲法賦予監察院的權力，主要是針對(乙)行政機關違法或是失職時，向(丙)其主管或上級機關提出，之後送交(丁)公務員懲戒委員會進行懲戒。請問，根據劃線處判斷，敘述正確的有幾項？
(A)1 項(B)2 項(C)3 項(D)4 項。

《單選題》根據題目敘述，選出最合適的答案。

- () 43. 根據下列對話內容判斷，請問誰不是來自三權分立的國家？(A)林安可：我們的總統可以提名審計部長(B)米蘭達：我們的議會擁有監督行政機關的權力，且無人可以跟議會抗衡(C)德寶拉：我國的司法機關超出黨派之外，獨立審判(D)羅傑斯：我們的行政機關具有選拔人才的權力。
- () 44. 四位同學參與社會知識達人競賽，回答「三權分立學說」的相關問題，其中有個同學回答不正確，請問你能幫忙找出是哪位同學嗎？

(A)	定農：由法國思想家孟德斯鳩提出。
(B)	阿潛：分為行政、立法、司法三權。
(C)	阿頡：行政部門有用人之權，不會有濫用私人的疑慮。
(D)	智光：司法權負責監督行政和立法機關是否濫權。

- () 45. (A)辦理全國國中教育會考(B)考核公務人員績效(C)辦理警察人員特考(D)審查公務人員任用資格。請依上述選項選出不屬於考試院的職權項目。
- () 46. 請依照下文敘述推斷，憲政體制下有限政府的具體內容配對何者正確？(A)法治政治：佳豪是一個熱心公共事務的青年，為了實現政治理想，投入選舉，最後獲得選民支持，當選總統。(B)違憲審查制度：佳豪當上立委後，為了維護治安，降低犯罪率，便積極推動晚上 10 點禁止出門的政策，此政策必須通過立法院三讀過才能成為法律，在野黨立委紛紛表示不妥，不予支持，但佳豪所屬的政黨仗著佔有立法院的過半席次，於是強行通過法律。(C)主權在民：《晚上 10 點禁止出門》政策公布之後，人民紛紛表示民主倒退，侵犯人民自由，於是大力要求釋憲，相關單位做出解釋，認定法律違反憲法，無效。(D)權力分立：佳豪所領導的政府受到重挫，也認知到總統權力也受到限制，不能為所欲為。
- () 47. 總統是我國元首，以下關於總統的任期與職權敘述，何者正確？(甲)任期四年，連選得連任(乙)對行政院負責(丙)統帥陸海空三軍(丁)具有人事任命權(戊)提名司法院長、公布法律。(A)甲乙丙(B)乙丙丁(C)丙丁戊(D)甲丁戊。
- () 48. 泰國從今年七月中旬起發動一系列反政府的集會遊行，民眾連日來走上街頭，大規模要求王室改革、總理帕拉育下台及解散國會等，讓當局祭出緊急命令、起訴示威者等來反制。不過，緊急命令今天上路第 2 天，示威者無視禁令，再度聚集曼谷市中心抗議，警方也以強力水柱噴灑，企圖驅散示威者…。請問：在我國，關於「緊急命令」的敘述何者有誤？(A)由行政院會進行決議(B)需先經立法院同意追認後總統才能發布(C)通常用於國家遭遇緊急危難或重大經濟變故時(D)立法院若不同意，則緊急命令無效。
- () 49. 為強化兩岸政治協商的民主監督機制，立法院三讀通過台灣地區與大陸地區人民關係條例部分條文修正案。規定日後我國與中國進行協商時，協商過程須向立法院報告。請問：由上述推論，下列何者選項正確？(A)此條文通過後須交由公民投票，總統公布後生效(B)此法案若司法院不接受，可提覆議案退回行政院(C)此法案通過後，協商應由行政機關執行，並向立法院負責(D)若此法有違憲的疑慮，可交由司法院提出憲法修正案。
- () 50. 根據我國規定，每年由《甲》機關編列中央政府預算並送交《乙》機關進行審議，通過後由《丙》機關進行執行，做成決算之後送交《丁》機關審查，最後由《戊》機關審議審核報告。請依照你的判斷，選出完全正確的選項。(A)《甲》、《丙》同為行政院，《戊》為監察院(B)《乙》、《丁》同屬立法院，《戊》為司法院(C)《甲》、《丙》為行政院，《戊》為司法院(D)《乙》、《戊》同屬立法院，《丁》為監察院。

※ 下課鐘響前不得繳卷

班級：

座號：

姓名：

答案

1	2	3	4	5	6	7	8	9	10
A	B	C	D	C	D	B	B	D	D
11	12	13	14	15	16	17	18	19	20
D	B	A	C	B	A	C	B	C	D
21	22	23	24	25	26	27	28	29	30
A	C	A	B	D	B	D	C	B	A
31	32	33	34	35	36	37	38	39	40
A	C	C	B	B	C	A	D	C	D
41	42	43	44	45	46	47	48	49	50
A	B	A	C	A	D	C	B	C	D

※ 下課鐘響前不得繳卷

班級：

座號：

姓名：

※ 下課鐘響前不得繳卷

班級：

座號：

姓名：

※ 下課鐘響前不得繳卷

班級：

座號：

姓名：

※ 下課鐘響前不得繳卷

班級：

座號：

姓名：