

※ 下課鐘響前不得繳卷

姓名：

※ 注意！請務必在答案卡最上方欄位寫上班級、座號和姓名。

P.1

1. 國際間通常用「火藥庫」一詞來形容世界各地易生紛爭之處，探究其因多與位置、族群、宗教等差異，導致戰亂不斷有關，如東北亞的朝鮮半島、南亞的印巴衝突、西亞的以阿衝突等。請問：有「歐洲火藥庫」之稱的地方是指哪裡？

- (A) 伊比利半島 (B) 義大利半島 (C) 巴爾幹半島 (D) 斯堪地那維亞半島

2. 本區傳統文化重視平等和分享，因此社會福利制度健全，救助和保障措施完善，號稱「從搖籃到墳墓」全程照顧，請問此區最有可能是歐洲的哪一分區？

- (A) 東歐 (B) 西歐 (C) 南歐 (D) 北歐

3. 右圖是某個歐盟會員國所發行的歐元硬幣，硬幣正面圖案是著名音樂家「莫札特」，象徵該國是一塊音樂的聖地，音樂藝術氣息濃厚，其首都維也納有「音樂之都」的美名。請問發行此歐元硬幣的國家為何者？



- (A) 義大利 (B) 伊比利 (C) 奧地利 (D) 比利時

4. 東歐北部的地形以平原為主，南部則多山地、丘陵。此地理景觀以哪座山脈為分界線？

- (A) 烏拉山 (B) 庇里牛斯山 (C) 阿爾卑斯山 (D) 喀爾巴阡山

5. 傑夫參加地理知識大挑戰，在歐洲—中國比一比的題目中間到：「烏克蘭境內地形平坦、且有肥沃的黑土分布，加上豐富的煤、鐵礦，因此農、工發展均佳」，以上敘述與中國的哪一個地形區極為相似？

- (A) 東北平原 (B) 東南丘陵 (C) 黃土高原 (D) 四川盆地

6. 承上題，中國雲貴高原一帶氣候溼熱，溶蝕作用盛行，形成獨特的石灰岩景觀。地理學者最早針對此種地形進行系統研究的地區在歐洲何處亦能見到？

- (A) 不列顛群島 (B) 巴爾幹半島 (C) 歐洲大平原 (D) 阿爾卑斯山

7. 下表有關歐洲兩大河川—萊因河與多瑙河的比較，何者正確？

	(A) 長度	(B) 終點方向	(C) 流經區域	(D) 連接運河
萊因河	較長	注入北海	以東歐國家為主	無法與多瑙河相連
多瑙河	較短	注入黑海	以西歐國家為主	無法與萊因河相連

8. 俄羅斯由於地域遼闊，大部分地區又位處寒帶，為了生存，他們從小練就了強悍的體格，勇敢的個性，先天就具有驍勇剽悍的特徵。19 世紀初，俄羅斯打敗當時雄霸歐洲的拿破崙；二戰期間又擊潰了舉全歐之力進攻俄國的希特勒，因而被冠上「戰鬥民族」的封號。請選出俄羅斯境內最主要的族群和宗教配對？

- (A) 拉丁民族-天主教 (B) 日耳曼民族-基督教 (C) 斯拉夫民族-東正教 (D) 阿拉伯民族-伊斯蘭教

9. 臺灣的電子產業興起往外國投資設廠的熱潮，尤其進入歐盟國家投資設廠更可以享有相關的關稅優惠，且可以省下許多勞力成本，以打進歐盟市場。請問：前往以下哪個國家投資設廠可享受如此的優勢？

- (A) 捷克 (B) 英國 (C) 德國 (D) 瑞士

10. 冰島的煉鋁工業相當發達，成為當地重要的收入來源。請問：該冰島發展煉鋁工業最有利的條件為何？

- (A) 鋁土豐富 (B) 電力充足 (C) 市場廣大 (D) 資金充裕

11. 有「世界公園」之稱的瑞士，以發展體積小、單價高的精密工業著稱，主要是因為當地在發展上有何條件的限制？ (A) 地形崎嶇 (B) 政治中立 (C) 勞力不足 (D) 資金缺乏

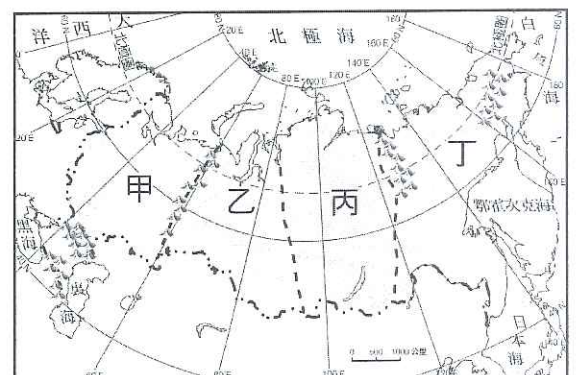
右圖為俄羅斯地形的四大分區，請根據此圖回答 12~13 題

12. 俄羅斯位居高緯，人口密度低且分布不均，請問：地形四大分區當中，人口密度最高、自然條件最佳的精華區位在圖中何處？

- (A) 甲 (B) 乙 (C) 丙 (D) 丁

13. 主體為山地地形，地勢較高，多火山地形且地震頻繁的地區位在圖中何處？

- (A) 甲 (B) 乙 (C) 丙 (D) 丁



背面尚有試題

※ 下課鐘響前不得繳卷

姓名：

P.2

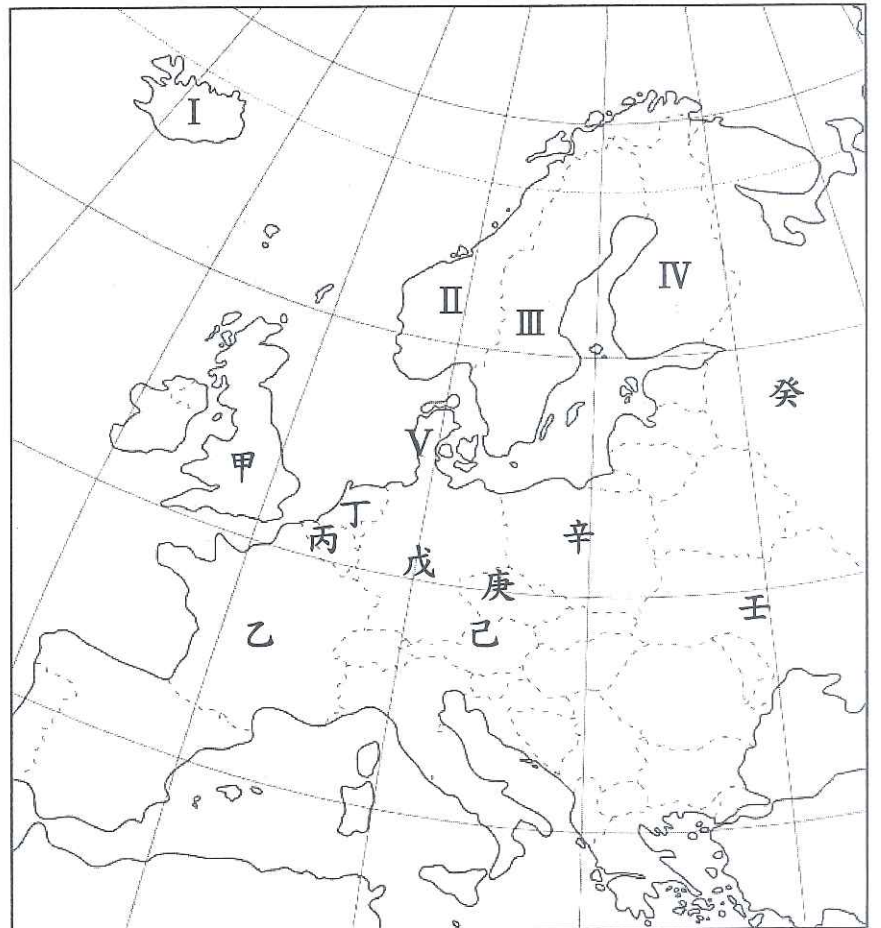
右圖為歐洲行政區圖，請根據題目敘述選出正確的國家代號(14~17 題)

14. 地形平坦、土壤貧瘠，農業發展受限，故以畜牧業為主，便利的交通使其所生產的乳製品與肉品，能就近供應歐洲各地，因此有「歐洲牧場」之稱。近年則致力於創意相關的產業，如 LEGO(樂高)玩具即為該國的品牌。
(A) 乙 (B) 丁 (C) III (D) V

15. 為北歐工業最發達的國家，蘊藏豐富的鐵礦，國產汽車 VOLVO 更以安全著稱。此外擁有豐富的森林資源，造紙業和家具製造業著稱，知名的 IKEA(宜家家居)亦為該家具工業品牌的代表。
(A) I (B) II (C) III (D) IV

16. 國名 Netherlands 為「低地國」之意，曾在海外殖民，奠定海外貿易的基礎，跨國企業發達。「風車、木鞋、鬱金香」為該國家喻戶曉的三寶。
(A) 甲 (B) 丁 (C) 戊 (D) 辛

17. 此國擁有豐富的煤礦、便捷的水運網、卓越的科技實力、完善的技職教育及高度嚴謹的民族性，使其工業產品以品質精良、做工細膩著稱，不僅是歐洲工業產值最大的國家，亦為歐盟的中央銀行總部設置地。
(A) 甲 (B) 乙 (C) 戊 (D) 癸



18. 資料一：他掌理的國家是當時日耳曼人所建立王國中，實力最為強大的王國。

資料二：西元800年，羅馬教宗加冕他為「羅馬人的皇帝」。

資料三：他在位期間，積極推廣拉丁文、基督教，成為西歐共同的語言與信仰。

請問：綜合上述資料內容判斷，「他」應該為下列何人？

(A) 鄂圖一世 (B) 查里曼 (C) 查士丁尼 (D) 穆罕默德。

19. 大雄為了完成一篇歷史報告，報告主題為「中世紀的西歐」，特地乘坐時光機來到他設定的時間，親眼觀察並紀錄下當時的社會情形。請問：在他的觀察與記錄內容，下列何者「正確」？

(A)「強壯的麥斯與鄰居發生衝突，不小心把鄰居的腳打斷，依照當時法律與社會規定，麥斯在眾目睽睽下，他的腳也被打斷了。」 (B)「菲力走在街道上，聽到人們興奮地說：『今天下午，人獸格鬥賽將準時在圓形競技場舉行！』」 (C)「約翰心想，賜我土地的路易伯爵受到他們的傷害，為了表現我的忠誠，並且報答伯爵的情義，我要為伯爵討回公道！」 (D)「看看時間差不多了，薩德朝參加方向進行今天第三次禮拜後，趕往城內清真寺與眾人會合，商討旅行貿易問題。」

20. 下表為中世紀時，西歐與拜占庭帝國的歷史發展比較表。請問：何者「正確」？

	(A)	(B)	(C)	(D)
西歐	封建制度	農工商發達	政教合一	希臘文
拜占庭帝國	大一統帝國	莊園經濟	政教分離	拉丁文

21. 西洋歷史的中古時期，拜占庭帝國著名君主「查士丁尼」，在位期間有許多建樹與成就，對後世的影響甚大。請問：下列有關「查士丁尼」的建樹與成就，何者「不正確」？

(A) 建造聖索亞大教堂 (B) 派人編纂民法大全
(C) 派軍西征，收復不少失地 (D) 羅馬教宗加冕他為「羅馬皇帝」，其帝國後來亦稱為「神聖羅馬帝國」。

22. 世界文學名著「天方夜譚」(又稱一千零一夜)是阿拉伯人的著名故事集。請問：該書內容是在描寫當時的哪一座「城市」？ (A) 君士坦丁堡 (B) 巴格達 (C) 佛羅倫斯 (D) 汴京。

23. 西洋中古後期，西歐地區在經濟與社會開始出現許多改變，而「商業的復甦與城市興起」是改變的一部分。請問：造成上述所說的「商業的復甦與城市的興起」，下列何者敘述「不正確」？

(A) 隨著農業技術的改良，糧食供應充足，人口增加，對日常用品需求提高
(B) 十字軍東征後，東西往來頻繁、交流增多 (C) 當時興起的大城市多位於大西洋沿岸
(D) 出現以經營工商業為主的市民階級。

24. 下列有關西元十四世紀至十六世紀「文藝復興運動」的興起背景敘述，何者「正確」？

(A) 城市富商的支持 (B) 中國火藥技術的傳入 (C) 黑死病帶來的衝擊 (D) 宗教改革運動後的影響。

背面尚有試題

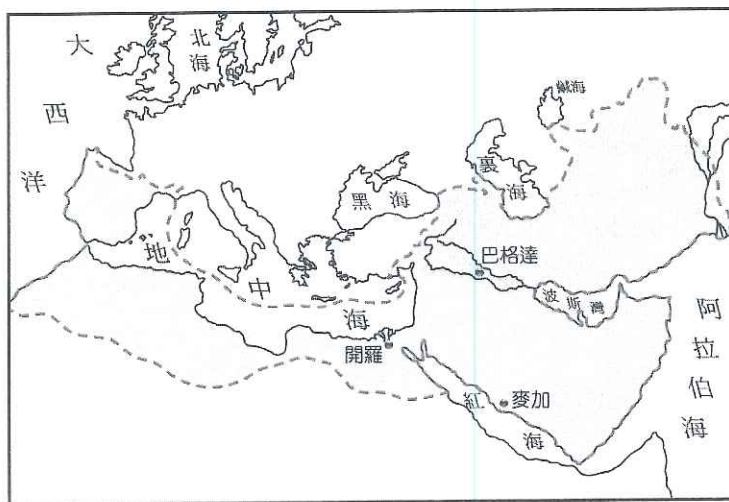
※ 下課鐘響前不得繳卷

姓名：

P.3

25. 西元十四世紀末以後，歐洲在文藝成就上，出現許多著名的文學家與藝術家。請問：下列有關「文學家或藝術家」與「作品或畫作」的配對，何者「正確」？
(A)「佩脫拉克」：「神曲」 (B)「米開朗基羅」：「唐吉訶德」
(C)「拉斐爾」：「大衛像」 (D)「達文西」：「最後的晚餐」。
26. 下列有關西元十四世紀後，歐洲政治局勢，逐漸從「封建社會」走向「王權國家」的發展，探究其原因，下列何者「不正確」？
(A)市民階級的期望與支持 (B)馬基維利等思想家的倡議
(C)中國火藥技術傳入歐洲 (D)封建貴族在地方勢力的強大。
27. 一位學者認為：「1519~1522年的這次海上探險，獲得許多重要成果，包括①證實向西航行可達東方；②完成人類歷史上第1次繞行地球一周的壯舉；③使西班牙王室建立美洲到亞洲的新航路主導權。」由上述內容推斷，此一探險行動最可能是下列何者？
(A)哥倫布橫渡大西洋 (B)麥哲倫船隊環繞世界 (C)鄭和航行至非洲東岸 (D)達伽馬抵達印度。
28. 「西元1337至1453年間，英法兩國為了爭奪在法國境內的封建領土，爆發了戰爭；在戰爭初期，法軍節節敗退，但在一位少女從軍後，激起法軍士氣，贏得勝利。」請問這位「少女」是誰？
(A)莎士比亞 (B)蒙娜麗莎 (C)貞德 (D)薄伽丘。
29. 西元十六世紀後，中南美洲大部分區域都淪為歐洲各國的殖民地，對後來的世界帶來許多的改變與影響。請問：上述所說的改變與影響，下列何者「不正確」？
(A)美洲古文明的興盛 (B)非洲奴隸貿易興起 (C)美洲物產的傳播 (D)歐洲勢力的興起。
30. 大雄說：「馬丁路德教士對羅馬教會提出「九十五條論綱」，公開批評教會的腐敗，被視為宗教改革的開端，此教派強調「因信得救」，後人稱為路德教派。」胖虎說：「法國人喀爾文提出「預選說」，主張教徒勤儉及努力工作來榮耀上帝，因此後來獲得許多工商業者的支持。」小夫說：「英國人亨利八世在位期間，因為婚姻問題與羅馬教會發生爭執而決裂，另立英格蘭教派，由國王兼任教會領袖，但仍保有許多羅馬公教的儀式。」靜香說：「西班牙人羅耀拉創立「耶穌會」，培養與鼓勵教士海外宣教，試圖挽回羅馬公教信徒們的信心。」請問：上述四人對十六世紀時「宗教改革」內容的敘述，有幾人說法「正確」？ (A)1人 (B)2人 (C)3人 (D)4人。

【題組】下圖為中世紀時，人類歷史上曾經建立的地跨「歐、亞、非」三洲的某個大帝國。請依此回答31~33題：



31. 依圖上的疆域範圍，此「某個大帝國」應該是指下列哪一個帝國？
(A)拜占庭帝國 (B)阿拉伯帝國 (C)鄂圖曼帝國 (D)塞爾柱帝國。
32. 有關此帝國對後世的影響，下列敘述何者「正確」？
(A)保存古希臘、羅馬的著作，有助於日後歐洲的文藝復興 (B)編纂法律典籍，為後世留下重要法學思想
(C)將文字、宗教、建築與政治制度傳入周遭的斯拉夫民族 (D)將中國火藥技術傳入歐洲，改變歐洲的政治局勢。
33. 西元十一世紀末，信奉同樣宗教信仰的「□□民族」，取代了此「某個大帝國」，隨後因為其不斷侵擾西方的基督教世界，引發十字軍東征的戰事發生。請問：上述所說的「□□民族」，應該是指下列哪一個民族？
(A)阿拉伯人 (B)鄂圖曼土耳其人 (C)塞爾柱土耳其人 (D)法蘭克人。

背面尚有試題

※ 下課鐘響前不得繳卷

姓名：

P.4

34. 財政部公布我國今年前十月台灣貿易出超額度累計達到 477.8 億美元，統計顯示，主要動能來自中國大陸，我國 10 月對中國大陸貿易出超額度就高達 86.3 億美元，約為對美貿易出超額度的五倍。由上述可知，下列敘述何者正確？

- (A) 台灣對中國進口總額大於出口總額 (B) 代表台灣進口大量中國產品 (C) 代表台灣賺取大量外匯，成為我國外匯存底 (D) 若中國要縮小台灣對其的貿易順差情況，可促使台幣貶值，增加台灣對中國的進口總額

35. 下表是小琪和阿泰一小時的產量表。若依比較利益法則進行分工，小琪應負責生產燒仙草，而阿泰生產豆花。表中的甲最可能為下列何者？ (A) 12 杯 (B) 15 杯 (C) 16 杯 (D) 18 杯

	小琪	阿泰
豆花	7 杯	11 杯
燒仙草	9 杯	甲

36. 在 1945 至 1946 年間，因二次大戰，匈牙利的經濟受到嚴重衝擊，進而影響到匈牙利的貨幣帕戈的價值。如某樣東西在 1945 年 9 月價值 379 帕戈，到了 1946 年 1 月漲到 72,330 帕戈，同年 4 月漲到 35,790,276 帕戈，在 6 月 30 日漲到 954 萬億帕戈……。物價以每天 150,000% 的比例上漲。根據上述，匈牙利的狀況，可能會造成哪些結果？(甲)受預期心理的影響，人們會將貨幣儲存起來 (乙) 固定收入者用相同金額的錢，所能購買的商品數量變少 (丙) 此時人民會以實物交易代替貨幣交易 (丁) 人民所擁有的貨幣不斷地增加，生活水準日益提升。

- (A) 甲乙 (B) 丙丁 (C) 甲丁 (D) 乙丙

37. 近一年內，美元兌換新臺幣從 1:30.5 來到現在 1:28.8。面臨此種匯率變動情形，下列哪一項敘述是正確的？

- (A) 此時有利於我國將商品出口 (B) 此時美國商品的進口價格會下跌
(C) 此時我國人民赴美國求學變貴了 (D) 此時有利美國人民到我國觀光

38. 表(一)為成成和星星兩兄妹做家事的表現，根據表中內容判斷，下列敘述何者正確？(A) 星星在收玩具上具有絕對利益 (B) 成成在收玩具上具有比較利益 (C) 若要進行家事分工，星星適合收玩具 (D) 他們兩人若要進行家事分工應該是依據絕對利益來分工

	成成	星星
收玩具	7 分鐘	10 分鐘
吸地	5 分鐘	12 分鐘

表(一)

39. 關於我國發行貨幣的機關，哪項敘述是錯誤的？

- (A) 為我國財政部 (B) 往來的對象為政府與金融機構，一般人民非往來對象
(C) 可保管國家的黃金、外匯 (D) 輔助及監督金融機構的營運

40. 甲國與乙國利用相同資源生產香蕉和山竹，兩國每日生產產量如右表(二)所示，請問，甲國生產一萬噸山竹的機會成本是？

- (A) 2/5 萬噸的香蕉 (B) 2 萬噸的香蕉
(C) 1/2 萬噸的山竹 (D) 5/2 萬噸的山竹

	香蕉	山竹
甲國	100 萬噸	50 萬噸
乙國	80 萬噸	20 萬噸

表(二)

41. 承上題，根據表中內容判斷，甲、乙兩國應該如何分工與貿易，才能使彼此都獲利？

- (A) 甲國應生產香蕉，出口香蕉 (B) 乙國應生產山竹，進口香蕉
(C) 甲國應生產山竹，出口香蕉 (D) 乙國應生產香蕉，進口山竹

※ 下課鐘響前不得繳卷

姓名：

P.5

今年年初，由於新冠狀病毒(武漢肺炎)疫情爆發，政府祭出口罩徵收令，向全台各大口罩工廠強制徵收物資，華新醫材公司董事長表示，原定徵收至六月份，現延長至年底，然工廠仍有許多外銷訂單，因此除了政府的定額徵收，廠方已決定再採購 3 部機器，供外銷訂單生產。未來原物料有上漲的可能，華新公司自行添購掛耳帶機器 22 台，擬在未來斥資 4 千萬添購 2 條中間層熔噴布產線，可望一條龍式生產。

政府持續徵收，主要在確保民生與公務需求量，因此口罩實名制仍會持續運作，衛福部表示明年元旦起，每人兩周可購買十片口罩，價格一片由 5 元降為 4 元，廠商多出來的口罩數量，就由廠商做自由的買賣。加上中央流行疫情指揮中心日前公布「秋冬專案」，12 月 1 日起，民眾進出 8 大類場都要佩戴口罩，違者依法開罰，因應歐美新冠肺炎疫情升溫，國內境外移入確診者也不斷增加，所以人民購買口罩的需求持續熱絡，許多民眾欲至各大通路，如量販、超市等購買盒裝口罩，常常都是已售完的狀態，萊禮生醫就在近期推出萊潔「玩色·炫彩」口罩系列，在萊爾富開賣，17 分鐘內 3 萬盒就完售。請問：

42. 根據上文劃線處，目前市面上的口罩與去年比較，何者為可能的變化？

- (A) 供給變少，造成供不應求，口罩價格下跌 (B) 供給變多，造成供過於求，口罩價格下跌
(C) 需求變少，造成供過於求，口罩價格下跌 (D) 需求變多，造成供不應求，口罩價格上漲

43. 口罩實名制的政策下，關於口罩價格的形成，下列敘述正確的有幾項？(甲) 口罩價格制定是由「看不見得手」所掌控 (乙) 政府透過此方案來介入口罩的價格 (丙) 口罩的價格機制屬於市場經濟制度 (丁) 口罩的價格形成與菸品健康福利捐相同 (戊) 與國際美元匯率的行情屬於相同的價格機制

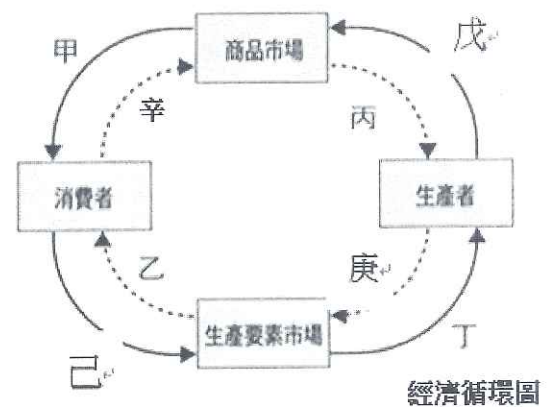
- (A) 4 項 (B) 3 項 (C) 2 項 (D) 1 項

44. 根據文意，華新公司自行添購掛耳帶機器，是屬於圖(一)經濟循環圖中的哪一環？ (A) 庚 (B) 丁 (C) 甲 (D) 戊

45. 民眾到萊爾富搶購口罩，是屬於右圖經濟循環圖中的哪一環？

- (A) 甲 (B) 辛 (C) 己 (D) 戊

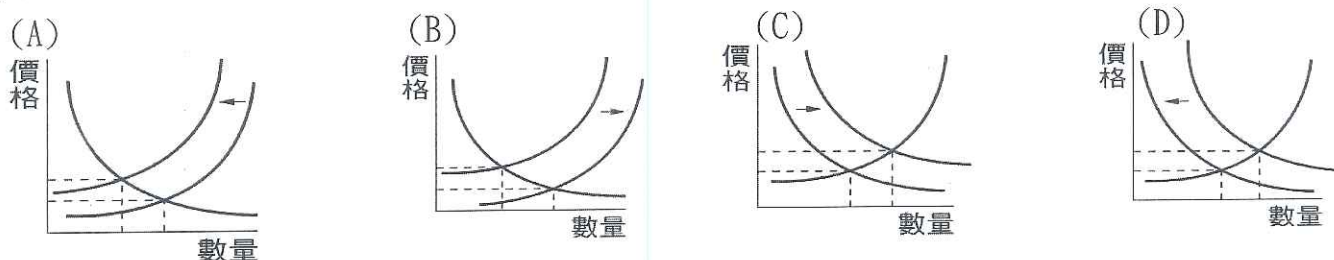
46. 萊禮生醫推出炫彩的特殊色口罩吸引顧客的行為，屬於經濟活動循環圖中的哪個部分？(A) 戊 (B) 丙 (C) 甲 (D) 辛



圖(一)

總統宣布明年起開放含有萊克多巴胺的美國豬肉(簡稱萊豬)進口，掀起軒然大波。萊豬爭議雖源自臺美經濟合作談判，但牽涉的不只是食品安全，還可能對國內養豬業者的生計造成威脅，豬肉進口量大增，造成市面上供過於求，將對養豬業者造成傷害；養豬業者也擔心「萊豬」進口後標示不清，影響消費者選擇，改吃其他肉類(如雞肉)，尤其路邊攤非常多，就怕消費族群流失。請問：

47. 根據畫線處判斷何者為萊豬進口後，豬肉的市場供需曲線圖？



背面尚有試題

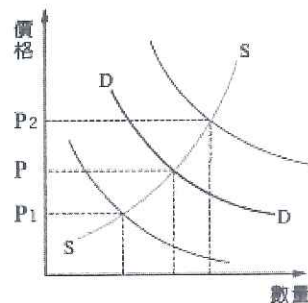
※ 下課鐘響前不得繳卷

姓名：

P.6

48. 圖(二)為「雞肉」的供給曲線 S 和需求曲線 D，根據上述內容判斷，在其他條件不變的情況下，政府開放含有萊克多巴胺的美國豬肉進口，豬農擔心標示不清，帶來的後續影響，會造成雞肉的價格 P 最可能發生何種變化？

- (A) 移往 P1 方向 (B) 移往 P2 方向 (C) 維持在 P (D) 無法預測



圖(二)

黑色購物節是源於歐美的業者在感恩節(11月的第四個星期四)後舉辦的促銷活動，又稱黑色星期五，美式賣場好市多(Costco)「黑色購物節」是每年婆媽的重頭戲，開跑首日民眾紛紛排隊入場。70吋大電視、不沾鍋10件鍋具組及鑽石項鍊等豪值禮，短短15分鐘內就遭搶光，其中電視直接下殺最狂優惠79折，像是原價17萬9999元82吋電視，特價後僅要13萬9999元，5分鐘全部售光，由於消費金額龐大，幾乎人人手拿一張信用卡支付購買的商品。請問：

49. 何者與文中美式賣場好市多屬於同種類的交易場所？

- (A) 股票市場 (B) 蝦皮購物網 (C) YAHOO!購物網 (D) 愛買量販店

50. 關於上文敘述，下列何者正確？

- (A) 信用卡是由中央銀行發行的 (B) 信用卡又稱塑膠貨幣，不是政府發行的法定貨幣
(C) 一台電視標價13萬9999元，此說明貨幣具有交易媒介的功能
(D) 信用卡不僅是延遲支付的工具，也是真正的貨幣