

※ 下課鐘響前不得繳卷

班級：

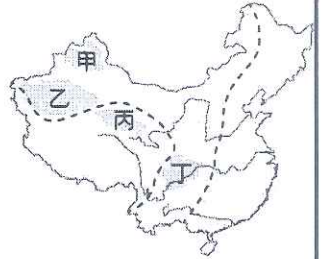
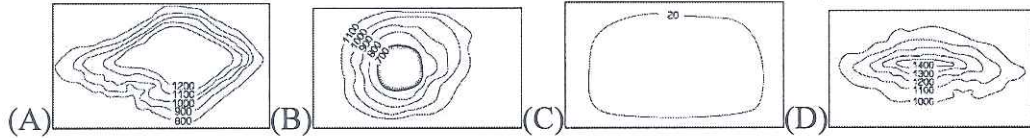
座號：

姓名：


P.1

每題 2 分，請小心作答~

1. 右圖為中國某種主要地形之分布圖，依其分布位置來看，屬於下列哪種等高線地形圖所表示的地形？



2. 中國山地地形的面積比例最高，其主要成因為內營力作用所造成。歐亞板塊和太平洋板塊接觸帶所



造成的山脈走向為何？ (A) (B) (C) (D)

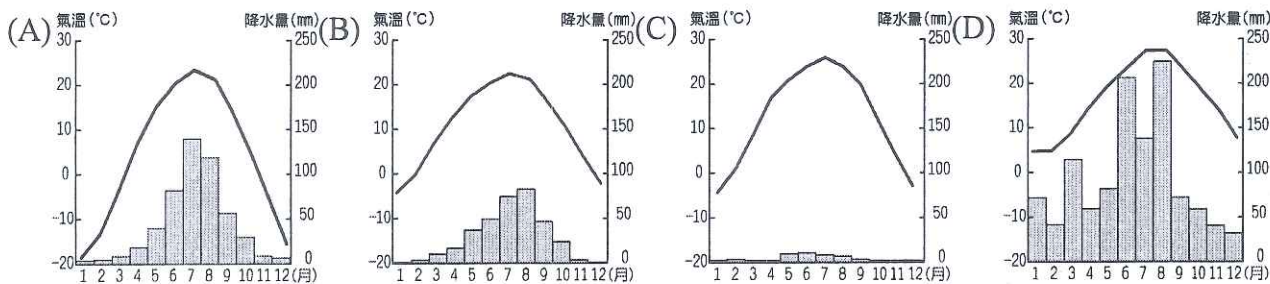
3. 下列哪種地理現象與中國西高東低的地勢起伏沒有直接的因果關係？

- (A)冬、夏兩季的風向會相反
- (B)重要大河大多由西往東流
- (C)東部沿海地區人口較稠密
- (D)海洋氣流能向西深入內陸

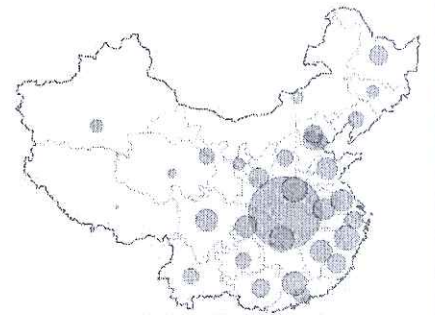
4. 中國東北的哈爾濱，每年均以「冰雪節」來吸引大量的遊客，成為當地的特色。該地舉辦「冰雪節」的有利條件為何？

- (A)雨量較高
- (B)地勢較高
- (C)交通便利
- (D)緯度較高

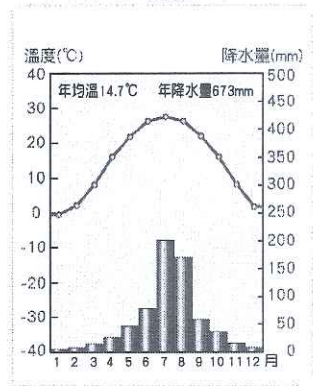
5. 中國各地區的氣候特色受到地理位置的影響而各有不同。下列四個地區的氣候分布圖，哪一個地區的地理位置可能位於中國最西邊？



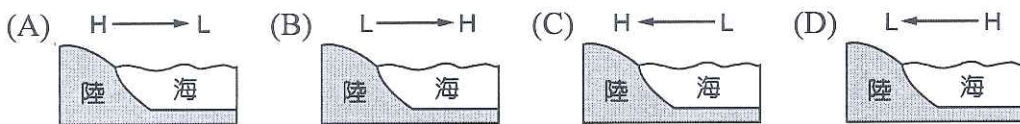
6. 右圖是依據新型冠狀病毒疫情資料，中國感染人數資訊圖（圓圈大小代表人數多寡），從圖上可看出各地區感染人數有明顯差異。依據中國地理資訊推測，病例最少的地區，其原因可能為下列何者？ (A)傳統游牧生活少與人接觸 (B)經濟發達，醫療科技進步 (C)當地地勢高聳，人煙稀少 (D)氣候嚴寒，病毒難以傳染



7. 中國某地區的氣溫降水量圖，如附圖所示。根據右圖中資料判斷，右圖中所呈現的最可能為下列哪一種氣候類型？ (A)熱帶季風氣候(B)高地氣候 (C)副熱帶季風氣候 (D)溫帶草原氣候



8. 「七下八上」指的是每年7月中旬至8月中旬間，出現在中國全境性的雨季。2020年七月中國連續暴雨41天，造成長江流域發生嚴重的洪水災情。請問造成水災主要為下列哪一氣壓系統現象產生？



9. 中國境內的少數民族-藏族，主要分布於青藏高原上。有關青藏高原的敘述，下列何者有誤？ (A)地表崎嶇、寒冷荒涼 (B)夏季溫度較其他同緯度地區低 (C)氣溫、植被垂直變化 (D)年溫差、日溫差均很大

10. 三月迎媽祖，既瘋狂又熱鬧，為臺灣宗教展現不可思議的信仰力。媽祖崇拜反映「唐山過台灣」的歷史背景，也是海洋文化的表徵。請問前述「三月瘋媽祖」的現象主要為右圖中哪一地區居民信仰傳遞到台灣？(A)甲 (B)乙 (C)丙 (D)丁



11. 台灣媽祖遶境進香活動，可發現台灣媽祖已成為台灣人的守護神，媽祖與台灣歷史、民眾的生活有著密不可分的關係。宗教信仰與下列哪一現象有關？ (A)文化衝突 (B)文化擴散 (C)性別比高 (D)出生率低

12. 台灣紅燒牛肉麵最早發跡處，起源是國民政府遷台後外省人在台灣所創造的美食，起因渡海來臺的老兵思念家鄉而製作，現已發展成海外華人地區的普遍食物，有不少泡麵都是以添加牛肉或牛肉調味料作為號召，在台灣非常普遍。請問：臺灣人喜歡吃麵食，與傳統中國哪一地區居民以麵食為主有關？ (A)北方 (B)南方 (C)中部 (D)西部

※ 下課鐘響前不得繳卷

班級：

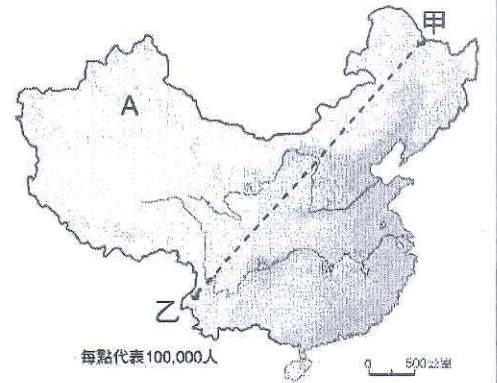
座號：

姓名：

P.2

附圖是中國人口分布圖，請根據此圖回答 13-14 題：

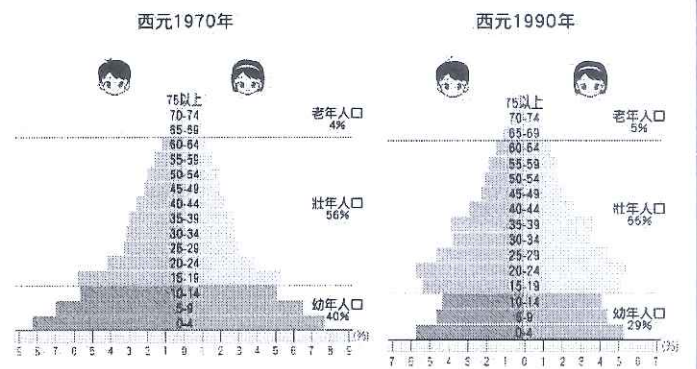
- 13. 中國人口分布呈現「西密東疏」的特徵，圖中「A」區是西半部人口較多之處，當地人口聚集地區須具備的條件是下列何者？
(A)氣溫較高(B)蒸發量小(C)土壤肥沃(D)水源充足
- 14. 圖中甲到乙的連線與中國何種地理現象的分界線最接近？
(A)稻米區和小麥區的分界(B)溫帶與熱帶的分界(C)季風與乾燥氣候區的分界(D)年雨量 750 毫米的分界



- 15. 近年來，中國大陸經濟快速崛起，其國際地位及影響力大為提升，改變了區域、世界的經貿版圖，尤其在國際分工的趨勢之下，已成為世界最具潛力的生產地與市場。請問中國大陸「成為世界最具潛力的生產地與市場」的主要原因為何？
(A)眾多的人口 (B)先進的技術 (C)豐富的資源 (D)廣大的國土

右圖為西元 1970 年與西元 1990 年的中國人口金字塔圖，請問 16-17 題：

- 16. 圖中 10~14 歲年齡層的人口比例有明顯縮減。形成此年齡層人口漸少現象的主要原因為何？ (A)戰爭 (B)政策 (C)饑荒 (D)移民
- 17. 這個現象對中國產生下列哪些明顯的影響？甲-人口老化、乙-人口分布不均、丙-性別比失衡、丁-勞動人口增加。
(A)甲乙 (B)乙丙 (C)甲丙 (D)乙丁



請根據下列內容回答第 18-21 題：

甲政權：天子冊封叔父毛公，叮嚀他好好治理領地，對王室忠心，時時刻刻與王室合作，使國家的各項政令能和諧、順利進行。

乙政權：大臣李斯建議皇帝，由朝廷直接任命官員赴六國舊地管理，聽命中央，不再世襲；並將人民編入戶籍，以提高徵收田賦和分派勞役的效率。

丙政權：鑒於民生凋敝，內政上多沿襲前朝訂下的制度，少作修改，並下令與民休養生息，輕徭薄賦；對外政策上因政權初建，國力較弱而採和親政策。

丁政權：兼併鄰近小國，由國君直接統治新土地，以變法奠定富強基礎，且為抑制貴族勢力，規定由中央授予將領持有虎符始可調動軍隊。

- 18. 依年代先後排列甲、乙、丙、丁四個政權的順序，何者正確？
(A)甲→乙→丙→丁 (B)丁→甲→乙→丙 (C)乙→丁→丙→甲 (D)甲→丁→乙→丙。
- 19. 有關各政權所處時期的治國理念及學術思想的說明，何者錯誤？ (A)甲政權--依宗法血緣強化對諸侯的統治，僅貴族享有受教育、任官職的機會 (B)乙政權--罷黜百家，獨尊儒術，廣設太學以傳授經書 (C)丙政權--推行黃老思想，無為而治 (D)丁政權--採納商鞅建議以法家思想為治國依據，用嚴刑峻罰來統治臣民。
- 20. 為有助於帝國內部的整合，乙政權所採行的措施不包括下列何項？
(A)推行文字、貨幣、車軌和度量衡的統一政策 (B)「焚書坑儒」以箝制思想、控制言論 (C)號召諸侯尊重周天子，並共同抵禦外族以稱霸中原 (D)全面廢除封建，採行郡縣制，確立中央集權的政治體制。
- 21. 「...隨著政治、社會動盪不安，學者各自提出解決的辦法，在此禮樂崩解的時期，出現各種思想學派，形成了百家爭鳴的局面...」請問：此現象符合上列哪個政權所處的時空背景？
(A)甲政權 (B)乙政權 (C)丙政權 (D)丁政權。

※ 下課鐘響前不得繳卷

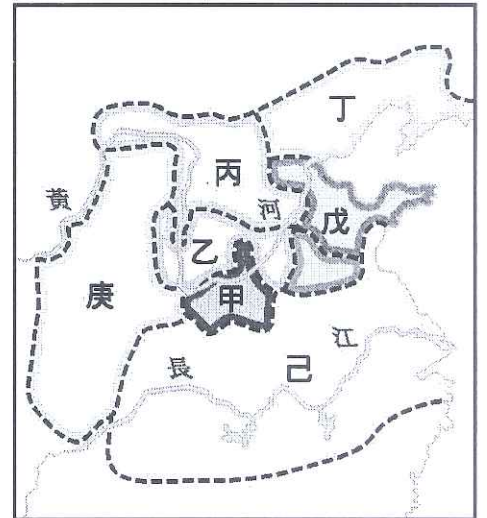
班級：

座號：

姓名：

P.3

22. 附圖是戰國時期的形勢圖，下列說明何者正確？
 (A)丁、丙、庚三國陸續興築的長城，成為草原文化與農耕文化的分界線
 (B)在周王室勢力衰微後，乙國最先崛起並稱霸中原 (C)己國北上參與爭霸，最終統一天下，成為華夏國家的一部分 (D)最後稱王並滅六國統一天下的是位於東側的戊國。
23. 生活在漢武帝(漢朝中期)長安城的仲和，常以文字記錄他的生活。下列選項何者可能是他所留下對於當時生活的紀錄？
 (A)政府的勞役負擔相當沉重，我經常被徵調去築長城、修陵寢
 (B)由於地方政府的推舉，我將以「孝子」身分被推舉到中央任官
 (C)我和三五好友相聚於胡姬酒肆，坐在胡床上暢飲葡萄美酒
 (D)君主秉持黃老思想(道家)治國，生活好過多了



請根據下列資料回答第 24-25 題：

資料一：這個時期崇尚儒家經典，不少學者在不斷鑽研後得到獨特見解，形成一家之學，累世相傳；加上在地方上有好名聲，且通達經書者得以任官的規定，擁有「家學」者易累世為官。

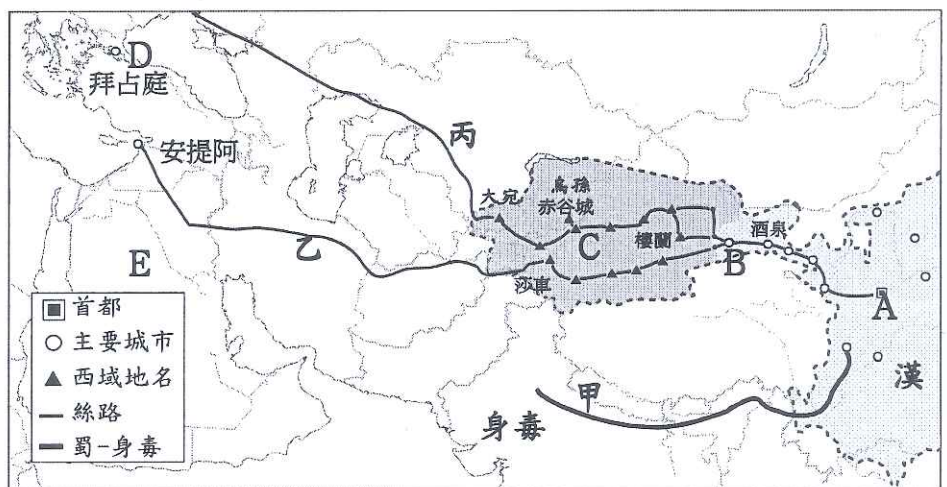
資料二：此時期讀書人雖出身寒微亦可報名參加考試，考取者得任官職，加速了社會階層間的流動性。

資料三：出生在官宦世家，雖然人品、才能並不出眾，但受惠於當時的選才制度，仍能受封高官厚祿。

24. 關於上述資料的說明何者正確？ (A)各項選才制度出現的時代依序是資料一→資料二→資料三 (B)資料一讓貴族們掌握政治權力，且享有減免賦稅的特權 (C)資料二是隋代為了抑制世族勢力，所採取的地方察舉制度 (D)資料三由世族控制九品任官的選拔，易助長其勢力的鞏固。
25. 在資料三的選才制度下，容易造成何種社會現象？ (A)上品無寒門，下品無世族 (B)十年寒窗無人問，一舉成名天下知 (C)萬般皆下品，惟有讀書高 (D)禮不下庶人，刑不上大夫。

西漢武帝時國力轉強，對待匈奴採取主動出擊的策略，卻開通了東西貿易通道，請參考下圖回答第 26-28 題：

26. 為聯絡西域各國打敗匈奴，漢武帝派遣何人出使西域？
 (A)張騫 (B)蔡愔 (C)玄奘 (D)班超。
27. 關於此圖說明何者不正確？



- (A)當時中國輸往西方的物品主要是絲織品 (B)商人攜帶商品從A地出發，最遠銷售到的D地乃是大食帝國 (C)B處敦煌莫高窟中的胡旋舞壁畫頗受C區繪畫、雕刻和建築藝術影響 (D)胡食、琵琶、胡床、宗教等由乙、丙路線傳入中國。

28. 關於佛教在中國發展情況的描述，何者不正確？
 (A)大約於1世紀前後經由C→B→A的路徑傳入中國 (B)魏晉南北朝局勢動盪，加上君主提倡以及佛經翻譯事業發達等因素，信徒與日俱增 (C)唐代時發展達於鼎盛，玄奘由乙路線前往發源地E處取經，對漢藏之間的文化交流貢獻極大 (D)朝鮮、日本的佛教信仰乃學習得自仿效唐代文化時。

※ 下課鐘響前不得繳卷

班級：

座號：

姓名：

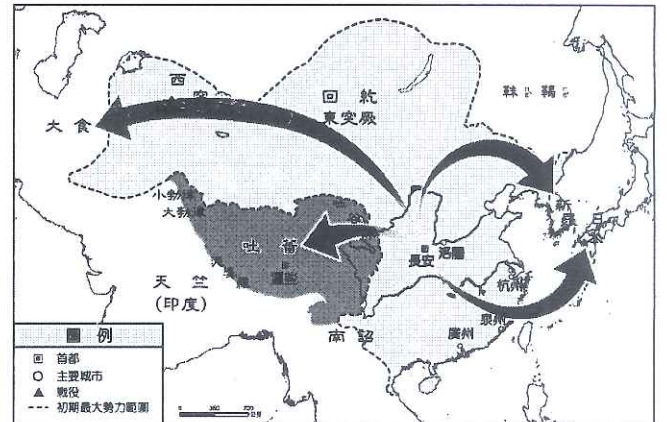
P.4

請根據下列短文回答第 29-31 題：

...沒有疆域分野觀念的草原民族，經常創造出令人驚嘆的帝國範圍，對於鄰近的國家，造成極大的影響，他們曾與秦、漢兩大帝國擁有對等軍事實力，後來更有胡人攻陷洛陽，進入中原地區建立諸多政權，開啟長達百多年的南北對峙—北方是胡人政權重複併吞與分裂的紛亂局面，為避戰亂而南遷的北方漢人則在南方圈地自立，因猜忌和私心終成苟延殘喘的偏安局面。

...在這批進入中原地區的草原民族中，以北魏勢力對中國的影響最深，最後銜接的隋唐帝國，是中國最具世界主義色彩的朝代--政治上因唐太宗打敗強敵，被周邊民族尊為國際盟主；社會上採取一視同仁對待外族；宗教上因對自身文化的自信與安全感，對信仰自由給予保障，有許多宗教傳入--是一段充滿光輝的時期，最終統治東亞長達五百多年。

29. 短文中雙線部分所呈現的民族互動關係，何項說明不正確？ (A)秦漢時期，與草原民族形成長期對抗的局面 (B)「胡人攻陷洛陽」是指永嘉之禍，乃導致各民族遷徙的關鍵 (C)北魏勢力之所以影響中國導因其推行說胡語、穿胡服、改鮮卑姓氏的政策 (D)唐帝國初建時打敗的強敵是東突厥。
30. 若要描繪「南北朝時期」的生活特色，哪項內容不符合史實？ (A)華夏民族與草原民族逕渭分明、互不往來 (B)世族門第的生活起居皆有僕役隨侍在側 (C)飽受戰亂之苦的人民藉信仰撫慰心靈 (D)增進江南開發，奠定日後經濟與文化重心南移的基礎。
31. 下列哪段敘述最適合說明隋唐帝國「採取一視同仁對待外族」的現象？ (A)朝廷宣揚唐化運動，積極推行斷胡語、通婚姻等措施 (B)朝廷接納外國學生、僧侶隨使節團前來學習、定居，也派任胡人擔任要職 (C)朝廷將人民區分為四個不同階級，給予不同待遇和規範 (D)朝廷收服西域諸國，強行將之納入東亞的儒家文化圈。
32. 若根據右圖中箭頭的方向來看，此圖標題應該為何？ (A)大秦滅六國統一天下局勢圖 (B)西晉永嘉之禍路線圖 (C)佛教外傳各地示意圖 (D)唐文化向外傳播示意圖。
33. 秦漢到隋唐時期中國文化外傳周邊國家影響頗深，下列描述何者正確？ (A)吐蕃模仿中國漢字、曆法、儒學和佛教，有「君子國」之稱 (B)新羅以唐代制度為藍本，展開「大化革新」 (C)因恒羅斯之役，中國造紙術經大食人之手傳入西方 (D)唐代文成公主嫁到日本，致使其根據漢字書體製成平假名、片假名等文字。
34. 我國各大產業受到新冠病毒的影響，政府為了紓困，紛紛推出了「三倍券」、「藝 Fun 券」、「浪漫客庄旅遊券」、「動滋券」及「農遊券」，期盼能振興各產業。上述落實的國家功能與下列何者相同？ (A)連假期間警察擴大實施臨檢 (B)高雄以老榕樹為靈感，結合高雄造船廠的意向，建造了衛武營國家藝術文化中心 (C)台灣與波蘭簽署「台波刑事司法合作協定」，深化兩國合作夥伴關係 (D)新竹縣政府推動「新竹縣國際 AI 智慧園區」計畫。
35. 近期，共軍多次擾台，運 8 反潛機等多種戰機侵擾台灣西南防空識別區 (ADIZ)，部分還逾越海峽中線。台灣空軍除了派遣空中巡邏兵力應對外，也實施廣播驅離、防空飛彈追蹤監控等作為；並呼籲大陸當局自制，應共同維護台海與印太區域的和平與安全。請問，共軍的行為侵犯我國的國家組成要素，與下列何者所指相同？ (A)擁有我國國籍即是我國國民 (B)國家的統治機關，可以行使公權力治理國家 (C)我國因中國的反對和阻撓，一直被排除在世界衛生組織之外 (D)領海基線向外推移 12 浬的海域範圍。
36. 台灣青年氣候聯盟舉辦青年抗暖化大遊行向政府請願，從立法院出發，途中經過總統府、環保署表達訴求，呼籲政府應將氣候議題視為國安危機，並制定碳排條例控制危機，徹底綠色轉型，並期待 2050 能達到碳排歸零。請問，人民可走上街頭遊行，此為《憲法》賦予人民的哪項權利？ (A)集會自由 (B)結社自由 (C)人身自由 (D)遷徙自由。
37. 呈上題，關於「請願」的敘述何者正確？ (A)是當行政機關的行政處分違法或不當時提出的 (B)是為了維護公眾或個人權益 (C)受理機關為司法機關 (D)屬於《憲法》權利中的參政權。



※ 下課鐘響前不得繳卷

班級：

座號：

姓名：

P.5

38. 朝鮮勞動黨自建國以來便掌控北韓政權，其最高領導者擁有國家的絕對控制權，人民沒有參與政治的權利。領導者把法律當成統治人民的工具，本身不受到法律的約制，能以個人意志凌駕法律的制度，甚至隨心所欲修改法律規定，以便對付異己。由上述可知，下列何者最不可能為北韓的敘述？
(A)屬於獨裁的政體 (B)為人治的社會 (C)政府施政依法行政 (D)人民無表達意見的自由。
39. 10月1日是中共在香港強推國安法後的第一個國慶日，許多香港民眾在銅鑼灣崇光百貨購物區街頭，上街表達他們的民主訴求，高呼「光復香港，時代革命」等口號，但在今年六月香港國安法推行後，民眾只要於遊行、集會時發表批評政府言論都可被認定為違法行為，因此，香港警方拘捕至少 86 名的集會者。請問，上述畫線處，若依我國《憲法》，顯示香港警察剝奪港民的何項權利？ (A)平等權 (B)自由權 (C)受益權 (D)參政權。
40. 內政部預計明年 7 月全面換發新式數位晶片身分證，數位身分證不只儲存民眾多項個資，還包括高解析度照片，足以透過人臉辨識加上 AI 的分析辨識技術，讓民眾在網路上、街頭攝影機前的蹤跡無所遁形。國民黨立委表示，從晶片到讀卡機，都可能潛藏資安風險，加密區的個資，恐在未經政府或有心人士同意下被使用。從上可知，數位身分證恐侵害到人民何項權利？(A)多元文化權 (B)環境權 (C)隱私權 (D)健康照護權。
41. 關於「國家」與「政府」之間的關係，敘述正確的有幾項？(甲)國家的主權有賴政府執行公權力加以發揮 (乙)政府是國家的組成要素之一，國家的概念較廣 (丙)國家主權會因政府權力的轉移而產生變化 (丁)國家為具有穩定性與持續性的政治實體。(A)4 項 (B)3 項 (C)2 項 (D)1 項。
42. 明年元旦起，我國政府將開放含萊克多巴胺的美國豬肉進口，為了民眾的健康，國民黨發起「顧食安」公投，讓人民藉由投票的方式，針對現行的政策，表達同意或反對。請問，題意中劃線處是何項權利的行使？
(A)複決權 (B)創制權 (C)選舉權 (D)罷免權。

【題組一 43~46】近期民進黨團與政策會舉辦憲改公聽會指出，應該給青年完整的參政權，修憲落實 18 歲公民權，但修憲最大的障礙在於目前公民複決門檻過高，學者認為此困境很難經由修憲解決，討論是否能從聲請釋憲角度來解套，因為此憲法條文有違反民主法治等憲法本質，本身違憲。請問：

43. 修改憲法必須由誰提案通過，公告半年，才能由公民複決？ (A)中華民國選民 (B)總統 (C)立法委員 (D)司法委員
44. 呈上題，修改憲法的程序困難複雜，顯示憲法具有何項特性？ (A)最高性 (B)固定性 (C)原則性 (D)優越性
45. 在我國是由誰負責解釋憲法、法律、命令？ (A)總統 (B)立法院立法委員 (C)行政院法務部部長 (D)司法院大法官。
46. 民進黨團舉辦「公聽會」的做法，符合民主政治中的何種精神？
(A)政府政策應以人民意見為依歸 (B)政府官員應為政策得失負起政治責任 (C)政黨透過選舉公平競爭執政權 (D)政府施政以法律為依據。

【題組二 47~50】小蔣在台北捷運站見到電梯地板溼滑，卻沒有「小心地滑」的立牌，擔心旅客會因此滑倒造成危險，急著找尋通知站務人員的工具，在月台候車處到處走動，試圖尋找相關捷運設備，不小心誤觸月台唯一按鈕「緊急停車按鈕」，雖未造成列車延誤，卻被北市府依違反《大眾捷運法》裁罰 1 萬元，蔣不服向交通部提(甲)被駁回後，提出行政訴訟抗罰。台北地院行政訴訟庭審酌小蔣的動機，判決撤罰。請問：

47. 下列何者與《大眾捷運法》層級相同？
(A)國民教育法實行細則 (B)《中華民國憲法增修條文》 (C)《學生衛生保健實施辦法》 (D)《地方稅法通則》。
48. 關於《大眾捷運法》的敘述何者正確？
(A)此法的修改機關為立法院 (B)此法是由交通部制定的 (C)此法位階高於《公寓大廈管理條例》 (D)此法效力高於《憲法》。
49. 文中的(甲)，可能為下列何者？ (A)訴願 (B)請願 (C)訴訟 (D)複決
50. 小蔣可以對台北市政府提出行政訴訟的權利，與下列何者相同？
(A)立法委員具有女性保障名額的規定 (B)罷免不適任的公職人員 (C)接受政府提供的職業訓練 (D)加入職業工會，捍衛自己的權利。