

※ 下課鐘響前不得繳卷

姓名：

※ 注意！請務必在答案卡最上方欄位寫上班級、座號和姓名。

P.1

地理 1~17 題，歷史 18~33 題，公民 34~50 題。每題 2 分

1. 阿拉伯高原為一古老陸塊，地表久經侵蝕，地勢較為平坦。請問：下列哪一個高原與阿拉伯高原同為古陸塊，具有相似的特徵？

- (A) 青藏高原 (B) 伊朗高原 (C) 德干高原 (D) 安納托力亞高原

2. 兩河流域又稱美索不達米亞平原，亦稱肥沃月彎，是由兩條大河沖積而成，其地勢低平、土壤肥沃、水源充足，是人口集中的精華區。請問：沖積出美索不達米亞平原的兩大河川為哪兩條？

- (A) 恆河、印度河 (B) 阿母河、錫爾河 (C) 尼羅河、亞馬孫河 (D) 幼發拉底河、底格里斯河

3. 西亞的氣候以熱帶沙漠氣候為主，進而影響當地的傳統服飾穿著，多以頭巾、長袍為主。請問：西亞地區氣候乾燥的主要原因為何？

- (A) 高壓籠罩 (B) 距海遙遠 (C) 地形阻擋 (D) 西風吹拂

4. 右圖是西北旅行社在旅展所張貼的旅遊文宣，文宣中提到的「黑金」使西亞諸國改變了經濟型態。請問：「黑金」所指的應是下列何者？

- (A) 煤 (B) 鉛 (C) 烏魚 (D) 石油

5. 西亞地區因位在歐、亞、非三洲接觸帶上，民族與宗教多元，其中以色列的耶路撒冷同為三個宗教的聖地情勢最為緊張複雜。請問：這三個宗教所指為何？

甲：佛教、乙：基督教、丙：猶太教、丁：印度教、戊：伊斯蘭教。

- (A) 甲乙丙 (B) 乙丙丁 (C) 丙丁戊 (D) 乙丙戊

6. 全球第一次石油危機從 1973 年延續至 1974 年，由於 1973 年 10 月第四次中東戰爭爆發，石油輸出國家組織為了打擊對手以色列及支持以色列的國家，宣布石油禁運，暫停出口，造成油價上漲。當時原油價格曾從 1973 年的每桶不到 3 美元漲到接近 12 美元，引起了西方已開發國家的經濟衰退……。請問：下列有關石油輸出國家組織的敘述，何者正確？

- (A) 英文簡寫為 APEC (B) 會員國僅分布在波斯灣沿岸
(C) 宗旨是協調會員國的石油政策和價格 (D) 該組織有發行共同貨幣

7. 2015 年 12 月，某國於地方市議會選舉開放女性投票、參選；又於 2017 年宣布新修訂的交通法規，終結長期以來女性在當地無法開車的情況，右圖為新修訂的交通法公布後，twitter 上的宣傳標籤。請問：此國最可能是下列哪個國家？

- (A) 中國 (B) 印度 (C) 義大利 (D) 沙烏地阿拉伯




8. 英國因曾殖民印度，向來與印度維持良好的經貿往來，過去多從印度進口棉花，故曼徹斯特有棉都之稱，棉紡織業發達。請問：若因印度棉花歉收，英國可考慮從下列哪個國家進口棉花？

- (A) 台灣 (B) 泰國 (C) 孟加拉 (D) 烏茲別克

9. 右圖為滴灌示意圖，滴灌技術是直接將灌溉水源輸送到植物根部，可有效減少水分蒸發，達到節水功效，亦能避免土壤鹽鹼化的現代農業技術。請問：此滴灌技術在下列何地最有可能見到？

- (A) 南歐 (B) 西亞 (C) 東北亞 (D) 東南亞



10. 歐洲在經歷過兩次世界大戰後，體認到合作的重要性，為增加國際競爭力，積極追求區域內各項事務的整合，因此成立歐洲聯盟，請問：歐盟的主要目的是什麼？

- (A) 維持不同宗教的和諧 (B) 加強不同族群的團結 (C) 強化各國的經濟統合 (D) 穩定各國的石油價格

11. 右圖是中亞某項環境問題形成的示意圖，該問題對當地農業耕作十分不利。請問：此種環境問題在以下何處也能見得到？

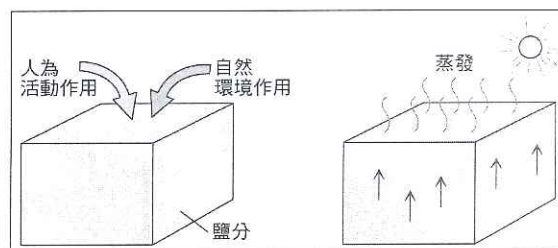
- (A) 中國西北 (B) 台灣北部 (C) 日本南部 (D) 印度東部

12. 2016 年 6 月 23 日英國脫歐公投揭曉，贊成脫歐的陣營以 51.89% 勝過留歐陣營的 48.11%，請問：在英國脫歐公投後，下列何種影響「不會」發生？

- (A) 貨物販賣至希臘將被課徵關稅 (B) 英國捨棄歐元，重新使用英鎊
(C) 在難民安置上擁有更大的自主權 (D) 為保護國內第一級產業，可對歐洲其他國家課徵關稅

13. 交通運輸改善後，南歐地區成為西歐地區重要的蔬果、花卉等農產的供應地，這是因為南歐地區在整個歐洲來說具有下列哪項環境優勢，利於農業發展？

- (A) 土壤肥沃 (B) 雨量豐富 (C) 生長季長 (D) 平原廣大



背面尚有試題

※ 下課鐘響前不得繳卷

姓名：

14. 每一個歐元硬幣的正面都是歐洲地圖，標示硬幣的幣值，但背面的圖案則由發行國自行設計。右圖為某國發行的歐元，硬幣上表現出奧林匹克運動會對該國的意義。請問：此硬幣最可能是由哪個國家所發行的？

- (A) 希臘 (B) 義大利 (C) 西班牙 (D) 土耳其

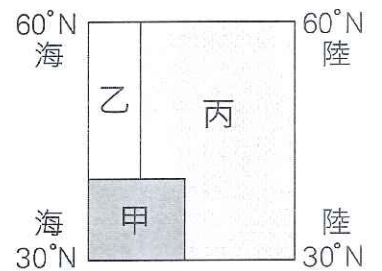


15. 正在亞美尼亞旅遊的小豪前幾天才在臉書上打卡登上歐洲與亞洲的界山，不久後便遇上該國與隔壁鄰國亞塞拜然的衝突戰事，此兩國位在黑海與裏海之間，長久以來存在著領土、宗教與族群的複雜問題，因此這場戰事爆發得突然，卻又讓人不覺得意外。請問：小豪所登上的歐、亞界山，最有可能是哪一座山？

- (A) 烏拉山 (B) 高加索山 (C) 阿爾卑斯山 (D) 斯堪地那維亞山

16. 右圖為歐洲氣候示意圖。若按照溫帶海洋性氣候、溫帶大陸性氣候、溫帶地中海型氣候的順序排列，下列何者正確？

- (A) 甲乙丙 (B) 乙丙甲 (C) 丙甲乙 (D) 丙乙甲



17. 阿三暑假參加海外留學團，在新生聚會上，同學們輪流介紹自己的國家，請問：下列哪位同學介紹的內容與事實「不符」？

- (A) 教廷的帕帕米歐：「我的母國在威尼斯城內，矗立著世界最大的猶太教教堂。」
(B) 西班牙的馬力歐：「我住第一大城巴塞隆納，夏天乾燥少雨，冬天反而多雨。」
(C) 希臘的亞力山大：「我的家鄉石灰岩地形發達，且沿海谷灣式海岸島嶼密布。」
(D) 義大利的羅密歐：「我來自米蘭這個時尚中心，家裡有一台國產跑車法拉利。」

18. 不論古今中外，人類有時試圖從宗教信仰裡，尋找解決現世困難的方法，以求得心靈的慰藉。請問：下列所敘述的「宗教主張」與「民族」配對，何者正確？

- (A) 太陽神和尼羅河神是最主要信奉的神靈—希伯來人。
(B) 耶和華是我們唯一的神，我們是祂唯一的選民—波斯人。
(C) 根據經典，梵天將原始巨人普魯沙的口、手、腿、足劃分為社會中的四個階級—阿利安人。
(D) 善神和惡神彼此爭鬥，善神終將打敗惡神—古埃及人。

19. 「男孩在 7 歲前由雙親撫養，要訓練成獨立堅強的戰士。7 歲後便編入團隊，接受軍訓，…12 歲以後編入少年隊，…20 歲後，才能成為正規軍人。女孩過了 7 歲也要接受體能訓練。因為他們認為：『只有強壯的母親，方能孕育出勇悍的戰士』」請問：上文敘述最有可能符合何時何地的教育方式？

- (A) 新王國時期的埃及 (B) 帝國時期的羅馬 (C) 孔雀王朝時期的古印度 (D) 希臘城邦時代的斯巴達

20. 胖虎的老師在歷史課說：「西元五世紀末，中國歷史上的北魏孝文帝為推行鮮卑族的漢化，曾遷都洛陽，禁胡服與胡語，鼓勵胡漢通婚等；而西洋歷史上，約西元前四世紀時，也有一位雄才大略的君王，除建立一個版圖遼闊的大帝國外，並鼓勵不同族群的人通婚，促成民族與文化的融合。」請問：胖虎的老師講述的歷史人物可能是指誰？

- (A) 阿育王 (B) 亞歷山大 (C) 君士坦丁皇帝 (D) 凱撒

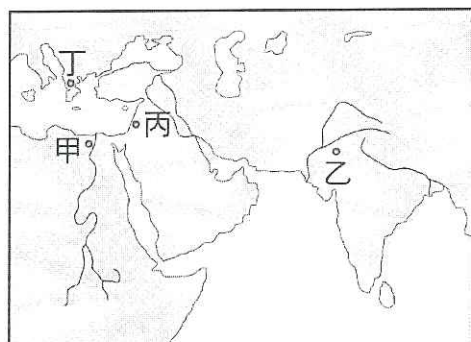
21. 中國於明末清初時期，曾有過一波西方文化傳入的風潮，而當時至中國的傳教士利瑪竇曾和中國士大夫徐光啟一起翻譯哪位希臘化時代科學家的數學著作？

- (A) 歐幾里德 (B) 柏拉圖 (C) 阿基米德 (D) 希羅多德

22. 小夫的歷史報告中，有一段內容如此敘述：「上古時代有一個民族，經常在地中海沿岸經商，各地的文化隨之四處傳播，可說是地中海沿岸物產與文化的重要傳播者，例如：埃及文字中的表音符號便由這個民族簡化後外傳，成為歐洲字母的起源。」請問：上文所指的「民族」應該是指？

- (A) 西臺人 (B) 腓尼基人 (C) 阿拉伯人 (D) 波斯人

23. 小杉在台北國際旅展中，發現一張介紹【帕德嫩神廟】、【三百壯士紀念碑】、【奧林匹亞宙斯神廟】等著名歷史景點的宣傳單。請問：這張宣傳單是在招攬旅客到下圖中哪個地區旅遊？ (A) 甲 (B) 乙 (C) 丙 (D) 丁。



※ 下課鐘響前不得繳卷

姓名：

P.3

24. 下列有關西元三世紀後，羅馬帝國的政治發展敘述，何者正確？

- (A) 政治、社會穩定，被稱為「羅馬和平」。
- (B) 狄奧多西皇帝為改革政治及有效統治廣大領土，在拜占庭另立新都。
- (C) 君士坦丁皇帝將帝國劃分為東、西兩部，分別設立皇帝統治。
- (D) 西元 476 年，西羅馬帝國皇帝遭到日耳曼人逼迫退位，此後羅馬帝國僅剩東部疆域。

25. 古埃及人認為人死後會再復活，而死亡就是來世新生的開始，並獲得永生。請問：這個觀念影響他們後來哪一項文明成就的發展？

- (A) 人體解剖與醫學知識的瞭解 (B) 太陽曆的制定 (C) 象形文字的出現 (D) 幾何學與測量學的進步。

26. 靜香經由閱讀《水螺響起》這本書後，瞭解日本在治理台灣的時期，引進西方「標準時間制」與「星期制」，從而建立新的社會生活作息規律與制度。請問：上文中，西方「星期制」的源起，與下列哪一個民族的成就有關係？

- (A) 蘇美人 (B) 亞述人 (C) 加爾底亞人 (D) 希臘人。

27. 下列哪項因素可以解釋「在亞歷山大之前，古希臘文明沒有出現大帝國，只發展出小範圍的政權？

- (A) 氣候差異太大 (B) 民族眾多且複雜 (C) 宗教信仰的不同 (D) 地形多山且崎嶇。

28. 埃及羅塞塔石碑刻於西元前 196 年，碑文上有古埃及象形文字、埃及俗體字文、希臘文等三種文字。請問：上述石刻出現多種文字的原因，與下列哪一位歷史人物有關？

- (A) 耶穌 (B) 亞歷山大 (C) 希羅多德 (D) 屋大維。

29. 大雄在義大利旅遊時，慕名參觀那不勒斯國家博物館，看見一幅以二世紀中國絲綢製成的酒神狂女畫像，陪同導遊特別為此作介紹：「這幅絲綢畫作代表著當時東漢出口精美的絲綢到羅馬，而羅馬則出口玻璃器皿和高品質的衣服布料到東漢。」請問：該畫像最早應完成於羅馬歷史的哪個時期？

- (A) 王政時期 (B) 共和時期 (C) 帝國時期 (D) 古王國時期。

30. 幾位同學正以「橫跨歐、亞、非三洲的大帝國」為題進行討論，何人的說法正確？

- (A) 小明：第一個橫跨三洲的大帝國是波斯帝國。
- (B) 小華：羅馬在王政時期建立起橫跨歐、亞、非三洲的大帝國。
- (C) 小強：亞歷山大帝國融合強烈的中國文化風格。
- (D) 小衫：馬其頓王國在腓力二世在位時，達成橫跨歐亞非三洲的版圖。

【題組一】：

小叮嚀參觀巴黎羅浮宮，發現館中有一特殊的石碑，上面記載著如下的法律條文「若有一個人毆打父親，他的手應被砍掉。若一個貴族打瞎另一個貴族的眼睛，他的眼睛也應該被打瞎。若一個貴族打瞎一個平民的眼睛或折斷其骨頭，他必須賠償一米納銀子。若一個貴族打瞎一個奴隸的眼睛或折斷其骨頭，他必須賠償半米納銀子。」請問：

31. 就石碑內容推測，這些法條可能是哪一部典籍所記載的事項？

- (A) 《十二表法》 (B) 《漢摩拉比法典》 (C) 《荷馬史詩》 (D) 《聖經》。

32. 承上題 (31 題) 所說的「典籍」，可能是以當時哪一種文字進行書寫？

- (A) 楔形文字 (B) 新港文 (C) 拉丁文 (D) 象形文字。

33. 上述石碑所記載的法律條文內容來看，可看出當時可能有哪種社會現象？

- (A) 共有共享 (B) 從寬處理 (C) 階級區分 (D) 人人平等。

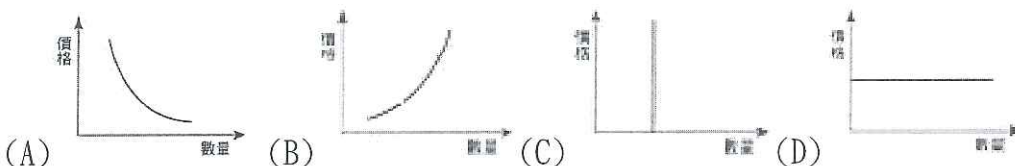
【題組二】：請根據文意選出最適當的答案。

(一) 中秋連假即將開跑，民宿業者看準商機，推出「住宿即送自助烤肉」服務，吸引遊客大量湧入。沒有安排出遊的旅客，也大肆採購各種烤肉用具，一時之間，烤肉用具銷量大增。各大百貨業者也都推出「中秋特惠、買千送百活動」，唯獨珠寶品牌「Cartier 卡地亞」因應中秋節所推出的「嬋娟系列月光石白鑽珍珠項鍊」價格不斐，卻依舊吸引大批貴婦爭相訂製…。請問：

34. 民宿業者在經濟學上的角色與下列何者身分不同？(A)在銀行任職經理的品葳(B)雞排店老闆恩緒(C)鴻海集團總裁郭台銘(D)自行開設陶藝工作坊的定農。

35. 右表為民宿業者為了提高住房率所設計的房價及優惠價格表，請問：業者是運下列何項圖形來設定各種不同價格？

時段	房價
原價	5000
例假日	4500
平日(一~五)	3000
寒、暑假	比照原價

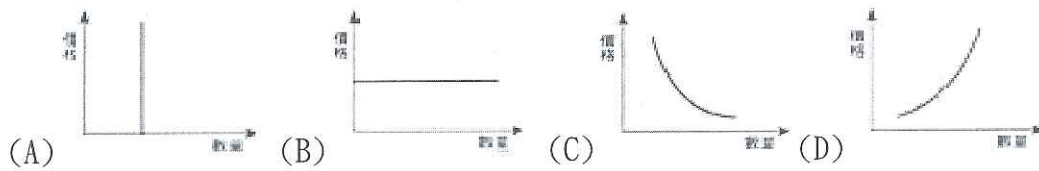


※ 下課鐘響前不得繳卷

姓名：

P.4

36. 烤肉用具銷量大增，主要是受到何種因素影響？(A)商品價格(B)所得水準(C)個人偏好(D)預期心理。
 37. 下列何項圖形可以用來說明上文劃線部分的商品的需求情形？



(二) 烜睿熱愛饒舌團體「頑童 116」的團員瘦子(陳昱榕)，瘦子單飛後推出個人新專輯《靈魂出竅 OUTTA BODY》，銷售熱烈，更推出限時限量版親筆簽名黑膠唱片(售價 6000 元)。烜睿興高采烈地從銀行中取出存款，花費兩個小時排隊準備購買黑膠唱片，但因為存款只剩下 3000 元，所以只好退而求其次選擇購買 CD 版光碟(售價 580 元)，隨專輯附贈歌手個人寫真書。請問：

38. 烜睿選擇買光碟而沒有買黑膠唱片的消費行為是受了何種因素影響？(A)商品價格(B)所得水準(C)個人偏好(D)預期心理
 39. 購買專輯附贈的寫真書，若依照資源「稀少性」的判斷，下列何者性質與之相同？(A)火力發電廠的周邊空氣(B)準備回收的 CD 光碟(C)限時折扣的新球鞋(D)路邊發放的保養品試用包。
 40. 關於烜睿的消費行為敘述，何者正確？(A)烜睿的行為符合資源無窮、慾望有限的情形(B)烜睿本次行為的機會成本為 6000 元(C)烜睿在經濟學上的角色與美甲店老闆相同(D)烜睿所面臨的取捨問題就是經濟學上的選擇。

(三)2020 年初，新冠肺炎 (COVID-19)在全球肆虐，引發大規模的傳染現象。由於傳染途徑主要是透過飛沫傳染，於是中央流行疫情指揮中心指揮官陳時中部長召開記者會宣導，請民眾戴口罩以防止疫情傳染。各大傳播媒體也不斷宣導口罩的益處，民眾受到傳播媒體的影響，開始大量購買口罩囤積，口罩業者發現商機之後，也意圖聯合哄抬口罩價格。後政府以業者違法為由開罰，並實施「穩定口罩價格」與「口罩實名制」政策，保證人民可以順利購買口罩。然而，疫情延續至今，開始有不肖業者以便宜價格從中國批發口罩，冠以「MIT 台灣製」的名義再行出售。嘉鈞一次於網路上購買標記「台灣製」的口罩後，發現自己購買的乃是「中國製」口罩，憤而依法向某政府機關提出申訴。請問：

41. 業者意圖聯合哄抬口罩價格，有可能觸犯何項法律？(A)《公平交易法》(B)《消費者保護法》(C)《民法》(D)《著作權法》。
 42. 文中劃線處所提之法律與政府機關，應為下列何者？(A)《消費者保護法》；消費者權益促進會(B)《消費者保護法》；消費者保護處(C)《公平交易法》；消費者保護處(D)《公平交易法》；公平交易委員會。

(四)宇傑和丞凱為國中好友，一直保持良好的聯絡。兩人大學畢業之後計畫合作開業，商議時討論到國中時期由於學校附近沒有早餐店，要在上學時購買早餐相當困難，於是決定在國中學校旁租了一塊空地，開設「行動早餐車」，提供「快速、便宜又大碗」的早餐提供給學生客群。兩人以能快速出餐的西式早餐(漢堡、三明治)為主，並且研發出許多富含創意搭配的全新口味三明治，在正式開賣前先行提供為期兩周的「試賣活動」。試賣期間他們發現：「咖啡」這個品項在學生客群中不受歡迎，銷量不佳，於是決定調整價格，以降價方式出售，但因不敷成本，所以選擇減少販售咖啡這項商品。請問：

小卡車(餐車)	鐵板等烹飪用具	食材備料	用餐器具	空地租金	員工薪水
700000 元	200000 元	30000 元/月	20000 元	10000 元/月	250 元/時

43. 兩人在學校旁開設行動早餐車，提供「便宜又大碗」的早餐，主要考量到哪一項生產課題？(A)在哪生產(B)何時生產(C)如何生產(D)為誰生產。
 44. 在兩人所從事的生產行為所需的生產要素中，正確的有那些？(甲)餐車屬於企業才能(乙)空地屬於資本(丙)員工屬於人力資源(丁)三明治不屬於生產要素。(A)甲乙(B)乙丙(C)丙丁(D)甲丁。
 45. 關於兩人在使用生產要素時所付出的生產成本配對，何者正確？(A)研發創意新式口味三明治-付出的代價為規費(B)購買早餐車-付出的代價為租金(C)負擔員工薪水-付出的代價為利息(D)使用空地-付出的代價為地租。
 46. 根據上文劃線處推斷，兩人的決策行為主要與下列何者選項所採用的經濟概念相符？(A)凱博上個月才買了一雙新球鞋，這個月又想再買(B)節能減碳風潮日盛，業者增加自行車生產數量(C)在夏季時收取較高的電費，降低用電量(D)牛排餐廳推出兒童用餐享半價優惠，吸引家長帶小孩上門用餐。

【單選題】

47. 生產行為可以提供無形的勞務與有形的財貨，請問下列性質屬於「勞務」的有幾項？(甲)監理站核發駕照(乙)飛揚美髮沙龍(丙)佩恩手工甜點店(丁)大象計程車隊(A)1 項(B)2 項(C)3 項(D)4 項。

背面尚有試題

※ 下課鐘響前不得繳卷

姓名：

48. 受到疫情影響，許多企業紛紛提出因應方案，希望能夠增加利潤，繼續維持營業，請問下列哪位業者獲取利潤的作法與其他不同？(A)便利商店決定不再 24 小時營業，每天晚上 12 點到隔天早上 6 點休業(B)冰果舖請員工暫休無薪假(C)燒肉業者推出「打卡送肉盤」的活動(D)百貨公司因應節能減碳，空調溫度全面調升至 27 度。

49. 老師請同學舉例說明「生產行為」，請問下列何者說明錯誤？(A)煥騰：小明搭高鐵返鄉跨年(B)弦緯：小琳編織手環出售(C)富郁：阿傑在網路上從事代購(D)瑋城：莉莉於在夜市擺攤賣衣服。

50. 禹丞打算高中畢業的暑假去打工，經過一連串的面試之後，選定了三個工作機會，他將薪資情況整理成下表，依照薪水多寡做選擇，最後決定去補習班打工。若依照圖表所示，表中甲、乙、丙最有可能為下列何者？(A)甲：180、乙：200、丙：200(B)甲：200、乙：180、丙：180(C)甲：200、乙：180、丙：210(D)甲：180、乙：200、丙：180。

工作機會	時薪	機會成本
補習班幫忙打招生電話	200	甲
大腸麵線店幫忙		乙
咖啡廳服務生	丙	