

※ 下課鐘響前不得繳卷

班級： 座號： 姓名：

pi 1

1~17 題地理，18~33 題歷史，34~50 題公民，每題 2 分，滿分 100 分。  
請用 2B 鉛筆作答，將答案畫至答案卡上。

**地理 1-17**

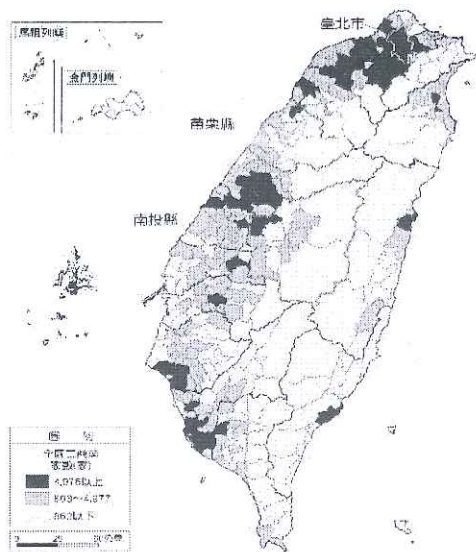
- ( ) 1. 都市和鄉村的差異，主要可依下列哪項特性來劃分？  
(A)教育程度 (B)文化水準 (C)綠化面積 (D)產業結構
- ( ) 2. 右表為甲、乙、丙、丁四個國家的人口資料。哪個國家的都市化程度最高？  
(A)甲 (B)乙 (C)丙 (D)丁
- ( ) 3. 右圖為某家快遞公司在報紙上刊登的分類廣告。這家快遞公司從事的業務應該與哪項交通運輸方式最為密切？(A)空運 (B)管線 (C)海運 (D)鐵路

國家	甲	乙	丙	丁
全國人口	2,100	3,600	5,000	5,400
都市人口	1,400	1,800	2,800	2,900

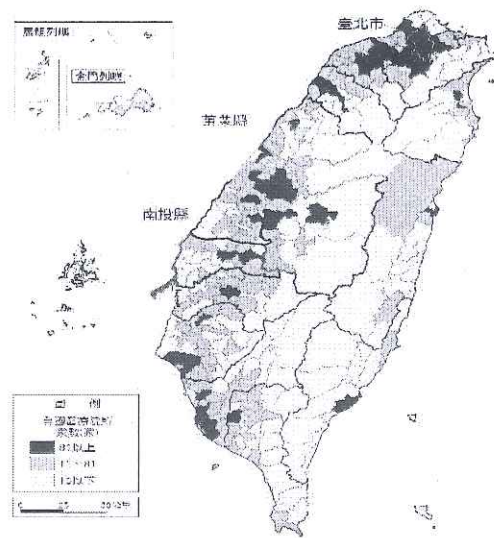


- ※現代化的運輸方式有陸運、水運、空運、管線運輸。請問：
- ( ) 4. 從日本進口台北捷運列車廂到臺灣，最適合的交通方式為何？  
(A)公路 (B)鐵路 (C)空運 (D)海運。
- ( ) 5. 彰化田尾生產的玫瑰花出口到美國，以因應情人節龐大的浪漫需求，最適合的交通方式是？(A)公路 (B)鐵路 (C)空運 (D)海運。

※附圖一、二分別為民國 107 年「全國各鄉鎮市區醫療院所家數圖」，以及「全國各鄉鎮市區工商業總家數圖」。請問：



▲圖一

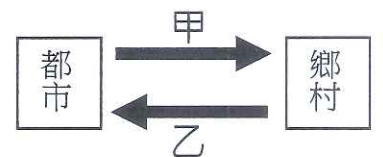


▲圖二

- ( ) 6. 下列對全國各鄉鎮市區醫療院所與工商業總家數分布的敘述，何者符合事實？  
(A)離島多於本島 (B)山地多於平地 (C)東部多於西部 (D)都市多於鄉村。
- ( ) 7. 苗栗縣、南投縣的醫療院所與工商業總家數與臺北市相較，有明顯空間差異，近年此種差異似有擴大之勢。請問：造成此現象的原因與下列哪兩者關係較密切？(甲)鄉村人口外流情形嚴重 (乙)山地阻隔交通不便 (丙)蔬果產品無法與南部競爭 (丁)面對全球低價農產品競爭發展不易 (A)甲乙 (B)甲丁 (C)乙丁 (D)丙丁。

※都市與鄉村有相互依存的關係，兩地居民也會依各種原因在鄉村、都市間遷移。請問：

- ( ) 8. 圖中甲代表都市供給鄉村的主要功能，「甲」的功能應為下列何者？(A)休閒體驗、勞力 (B)醫療、服務、商品 (C)教育機會、農牧產品 (D)就業機會、糧食。
- ( ) 9. 鄉村人口往都市集中的過程，是下列哪一種現象？  
(A)工業化 (B)社會化 (C)都市化 (D)郊區化。
- ( ) 10. 當都市的人增加，都市的發展空間逐漸飽和，居民往郊區搬遷，會發生下列一種現象？ (A)都市更新 (B)都市計畫 (C)都市化 (D)都市擴張。
- ( ) 11. 自高鐵通車後，對台灣居民生活產生下列何種影響？ (A)改善墾丁對外交通 (B)建構台灣環島交通系統 (C)達成西部一日生活圈 (D)縮小市中心與郊區的通勤範圍。



【背面尚有試題】

背面尚有試題

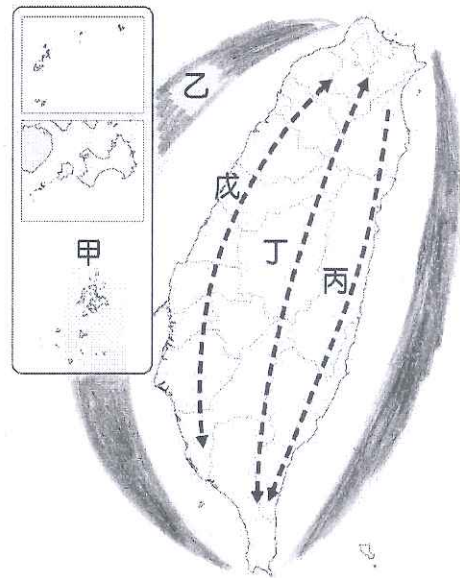
※ 下課鐘響前不得繳卷

班級： 座號： 姓名：

P.2

※我國政府於民國 99 年立法通過「國土空間發展策略計畫」，企圖打破行政的界線，將全國分為「三軸、海環、離島」等軸帶的發展計畫。請依附圖回答下列問題：

- ( ) 12. 形式封閉、交通不便，如「陸上離島」，但自然環境優美、觀光資源豐富，政府規畫該軸帶將樂活、養生休閒等概念融入產業中。請問該軸帶為圖中何者？ (A)甲 (B)乙 (C)丙 (D)戊。
- ( ) 13. 000 是臺灣第一座海洋型國家公園，以獨特的環礁地景、繽紛的珊瑚、海草床生態及珊瑚砂島為特色。因為軍事需求，目前尚未開放一般民眾參訪，僅提供研究人員提出申請才開放。請問「000」位於圖中哪一個軸帶？ (A)甲 (B)乙 (C)丙 (D)戊。
- ( ) 14. 日據時期的「臺灣總督府專賣局松山菸草工廠」，光復後由公賣局接手更名的「臺灣菸酒公賣局松山菸廠」，再到 2001 年由臺北市政府指定為第 99 處市定古蹟後所定名的「松山文創園區」，這塊曾經是臺灣第一座現代化的捲菸工廠，替臺灣創造了相當高的經濟產值的地方，在 2011 年 11 月 15 日正式對外開放後，搖身一變，成為了臺灣原創發展基地。請問「松山文創園區」位於圖中哪一個軸帶？ (A)甲 (B)乙 (C)丙 (D)戊。



※新聞報導：「內湖北倚山陵，南臨基隆河，山河環繞導致聯外道路有限。內湖科技園區設立後，產業大量進駐，但大眾運輸班次不足、路線彎繞、轉乘次數多，使許多民眾仰賴私人交通工具，聯外道路每天數萬人進出，造成尖峰時期『交通崩潰』。民眾只好提早上班、延後下班以避開車潮。市政府啟動綠色運輸試辦計畫，包括免費接駁公車、增加公車班次及計程車共乘服務等，希望能解決此一問題。」請問：

- ( ) 15. 文中報導的都市為下列何者？ (A)基隆市 (B)臺北市 (C)新竹市 (D)臺中市。
- ( ) 16. 下列何者是造成內湖區上、下班時間交通擁擠的主要原因？ (A)外地通勤人口多 (B)河運設施不足 (C)私人交通工具少 (D)商業活動繁榮。
- ( ) 17. 解決內湖地區交通壅塞的問題，除了文中方法外，地方政府對下列何種交通工具提供優惠措施可能成效最佳？ (A)高鐵 (B)捷運 (C)飛機 (D)計程車。

### 歷史 18-33

#### ※題組一

我國首位女性少將司令官--周冰，於西元 1949 年 5 月出任反共救國軍第一路第 14 縱隊少將司令後，便奉令隱藏真實身分進入上海、杭州等中共占領區執行特工任務，發展武裝組織，協助國軍取得敵方情報；中華民國政府撤遷來臺後，她於西元 1951 年又化名前往香港執行任務，然失敗被補遭判刑入獄，服刑兩年後經政府營救，於西元 1958 年引渡回臺。返臺後，因兩岸處在特殊時空背景下，當時政府為避免國際糾紛，不承認被俘情報員的身分，她亦婉拒政府非軍職職務的安排。就這樣，周冰的事蹟埋藏近 60 年，直到西元 2011 年離開人世後，才被媒體公開。請問 18-21 題：

- ( ) 18. 周冰出任少將司令時，正值哪一時空背景中？ (A)中日戰爭後期 (B)國共內戰時期 (C)太平洋戰爭爆發 (D)韓戰爆發。
- ( ) 19. 政府營救周冰，引渡她返臺之際，前哨戰地--金門正進行著哪場戰事？ (A)古寧頭戰役 (B)一江山島戰役 (C)大二膽戰役 (D)八二三炮戰。
- ( ) 20. 文中提及「因兩岸處在特殊時空背景下」，是指「兩岸關係」的哪個階段？當時國軍也常製作空飄氣球施放至大陸宣傳，其上標語最有可能是何者？ (A)武力對抗時期-還我山河、光復大陸 (B)政治對峙時期-保密防諜、人人有責 (C)與美國斷交時期-三通四流、一國兩制 (D)民間交流時期-和平統戰、武力解放台灣。
- ( ) 21. 承上題，此一時空氛圍下的文化發展與社會現象為何？(甲)政府大力提倡中華文化，推廣國語、禁說方言(乙)文藝活動多以反共、懷鄉文學為主題(丙)「民主阿草」、「抓狂歌」等歌曲風靡一時(丁)駐臺美軍廣播電台成為民眾吸收西方流行文化與價值觀的媒介。 (A)甲乙丙 (B)乙丙丁 (C)甲乙丁 (D)甲丙丁。

【請接下頁】

背面尚有試題

※ 下課鐘響前不得繳卷

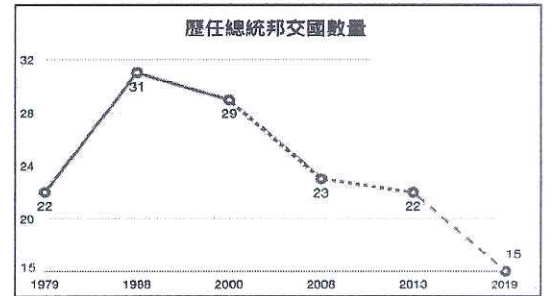
班級： 座號： 姓名：

※題組二

資料一：西元 1979 年某篇新聞報導：「…臺灣民情激昂，全國各公私立大專院校分別在校內發起連署活動，以示支持政府譴責美國背信毀約的決心。27 日美國代表抵達臺北，群眾拿著『卡特無恥』的抗議標語，群聚在松山機場外，朝著來訪的美國代表團車輛，激憤的丟擲雞蛋以示抗議。」

資料二：某國際組織的大會議場內，主席宣讀通過第 2758 號決議：「…最終以 76 票贊成、35 票反對、17 票棄權，通過阿爾巴尼亞、阿爾及利亞等 23 個國家聯合提出的草案，恢復中華人民共和國的一切權利，承認他的政府代表是中國在此組織的唯一合法代表…。」

資料三：西元 1970 年代起我國邦交國數量自 70 國一路下滑至 22 國，期間雖曾一度回升至 31 國，但仍難挽國際弱勢之姿。去年位於太平洋地區的索羅門群島、吉里巴斯亦相繼轉向投靠中華人民共和國，中華民國邦交國數量來到歷史上的新低点（請參照右圖），僅剩 15 個。



請問 22-26 題：

- ( ) 22. 根據資料一所述，導致民情激憤、國際局勢逆轉的關鍵，最有可能是指下列哪一史實？ (A) 中華人民共和國建立 (B) 中東地區的衝突引發全球能源危機 (C) 中華人民共和國與美國建交 (D) 中華人民共和國取代我國獲得聯合國「中國席位」。
- ( ) 23 資料二中的「某國際組織」所指為何？ (A) 聯合國 (B) 國際聯盟 (C) 亞太經濟合作會議 (D) 東南亞國家協會。
- ( ) 24. 參照資料三圖表，判斷哪一位總統任內時邦交國數量最多？他推動哪一外交政策冀望以經濟實力突破中共的打壓和封鎖？ (A) 蔣經國--鞏固外交 (B) 李登輝--務實外交 (C) 馬英九--活路外交 (D) 蔡英文--國民外交。
- ( ) 25. 在資料一、二的外交情勢變化後，當時政府在兩岸關係與社會發展方面採取怎樣的因應措施？(甲) 以不接觸、不談判、不妥協回應中共政權(乙) 開放金門、馬祖與福建展開小範圍的三通往來(丙) 強調「三民主義統一中國」的原則不變(丁) 政府終止動員戡亂，開放民眾赴大陸探親。 (A) 甲乙 (B) 丙丁 (C) 乙丁 (D) 甲丙。
- ( ) 26. 在資料三所述的時期裡，政府確保我國主權的方式不包括下列何者？ (A) 在農業技術與醫療服務方面持續援助友邦國家 (B) 依據中美共同防禦條約，與美方舉行聯合軍演恫嚇中共 (C) 積極參與國際組織與活動，善盡國際義務 (D) 著重與無邦交國家發展經貿、文化等交流，免簽證國家大幅增加。

※題組三

交工樂隊是來自高雄 美濃 的獨立樂團，主唱 林生祥 與詩人 鍾永豐 等人以月琴、嗩吶、三弦、鑼鼓等客家傳統八音，在一首 好男好女反水庫 歌裡，嘗試將 美濃 的拓墾過往歷史及反水庫運動的過程填入歌詞，輔以親切的 客家山歌 曲調，唱出人對土地的情感，傳達保護家鄉土地的決心。

西元 2000 年該樂團開始關注農民與農村議題，結合現代搖滾樂，創造呼應現實社會的客家新民謠--菊花夜行軍 這首歌便唱出花農想藉著各式各樣的菊花，希望能在市場上殺出重圍，日以繼夜戰戰兢兢地點兵著--花農的擔憂來自於當時 臺灣 在政策推動下，必須仰賴電子業維持外銷導向的貿易經濟，所以開放國際市場成為政府關切的議題，西元 2002 年我國加入第一個全球性的經濟組織，對原本逐漸走向下坡的農村經濟，更是一大打擊。

交工樂團雖於西元 2003 年已解散，但這群人並未停止創作，仍持續用音樂唱出對家鄉的愛意，用音樂表達對鄉土的關懷，用音樂傾訴生態的危機，用生命在對待 臺灣 的音樂…。請問 27-29 題：

- ( ) 27. 好男好女反水庫 這首歌反映出 臺灣 在迎來經濟起飛後，伴隨而來的是對弱勢者權益、生態環境保育與文化資產保存等問題的重視，因此自何時開始各種社會運動形成風潮？ (A) 西元 1940 年代戰後初期 (B) 西元 1950 年代戒嚴時期 (C) 西元 1970 年代校園民歌時期 (D) 西元 1980 年代解嚴後。
- ( ) 28. 菊花夜行軍 這首歌唱出了花農的擔憂，這與下列哪項 臺灣 經濟發展背景有關？ (A) 落實耕者有其田 (B) 主打農產外銷的進口替代 (C) 貿易朝向自由化與國際化 (D) 兩岸簽署貿易協議。
- ( ) 29. 上文提及政府經貿政策對農村經濟帶來的新一波打擊，主要是西元 2002 年加入哪一個組織後所面臨的問題？ (A) 世界貿易組織--全球低廉農產品的競爭 (B) 亞太經濟合作會議--區域性農業勞動力進口的衝擊 (C) 世界衛生組織--全球疫情延燒阻斷花農生計 (D) 東南亞國家協會--自由貿易區零關稅貨物流通的競爭。

【背面尚有試題】

背面尚有試題

※ 下課鐘響前不得繳卷

班級： 座號： 姓名：

※ 單題

- ( ) 30. 圖一是 1950 年代民眾利用美援的麵粉袋製成衣褲的舊照片，關於此一現象的說明，何者不正確？  
 (A) 時值韓戰爆發，美國將我國納入反共防衛體系的一環 (B) 兩國以軍事協防為基礎簽訂臺灣關係法 (C) 合作期間美國提供我方包含糧食、工業、交通與軍事設備等援助 (D) 此時期政府致力鞏固外交，美國風格的西式文化亦在臺流行起來。



(圖一)



(圖二)

- ( ) 31. 圖二是 1970~1980 年代政府推動「十大建設」的項目內容，關於此一經濟發展的說明，何者正確？  
 (A) 時逢國際油價高漲造成全球經濟不景氣 (B) 提出此計畫的是總統蔣中正 (C) 基礎建設中以能源建設所占比例最高 (D) 建設內容著重發展民生必需品的輕工業。
- ( ) 32. 西元 1993 年在新加坡舉行海峽兩岸第一次正式會談，與會的辜振甫、汪道涵分別代表兩岸哪一民間機構？  
 (A) 國台辦與海協會 (B) 國統會與國台辦 (C) 陸委會與海基會 (D) 海基會與海協會。
- ( ) 33. 文化的發展與政府的政策息息相關，政府遷臺後迄今，臺灣文化的發展歷經了幾個不同的階段，請根據政策轉變將下列各時期的文化主流做一先後排列？(甲)新住民與國際移工(乙)美國流行文化(丙)中華文化(丁)鄉土文學。  
 (A) 甲→乙→丙→丁 (B) 乙→丙→甲→丁 (C) 丙→乙→丁→甲 (D) 丁→丙→甲→乙。

公民 34-50

- ( ) 34. 日本是君主立憲國，日本天皇雖未掌有政治實權，卻貴為國家象徵，2019 年 4 月 30 日明仁天皇退位，5 月 1 日起由皇太子繼任成為日本天皇。有關上述地位的敘述何者正確？  
 (A) 由個人努力獲得 (B) 因傳承而得 (C) 教育程度而得 (D) 並非與生俱來
- ( ) 35. 社會學者認為不公平是社會普遍存在的現象，一個社會的好壞，其辨識標準通常指下列何者為主？  
 (A) 不存在階級之分 (B) 每個人民獲得的照顧及利益完全相同 (C) 增加參與公共事務的機會 (D) 人民有改善社會地位的途徑及機會
- ( ) 36. 有些企業存在男女同工不同酬的現象，這顯然是性別歧視的現象，於是政府制定《性別工作平等法》，給予不同性別的工作者公平與合理的待遇。上述做法是從哪一途徑改變社會不公平的現象？  
 (A) 政府的協助 (B) 企業的協助 (C) 個人的努力 (D) 輿論的壓力
- ( ) 37. 政府興建租金相對便宜的社會住宅，由中、低收入戶優先承租，照顧有住屋需求的弱勢民眾。這項政策針對下列哪一不公平現象進行改善？  
 (A) 需求滿足 (B) 利益分配 (C) 責任負擔 (D) 貢獻程度
- ( ) 38. 美國政治學家羅爾斯提出「社會正義」的概念，以減少社會上不公平的現象。關於羅爾斯的觀點，下列敘述何者正確？(A) 對不同方面的弱勢群體提供相同的幫助 (B) 社會整體利益大於個人自由權利 (C) 只要實現社會多數人取得公平的機會 (D) 對最弱勢的人給予最大的獲益機會
- ( ) 39. 李董出身豪門，經商投資失敗欠下巨額債款，最後無家可歸必須露宿街頭。下列何者可以用來解釋上述現象？  
 (A) 社會變遷 (B) 社會流動 (C) 社區意識 (D) 經濟發展
- ( ) 40. 我國政府為協助偏鄉學校教育資源不足，制訂《偏遠地區學校教育發展條例》，以增加補助的方式改善偏遠地區學校的教育品質。這是「公平正義」的哪一項目？  
 (A) 自由原則 (B) 機會均等原則 (C) 差異原則 (D) 普遍原則

※ 下課鐘響前不得繳卷

班級： 座號： 姓名：

- ( ) 41. 政府依據《身心障礙者專用停車位設置管理辦法》設置專用停車位，若不符合資格者違規亂停，將會被依法開罰。上述規定目的為何？  
(A) 包容公共意見 (B) 追求社會正義 (C) 維持公共秩序 (D) 打破社會階級
- ( ) 42. 2018 年花蓮強震導致多棟大樓倒塌，許多人流離失所。行政院成立「賑災與重建專案小組」，協請相關部會辦理花蓮地震後續賑災及重建工作。依上文所述，政府對受災戶急難救助的做法，是為了保障人民的哪一種權利？  
(A) 工作權 (B) 請願權 (C) 財產權 (D) 生存權
- ( ) 43. 台灣的新住民對台灣的經濟及文化發展有其助益，經常負擔沉重的勞力工作，卻因為語言、生活習慣的不同，經常遭受到歧視與不公平待遇。上述說明哪一方面的不公平？  
(A) 利益分配 (B) 責任負擔 (C) 貢獻程度 (D) 需求滿足
- ( ) 44. 下列何項社會福利措施，可幫助須要長期吃藥控制病情的慢性病人，減輕其醫藥費的負擔？  
(A) 發放退休年金 (B) 發放社會救助金 (C) 提供低價社會住宅 (D) 實施全民健保
- ( ) 45. 廣志因公司倒閉而中年失業，生活陷入了困境，幸好在無收入的這段時間有失業給付可以請領，否則前途堪慮。請問上述給付是基於何法律保障符合資格者請領？  
(A) 《就業保險法》 (B) 《勞動基準法》 (C) 《社會救助法》 (D) 《老人福利法》
- ( ) 46. 社會救助是政府為照顧低收入者及遭受緊急危難之民眾，維持最基本生活的社會福利方案。依據《社會救助法》規定，針對在最低生活費標準以下者提供持續的經濟協助，這是落實《憲法》保障人民的哪項權利？  
(A) 工作權 (B) 財產權 (C) 平等權 (D) 生存權
- ( ) 47. 我國政府實施「以工代賑」，使受助者能以勞動換取收入，輔助其早日經濟獨立。上述做法主要在達成何種理想？  
(A) 落實福利服務 (B) 增進公共利益 (C) 維持社會保險 (D) 實現社會正義
- ( ) 48. 「天有不測風雲，人有旦夕禍福」是指人生中難免會有需要幫助的時候，這時國家的福利政策若能發揮哪一種功能，就能保障每個人的生存權益？  
(A) 社會互助 (B) 適者生存 (C) 自由競爭 (D) 公共道德
- ( ) 49. 在經濟自由的社會中，高所得的家庭擁有較多的資源，多數會考慮將子女送往國外留學。若低所得的人們將自己的處境與他人相互比較，而發現自己處於劣勢時，產生的感受，這種感覺稱之為下列何者？  
(A) 社會福利分配不均 (B) 社會變遷 (C) 相對剝奪感 (D) 社會規範
- ( ) 50. 北部某直轄市於各區公所開辦「生活適應輔導班」，課程包括生活輔導、地方風俗與民情、保障就業權益、協助子女教養等，課程完全免費。上述措施是政府針對何種身分的人所提供的服務？  
(A) 身心障礙者 (B) 老年人 (C) 新住民 (D) 兒童與少年

【作答結束】