

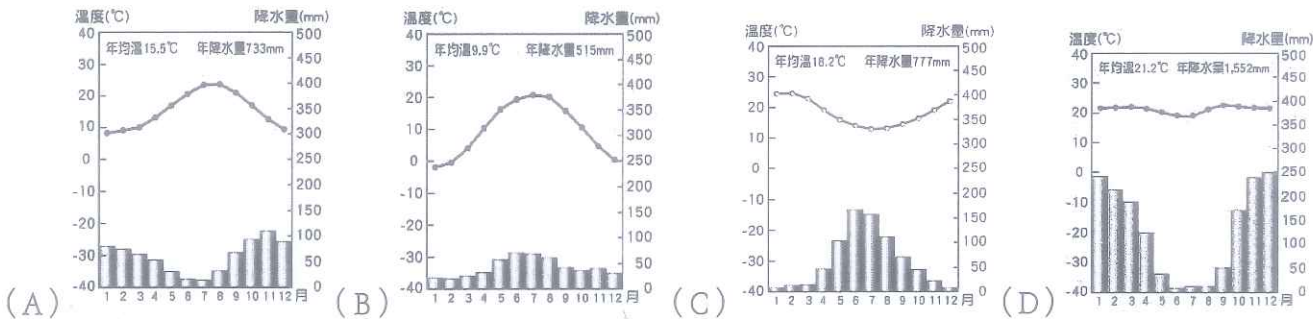
請用 2B 鉛筆將答案填至答案卡。

共 50 題，一題 2 分

P.1

地理

- ( ) 1 中國山脈眾多，常成為重要的地理區分界。請問：下列中國山脈構成的分界，何者正確？(A) 崑崙山→第 1 級階梯、第 2 級階梯的分界 (B) 祁連山→哈薩克族、維吾爾族主要分布區的界線 (C) 大興安嶺→季風氣候、高地氣候的分界 (D) 岡底斯山→青藏高原、印度半島的分界。
- ( ) 2 在內營力與外營力的交互作用下，地表孕育出各式各樣的地形。請問：下列各項中，哪一組的地形是由相同類型的營力所形成？(A) 河西走廊、河套地區 (B) 美國大峽谷、印度大平原 (C) 尼羅河三角洲、安地斯山 (D) 青藏高原、塔克拉瑪干沙漠。
- ( ) 3 內蒙古和西藏同為中國西部區域的行政區，而且氣候上具有哪些共同特徵？(A) 年溫差大 (B) 蒸發旺盛 (C) 日溫差大 (D) 氣候呈垂直變化。
- ( ) 4 黃董想在中國西部區域投資設立煉油及石化工廠，若根據原料區為原則，下列何處是最適宜的設廠地點？(A) 內蒙古高原 (B) 柴達木盆地 (C) 藏南縱谷 (D) 河套地區。
- ( ) 5 澳洲的伯斯 (Perth) 是西澳第一大城市，交通便利，還有美景、美食，一直是澳洲熱門的旅遊勝地。伯斯位處南半球的中緯度地區，夏季炎熱乾燥，冬季不冷，也是主要的雨季。澳洲旅遊局建議遊客先查看氣溫和降雨資訊，以作旅遊事前規劃。請問：下列哪一張圖最能代表伯斯的氣候狀況？



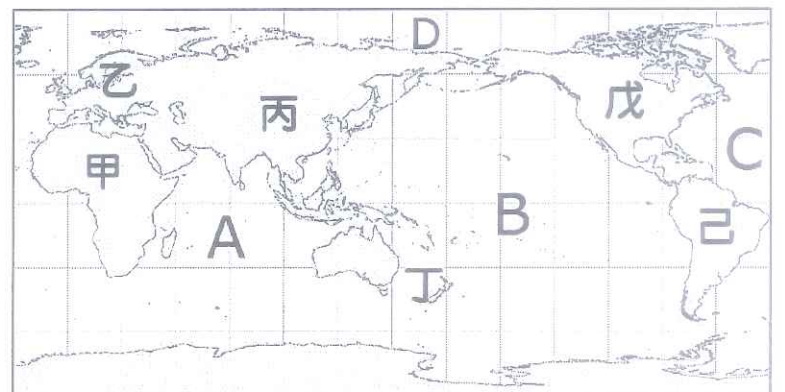
- ( ) 6 雅魯藏布江中游的河谷地帶，被稱為「藏南縱谷」。地形平坦，土壤肥沃，是藏族的主要聚集地。請問：下列關於「藏南縱谷」中藏族的生活、文化和產業特色的敘述，何者正確？(A) 受來自印度洋的東南季風調節，農業發達 (B) 青稞做成的糌粑是藏族主要的飲食 (C) 谷地中的艾提尕爾清真寺為藏民的信仰中心 (D) 地熱蘊藏量豐富，有「聚寶盆」之稱。
- ( ) 7 小花島為一假想島嶼，附圖為其經緯度地圖，A 為流經小花島的洋流。請問：根據地圖判斷，小花島的氣候應該具有下列何項特徵？(A) 氣候溫和，四季分明 (B) 面臨太平洋，有西風吹拂 (C) 乾溼季分明，盛產橄欖、葡萄 (D) 沿海受 A 洋流影響，氣候乾冷，形成沙漠。
- ( ) 8 如果依照地表海陸分布狀況來劃分地球，可以分為陸半球和水半球。請問：下列哪一個地點距離陸半球中心最遠？(A) 法國 (B) 歐洲 (C) 南太平洋 (D) 北大西洋。
- ( ) 9 右表是西元 2016 年亞洲、非洲、歐洲、大洋洲的人口統計資料，請依表中資料判斷，哪一洲是世界四大宗教的起源地？(A) 甲 (B) 乙 (C) 丙 (D) 丁。



洲	人口增加率 (%)	人口增加數 (百萬人)
甲	26	30
乙	1	0.7
丙	15	0.6
丁	11	46

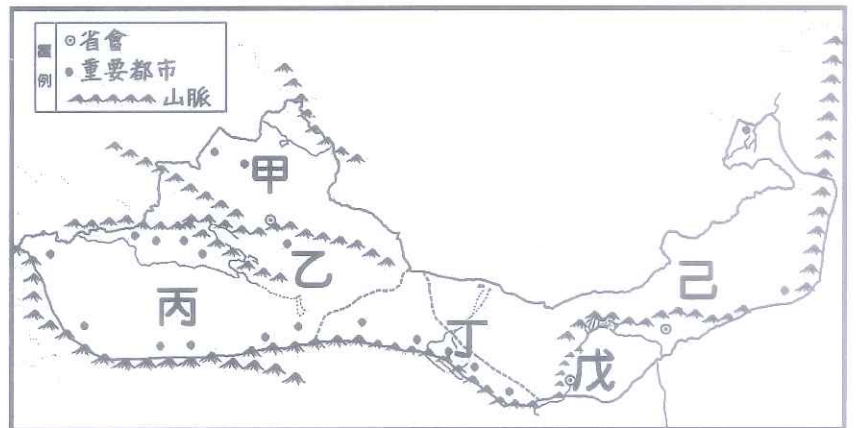
◎附圖為世界海陸分布簡圖，A~D 為世界主要海洋，甲~己為世界各大洲。請問：

- ( ) 10 熱帶雨林分布於赤道附近，是地球上過半數動、植物物種的棲息地。由於超過 1/4 的現代藥物是由雨林生物所提煉，所以也被稱為「世界上最大的藥廠」，科學家相信更多疾病的解藥將來可以在雨林中找到，也許也包括現在的新冠肺炎。請問：若科學家要到雨林探索，最不適宜去圖中哪一洲？(A) 甲 (B) 丙 (C) 丁 (D) 戊。
- ( ) 11 新聞報導：印度洋的島國模里西斯是台灣遠洋漁船最重要的基地，今年 3 月肺炎疫情擴散時，傳出該國把台灣當成像中國一樣的疫區，禁止台灣漁船進出，造成漁民的困擾。請問：上文提到的模里西斯位於圖中何處？(A) A (B) B (C) C (D) D。





◎附圖為中國西北地區圖，甲~己為主要地形區。請問：



- ( ) 12 「坎井」與長城、大運河被譽為古代三大工程，原為地下水道之意，是一種獨特的水利灌溉系統。對於中國「坎井」地理環境的敘述，下列何者正確？  
 (A) 主要分布於圖中甲區 (B) 當地盛產瓜果、棉花等農作物 (C) 主要是引用黃河的水灌溉 (D) 屬於粗放農業的經營型態。
- ( ) 13 西套平原地處中國西北內陸，雖氣候乾燥，但當地人民引黃河灌溉，是寧夏農業的精華之地，水稻一年一熟，清朝時，康熙訪寧夏時欽點為宴席主食，稱為「寧夏貢米」，請問：這種米的產地地位於圖中何處？ (A) 丙 (B) 丁 (C) 戊 (D) 己。
- ( ) 14 下列關於圖中丙區和丁區聚落分布的共同特色，何者敘述錯誤？ (A) 皆多位於山麓沖積扇 (B) 皆位於有雪水灌溉之地 (C) 皆靠近河谷平原 (D) 皆位於溫帶沙漠氣候區。
- ◎「巴札」為集市、農貿市場之意，喀什大巴札是南疆境內最大、也是亞洲最大的巴札，攤商店鋪櫛比鱗次，當地人稱：「除了太陽和月亮，在大巴札裏什麼都能買到。」新疆的各種土特產、手工藝品、日用百貨、瓜果蔬菜以及大小牲畜等這裡都應有盡有。此外，喀什具有「五口（岸）通八國，一路連歐亞」的區位優勢，與周邊各國的貿易歷史由來已久，鄰近國家的工藝品、絲巾、乾果等在大巴札都買的到。市集周邊也有許多小吃攤群集，像是：烤包子、自製的優酪乳、烤肉串、烤土豆、涼粉、核桃棗糕、新鮮水果... 各種飲食應有盡有。喀什大巴札就像一個大熔爐，這裏不僅僅是各種貨物的集散地，還是新疆與鄰國各種民族民俗文化的熔爐。請問：
- ( ) 15 遊客若到喀什大巴札觀光，最有可能看到下列哪一項景象？ (A) 市集中都是哈薩克族擺的攤位 (B) 來自鄰國的中亞商人與當地人進行交易 (C) 居民購買鄰近阿爾泰山區牧民的乳製品 (D) 有許多攤商老闆和顧客在念佛經。
- ( ) 16 喀什大巴札周邊攤商店鋪群集，各種美味的小吃都可以品嚐到，但最不可能吃到下列哪一種食物？ (A) 烤羊肉 (B) 西瓜汁 (C) 豬肉乾 (D) 牛小排。
- ( ) 17 文中提到「喀什大巴札就像一個大熔爐，這裏不僅僅是各種貨物的集散地，還是新疆與鄰國各種民族民俗文化的熔爐。」請問：這種特色最主要是受到哪一種因素的影響？ (A) 交通不便 (B) 地形崎嶇 (C) 氣候乾燥 (D) 地理位置。

歷史

- ( ) 18. 甲午戰爭後，知識份子針對中國的未來出現「維新派」與「革命派」路線之爭。請問：兩條路線的代表人物分別是誰？ (A) 曾國藩、洪秀全 (B) 梁啟超、李鴻章 (C) 光緒皇帝、袁世凱 (D) 康有為、孫中山。
- ( ) 19. 元亨多年苦讀四書五經，本想通過科舉考試，高中狀元光耀門楣，但此時朝廷卻下詔廢除科舉制度，令其無所適從、悲憤不已。請問他生不逢時，撞上了哪一政令施行之際？ (A) 光緒皇帝推動戊戌變法 (B) 慈禧太后為攏絡人心推動庚子後新政 (C) 八國聯軍動盪下的東南互保章程 (D) 五四運動後民間鼓吹設立新式學堂。
- ( ) 20. 懷吉觀看《全民星攻略》，在來賓搶答資格賽環節中，出現「民初內閣總理」、「代理國民黨理事長」、「遭暗殺於上海車站」等提示，他便猜出是指民國史上哪一位人物？ (A) 段祺瑞 (B) 孫中山 (C) 蔣中正 (D) 宋教仁。
- ( ) 21. 考前複習時元生將民初兩次捍衛共和體制的行動並列比較，製表如下，哪一項目內容不正確？

項目	(A)時間	(B)主導者	(C)討伐對象	(D)結果
護法運動	民國 6~12 年	孫中山	張勳、溥儀	因曹錕賄選而中止
護國軍之役	民國 4 年底~5 年	唐繼堯、蔡鍔	段祺瑞	總統撤銷洪憲帝制

題組(一)

喜歡歷史的小安在圖書館內看到一份資料：「我本來執意不同洋人扯破臉的，中間一段時間，因洋人欺負太甚了，也不免有些動氣。雖沒攔阻他們，始終沒有叫他們十分儘意胡鬧... 我若由他們儘意的鬧，一個使館豈有攻不下來的道理？」請回答 23-25 題：

- ( ) 22. 小安根據資料研判的史實說明，何者錯誤？ (A) 文中的「我」指的是慈禧太后 (B) 洋人可在中國設立使館與清末簽訂的天津條約有關 (C) 文中的「他們」源起直隸省，遭壓制後轉往山東地區發展 (D) 這段話說完後不久，便導致八國聯軍的戰禍。



- ( ) 23. 資料中的「他們」原是個結合武術與民間信仰的宗教團體，而後受「仇外」情緒影響拆電線、毀教堂、誅洋人，其行徑以何為號召？ (A)天下一家，共享太平 (B)降神附體，扶清滅洋 (C)還我青島，廢除二十一條要求 (D)驅逐韃虜，恢復中華。
- ( ) 24. 關於這場亂事的後續發展及其影響，下列敘述何者正確？ (A)首都北京第一次遭列強攻陷，圓明園被焚毀 (B)戰事遍及全國，外人勢力由沿海進入內陸地區 (C)華北各省與列強互相議定商務保障 (D)戰後賠款甚鉅，且被迫拆除沿海至北京炮臺，嚴重影響財政與國防。
- ( ) 25. 俄羅斯趁上述動亂之際，進占附圖中「乙區」，拒絕撤兵引起日本不滿，兩國遂於光緒 30 年在此區爆發戰爭，次年日本戰勝，對晚清內政局勢帶來何種衝擊？ (A)孫中山創立第一個革命組織—興中會 (B)各地士紳發動請願，要求政府召開國會、制定憲法 (C)清廷迫於輿論壓力，公布內閣名單廣納各行各業及知識份子 (D)中國成功邁向君主立憲體制，壓制住革命運動聲浪。
- ( ) 26. 宣統三年，在美國的孫文寫了封信給革命同志：「近日祖國風雲日急，古有「天府之國」之稱的某處已動，若能得手，則兩廣、雲、貴、閩、浙不得不急起為之援應…。」信中所提事件發生於附圖中何處？ (A)甲 (B)乙 (C)丙 (D)丁。



題組(二)

小蓮編寫一齣戲：故事主角福貴出生於 1870 年代，正逢國家外患頻仍、政局敗壞之際，成年後為謀生計，且有感於「國家興亡，匹夫有責」便投身軍旅行列，1905 年已成為政府在湖北武漢地區所編制的「新建陸軍」之一員。然他的兄長福森卻加入革命團體，策畫多次起義行動，在 1910 年代初期的一場革命中喪生，留下孤兒寡母託他照顧。不久，聽聞隔壁省分因抗議政府決策發生極為嚴重的暴動，營中不少同袍被調去協助壓制，秋風颯颯的時節，空蕩營區內突傳爆炸聲響，福貴與部分同袍趁機奪取軍械庫、發動兵變，經過徹夜激戰，終於攻佔武昌，與此同時，鄰近諸多省分陸續響應宣布獨立，福貴心想：「兄長，你理想中的新國家終於將誕生了！」數年之後，福貴因職務調動搬到北京，女兒婉柔與侄兒允炆都接受新式教育，進入北京大學讀書，經常閱讀書報、關懷國事，1910 年代末期兩人聽聞某場國際會議將山東主權劃歸日本，憤慨不已，與同學們集體罷課，加入集會遊行隊伍，散發寫著「願同胞永遠抵制日貨，莫忘五月九日及今時之恥辱！」的傳單，遭軍警逮捕，累得福貴四處奔走，才終將兩人救出。請回答 27-31 題：

- ( ) 27. 加入革命團體的福森是在哪一場行動中喪生的？ (A)興中會時期策畫的廣州之役 (B)宣統年間的皇族內閣之爭 (C)同盟會時期發動的廣州之役 (D)國民黨發動的二次革命。
- ( ) 28. 劇中所提「隔壁省分因抗議政府決策發生極為嚴重的暴動」，後來為革命帶來有利的局勢，該暴動是指何事件？ (A)年輕學子犧牲慘烈的三二九黃花崗之役 (B)因鐵路國有政策引發的保路風潮 (C)袁世凱發動兵變，南京臨時政府遷往北京 (D)張勳率領辦子軍擁護溥儀復辟。
- ( ) 29. 根據劇情，辛亥革命的發動與成功主要與何者有關？ (A)新建陸軍響應 (B)清廷官員支持 (C)維新立憲派支應 (D)雲南護國軍的應援。
- ( ) 30. 年輕的婉柔與允炆不可能有著怎樣的行為或生活風貌？ (A)穿著西裝、洋服去逛街看電影 (B)主張婦女解放、男女平權 (C)力主自由戀愛、公開社交 (D)堅持以文言文體撰寫報告。
- ( ) 31. 關於爆發於 1910 年代末期學運浪潮的劇情，那些場景和描述符合史實？(甲)該場國際會議在巴黎舉行(乙)北大學生群聚於天安門廣場(丙)傳單上「莫忘五月九日」是痛批「二十一條要求」(丁)迫於輿論壓力最後中國代表仍忍痛在和約上簽字。 (A)甲乙丙 (B)甲丙丁 (C)甲乙丁 (D)乙丙丁。

題組(三)

附表為某雜誌自西元 1915~1922 年刊載文章類別的統計表，由表中所刊載的文章類別中可得知當時學術發展的趨勢，請回答 32-33 題：

階段 \ 類別	青年 改造	文學 革命	反儒 反孔	民主 政治	科學	西方 思潮	西洋 文學	社會 主義	馬列 主義	其他	總計
第一階段 (1~3 卷)	25	7	26	20	12	37	33	0	0	21	181
第二階段 (4~6 卷)	7	40	27	8	14	21	33	6	9	8	173
第三階段 (7~9 卷)	2	30	7	14	6	42	31	68	33	0	233

- ( ) 32. 這份雜誌創刊發行的時空背景為何？ (A)清末仇洋反教氛圍下的宣傳刊物 (B)民初接受西式教育的知識份子亟欲破舊立新 (C)晚清廢除八股取士後朝廷意欲延攬人才 (D)民初軍閥依附列強推動的文化革新。
- ( ) 33. 若按表中第三階段的文章類別來看，下列哪一篇文章不會被刊登在此份雜誌上？ (A)馬克思的共產黨宣言 (B)魯迅的狂人日記 (C)劉師培的中國古代文學史 (D)胡適的文學改良芻議。



公民

- ( ) 34. 《民法》規範私人間的權利義務關係，下列行為中，何者不是屬於財產關係的內容？(A) 小恩去便利商店購買一瓶飲料 30 元 (B) 小伊繼承父親的遺產 300 萬元 (C) 小美看到同學的籃球很棒，向他借籃球來比賽 (D) 小香因為在外地工作，向房東阿吉租套房居住
- ( ) 35. 經濟充裕的社會，在日常生活行為中，簽訂契約是不可或缺的步驟之一。下列關於契約的敘述何者有誤？(A) 私人間可以訂立契約規範權利義務關係 (B) 違反善良風俗的契約不具法律效力 (C) 書面契約有法律效力，口頭契約沒有法律效力 (D) 已婚的未成年人也可以自己訂定契約
- ( ) 36. 下列四例，何者屬於「債務不履行」的事例？(A) 開車超速闖紅燈，被警察開單 (B) 市政府道路施工不當，導致市民摔車受傷，賠償市民醫療費用 (C) 參加旅行團發現與原本規畫行程有很大不同，事後向旅行社索賠 (D) 不小心撞壞鄰居車子，修繕完畢後交還給車主
- ( ) 37. 30 歲的小張因心智缺陷成為受「監護宣告」之人，他在車行購買一輛機車。請問：小張的父母可否要求老闆退貨解約？(A) 不可以，因為買賣契約已成立 (B) 可以，因小張為無行為能力人 (C) 不可以，因小張已年滿 30 歲 (D) 可以，不滿意產品可以要求退貨
- ( ) 38. 關於未滿 7 歲的小孩其法律行為效力的描述下列何者正確？(A) 和成年人一樣，完全有效 (B) 只要得到父母同意即為有效 (C) 單純得到利益的行為是有效的 (D) 應由父母或監護人代行各種法律行為始為有效
- ( ) 39. 人民違反法律規定時，即應負擔相關的法律責任。下列關於民事責任之敘述，何者錯誤？(A) 損害賠償責任以金錢賠償為原則 (B) 為違反《民法》所應負的法律責任 (C) 賣方不依約定移轉財物給買方，就需負起契約責任 (D) 不小心毀損他人物品，負起侵權行為責任
- ( ) 40. 依據《民法》，關於人民行使權利的敘述，下列何者錯誤？(A) 人民要積極主動保障及爭取自己的權利 (B) 國家會主動幫人民爭取權益 (C) 權利人對權利的行使是有時效性的 (D) 權利人在行使權利是不可以損害他人的權益
- ( ) 41. 根據《刑法》規定，下列案例中有幾人觸犯刑法得減輕其刑？(甲)現年 85 歲的老張因飢餓而偷竊超商的麵包 (乙) 先天聾啞的小清偷了鄰居的腳踏車 (丙)16 歲的高中生小莊在網路遊戲中偷取對手的寶物 (丁)具有投票權的大學生阿曼偽造自己的身分證。(A) 4 人 (B) 3 人 (C) 2 人 (D) 1 人
- ( ) 42. 亞歷山大在朋友的喜宴上喝了許多酒，朋友勸其尋求代駕勿酒後開車，但他仍堅持自己開車回家，在路上被警察攔下，酒測值超過 0.25 毫克。請問亞歷山大違反哪部法律？應負何種責任？(A) 《民法》；民事責任 (B) 《刑法》；刑事責任 (C) 《道路交通管理處罰條例》；民事責任 (D) 《社會秩序維護法》；行政責任
- ( ) 43. 違停車輛的車主若因其過失，致交通事故發生，如機車騎士閃避違停車輛而遭撞死。下列關於車主過失行為的敘述何者正確？(A) 僅須負起違規停車之行政責任 (B) 並非故意行為，不處以刑罰 (C) 過失致人於死，負擔刑事責任 (D) 僅須負起民事賠償責任
- ( ) 44. 17 歲的小莫是販毒集團的共犯，小他二歲的小蘭協助其運送毒品，兩人皆被通緝而逃亡，一旦被捕，兩人面臨刑責為何？(A) 男方負起完全刑責，女方可減輕其刑 (B) 男方減輕其刑，女方免除刑事責任 (C) 雙方皆未滿 18 歲，可減輕刑責 (D) 毒品犯情節重大，雙方均要負完全刑責
- ( ) 45. 一名知名演藝人員酒後駕車，被警方攔下臨檢，不僅對值勤員警咆哮辱罵，更出拳襲警，事後藝人解釋因喝醉才導致行為不當，但警方仍將他移送法辦。這名藝人應負擔的刑事責任為何？(A) 屬精神失常者，得減輕其刑 (B) 屬精神障礙者，得免除其刑 (C) 屬限制責任能力人，得減輕其刑 (D) 屬完全責任能力人，須負擔完全刑事責任
- ( ) 46. 下列關於「罰金」與「罰鍰」的敘述，何者正確？(A) 罰金是觸犯《刑法》而產生的處罰，罰鍰是違反行政法規的處罰 (B) 兩者皆由法院宣告 (C) 罰金屬於行政處分之一，罰鍰屬於主刑之一 (D) 違規停車處以罰金，傷害罪應處以罰鍰
- ( ) 47. 「行政處分」是行政機關依照行政法令對人民所進行的行政行為，它的內容可能包括對人民的處罰及其它不同的效益，下列何者不是行政處分？(A) 國中頒發畢業證書給畢業生 (B) 保齡球館因消防安檢未通過勒令停業 (C) 交通警察開違規罰單 (D) 辱罵警察被法院判處拘役
- ( ) 48. 憲法規定人民的基本義務為受國民教育、納稅、服兵役，依先後順序，未履行者依法須負起哪些責任？(A) 行政責任、刑事責任、民事責任 (B) 刑事責任、刑事責任、行政責任 (C) 行政責任、行政責任、刑事責任 (D) 民事責任、行政責任、民事責任
- ( ) 49. 《大眾捷運法》第 50 條規定，若旅客在月台嬉戲、搭乘電扶梯不遵行方向等足以危害安全之行為，可處新台幣 7500 元以下罰鍰。請問：上述行為將負起何種責任？(A) 刑事責任 (B) 行政責任 (C) 民事責任 (D) 政治責任
- ( ) 50. 住家公寓大門或圍牆上被人貼了許多的廣告貼紙有礙觀瞻。上述張貼廣告做法屬於哪一種行為，可要求警方依照《社會秩序維護法》給予處罰？(A) 妨害公務 (B) 妨害善良風俗 (C) 妨害安寧秩序 (D) 妨害他人身體財產