

※ 下課鐘響前不得繳卷


班級： 座號： 姓名：

p. 1

1~17 題地理，18~33 題歷史，34~50 題公民，每題 2 分，滿分 100 分 請用 2B 鉛筆作答，將答案畫至答案卡上。

地理 1-17

() 1. 右圖為甲~丁四個國家的人口組成資料，根據圖中數據判斷，下列敘述何者正確？(A)人力資源比例最高的是丁(B)經濟發展最落後的是甲(C)人口總數最多的是乙(D)扶養比最大的是丙。



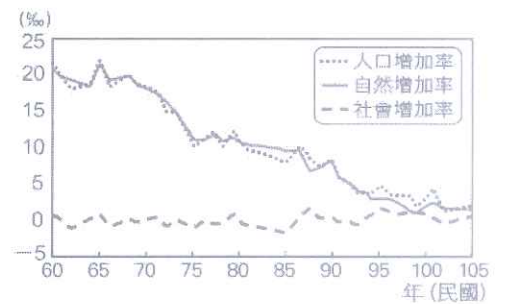
() 2. 基隆有什麼在地美食？許多基隆人會推薦從小吃到大的「吉古拉」，其實「吉古拉」就是竹輪，從日文ちくわの羅馬拼音轉化而來，但也只有基隆人會這樣叫。請問：下列基隆常見的美食中，哪一個的名稱也是源自日本語？(A)天婦羅(B)三明治(C)鼎邊趖(D)鰻魚羹。

() 3. 右表為小花國 2019 年的人口統計資料，請問該年小花國的人口增加率應為多少？(A) 5% (B) 10% (C) 15% (D) 20%。

項目	總人口數	出生人口	死亡人口	社會增加率
數據	90 萬人	12000 人	3000 人	- 5%

() 4. 過去數百年來，曾有來自中國、歐洲、日本、東南亞的族群在臺灣生活，留下許多文化特色，下列關於臺灣族群的分布或文化特色的敘述，何者正確？(A)最早定居臺灣的是漢人，大多為閩南人和客家人(B)最晚遷移至此的是新住民，主要分布臺灣東部一帶(C)新竹、苗栗一帶多客家人分布，鄉間田野有許多伯公廟(D)戰後移居臺灣的閩南人引進原鄉作物的同時，也引進了麵食文化。

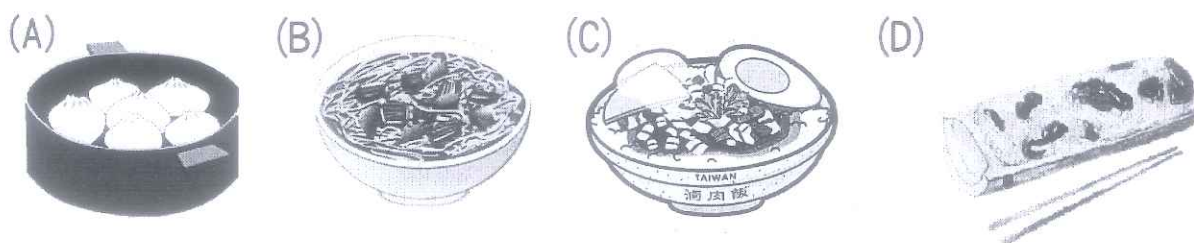
() 5. 右圖為臺灣民國 60~105 年的自然增加率、社會增加率、人口增加率統計圖。請問：下列關於臺灣人口成長情形及原因的敘述，何者錯誤？(A)這段期間影響臺灣人口成長最主要受自然增加率支配(B)這數十年來臺灣總人口數逐漸減少(C)自然增加率逐年下降，社會增加率則大致低而穩定(D)受少子化影響，臺灣人口增加率連年降低。



() 6. 右圖為臺灣人口分布圖，由圖可知，臺灣的人口分布具有下列哪一項特徵？(A)受到地形、氣候、開發早晚等因素影響，人口分布不均(B)臺灣的人口密度在亞洲名列前茅(C)東部人民平均生活空間比西部充裕(D)都市因汙染、塞車和房價過高等因素，人口密度偏低。

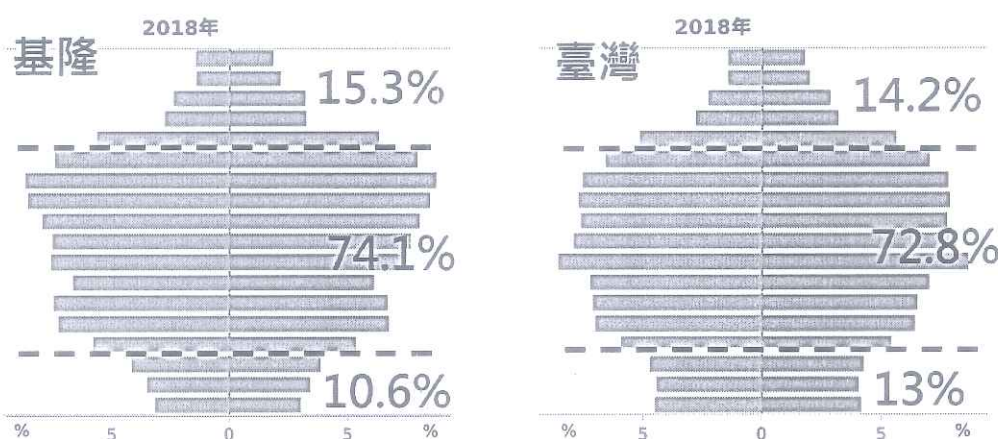


() 7. 「□□□是原住民族的一種獨特料理，起源來自於早期原住民族狩獵文化，考量在山上所需之食物補給，因而發明這種保存簡單容易又攜帶方便的料理方式，以作為上山打獵時充飢之用。另外原住民族傳統慶典活動中也會出現這道經典料理。」請問：上文中提到的料理應為下列何者？



() 8. 臺灣新住民多是指 1990 年代解嚴後，透過跨國通婚、移民、來台工作等其他原因取得中華民國國籍者的統稱，他們來自世界各地，擁有不同膚色、語言、文化風俗與生活習慣，但他們也在和臺灣民眾相處、磨合生活方式的同時，將家鄉的特色慢慢帶入臺灣。請問：臺灣目前新住民以來自哪兩個國家的人數最多？(A)中國、越南(B)越南、印尼(C)越南、菲律賓(D)泰國、中國。

◎附圖為 2018 年基隆市和全臺灣的人口金字塔圖，請根據附圖回答下列問題：



背面尚有試題

※ 下課鐘響前不得繳卷

班級： 座號： 姓名：

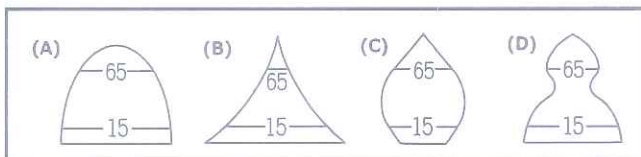
- () 9. 人口金字塔圖具有下列哪一項特徵？(A)可顯示一地人口成長的情形(B)可顯示一地的性別比例，男在右，女在左(C)橫坐標為比例，可顯示各年齡層的百分比(D)縱座標為年齡，每 15 歲為一層(級距)。
- () 10. 臺灣的人口金字塔圖顯示，2018 年老年人口比例超過 14%，已正式邁入高齡社會，老化速度遠快於日本，目前日本是全球人口老齡化最嚴重的國家。請問：臺灣人口快速高齡化的原因主要是受到哪一項因素的影響？(A)死亡率太低(B)出生率太低(C)扶養比太低(D)移入率太低。
- () 11. 觀察基隆的人口金字塔圖，可看出基隆人口結構呈現下列哪一項特徵？(A)基隆市的扶養比低於全台平均值(B)基隆市的老化程度低於全臺平均值(C)基隆市 2018 年人口增加率為 - 3.42%，呈現負成長(D)基隆市總人口數約為 36.9 萬人，外流嚴重。
- () 12. (甲)進行基隆市新住民子女教育和學生職業試探的方案 (乙)擴大 0-4 歲育兒津貼，幼兒每月核發 2,500 元，第三名以上加發 1,000 元 (丙)發放六十五歲以上老人免費乘車敬老證 (丁)要求基隆市內各級學校積極推動性別平等教育。以上基隆的市政措施中，哪些是針對目前基隆人口結構變化的所提出的因應政策？(A)甲乙(B)乙丙(C)乙丁(D)甲丙。

◎追溯基隆原住民的歷史，史前時期就曾有凱達格蘭族巴賽人，在和平島一帶形成大雞籠社聚落，與西班牙殖民強權有所互動。

今日基隆官方統計上的原住民，主要是 50 年代的時候受到當地礦業與漁業發達的吸引而到此謀生，而遷居基隆和平島八尺門海邊的都市原住民，以花蓮、台東的阿美族居多，主要從事勞力密集的工作，如今已綿延第三、四代，基隆也成為都市原住民在原鄉之外的另一個家，也漸漸發展出傳統與創新融混的文化活動。

截至 2016 年，基隆市都市原住民共有 9,251 人（男性 4,512 人、女性 4,739 人），占全基隆市總人口數的 2.5% 左右。雖然人口逐年增加，但人口增加率有逐年趨緩的趨勢，一方面由於目前基隆已經無法再提供充足的勞動就業機會，另一方面則是因為節育觀念普及。

- () 13. 文中提到的「西班牙殖民強權」曾於西元 1626 年登陸臺灣北部，也留下了下列哪一個地名？(A)三貂角(B)鼻頭角(C)富貴角(D)八尺門。
- () 14. 「基隆的都市原住民，如今已綿延第三、四代，基隆也成為都市原住民在原鄉之外的另一個家。」由上文判斷，這是屬於人口遷移的何種類型？(A)暫時，國際遷移(B)暫時，國內遷移(C)永久，國際遷移(D)永久，國內遷徙。
- () 15. 下列哪一種人口金字塔圖最能夠反映當年花蓮、台東人口外流嚴重的情形？



- () 16. 附表甲~丁四地中，哪一個的人口統計資料最能夠展現一地人口外流嚴重的情形？(A)甲(B)乙(C)丙(D)丁。

縣市	出生率 (‰)	死亡率 (‰)	人口增加率 (‰)
甲	13	8	9
乙	31	14	11
丙	25	21	8
丁	21	7	16

- () 17. 根據文中資訊判斷，關於基隆的都市原住民人口結構的特徵及影響人口成長的因素，下列敘述何者正確？(A)基隆都市原住民的性別比 > 100，女多於男(B)都市原住民提高了基隆的移出率(C)近年基隆就業機會減少，故使原住民的自然增加減少(D)因節育觀念普及，故原住民的自然增加趨減。

歷史 18-33

- () 18. 下圖是臺灣近代歷史上相當著名的旗幟，它的出現與下列哪件史實有關？(A)荷蘭時期郭懷一事件 (B)鄭成功驅逐荷蘭人 (C)霧社事件 (D)臺灣民主國的成立。



- () 19. 「第一次世界大戰結束後，帝國主義國家多遭逢殖民統治的困境，包括如何面對殖民地蓬勃發展的『民族自決』思潮，及如何繼續利用殖民地的資源以擴張經濟。」針對上述局勢，當時的統治者在台灣採取下列何項措施來因應？(A)推展台灣對外的貿易活動 (B)實施差別待遇的教育政策 (C)實行內地延長主義 (D)鼓勵台灣人民參與政治活動。
- () 20. 西元 1898 年，日本政府頒布『六三法』，授權臺灣總督具有何種權力，此後形成總督專制體制？(A)成為當時臺灣地區最高的軍事指揮官 (B)可以公布具有等同法律效力的命令 (C)考核監督所有行政機關的重要政務 (D)對外發動戰爭與簽訂條約。

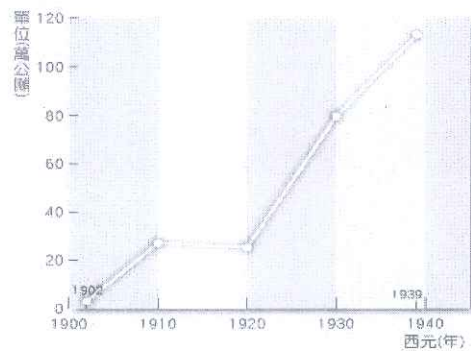
※ 下課鐘響前不得繳卷

班級： 座號： 姓名：

- () 21.日本統治臺灣五十一年，統治策略有三：【甲】皇民化運動【乙】內地延長主義【丙】殖民地特殊統治。請問：這三個統治策略的時間先後為？ (A)甲乙丙 (B)丙乙甲 (C)乙丙甲 (D)乙甲丙。
- () 22.小琪的爺爺指著一張照片(如下圖)回憶道：「這張老照片，是你曾祖父和我的合照，當時因為家裡被選上國語家庭，生活環境比一般人家好。」請問：這張照片最可能是哪個時期的照片？ (A)皇民化運動時期 (B)殖民地特殊統治時期 (C)內地延長主義時期 (D)中華民國政府來台後。



- () 23.從『內地延長主義時期』到『皇民化運動時期』政策的轉變，是因為發生了哪一件歷史事實？ (A)中日戰爭的爆發 (B)西來庵事件 (C)霧社事件 (D)第一次世界大戰的發生。
- () 24.西元2002年，南投縣某位年過80歲的原住民長老回憶：「小時候，日本人為了進一步開發山區森林與樟腦資源，經常用很少的薪水雇用部落成員到深山負責砍伐或搬運，也常派出警察到部落巡視、駐紮。這些高壓統治政策，逼迫我們只好武裝起來反抗。」請問：這位原住民長老回憶的抗日事件，發生地點最有可能是下列何者？ (A)西來庵事件 (B)霧社事件 (C)牡丹社事件 (D)中日戰爭。
- () 25.日治時期，擔任總督府民政長官，規畫並建立日本在臺殖民統治基礎的重要人物是？ (A)唐景崧 (B)磯永吉 (C)後藤新平 (D)八田與一。
- () 26.日本治台的經濟目標，從『工業日本、農業臺灣』到『工業臺灣、農業南洋』的改變，是因為下列何種政策的實施？ (A)日臺合一 (B)內地延長主義 (C)殖民地特殊統治 (D)南進政策。
- () 27.下圖表示日治時期蔗糖產量。請問：關於糖業在臺灣的發展，下列敘述何者**錯誤**？ (A)一九二〇年代以後蔗糖產量快速成長 (B)臺灣人的消費能力驚人 (C)製糖業蓬勃發展，獲得「糖業王國」稱號 (D)新式機械化製糖廠的設立，有助於產量的提升。



- () 28.日本殖民統治臺灣時期，總督府為了推動殖民經濟所做的基礎建設，**不包括**下列何者？ (A) 人口調查，確實掌握台灣人口實況 (B)調查臺灣土地與林野資源 (C)完成基隆到高雄的縱貫鐵路等各項重要交通建設 (D)設立中央銀行，發行統一貨幣。
- () 29.日治時期，總督府完成了不少基礎建設，為日後國民政府奠定了良好的基礎。請問：日本在臺灣完成這些基礎建設的主要目的為何？ (A)方便日人統治及獲取利益 (B)讓臺灣人民感受被日本殖民的好處 (C)鼓勵日人移民到臺灣 (D)讓在臺居住的日本人有一定的生活品質。
- () 30.日本殖民統治臺灣時期，臺灣有句俗諺提到『第一慫，種甘蔗乎會社磅』，反映了當時何種情景？ (A)甘蔗生產過剩，價格低廉 (B)蔗農備受日本資本家的剝削 (C)甘蔗不易種植，農民無以維生 (D)甘蔗售價高，民眾無力購買。
- () 31.在「工業臺灣、農業南洋」的經濟政策下，當時臺灣的經濟發展有許多轉變。請問：下列敘述何者「**不正確**」？ (A)此時工業化建設主要以國防軍需為主 (B)西元1934年，日月潭水力發電所完工，提供各種工業用電的需求 (C)臺灣社會逐漸由工業社會改變為農業社會 (D)紡織、食品加工等輕工業也有顯著成長。
- () 32.下表表示某人在台灣旅遊時的部分行程，依內容判斷，此人最可能是下列何者？ (A)荷蘭聯合東印度公司的駐台牧師 (B)跟隨鄭成功來台的明朝文人 (C)清代開港時來台的外國商人 (D)日本統治下訪台的國會議員。

時間	地點	參觀行程
2/22~2/23	台南	孔廟、赤崁樓、嘉南大圳
2/23~2/24	高雄	西子灣海水浴場、台糖製糖廠
2/24	屏東	鵝鑾鼻燈塔
2/27	台北	紅毛城、英國領事館

- () 33.日本治理台灣後期，以東南亞等地為侵略目標，企圖藉此在東南亞取得下列哪些重要資源？ (A)稻米、蔗糖 (B)鹿皮、白銀(C)茶葉、樟腦 (D)石油、橡膠。

公民 34-50

- () 34. 在某種社會階層或團體中，其組成份子所形成的特殊生活習慣、思想方式、態度與價值觀，和整個社會的文化不同，這些獨特的文化稱為何者？ (A)精緻文化 (B)強勢文化 (C)本土文化 (D)次文化

背面尚有試題

※ 下課鐘響前不得繳卷

班級： 座號： 姓名：

p. 4

- () 35. 亞洲各國包括土耳其、印尼、日本、越南、中國大陸等，有不同國籍的新住民陸續來到台灣定居，帶來新的文化，塑造了台灣文化的何種特性？ (A) 普遍性 (B) 差異性 (C) 多樣性 (D) 共通性
- () 36. 有關「強勢文化」與「弱勢文化」的敘述，下列何者錯誤？
 (A) 民眾可能不自覺接受強勢文化，而影響既有的價值觀
 (B) 弱勢文化受到強勢文化的影響，可能產生對傳統文化認同的危機
 (C) 文化交流過程中可能產生文化衝突
 (D) 透過文化交流篩選並剔除弱勢文化
- () 37. 歐洲有些國家明令禁止公眾場合穿著遮掩臉部的服飾，引發女性穆斯林強烈的不滿，並進行街頭抗爭。此情況稱為何者？
 (A) 文化相對主義 (B) 文化融合 (C) 文化衝突 (D) 文化位階
- () 38. 近年學校教育開始開設鄉土課程與母語教學；各地的客家文物館、原住民博物館也相繼成立。這些做法有利於下列何目標的推動？
 (A) 終身學習 (B) 排斥外來文化 (C) 種族優越 (D) 多元文化
- () 39. 過去我國政府長期推動國語運動，有些人因為用詞與口音與多數人不相同，而被嘲弄與歧視，從而拒絕使用自己的母語，形成國語與母語間的高低優劣區別。上述為何種文化現象？
 (A) 文化創新 (B) 文化位階 (C) 文化融合 (D) 文化交流
- () 40. 現今我們有更多機會接觸不同文化，在進行文化交流之前，必須先有什麼樣的心態，才能避免因誤解、偏執所導致的衝突？(甲) 認為自己的文化是最優秀的 (乙) 珍惜與認同自己的文化 (丙) 忽視或放棄本國文化 (丁) 開放心胸去看與接納
 (A) 甲丁 (B) 乙丙 (C) 乙丁 (D) 甲丙
- () 41. 某族群經常以自己文化的觀點去衡量其他族群的文化，容易產生對其他族群文化採取歧視或貶抑的態度。請問上述某族群過度強調何種文化概念？
 (A) 文化交流 (B) 主流文化 (C) 我族中心主義 (D) 文化相對主義
- () 42. 李國鼎基金會舉辦「我不認識你，但我願意幫你」學術論壇，希望呼籲民眾一起推廣這股愛的力量，把「第六倫」的倫理觀念傳遞出去。請問第六倫所指為何？
 (A) 同儕關係 (B) 團體關係 (C) 師生關係 (D) 群己關係
- () 43. 「中國大陸非洲豬瘟疫情持續延燒，海關提醒，自 107 年 12 月 14 日起，旅客違規攜帶動物產品入境將處以新臺幣(下同)1 萬元以上 100 萬元以下罰鍰，行政院農委會動植物防疫檢疫局公告新修訂「裁罰基準」，自 12 月 18 日零時起，倘旅客違規攜帶近 3 年曾爆發非洲豬瘟之高風險地豬肉類產品入境，第 1 次初犯罰鍰由 5 萬元提高到 20 萬元，第 2 次以上之累犯即重罰 100 萬元。」上文宣導內容，可彰顯下列哪一社會規範？
 (A) 法律 (B) 風俗習慣 (C) 宗教信仰 (D) 倫理道德
- () 44. 個人在社會上的行為，有些受到心理影響，有些受到外在環境影響，其中有些規範具有強制力，下列何者屬之？
 (A) 開車不喝酒 (B) 排隊購買車票 (C) 看電影時關閉手機 (D) 除夕吃團圓飯
- () 45. 社會上對於特定事件或議題，常形成某種多數人都同意的共通觀點，並對於違背這種觀點的人形成無形的壓力。中國古諺：「千夫所指，無病而死。」形容違犯道德而被眾人所指責，以至於難以在社會上立足的狀況。上文所述即為下列何者？
 (A) 風俗習慣的懲罰 (B) 賞善罰惡的報應 (C) 法律的制裁 (D) 輿論的譴責
- () 46. 下列行為及其動機依社會規範分類何者正確？
 (A) 媽媽在過年時發壓歲錢—倫理道德 (B) 政府官員拜媽祖祈求國泰民安—宗教信仰 (C) 體貼同學孝順父母—法律 (D) 伊斯蘭律法以《古蘭經》教義為基礎—風俗習慣
- () 47. 風俗習慣與法律有何不同？(甲)風俗習慣是長期累積出來的；法律是國家依照特定程序制定出來的 (乙)法律是最早發展出來的一種社會規範形式 (丙)風俗習慣所有人都要遵守；法律沒有強制性 (丁)年節、掃墓、成年禮屬於風俗習慣的一種
 (A) 丙丁 (B) 甲乙 (C) 甲丙 (D) 甲丁
- () 48. 人與人的互動須有遵循標準，才能維持社會秩序，謀求整體發展，並讓個人融入社會生活，成為社會所能接受的人。請問上述遵循標準所指為何？ (A) 國民教育 (B) 次級文化 (C) 社會規範 (D) 科技發展
- () 49. 台灣各個原住民族文化中，哪一族擁有紋面的習俗，以紋面彰顯成年人功績與榮譽？ (A) 噶瑪蘭族 (B) 達悟族 (C) 泰雅族 (D) 凱達格蘭族
- () 50. 人與自然環境的關係愈來愈受重視，所有物種都有生存權利，人類的行為應顧及生態保育。上述所提及何種觀念日益受到重視？
 (A) 科技倫理 (B) 環境倫理 (C) 性別倫理 (D) 校園倫理

背面尚有試題