

※ 下課鐘響前不得繳卷

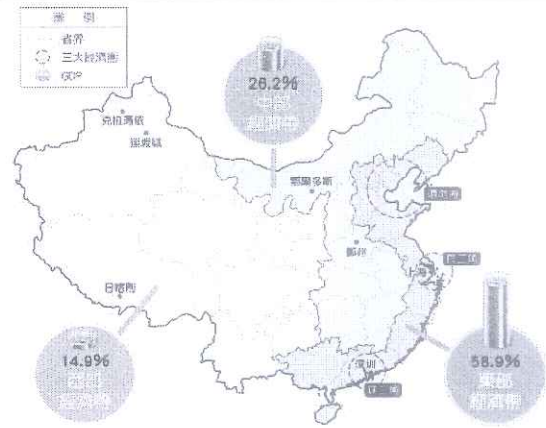
班級：

座號：

姓名：

單選題(每題 4 分，請小心作答)

- () 1. 「中國不只是『世界工廠』，更是『世界市場』。」說明了中國在國際貿易擁有哪一項優勢？ (A)面積 (B)地形 (C)人口 (D)氣候
- () 2. 附圖為中國三大經濟帶的產值比例圖。圖中形成明顯的經濟差異，可見中國在經濟快速成長過程，發生下列哪一項問題？
(A)人口成長快速 (B)區域發展不均 (C)交通建設落後(D)資金嚴重不足
- () 3. 中國東半部的農業，愈南耕作次數愈多，由一穫增至二穫，甚而三穫，主要受下列哪個因素的影響？
(A)年雨量的多寡 (B)生長期的長短 (C)地勢的高低 (D)水資源的多寡
- () 4. 迪麗到中國的南部地區參觀當地的產業活動，在當地有可能觀察到何種景觀？ (A)高唱山歌的採茶姑娘 (B)收割小麥的農忙景觀 (C)馳騁草原的放牧生活 (D)綠洲灌溉的薰衣草田
- () 5. 隨著國際貿易的發展，中國在國際貿易的舞台上扮演舉足輕重的角色。中國在 2015 年推動「一帶一路」的經濟政策，主要的目的是 (A)降低生產成本 (B)均衡區域發展 (C)降低貿易逆差 (D)擴大海外市場
- () 6. 「春季時驅趕牛羊上山吃草，夏末秋初再驅趕牛羊下山避冬。」上述的畜牧方式主要位於右圖中何處？ (A)甲 (B)乙 (C)丙 (D)丁
- () 7. 中國農民在長江中下游圍湖造田，雖然增加農產量，但也產生哪種環境問題？
(A)旱災 (B)水汙染 (C)水災 (D)沙塵暴
- () 8. 新疆從小麥及瓜果田漸漸轉為一片雪白的棉田；浙江與四川愈來愈多從稻田轉種的花卉專區出現。請問：上述的中國農業的變遷，與下列何者無關？ (A)市場需求轉變 (B)農牧技術進步 (C)氣候全球暖化 (D)交通工具進步



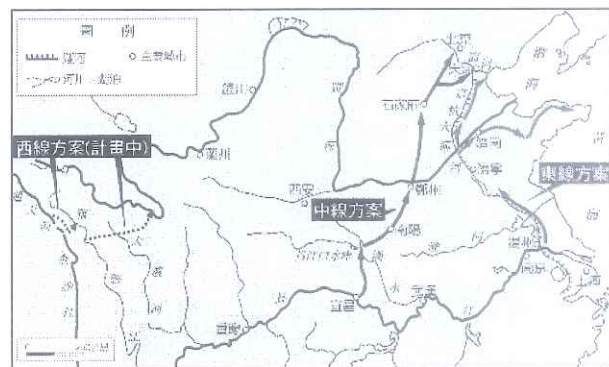
右圖是中國依各地區的經濟發展程度所畫分的三大經濟帶。請問 8-11 題：

- () 9. 下列關於甲區域發展的敘述中，何者最正確？(A)甲處的礦產豐富，重工業發達 (B)乙處為政治經濟重心，發展快速 (C)乙處鄰近特別行政區，有利吸引外資 (D)乙處位於長江出海口，最早改革開放
- () 10. 三大經濟帶中，唯一尚未設置經濟特區的經濟帶是(A)甲 (B)乙 (C)丙
- () 11. 哪一個經濟帶在經濟發展的過程中，最需要優先改善交通設施等基礎建設？
(A)甲 (B)乙 (C)丙



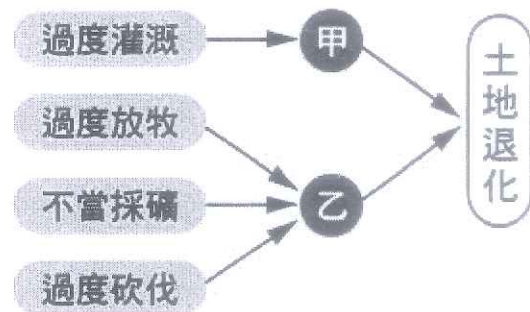
右圖為南水北調的路線圖。請問 12-14 題：

- () 12. 「南水北調」工程中，「南水」指的是哪一條河川？
(A)珠江 (B)長江 (C)黃河 (D)淮河
- () 13. 此工程的完工後，對下列哪一個工業地帶幫助最大？
(A)環渤海 (B)長三角 (C)珠三角
- () 14. 哪一條送水路線比較容易遇到嚴重水汙染的問題？
(A)東線方案 (B)中線方案 (C)西線方案 (D)南線方案



右圖是中國土地退化形成示意簡圖，請問 15-17 題：

- () 15. 土地發生退化的地區，大多具有下列何種氣候特徵？
(A)全年多雨 (B)全年少雨 (C)終年低溫 (D)冬溫偏低
- () 16. 圖中的「甲」所代表的現象，成因與下列何者關係最密切？
(A)地層下陷 (B)風沙侵襲 (C)土壤鹽鹼化 (D)凍土融化
- () 17. 圖中的「乙」所代表的現象應該是下列何者？
(A)水土流失 (B)生態脆弱 (C)土地沙漠化 (D)土壤鹽鹼化



※ 下課鐘響前不得繳卷

班級： 座號： 姓名：

- () 18. 下列關於「宋朝」政局的敘述，哪一項不正確？ (A)宋朝立國實施強幹弱枝政策，而後未能因時制宜，整體國勢積弱不振 (B)北宋定都汴京，南宋定都臨安，皆是人口破百萬的大城市 (C)北宋「聯金滅遼」與南宋「聯蒙古滅金」政策失利，最後均亡於外族 (D)北宋的「新舊黨爭」與南宋的「東林黨爭」均導致朝政中衰。

- () 19. 右側是北宋時期的疆域形勢圖，阿虎依所學判讀該圖，說明如下：
「(a)五代時喪失斜線部分的燕雲十六州，故北宋立國之初即缺少北方長城屏障，宋真宗時與(b)乙處的契丹族簽訂澶淵之盟-每年給予歲幣以維持百餘年的和平；此外，宋仁宗時(c)丙地的西夏國多次請求和親未果，朝廷也常賜財物以求和平，但北宋末年仍遭崛起於(d)丁處的女真族攻入首都而亡國。」



- 請問畫線部分所述正確的有幾項？ (A)1項 (B)2項 (C)3項 (D)4項。
- () 20. 史書上記載：「宦官得以代天子行使職權，硃批國家公文，比內閣更接近國家主體，而後更漸至凌駕內閣。」請問：形成上述現象可能是何者造成的影響？ (A)宋朝實施文人政治 (B)元朝實施種族歧視政策 (C)明朝廢除宰相設置廠衛 (D)清朝採高壓和懷柔並行之策。
- () 21. 北宋王安石和明朝張居正的變法，具有下列哪項共同點？ (A)皆因財政負擔沉重而推動改革 (B)均未得到皇帝支持種下敗因 (C)兩人性格剛愎，故新法均遭守舊者反對 (D)最終都引起朝臣對立的黨爭之禍。
- () 22. 綜合下列資料，請判斷其所述應該是哪一個朝代？ (A)宋代 (B)元代 (C)明代 (D)清代。

甲、以草原遊牧民族的角色入主中國，統治漢地、漢族。
乙、海陸交通完善，沿海設置市舶司管理貿易事宜。
丙、未能平等對待不同族群，成為其覆亡的原因之一。

- () 23. 宋代學術主流是融合道家、佛教、儒家等思想而產生的一種新儒學。請問：這種重視道德修養與實踐的學術思想被後人稱之為什麼？ (A)理學、道學 (B)考據學 (C)雜學 (D)清談玄學。
- () 24. 南宋名將岳飛，因忠君報國受到人們的敬仰，今浙江杭州西湖畔的岳王墓前有一對夫婦的鐵鑄跪像，是後人所立用來唾罵當年以「莫須有」罪名害死岳飛的哪一位奸相？ (A)魏宗賢 (B)顧憲成 (C)秦檜 (D)沈括。
- () 25. 阿圓參加競答活動，須將數張牌卡依時間先後排序：(甲)吳三桂引清兵入關消滅流寇(乙)清軍擊敗鄭氏納台灣入版圖(丙)逐步消滅南明政權(丁)平定三藩之亂。請問下列何者排列正確？ (A)甲→乙→丙→丁 (B)乙→丙→甲→丁 (C)丙→甲→丁→乙 (D)甲→丙→丁→乙。
- () 26. 準備考前複習時，阿寶將宋明時期的重要史事做了統整比較表，可其中他只寫對了哪幾項內容？ (A)甲乙 (B)乙丙 (C)丙丁 (D)甲丁。

重大事件	(甲)、時間	(乙)、起因	(丙)、性質	(丁)、結果
靖康之禍	北宋徽宗年間	外交政策不當	外族入侵	皇帝被俘、宋室南遷偏安
靖難之變	明朝成祖年間	削藩政策失利	宗室內鬥	皇帝失蹤、另建南明政權

- () 27. 某電視頻道最近製作一部介紹宋元科技文化的節目，下列是四個錄製完成的主題，其中哪個不適合出現在該項節目中？ (A)改善雕版印刷缺點的活字印刷術 (B)西傳至阿拉伯一帶的人工磁化指南針之法 (C)傳教士與中國士大夫合譯的幾何原本 (D)蒙古西征時傳入歐洲的火藥技術。
- () 28. 宋元明清時期的國內外貿易都十分發達，稅收更是重要的國庫收入之一，歷朝政府也都有其獨特的經貿政策，下列敘述何者不正確？ (A)宋朝自占城引進早熟稻、明中葉起美洲耐旱作物傳入，皆使得糧食供應充足有助人口增加 (B)元朝開通京杭大運河，以便運送南方物資供北方京城之需 (C)明初與清初都曾實施海禁，外國須接受中國皇帝冊封才能以「進貢」名義來華貿易 (D)雍正皇帝時僅開放泉州港作為外商貿易地點，中西文化交流因而漸趨緩慢。
- () 29. 近代中國有不少重要著作問世，若要將下方這些作品進行數位典藏，須先做基本資料校對，請問僅有哪項配對完全正確？ (A)甲 (B)乙 (C)丙 (D)丁。

	朝 代	人 物	著 作	範 疇
(甲)	北 宋	畢 昇	夢溪筆談	科技著作
(乙)	元 朝	司馬光	資治通鑑	史 學
(丙)	明 朝	李時珍	本草綱目	醫藥學
(丁)	清 朝	曹雪芹	天工開物	通俗小說

※ 下課鐘響前不得繳卷

班級： 座號： 姓名：

- () 30. 《時空穿越》客棧中有四位人物各自描述所處時代當官的途徑，請依所述判斷何人對應的朝代是正確的？
 (A)趙依應該是明朝的山西商人 (B)王爾生活在南宋統治下的臨安府 (C)張叁是清朝康熙年間的考生
 (D)李肆可能是元朝統治下的色目人。

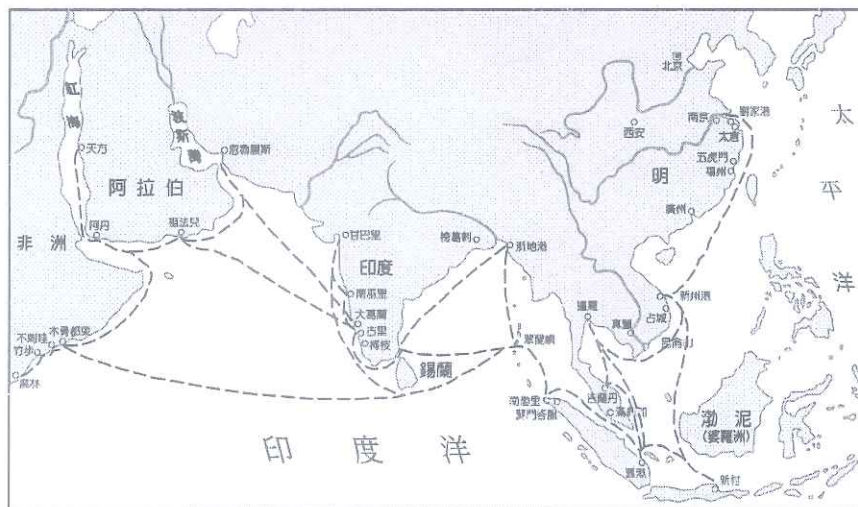
趙依：應付這種限制寫作格式的「八股文」，我可是駕輕就熟，倘若無法透過考試取得功名，還可以用捐糧、捐錢的方式晉身士紳階級。

王爾：自小在江浙行省長大的我就算熟讀朱熹的四書集注，要考上錄取率不到 1 % 的科考也太難了，不如假冒身分前往北方省分應試，興許還能提高被錄取的機會。

張叁：在科考上政府增加頗多的錄取名額，且訂有彌封與謄錄等防弊措施，我秉持著「萬般皆下品，唯有讀書高」的志氣一定能高中。

李肆：雖說家世、品德與才能都是上級評審的標準，但在我這個時代若想要當大官的話，依靠先祖父輩們的庇蔭還是比較有效的。

- () 31. 小柏打算籌拍歷史劇「晚清富商胡雪巖傳奇」，劇中有以下這段情節：「胡雪巖動身前往遠近馳名的(甲)江西景德鎮購買蟠龍青花瓷瓶，途中行經杭州城，城內茶館林立，還有不少聲色娛樂場所，晚間他與友人逛完夜市之後，發現盤纏不夠投宿客棧，他便臨時借宿於(乙)商幫設立之會館，隔天一早再到錢莊(丙)提領「寶鈔」進行交易，而後花錢雇船(丁)利用漕運北上京城。」請依據歷史知識判斷，上述內容中那些選項符合史實？
 (A)甲乙丁 (B)乙丙丁 (C)甲丙丁 (D)甲乙丙。
- () 32. 明朝周臣繪製的「流民圖」描繪了許多骨瘦如柴、到處乞食求生的逃荒難民形象，顯示出明代中期以後飽受內憂外患之苦，人民生活也因而變得更加困苦。請問：明朝末年的內憂所指為何？
 (A)滿洲叛明騷擾邊關 (B)東南沿海倭寇擾民 (C)嚴重饑荒引爆流寇為禍 (D)藩鎮擁兵自重、據地稱王。
- () 33. 某博物館推出「紀念偉大海上海探險特展」，展覽品中的這張地圖是明朝初年派遣鄭和下西洋的航海路徑，可知其船隊最遠曾經抵達非洲東岸，不僅展現當時已有傑出的造船技術，更能印證此一探險活動對當時中國所帶來的影響為何？
 (A)引發遠航探險風氣，延續歐洲海外拓殖浪潮 (B)肅清倭寇勢力，確保東南沿海安定
 (C)貿易管道暢通，美洲白銀大量流入中國 (D)聲威遠播，奠定閩粵居民移往東南亞發展的基礎。



- () 34. 奧地利在去年 9 月提前大選，庫爾茨領導的人民黨得票率 37.5%，在國會中取得最多席次，但並未過半，日前同意與綠黨合組「聯合政府」，這是綠黨有史以來第一次進入政府，奧地利的目標將成為歐洲對抗氣候變遷的先驅。請問，奧地利最可能屬於何種政黨型態？
 (A)一黨獨大 (B)一黨專政 (C)兩黨制 (D)多黨制。
- () 35. 承上題，何者為奧地利政黨型態的特色？
 (A)政策連貫行政效率高 (B)易忽略小黨的意見，無法充分反映多元民意 (C)人民選擇機會較少 (D)責任不清，行政效率低落。
- () 36. 中部連日空污嚴重，能見度奇差，台中毒氣城再現！「爭好氣聯盟」等公民團體齊聚台中市政府前抗議，要求盧市長強力監督台中火力發電廠減煤外，也應針對其他污染源拿出對策，並應做好節電、抑制工業用電成長、加速綠電建置。請問，以下有關「爭好氣聯盟」的敘述何者正確？
 (A)目的為取得執政權 (B)能彌補國會對專業性問題了解不足 (C)主要活動為推派候選人參選 (D)關注的政策面向較全面性。
- () 37. 承上題，根據內容判斷，「爭好氣聯盟」較傾向於下列何種團體？
 (A)關心國家利益的政黨 (B)關心一黨之私的政黨 (C)關心公共利益的利益團體 (D)關心自身利益的利益團體

※ 下課鐘響前不得繳卷

班級： 座號： 姓名：

- () 38.選舉將至，許多候選人在競選期間抹黑攻擊敵對政黨，此一行為最主要違反政黨政治運作的哪一原則？
(A)依法組黨公平競爭 (B)國家與人民利益優先 (C)尊重寬容與理性協商 (D)服從多數與尊重少數
- () 39. 1935年台灣在日治時期首次舉辦的第一屆市議會及街庄協議會選舉，女性並不具有投票資格，直至光復後，女性才開始擁有參政的權利；而 2011年極端保守的沙烏地阿拉伯國王也宣布，賦予沙國女性投票和參選地方選舉的權利。請問：女性投票權的落實，是體現下列哪一項選舉原則的精神？
(A)普通原則 (B)平等原則 (C)直接原則 (D)無記名原則。
- () 40.關於政黨的功能，何者正確？
(A)勝選的政黨，取得執政權後就積極組織內閣；服務選民 (B)各政黨進行黨內初選；提名候選人 (C)舉辦各候選人的政見發表會與辯論會；監督政府 (D)成立選民服務處；組織政府。
- () 41.關於下列表(一)兩個人的對話，何者錯誤？
(A)甲國可能是一黨專政 (B)甲國可能是新加坡 (C)乙國可能是中華人民共和國 (D)乙國的優點為政策連貫性高

表(一)

(甲國)我國有自由選舉，並具競爭性，但長期都由幸福黨取得執政權，在野黨有權制衡監督執政黨的施政。
(乙國)和平黨從建國至今，一路執政，沒有其他反對黨可以跟他競爭執政權。

- () 42.成成長年住在屏東縣，他擔任地方公職已邁入第18年，期間連任一次公職後無法再連任，因此改參選其他公職。依上述內容判斷，下列何者最可能是成成的地方公職生涯發展？
(A)縣長、鄉民代表、鄉民代表、鄉長 (B)鎮民代表、鎮民代表、縣議員、縣議員 (C)市長、市長、市民代表、縣議員 (D)縣長、縣長、立法委員、立法委員。

【題組】

我國於 2018 年 11 月 24 日舉行全國性公民投票並與地方公職人員選舉同時舉辦。本次全國性公民投票案數量為 10 案，依據中選會公布的投票結果顯示，通過的公投案為反空污、反燃煤、反核食、反同議題和以核養綠。請問：

- () 43.關於「公民投票」的敘述正確的有哪些？(甲)公投可不在戶籍地投票 (乙)公民投票是落實「主權在民」的作法 (丙)公民投票在履行參政權中的創制權與複決權 (丁)參與公投的最低年齡為 20 歲 (戊)公投行使對象是針對政策或法案。
(A)乙丁戊 (B)甲乙丙戊 (C)甲丁戊 (D)乙丙丁。
- () 44.《公民投票法》對於有投票權之公民，其設籍時間的規定和下列何項選舉規定相同？
(A)縣、市議員 (B)直轄市長選舉 (C)立法委員選舉 (D)總統、副總統選舉

中華民國第十五任總統、副總統及第十屆立法委員選舉於 2020 年 1 月 11 日舉行，立委選舉結果，民主進步黨拿下 61 席席次過半，中國國民黨拿下 38 席，首次參選的台灣民眾黨 5 席，時代力量 3 席、台灣基進 1 席，無黨籍及未經政黨推薦 5 席。

總統大選的部分，由民進黨繼續連任，從高雄市的總統選舉結果，可看到韓市長比 2018 年得票少逾 28 萬票，13 個多月前，約 5 成多的高雄市民將高雄託付他，如今 6 成多民眾投下反對票，可以看得出來高雄市民對市長的不滿。請問：

- () 45.下列有關我國立法委員選舉的敘述，正確的有幾項？
(甲)採「單一選區兩票制」，單一選區指每一選區只選出一名區域立委 (乙)政黨票得票比例須超過 5%的政黨才可以參與分配不分區立委席次 (丙)「兩票制」是指一票選「區域立委」，一票選「政黨」(丁)立法委員席次共有 113 席。
(A)4 項 (B)3 項 (C)2 項 (D)1 項。

※ 下課鐘響前不得繳卷

班級： 座號： 姓名：

- () 46.從選舉的結果，韓市長在高雄的支持度下滑，可視為人民對其施政投下了不信任票。由此可知，透過選舉，可以督促政黨克盡己責，否則可能在下次選舉中遭到淘汰，這是選舉的何項功能？
(A)選出公職人員 (B)影響政府政策 (C)合法取得政權 (D)展現責任政治。
- () 47.下列哪一組公職人員的「連任次數」和總統相同？
(A)高雄市長、高雄市議員 (B)馬公鎮鎮長、內灣村村長 (C)三星鄉鄉長、基隆市長 (D)苗栗市市民代表、基隆市議員。
- () 48.下列哪一組公職人員的「參選年齡」和立法委員相同？
(A)台中市長、台南市議員 (B)小林村村長、基隆市中正里里長 (C)羅東鎮鎮長、直轄市山地原住民區區長 (D)花蓮市市長、花蓮市市民代表。
- () 49.根據表(二)，下列可以同時參與此次總統與立委投票的有幾人？(A)4 人 (B)3 人 (C)2 人 (D)1 人。

表(二)

姓名	設籍時間	備註
思聰	10 個月	26 歲，受到監護宣告
曉明	4 個月	23 歲，被褫奪公權終身
喬平	3 年	30 歲，社工師
王赦	7 年	40 歲，人權律師
大芝	6 個月	19 歲，在電視台工作

- () 50.承上題，對有嚴重精神障礙或心智缺陷者，可請哪個單位宣判監護宣告？
(A) 法院 (B)社會局 (C)警察局 (D)法務部。