

※ 下課鐘響前不得繳卷

班級：

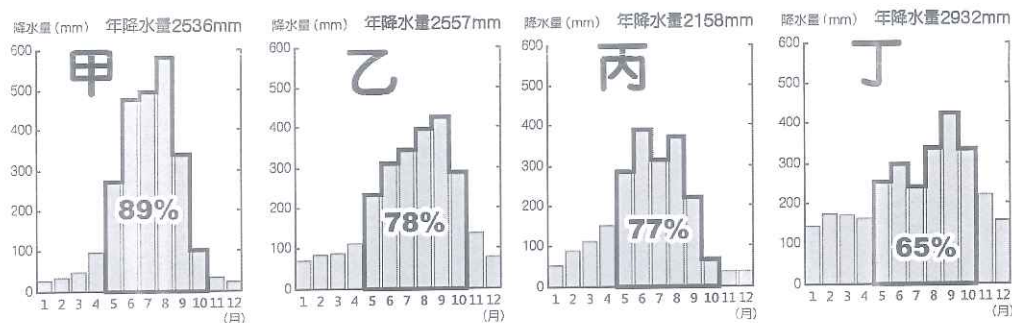
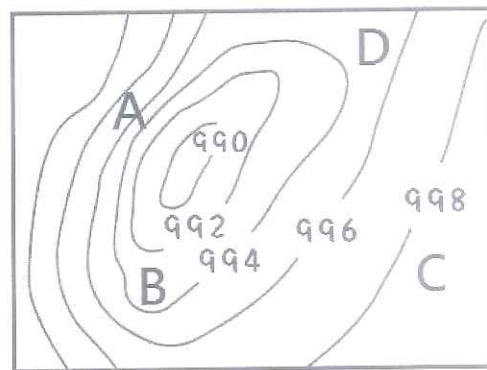
座號：

姓名：

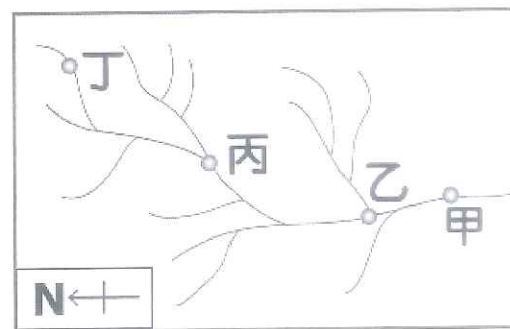
單選題 50 題，每題 2 分，共計 100 分。(1~17 題地理，18~33 題歷史，34~50 題公民)

請用 2B 鉛筆作答，將答案畫至答案卡上。

- () 1. 下列關於大氣變化特徵的敘述中，何者是關於「天氣」的描述？(A) 2019 年臺灣的年均溫為 24.56 度，創下自 1947 年有紀錄以來的新高(B) 在熱帶太平洋附近平均一年可形成 25.7 個颱風(C) 中央氣象局預報，11 日臺灣總統大選投票當天，全臺都是多雲到晴、可見陽光的好日子(D) 蒙古高壓是主宰亞洲冬季天氣很重要的高氣壓系統，也是亞洲冬季最主要的冷空氣來源。
- () 2. 右圖為某地的地面天氣圖，圖中曲線為等壓線，請問下列敘述何者正確？(A) 當地被冷空氣籠罩(B) 圖上數字單位是毫米(C) 應為晴朗無雨的好天氣(D) 圖中四個地點中，A 地風速最快。
- () 3. 臺灣各地的氣溫與降水在時間與空間上差異顯著，請問：下列哪一項臺灣氣候特徵，主要是受到緯度的影響？(A) 以北回歸線為界，以南為熱帶、以北為副熱帶氣候(B) 澎湖群島為臺灣地區降雨量最少的地區(C) 臺北的夏天平均溫度高於高雄(D) 臺灣冬、夏盛行風的風向相反。
- () 4. 右圖為臺灣主要河川分布圖，請問臺灣河川具有下列哪一項特徵？(A) 乙、丙兩條河川流量變化大，為荒溪型河川(B) 圖中四條河川長度為：乙>丙>丁>甲(C) 冬季水位最高的是丁河(D) 因主要分水嶺南北縱走，故河川呈南北分流。
- () 5. 下列何者是造成臺灣河川泥沙含量偏高的主要原因？(A) 河川短小(B) 河川坡陡流急(C) 河川流量變化大(D) 河川多往西流。
- () 6. 下列附圖是臺灣北、中、南、東四個地區的雨量圖，就臺灣河川流量的季節變化來判斷，臺灣流域面積最大的河川位於哪一個地區？(A) 甲(B) 乙(C) 丙(D) 丁。



- () 7. 右圖為某一水系簡圖，根據圖中資料判斷，下列敘述何者正確？(A) 主流向北流(B) 甲的地勢最高(C) 丁的堆積地形最多(D) 乙的集水區範圍比丙大。
- () 8. 下列何者是臺灣常用的氣溫單位？(A) °F (B) °C (C) hPa (D) mm。



◎外籍旅客來台灣最愛去哪裡？據觀光局公布的「2018 來台旅客消費及動向調查」

指出，購物、逛夜市及參觀古蹟是外籍旅客在台灣最主要的活動。若以景點來看，墾丁國家公園最獲來台旅客喜愛，其他依序是九份、日月潭、太魯閣、阿里山、平溪、野柳及淡水等。另外，據觀光局調查指出，吸引旅客來台觀光的因素中，以美食或特色小吃位居第一，其他依序是景色、購物、民俗文化、水果，和人民友善。請問：

- () 9. 吸引外籍旅客來台的誘因之一是水果，臺灣生產的水果種類多而且好吃，有熱帶的愛文芒果，也有拉拉山的水蜜桃。請問：臺灣可以生產各種氣候帶水果的主要原因為何？(A) 低緯、高山多(B) 高緯、多地熱(C) 高緯、多離島(D) 低緯、平原多。
- () 10. 外籍遊客若在新年假期來臺灣旅遊，在下列哪一個地點遇到下雨的機率最高？(A) 屏東墾丁(B) 南投日月潭(C) 新北九份(D) 花蓮太魯閣。

※ 下課鐘響前不得繳卷

班級：

座號：

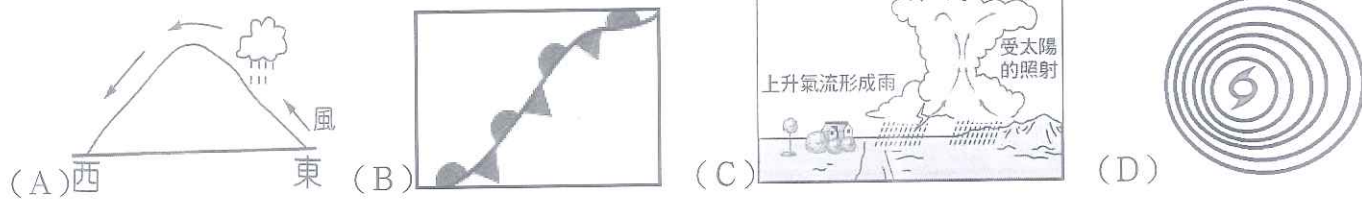
姓名：

- () 11. 若遊客在平溪放天燈，當時風向為東南風，第二天最有可能在哪個行政區內發現天燈的殘骸？(A)瑞芳區(B)雙溪區(C)汐止區(D)石碇區。



◎新聞報導：「2019 年結束了，總結去年台灣氣候回顧，除了 5 月因為雨日偏多溫度比氣候平均低，其它 11 個月都是明顯偏暖。降雨方面，年降雨量除東南部明顯偏少外，其他地區大致為正常到多雨為主，整體的年降雨量接近正常。雖然接下來一到兩週內並未看到明顯的寒流訊號，但並不代表接下來不會有寒害，民眾也應多留意接下來常發生的氣象災害。」請問：

- () 12. 上文中提到「5 月雨日偏多」，最有可能的原因是此時屬於下列哪種降水因素或形態？



- () 13. 文中提到的「寒害」與下列何項敘述關係最密切？(A)是指發源於太平洋的冷氣團南下(B)是旺盛的對流作用造成的(C)常造成農業無水可用的窘境(D)養殖漁業常有嚴重損失。

◎「1993 年聯合國大會作出決議，確定每年的□月□日為「世界水資源日」。其宗旨為推動水資源綜合性統籌規劃和管理，加強水資源保護，解決日益嚴峻的缺乏淡水問題，開展廣泛的宣傳以提高公眾對開發和保護水資源的認識。

2019 年，水資源日的主題為「Leaving No One Behind」 「別拋下任何人」，希望在水資源有限的狀況下，每個人都有權利使用地球上珍貴的水資源，藉由此主題發揮水權的概念，在使用水的時候，我們都必須面對使用水量的多寡以及分配的問題，設想在未來的某一天，當你面臨缺水、乾旱，或是水資源不敷使用時，將會採取什麼方式應對？或者是水不夠用時，你將會怎麼做？」請問：

- () 14. 「世界水資源日」恰巧在臺灣最乾旱的時期，此時臺灣常面臨缺水危機，由此判斷，「世界水資源日」應該是每年的幾月幾日？(A) 3 月 22 日(B) 6 月 22 日(C) 9 月 22 日(D) 12 月 22 日。
- () 15. 「世界水資源日」設立的目的之一是要人類重視淡水的重要，並倡導淡水資源的永續管理。下列對於全球淡水資源的描述，何者正確？(A)淡水佔全球水量的 21%(B)人類最常使用的淡水資源為冰雪(C)地下水佔陸地上的水(淡水)的 77%(D)人類可使用的水資源相當稀少，不到全球總水量的百分之一。
- () 16. 臺灣最常使用的水資源是地表水，例如河川、湖泊，這是屬於水循環的哪一個過程？(A)逕流(B)凝結(C)降水(D)蒸散。
- () 17. (甲)河川坡陡流急(乙)地層下陷嚴重(丙)水庫數量不足(丁)乾溼季分明(戊)人口密度大。臺灣降水量超過世界平均值，但每年每人分配到的用水量並不多，造成臺灣水資源缺乏的主要因素包括哪些？(A)甲乙戊(B)甲丁戊(C)乙丙丁(D)丙丁戊。
- () 18. 丁丁乘坐小叮噠的時光機，穿越時空來台 1890 年的安平，請問他不可能看到什麼樣的情景？(A)億載金城的砲台(B)街道上的廈郊會館(C)法國商船載運槍砲至港口與清朝政府交易(D)英國商船載來一箱箱的鴉片。
- () 19. (承上題) 丁丁繼續在台南府城遊覽，他發現一座學校，校內傳來朗朗的讀書聲，校門口一座牌匾「全台首學」。請問這所學校始建於何時？(A)鄭氏治台時期(B)劉銘傳任職臺灣巡撫時期(C)清朝治台前期(D)荷蘭人治台時期。
- () 20. 在清法兩國開戰前，我人在香港，想回到臺灣，卻被法軍當成間諜，我只好去見法軍司令才被允許回臺灣。回台後，英國領事給了我一張證明，證明我是英國人...戰事逼近我的教堂時，我曾醫治受傷的清軍和法軍，戰後巡撫大人獎勵我並賠償在戰爭期間教會的損失...」請問這段史料應與下列哪位傳教士有關？(A)馬雅各(B)馬偕(C)巴克禮(D)甘為霖。
- () 21. Jason 是個美國學者，趁著假日來臺灣由北往南旅遊兼考查臺灣的風土人情。在整理資料時，他發現搞亂了曾參訪的四個水圳的順序 - (甲)八堡圳(乙)貓霧揀圳(丙)瑠公圳(丁)曹公圳請你/妳幫一下 Jason，依他參訪臺灣的路線將這四個水圳依序排列。(A)丁甲乙丙(B)乙丙丁甲(C)丙丁甲乙(D)丙乙甲丁。

※ 下課鐘響前不得繳卷

班級： 座號： 姓名：

- () 22. 下表是清代臺灣參與科舉考試錄取人數的統計。請問表中人數的轉變，主要原因應為下列何者？(A)新式學堂普遍成立(B)教育機構的陸續增設(C)外籍傳教士致力於教育事業(D)工商業者廣設「郊」，帶動讀書風氣。

	康熙、雍正年間	嘉慶、道光年間
舉人	15 人	74 人
進士	0 人	6 人

聞西在假日時參觀位於新竹北埔的金廣福公館。透過導覽手冊，聞西了解金廣福公館是清朝官方支持下，由開墾戶們共同經營的辦事處。「金」常見於當時的公司行號名稱，有「發財多金」的寓意、「廣」代表廣東、「福」代表福建，意謂由祖籍福建、廣東兩省的移民共同經營。清宣宗道光年間，政府鼓勵金廣福成立民間的武裝開墾組織 - 金廣福大隘，此大隘是由數十個隘組成的防禦建築，專門進行武裝開墾番地。武裝開墾番地的舉動和世代居住於新竹北埔一帶的原住民發生衝突。「...與番血戰數十陣，隘丁戰歿無數...」正是金廣福公館的導覽手冊裡，對當時原住民與漢人交戰慘況的具體描述。

- () 23. 文中提到的「金廣福」公館，在清朝時期可能會處理的事務，下列何者正確？(A)負責與台北府洽談茶葉出口事宜(B)仲裁漢人與原住民之間的紛爭(C)發給渡台的漢人「墾照」，開墾沒有主人的土地(D)處理招收遷移來台的漢人開墾與收取租金。
- () 24. 「...與番血戰數十陣，隘丁戰歿無數...」，番應該為下列何族？(A)賽夏族(B)阿美族(C)邵族(D)賽德克族。

小李家中有一本來自太祖李重三來台開墾後流傳下的傳記文件。其中記錄了李重三來台的過程。李重三的紀錄中提到：「我從老家揹著開漳聖王像登船，為了求平安，我登船後也和船員一樣，在媽祖像前上香行禮，祈求一路平安」。

最令小李感興趣的是太祖和太祖母認識的過程 - 「...我在嘉南平原透過租土地種水稻...認識了一個熟番女孩...我和我的家族簽訂的土地租約是由漢文和熟番使用的語言兩種文字並陳。在討論與簽訂租約的過程，我和那個女孩對彼此有了好感，也稍微了解彼此語言。土地租約簽訂後，我決定向這個女孩的長輩提親，娶她為妻，最後在我的真心誠意下，這個家族的族長 - 一位近 70 歲的老太太決定了我們的婚事。」「...我們婚後過著幸福的日子，但令我困擾的是，她的名字唸起來很像漢語的『塔卡隆梅』，實在太難唸了，又很難寫，我干脆稱她為阿梅...」。

- () 25. 對小李來說，李重三是下列何種祭拜對象？(A)有應公(B)唐山祖(C)大道公(D)開台祖。
- () 26. 請問李重三應該是哪裡人？(A)西拉雅族人(B)泉州人(C)漳州人(D)潮州人。
- () 27. 李重三口中的「阿梅」，應該是下列哪一族人？(A)巴宰族(B)西拉雅族(C)凱達格蘭族(D)馬賽族。
- () 28. 小李在每年清明掃墓時，發現祖先墓碑上呈現如下字樣：「顯考李公重三...、顯妣李夫人...」只有太祖的姓名，卻看不到太祖母的姓名。這反映了下列何種事實？(A)輸人不輸陣，輸陣歹看面(B)有唐山公，無唐山媽(C)離鄉不離腔(D)唐山過臺灣，心肝結歸丸。

清朝雍正年間，漳州人首先在現在的基隆港區一帶開墾，後到的泉州人則進入現在的暖暖地區開墾。漳州人佔有港區，泉州人則佔有水源，雙方雖以今日的獅球嶺為界，但仍經常發生械鬥。每逢械鬥，雙方都會抬出各自信仰的神明以壯聲勢，漳州人供奉「聖公」，泉州人信仰「炁公」，但械鬥激烈，除了有人死傷外，神像往往也難保，因此出現「炁公嘸頭殼，聖公嘸手骨」的俚語。

1853 年，漳、泉雙方人馬在魴頂（現在的南榮公墓）一帶發生最大規模的械鬥，雙方死傷百餘人。之後有漳、泉雙方大老出面調解，為了平息械鬥，雙方將死難者稱為「老大公」，合葬其骸骨並建廟祭祀，廟名「老大公廟」；協商以宗親血緣取代祖籍地域觀念，融合漳泉，以姓氏輪值於每年農曆七月舉辦祭典活動，其中包含各式的超渡法會，並以比賽陣頭的方式代替械鬥打破頭。基隆農曆七月的祭典活動自 1855 年持續至今。

- () 29. 由文章判斷，當時基隆地區的漳、泉械鬥，主要原因應該不屬於下列哪一項？(A)爭奪女人(B)商業利益(C)爭搶水源(D)土地糾紛。
- () 30. 文章中的祭典活動，指的是下列何者？(A)中元祭(B)祖師祭(C)豐年祭(D)火神祭。

李春生是臺灣開港通商後著名的貿易商，年少時到廈門經商，通曉英語與中文，成為漢人與外國商人溝通的橋樑，人稱「番勢李仔春」。在偶然的機會下認識蘇格蘭茶商 John · Dodd，李春生協助他創造了「Formosa Oolong」的茶葉品牌，促進了臺灣北部製茶事業的興盛。

- () 31. 文中的「番勢李仔春」，「番」指的是下列何者？(A)平埔族(B)高山族(C)外籍商人(D)漢人。
- () 32. 關於「Formosa Oolong」的敘述，何者正確？(A)多自安平或打狗出口(B)臺灣此商品的產量曾高居世界第一(C)此商品多銷往美國(D)此商品的產地多分佈在臺灣中南部。

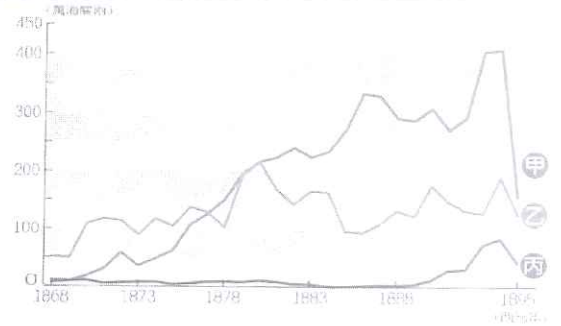
※ 下課鐘響前不得繳卷

班級：

座號：

姓名：

() 33. 右圖中何者代表李春生的生活年代，茶葉的出口總值？(A)甲(B)乙(C)丙(D)以上皆有可能。



() 34. 四位同學在討論部落對於原住民的重要性，請問：誰的說法最為**正確**？

A	子堯	部落無法凝聚族人的向心力
B	宥臻	部落可以幫助族人認同自己的文化
C	翊慈	部落與土地各自獨立，沒有連結
D	承濤	每個部落的生活習慣皆相同

() 35. 依據**法律**規定，台灣目前經過中央原住民主管機關核定的原住民族共有 16 族、746 個部落。請問：畫線處所提及之《法律》和《中央原住民主管機關》兩者各為何者？(A)原住民族教育法；行政院原住民族委員會(B)原住民族基本法；國家原住民族發展協會(C)原住民族基本法；行政院原住民族委員會(D)原住民族教育法；國家原住民族發展協會。

() 36. (甲)部落人口老化(乙)觀光人潮減少(丙)母語面臨失傳(丁)祭典活動頻繁(戊)土地開發侵犯傳統領域。請問上述何者為原住民目前所面臨的危機？(A)甲乙丙(B)乙丁戊(C)乙丙丁(D)甲丙戊。

() 37. 蘭嶼的達悟族人每年 3-6 月時會捕撈飛魚，此期間不會捕撈其他魚類，等到 6 月過後，再捕撈其他魚類，但絕對不會捕撈飛魚。透過此種方式，可以展現原住民族的何種生活態度？(A)與大自然共存，強調永續發展(B)主張經濟互惠的生活哲學(C)離開居住地，原住民文化將產生變質(D)蘭嶼的達悟族人只願意吃魚。

() 38. 2018 年的 228 和平紀念日，原住民族青年陣線在總統府前升起狼煙，要求政府落實原住民族轉型正義。請問：原住民族青年陣線至總統府前升狼煙、遊行的行為主要是在彰顯下列何項理念？(A)要求無限提升原住民權益(B)恣意拓展原住民的生活圈，不受任何人干涉(C)落實原住民的公民參與(D)挑起與平地人的文化對立。

() 39. 政府於 2018 年公告『原住民族部落活力計畫』，希望能從中推動原住民部落與文化的發展。例如：台東縣阿美族的都歷部落，就有 7 名導覽員在部落接受訓練，把傳統的砍柴、挑水、射箭和月桃葉編織的生活技能，轉變為觀光導覽的職業。請問：都歷部落的計畫與下列敘述何者**正確**？(A)復振部落傳統文化，凝聚文化主體認同(B)發展部落經濟產業，促進部落就業機會(C)強化生活照護功能，推動健康部落生活(D)落實部落會議組織，奠定原住民族自治基礎。

() 40. 2007 年出版的書籍《割破地毯的少年》，內容敘述小男孩伊克寶四歲就被父母賣去工廠做童工，因為看盡地毯工廠過份苛待、奴役童工，最後在外國客戶來觀賞他以靈巧的手織出的華麗地毯時，當場以 2 刀割破了織好的地毯。請問：伊克寶當眾割破地毯的動作**最主要**是為了彰顯什麼樣的想法？(A)爭取民主和自由(B)維護人性的尊嚴(C)希望獲得適性發展的權利(D)希望獲得更優渥的薪水。

() 41. 關於人性尊嚴和人權的關係，下列何者敘述**錯誤**？(A)專指生命安全以及個人自由的保障(B)人是可以自我決定的主體，不能把人當工具(C)人性尊嚴，是人權保障的核心價值(D)只要是人，就有人性尊嚴，就應該被尊重。

() 42. (甲)嬰兒(乙)罪犯(丙)成年人(丁)新住民(戊)植物人。根據我國《憲法》的規定，基本權保障**不適用**於那些人民？(A)甲乙丙(B)乙丁戊(C)甲丁戊(D)無。

() 43. 沁妤在公民課的時候抄錄人權的公民筆記，但是有個地方不慎寫錯了，你可以幫他找出是哪一項出現**錯誤**嗎？

公民筆記：

- (A)少年及家事法院設有保護室，以視訊螢幕隔離訊問是保障人身安全。
- (B)婦女團體在勞動部前要求不得隨意解雇懷孕婦女是為了保障婦女工作權。
- (C)大眾運輸工具車站設有婦女夜間乘車區是為了保障婦女的隱私權。
- (D)歐洲多國禁止伊斯蘭教女性穿著傳統臉罩袍是侵犯伊斯蘭教婦女的宗教自由。

() 44. 世界人權憲章包含《世界人權宣言》、《公民與政治權利國際公約》和《經濟社會文化權利公約》，這三份文件是(甲)國際公認的人權法典，也是人權重要的法律基礎。這(乙)三份文件均具有法律的拘束力，不僅只是形式上的文件。在這(丙)三份文件被制定之後，世界上所有人民的基本人權就可以全數被具體實踐，進而將人權從(丁)普遍性人權進化到部分人權。請問：依照上段文字敘述的劃線部分，說明**正確**的有幾項？(A)1 項(B)2 項(C)3 項(D)4 項。



快寫完了!注意時間，加快腳步喔!!



【後面尚有試題，請繼續作答】

背面尚有試題

※ 下課鐘響前不得繳卷

班級：

座號：

姓名：

(一)泰雅族射日神話

相傳太古時候，天上有兩個太陽，兩個太陽經常輪流出沒，有時甚至會一起出現，沒有晝夜之分，花草樹木相繼枯萎，農作物不能生長，族人生活陷入困境與危機。

為了避免部族滅絕，在會議中決定派最精銳的三名勇士前往太陽之地將太陽射下。因路途遙遠，三名勇士出發時各揹了一名嬰孩隨行。前往太陽的路是如此的遙遠，途中，他們將吃過的桔子種在沿路的地上，希望它們能發芽成長，在路途中，三名勇士彼此相互照顧，一起打獵，一同分享獵物。日復一日，年復一年，三位勇士慢慢地老去，嬰兒們也長大成人。老人們相繼逝去，長大的青年們則繼續前進著。直到有一天，他們終於到達太陽之處，成功的射下其中一顆太陽，完成了部落的使命。

回家的路上，青年們看見從前種的桔子都已經長成果實纍纍的大樹。一路沿著桔子樹的路線，又歷經漫長的時間，直到他們都已經滿頭白髮，才終於回到部落。



- () 45. 故事中所說的召開會議，決定由三名勇士前往射日解決部落困難。請問，部落的事務通常會如何處理？(A)由部落首領單獨裁決(B)由當時的中央政府出面裁決(C)由部落耆老們組成長老會議討論(D)由部落領袖帶領成員共同管理。
- () 46. 依據故事劃線處，請問可以體現原住民的何種文化特色？(A)與大自然和平共存的獵捕(B)部落的永續經營(C)文化與土地密不可分(D)共享互助的價值觀。

(二)新聞議題

2017年3月，在台北市南港區發生一件陳姓模特兒遭人殺害的命案。案發時由於死者的閨密梁女遭到媒體在第一時間爆料疑似假藉工作理由邀約死者，再指使自己男友陳女性侵殺害，棄屍在南港某大樓的地下室。此報導一出，立刻遭到大批網友的撻伐，梁女的社群網站被留言擠爆，指責梁女要為陳姓女模之死負上責任。使得梁女一度遭到嚴重的網路以及輿論暴力。後經檢警調查排除梁女涉案的可能性，證實她的清白，才使謾罵事件平息。但是梁女在事後表示此案已經對她的人生和名譽造成不可抹滅的傷害，難以平復。

- () 47. 上述事件顯示出現今國民何項人權觀念尚待加強？(A)誠實信用(B)罪刑法定(C)無罪推定(D)程序正義。
- () 48. 任何人被指控為罪犯的時候，都應該得到公平、公開的審判。請問：這是屬於基本人權中的何項權利？(A)參政權(B)平等權(C)生存權(D)自由權。

(三)戲劇探討

公視戲劇『我們與惡的距離』播出後，關於所謂『壞人』的人權也被加以探討。以現今的國家制度而言，受刑人監禁期間，除了人身自由遭到限制之外，其餘權利都應符合憲法原則的要求，在監獄中的生活條件也應符合基本的人類需求。另外，國家也應確保受刑人不受第三人侵害。

- () 49. 下列哪些權利是受刑人在監禁期間國家必須給予的？(甲)吹冷氣(乙)醫療(丙)隨時會見家人(丁)國定假日出遊。(A)1項(B)2項(C)3項(D)4項。
- () 50. 依照我國現行法律的規定，請問下列何人說法正確？(A)室學：人生而平等，所以連罪犯的人身自由都不可以被限制(B)千槿：罪犯和其他人民屬於不同的世界，所以如果在獄中出現衝突事件也不用特別加以處置(C)阿驤：罪犯被限制的是人身自由，但他還是應該具備其他身為『人』的基本尊嚴和權利(D)芸孜：罪犯先侵犯了別人的人權，所以也該被剝奪所有的人權。