

※ 下課鐘響前不得繳卷

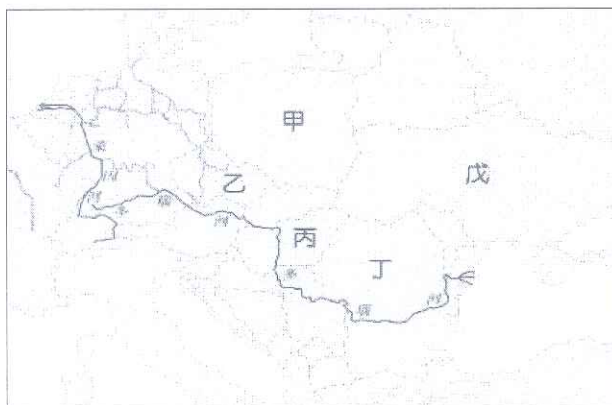
班級： 座號： 姓名：

※ 注意! 請務必在答案卡最上方欄位寫上班級、座號和姓名。

P1

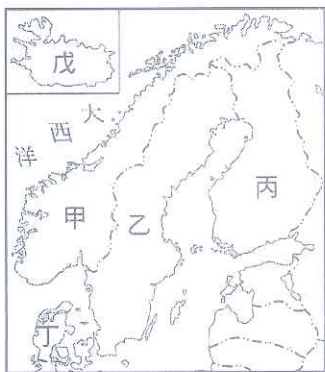
地理 1~17 題，歷史 18~33 題，公民 34~50 題。每題 2 分

- () 1.西伯利亞與北歐兩者的緯度相當，西伯利亞的氣候「乾冷」，而北歐的氣候「溼冷」。造成兩地氣候特徵差異的主因為何？(A)地形差異 (B)盛行風向 (C)距海遠近 (D)季風風向。
- () 2.德國的工業主要集中於魯爾、薩爾和薩克森三大工業區。這三個工業區都擁有下列哪種天然資源而崛起？ (A)水力 (B)鐵礦 (C)煤礦 (D)石油。
- () 3.德、法、英、比、荷等 5 國海軍首長 11/7 在德國漢堡簽署協議，將加強保護某海域的航路安全。協議文本寫道：「○○○是英國與歐洲大陸海上航道關鍵咽喉點。」請問，文中○○○指的是下列哪一區域？(A)直布羅陀海峽 (B)英吉利海峽 (C)北海 (D)波羅的海。
- () 4.瑞士名表百達翡麗在 1989 年紀念創廠 150 週年時，發表限量紀念手錶，共耗費四名工匠九年時間才完成，所需零件高達 1,782 件。請問：瑞士發展精密工業的原因與下列哪個因素最相關？(A)勞工充足 (B)地形崎嶇 (C)市場太小 (D)資金不足。
- () 5.近年愈來愈多歐洲玩具大廠撤離中國，轉而提升東歐國家的生產比重，如德國第二大玩具公司 Ravensburger 將中國製造比重限制在 10%內，其餘主要在德國、捷克生產。韓國現代車廠也在捷克設立據點，鴻海、華碩更是選在捷克設立組裝生產線。請問：各大廠紛紛至捷克投資設廠的主因最可能為下列哪兩者？(甲)鐵礦豐富，原料便宜 (乙)勞力素質高，工資低廉 (丙)勞工英語較佳，溝通方便 (丁)地近市場，快速反應歐洲市場需求(A)甲乙 (B)甲丙 (C)乙丙 (D)乙丁。
- () 6.歐洲哪一區重視社會福利，號稱「從搖籃到墳墓」全程照顧，但近來因少子化與高齡化的影響，青壯年的負擔也日益加重？ (A)東歐 (B)西歐 (C)北歐 (D)南歐。
- () 7.«隨著蘇聯的解體，烏克蘭的政治立場逐漸向歐洲陣營靠攏，引發俄羅斯強烈不滿，於西元 2006 年與 2009 年切斷對烏克蘭某項天然資源的供應；這對時值冬季、天寒地凍的烏克蘭來說，無疑是極大的教訓。」根據上文敘述判斷，俄羅斯切斷對烏克蘭某資源的供應最可能為下列何者？(A)稀土礦 (B)鐵砂 (C)鈾礦 (D)天然氣。
- () 8.東歐的波蘭在二次大戰期間曾淪為德國納粹處決猶太人的基地，在戰後又因為領土受到其鄰國——德國和俄國的影響而有所變遷，形成農、工業並重的國家。該國的位置位於附圖中的哪個地區？(A)甲 (B)乙 (C)丙 (D)丁。



【題組一】

附圖為北歐五國的位置簡圖。請問：



- () 9.北歐國家寒冬漫長，深受冰河的刻蝕，而遺留下典型的冰河地形。該種地形和海岸，對於哪個國家的哪種產業經濟活動的發展，最具有直接影響？(A)甲的海運業 (B)乙的工礦業 (C)丁的畜牧業 (D)戊的漁業。
- () 10.«我們國家有許多免費的能源，將溫泉引到房間可以取暖，地熱、泉水還可以用來種蔬菜，以及從事養殖漁業。」上文所描述的北歐國家是下列何者？(A)乙 (B)丙 (C)丁 (D)戊。
- () 11.新聞報導指出：「國際紙漿價格不斷攀升，為反映成本，國內出版業者考慮調漲書籍、雜誌的定價，連衛生紙廠商也打算跟進調高衛生紙的售價。」為平衡紙類的價格，避免物價波動過於劇烈，政府可考慮從下列哪個國家進口紙漿原料？ (A)甲 (B)丙 (C)丁 (D)戊。

背面尚有試題

※ 下課鐘響前不得繳卷

班級： 座號： 姓名：

P2

【題組二】

西伯利亞大鐵路是世上最長的鐵路，全長 9,288 公里，跨越八個時區，全程需時七天，是世上最長的鐵路。從首都色彩繽紛如童話般的洋蔥教堂到極地浩瀚，更極致的景色是宛如湛藍之眼的貝加爾湖，一站站的美景吸引著旅人的心。成為許多旅人心目中橫跨歐亞大陸的夢想鐵道。請問：

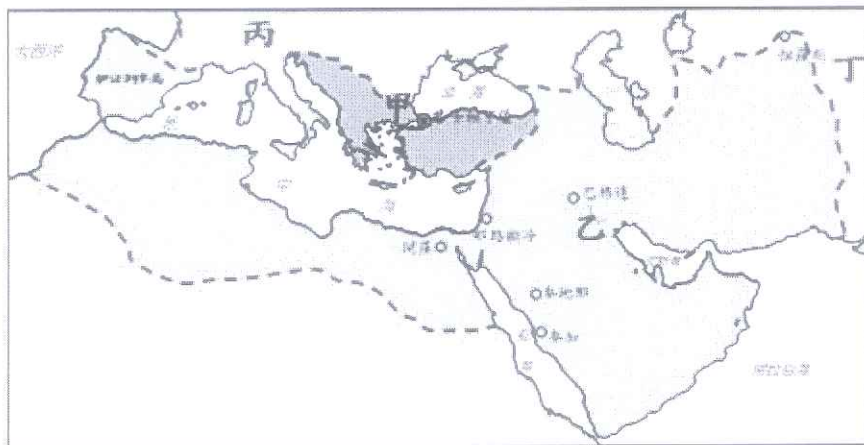
- () 12.西伯利亞大鐵路的起點，也就是文中所說的首都，是指下列何地？(A)巴黎 (B)柏林 (C)布達佩斯 (D)莫斯科。
- () 13.乘坐這條鐵路從歐洲出發，到了亞洲之後所經過的主要地形依序為？ (A)高原、山地、平原 (B)平原、高原、山地 (C)平原、山地、高原 (D)山地、高原、平原。
- () 14.西伯利亞地區昔日人煙稀少，但現今在較南端的區域有愈來愈多的人口移入且呈帶狀分布，產生此一現象與下列哪些因素有關？甲：交通建設、乙：地形特徵、丙：水文特色、丁：氣候條件。(A)甲乙 (B)乙丙 (C)甲丁 (D)丙丁。

【題組三】

附圖是西歐簡圖。請問：



- () 15.歐洲某一國家因為地平面低於海平面，土地鹽分高，昔日採行圍海造陸工程，並往海外殖民，擴張勢力，在臺灣、南非及東南亞都有其貿易據點。請問：上述國家應為下列何者？ (A)甲 (B)乙 (C)丙 (D)丁。
- () 16.「Brexit」意指○國脫歐，由○國「Britain」的前兩個字母和離去「exit」結合而成。但由於○國政府無法說服議會接受與歐盟談判達成的協議，令脫歐日期被三次推遲。如今最新的脫歐日期定於 2020 年 1 月 31 日。請問目前正準備脫離歐盟的國家為何？ (A)甲 (B)乙 (C)丙 (D)丁。
- () 17.西元 2019 薄酒萊新酒將從 11 月 20 日的子夜零點後開始上市，開瓶慶祝儀式在里昂的聖約翰廣場舉行。為了要讓全世界各地消費者同時能買到，大家得耐性一起等到 21 日的當地時間才能看到新出的 2019 葡萄新酒。據估計 2019 年，該國生產 2500 萬瓶薄酒萊銷售 110 多個國家。請問，報導中生產薄酒萊的國家應該是 (A)甲 (B)乙 (C)丙 (D)丁。
- () 18.威爾計畫編寫一部小說，欲以中世紀前期的法蘭克王國作為故事場景，關於他對人物角色設定的描寫何者不符史實？ (A)納朗爾伯爵-依據血緣親疏將土地贈予宗族兄弟，以建立上下的主從關係 (B)農民齊格-為莊園領主耕作、服役納稅，沒有遷徙自由 (C)騎士弗雷德-自幼接受騎馬和戰鬥訓練，宣誓效忠領主並為其戰鬥 (D)皮爾斯神父-在教會附設的學校裡學習拉丁語文，從事抄寫古籍的工作。
- () 19.中古時期的歐亞大陸，同時並存著許多勢力及政權。有關下列地圖的解讀何者正確？ (A)甲-是維持地方封建割據、採政教分離體制的拜占庭帝國 (B)乙-是將伊斯蘭教勢力帶入巴爾幹半島的阿拉伯帝國 (C)丙-是空有虛名，內部呈現分裂狀態、小國林立的神聖羅馬帝國 (D)丁-是與乙政權在怛羅斯爆發戰爭的大漢帝國。



- () 20.老師請同學們上臺簡述幾位中古時期的歷史人物及其重要事蹟，只有哪一位學生的回答是正確的？ (A)甲生：東法蘭克國王查理曼，以羅馬帝國的繼承者自居請求教宗加冕為帝 (B)乙生：興建聖索菲亞大教堂的查士丁尼，聘請專家整理羅馬法律、制定法典 (C)丙生：西元 800 年，鄂圖一世被羅馬教宗加冕為「羅馬人的皇帝」，致力推廣基督教與拉丁文 (D)丁生：西元七世紀，釋迦牟尼在阿拉伯半島上宣揚一信奉真神阿拉的新宗教。

※ 下課鐘響前不得繳卷

班級： 座號： 姓名：

P3

- () 21.拜占庭帝國抵擋亞洲伊斯蘭勢力的入侵，成為西歐的屏障，並將文字、信仰傳入今東歐、俄羅斯等地區，對當地的哪一個民族產生深遠的影響？ (A)日耳曼民族 (B)土耳其人 (C)阿拉伯民族 (D)斯拉夫民族。
- () 22.阿拉伯人四處征戰，至西元八世紀時版圖已跨越歐、亞、非三洲，形成一個廣大的伊斯蘭世界，下列有關其社會、文化發展的描述何者不正確？ (A)對基督徒發動十字軍東征，收復聖地耶路撒冷 (B)首都巴格達是商貿重鎮，可從名著天方夜譚了解其當時盛況 (C)透過古蘭經的誦讀，使阿拉伯語成為伊斯蘭世界的通用語 (D)注重學術研究與教育，翻譯不少古希臘、羅馬典籍。
- () 23.小祥想要撰寫「11 到 15 世紀歐亞兩洲交流活動」的報告，請問下圖中代號所表示路線的說明，何者與其撰寫主題密切相關且正確？ (A)甲-但羅斯之役 (B)乙-十字軍東征 (C)丙-哥倫布航線 (D)丁-蒙古西征。



- () 24.中古後期歐亞間商貿往來、戰爭與傳教活動的頻繁，使中古後期歐洲的社會經濟出現那些新景象？(甲)美洲新作物增加糧食種類，糧食供應充足、人口成長(乙)地中海沿岸城市興起，居民依行業別成立行會(丙)經營工商業者影響力大增，形成「貴族階級」(丁)西元 14 世紀中期爆發黑死病，造成人口銳減與人心恐慌。 (A)甲丙 (B)乙丁 (C)甲丁 (D)乙丙。
- () 25.中國文物的西傳對近代歐洲歷史發展影響甚鉅，有關西傳文物與其所造成影響的配對何者正確？ (A)儒家典籍→影響馬基維利著有君王論，闡述君主如何利用權術治國 (B)造紙術與活字印刷術→促使海外探險與殖民活動蓬勃發展 (C)指南針→加速了文藝復興運動的知識傳播 (D)火藥→改變戰爭型態，封建制度逐漸瓦解，有助於王權提高。
- () 26.麗莎製作如下圖表，比較文藝復興與中古時期，請挑出她哪個項目的比較內容是不正確的？

項目	文藝復興	中古時期
(A)主要精神	以神為本	人文主義
(B)人生態度	關注現世	獲得救贖
(C)文學主流	方言文學	拉丁文學
(D)藝術特色	著重人性情感表現	以宗教題材為主

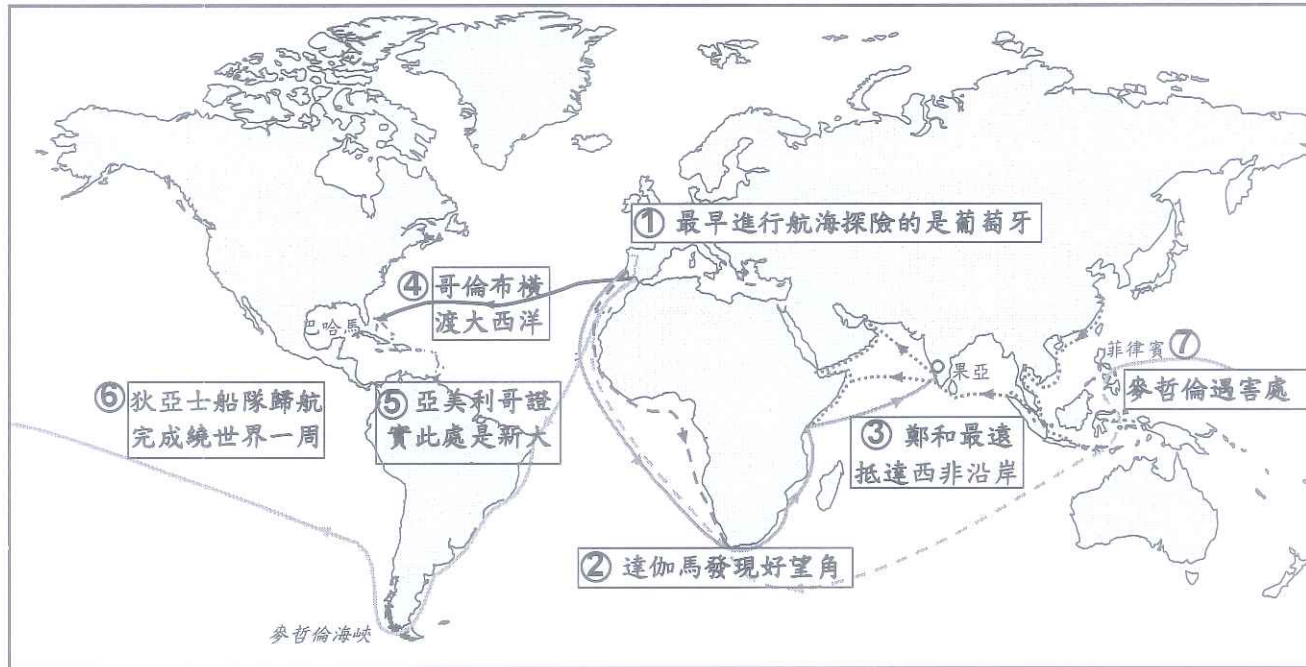
- () 27.小說《唐吉訶德》以西班牙方言寫成，作者藉由此書諷刺已不合時宜的騎士文化，頗能反映近代歐洲的現象。請問此書作者應是哪一位人物？ (A)莎士比亞 (B)佩脫拉克 (C)塞凡提斯 (D)米開朗基羅。
- () 28.王權國家的興起意謂著封建制度瓦解，君主們致力於王權的建立與集中，並以相近血統、語文、風俗習慣為基礎，強化人民對王室的認同，是歐洲進入近代的一個關鍵。下列有關其形成與發展情形的敘述，何者正確？ (A)三十年宗教戰爭是英、法兩國王權提高的重要分水嶺 (B)百年戰爭在少女貞德從軍的激勵下，結果是英勝法敗 (C)卡斯提爾與亞拉岡王國聯姻後，合力驅逐伊斯蘭教勢力促成西班牙王國的建立 (D)此時的市民階級希望有安定的商業交易環境，大多支持貴族擴張權力。
- () 29.義大利威尼斯與佛羅倫斯等地，因控制地中海與阿拉伯人的轉口貿易，成為資本雄厚的商業城市，促成了文藝復興的發展。但十六世紀中葉以後，經濟地位卻逐漸被大西洋沿岸的城市所取代，請問原因為何？ (A)日耳曼蠻族入侵所造成的衝擊 (B)地理大發現與海外探險的出現 (C)工業革命形成的影響 (D)宗教改革運動所造成動亂。
- () 30.中世紀到近代歐洲基督教世界曾面臨有兩次大分裂，下列四人何者的說法是正確的？ (A)彼得：兩次都與削奪羅馬教宗統治權有關，否定其權威至上 (B)保羅：兩次分裂的起因都是對《古蘭經》教義解釋的不同 (C)大衛：兩次都是因為羅馬教會太腐敗，販賣贖罪券所引發 (D)約翰：兩次分裂後都引起嚴重的宗教戰爭與宗教迫害。

背面尚有試題

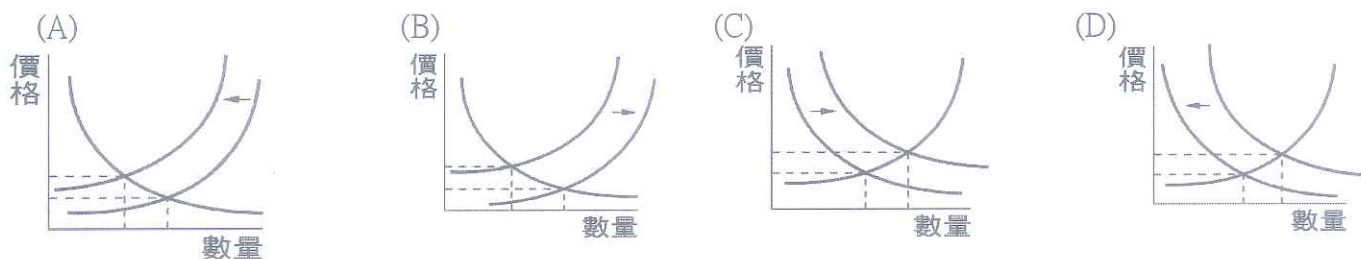
※ 下課鐘響前不得繳卷

班級： 座號： 姓名：

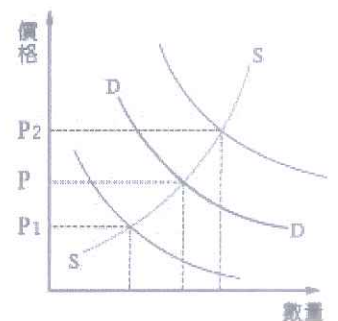
- () 31. 下圖是歐洲地理大發現時期的航海路線圖，請仔細閱讀圖中航線代號的說明，判斷正確的有幾項？ (A)三項 (B)四項 (C)五項 (D)六項。



- () 32. 西元 15 世紀末起，歐洲國家展開「大航海時代」所帶來的影響頗為深遠，下列哪些敘述是正確的？(甲)非洲黑奴貿易風氣盛行(乙)美洲古文明因阿拉伯人的摧毀而逐漸消失(丙)歐洲人將美洲作物傳往歐、亞各地解決饑荒問題(丁)揭開海權時代序幕，此後掌握世界歷史脈動的國家多分布於地中海沿岸。 (A)甲乙 (B)丙丁 (C)乙丁 (D)甲丙。
- () 33. 西元 16 世紀，日耳曼教士馬丁路德對羅馬教會的批判，揭開宗教改革的序幕，使歐洲在信仰上更為紛歧，下列資料中何者不屬於「抗議教派」的聲音？
 (A)資料一：靈魂獲得救贖不需仰賴神職人員，只需憑藉信仰，聖經是唯一依歸。
 (B)資料二：英王和他的繼承者，應該被接受且被尊為英格蘭教會唯一至高的領袖。
 (C)資料三：信徒從主耶穌基督代理人手中得到了贖罪券，就能夠完全獲得赦免。
 (D)資料四：金錢不是萬惡的淵藪，努力賺錢也是榮耀上帝的方法。
- () 34. 酥脆外皮、酸辣醬料，由韓劇《來自星星的你》掀起的韓式炸雞熱，堪稱南韓國民宵夜美食，但昔日風光已經不再。根據民間調查，南韓目前有高達 8 萬 7 千家炸雞店，比全球麥當勞分店還要多，市場過度飽和，加上原物料上漲、基本薪資調升，讓一半以上的新手業者在短短 3 年就黯然收場。根據畫線處判斷何者為此時南韓炸雞業的市場供需曲線圖。下列何者正確？



- () 35. 中國大陸因非洲豬瘟疫情影響，當地民眾對肉類食品的消費需求從豬肉轉向雞肉，大成食品是台灣最大的白肉雞供應商，事業版圖跨足台灣、中國大陸跟東南亞，目前估計合併年營業額超過 700 億元，在此次豬瘟疫情明顯受惠。附圖為中國大陸「雞肉」的供給曲線 S 和需求曲線 D，根據上述內容判斷，在其他條件不變的情況下，請問，此時雞肉的價格 P 最可能發生何種變化？(A)移往 P1 方向 (B)移往 P2 方向 (C)維持在 P (D)無法預測。



- () 36. 秦秦與玲玲兩姊妹這周末想幫忙分擔家務，慰勞爸媽的辛勞。附表為秦秦與玲玲兩人在 20 分鐘內摺衣服與洗碗的數量，最後他們決定分工合作，玲玲負責洗碗，秦秦負責摺衣服。根據表中資料判斷，請問，表中【甲】最有可能是下列何者？(A)34 (B)28 (C)24 (D)20。

	摺衣服	洗碗
秦秦	10件	20個
玲玲	15件	【甲】個

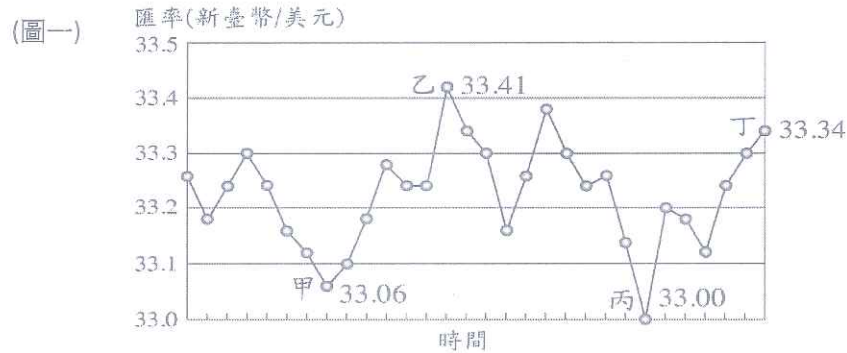
P4

※ 下課鐘響前不得繳卷

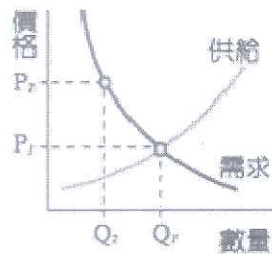
班級： 座號： 姓名：

- () 37. 附圖(一)中顯示在不同時間點新臺幣兌換美元的比率。根據圖中內容判斷，從甲到乙，可能會有下列哪些情形發生，敘述正確的有幾項？(甲)有利我國出口商出口 (乙)從美國進口維他命的成本降低 (丙)此時，赴美旅遊的人數增加 (丁)代表台幣升值。

(A) 4 項 (B) 3 項 (C) 2 項 (D) 1 項。



- () 38. 11 月 11 日雙 11 源自大陸光棍節掀起一股購物狂熱，中國電子商務龍頭阿里巴巴旗下的「淘寶網」和「天貓網」的業績每年快速成長，今年才起跑了 1 小時 3 分 59 秒就達到 1000 億人民幣成交額，比去年還快了超過 40 分鐘。淘寶購物的付費方式多元化，有信用卡付款、網路轉帳、支付寶及超商付。請問，下列相關敘述何者正確？(A)「淘寶網」、「天貓網」皆屬於有形的商品市場 (B) 信用卡是塑膠貨幣亦是法定貨幣 (C) 以交易的場所區分，股票市場與該商城的性質相同 (D) 網購集團「阿里巴巴」是生產要素的供給者。
- () 39. 下列關於「市場經濟」的制度何者錯誤？(A)財產採私有制度 (B)是由看不見的手所推動 (C)美元匯率的變化即屬於市場經濟的結果 (D)最低基本薪資屬於市場經濟的結果。
- () 40. 現代的經濟社會，一切的經濟活動都是透過貨幣來表示，稱之為「貨幣經濟」。現代人透過使用貨幣，可以達到一些經濟目的，下列對貨幣功能的敘述，何者是正確的？(A)安安向銀行申辦了「低利購屋貸款」，與銀行簽訂每月分期償還貸款，這是貨幣債務清償的功能 (B)小蜜將每個月的薪水放入銀行帳戶，這是貨幣價值衡量的功能 (C)元樂的名牌包價值 10 萬元，這是貨幣交易媒介的功能 (D)羅莎用 1 萬元買了一隻智慧型手機，這是價值衡量的功能。
- () 41. 2018 年我國出口總額為 3300 億美元，進口總額為 2800 億美元。上述現象顯示去年我國的貿易呈現下列何種情況？(A)貿易平衡 (B)貿易入超 (C)貿易順差 (D)無法判斷。
- () 42. 下圖是近期電費價格的變動圖，若政府強制電費價格為 P_2 ，市場上可能出現什麼狀況？(A)此時需求量=供給量 (B)消費者會增加消費 (C)代表供過於求 (D)生產者減少供給量。



題組(根據圖示，回答下列問題)

※題組一

南美委內瑞拉，因應嚴重的通貨膨脹，政府機關嘗試刺激經濟，管制物資和物價，且【甲】大量印鈔票，但這些措施只是加劇所有民生物資以百倍速度狂飆，例如，一週的工資買不到一包米，150 萬玻利瓦不夠買一罐番茄醬，預計 2019 年通膨率可達 1000 萬%，委國全國人民都是「百萬富翁」，但諷刺的是，委國一般人平均月薪只能換 1 美金，勉強買 1 公斤的肉品，或是買 5 杯咖啡，或買 2 瓶巧克力醬。請問：

- () 43. 文中的(甲)若在我國，哪項敘述是錯誤的？(A)【甲】為我國財政部 (B)往來的對象為政府與金融機構，一般人民非往來對象 (C)可保管國家的黃金、外匯 (D)輔助及監督金融機構的營運。
- () 44. 因政府大量印製鈔票，促使的經濟問題最可能使人民在生活上發生什麼現象？(甲)以物易物取代現金交易 (乙)因面額很大，民眾儲蓄意願提升 (丙)各種商品價格上漲 (丁)民眾開始轉而購買保值商品 (戊)對領固定薪水者生活水準提升 (己)代表貨幣貶值
- (A) 甲乙丁戊 (B)甲丙丁己 (C) 乙丙丁戊 (D)乙丙戊己。

※ 下課鐘響前不得繳卷

班級：

座號：

姓名：

P6

※題組二

建嘉和承峰從小就熱愛音樂，在高中時即在一起玩音樂，兩人出了社會後，決定組成一個樂團，希望能以自創音樂，打響知名度。下表是他們編一首曲子與寫一首歌詞所需花的時間及產量。根據資料判斷，請問：

	承峰	建嘉
作詞	20 天	15 天
編曲	32 天	21 天

- () 45.誰在作詞上具有絕對利益？(A)建嘉 (B)承峰 (C)兩人均有絕對利益 (D)無法判斷。
- () 46.承峰編一首曲子的機會成本是？(A)5/8 的詞 (B)8/5 的詞 (C)5/7 的詞 (D)7/5 的詞。
- () 47.若依據比較利益法則，作詞應該由機會成本比較(甲)的(乙)負責，才能產生最大的利益，請問，(甲)、(乙)分別為？(A)高；承峰 (B)高；建嘉 (C)低；建嘉 (D)低；承峰。

※題組三

大毛原本在叔叔經營縫紉店擔任員工，其個性樂觀開朗，善於取悅別人，但也因為常常嘩眾取寵受到屈辱，讓妻子小孟深感羞恥與傷心。以淚洗面的小孟勸丈夫利用自己裁縫的技能自力更生，不要再因依賴別人而蒙羞，最後大毛決定接受妻子的鼓勵，經營一間屬於自己的縫紉店，從一針一線開始做起，直到現在為了提高產量，進了許多的縫紉機，夫妻兩人也在共同合作互相陪伴下，度過重重阻礙，終於憑藉著自己的才能獲得成功，經營的裁縫店生意絡繹不絕，也聘僱了許多時薪 150 元的工讀生協助經營。

【改編自印度電影《真愛裁會贏》】

- () 48.大毛在叔叔經營的縫紉機店擔任員工時，屬於下列經濟循環中的哪一環？(A)己 (B)乙 (C)戊 (D)丁。
- () 49.大毛因自身經營的裁縫店生意絡繹不絕，聘僱了許多計時工讀生，150 元對大毛而言屬於下列經濟循環中的哪一環？(A)乙 (B)丁 (C)己 (D)庚。
- () 50.大毛為了提高產量，進了許多的縫紉機，此對大毛而言屬於下列經濟循環中的哪一環？(A)甲 (B)己 (C)丁 (D)戊。

