

※ 下課鐘響前不得繳卷

姓名：

P. 1

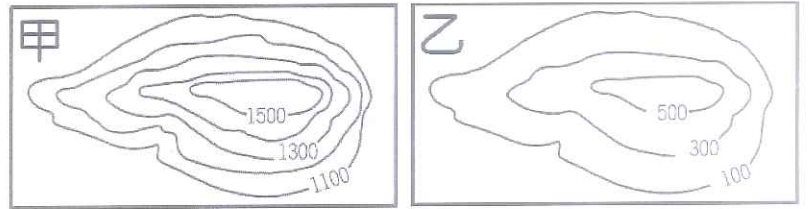
單選題 50 題，每題 2 分，共計 100 分。(1~17 題地理，18~33 題歷史，34~50 題公民)

請用 2B 鉛筆作答，將答案畫至答案卡上。

【地理科】

() 1. (甲)日本的櫻島火山周六發生大規模噴發，禁止民眾入山(乙)因東北季風增強，且海鷗颱風外圍環流夾帶水氣移入，臺灣北部轉有雨(丙)師大教授認為臺灣目前造山運動仍蓬勃發展，中央山脈南段還在長高(丁)美國密蘇里河沿岸洪水持續氾濫七個月，可能延續整個冬季。上列 2019 年報導的新聞事件中，哪些和「內營力」作用關係最密切？(A)甲乙(B)乙丙(C)甲丙(D)乙丁。

() 2. 右圖為臺灣某兩個地區的等高線地形圖，請根據附圖判斷，下列敘述何者**正確**？(A)甲、乙兩張地圖的間距都是 200 公尺(B)甲圖代表的是高原地形，乙圖代表的是丘陵地形(C)甲圖地形主要分布在臺灣中央偏東，乙圖地形主要分布在西北部的新竹、苗栗一帶(D)甲圖的等高線比乙圖密集是因為比例尺較大。



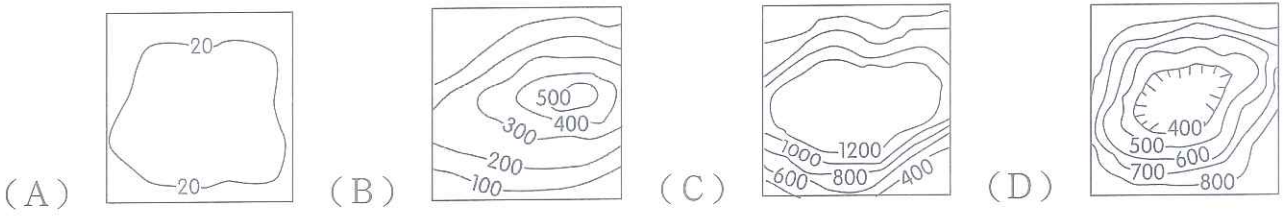
() 3. 「新聞報導：感染非洲豬瘟豬屍，再度現蹤金門海岸！農委會表示，本週一金門海岸發現 1 頭漂流上岸的死亡豬隻，經防疫所採樣，送家畜衛生試驗所檢驗，今日檢出非洲豬瘟病毒核酸陽性，基因片段與中國分離病毒株相似度達 100%。另依金門風向及以往經驗，該頭豬隻應自中國漂流過來。」請問：農委會下判斷的依據，與金門的何種島嶼成因關係**最密切**？(A)大陸島(B)珊瑚礁島(C)火山島(D)沙洲島。

() 4. 近期網路最夯話題就是影片「不要去臺灣」，為宣傳臺灣觀光創造話題性。影片一開頭是全臺最高佛寺之一的阿里山慈雲寺，因雲霧繚繞，加上參天古樹直聳入天，好似人間仙境，成為爆紅 IG 打卡景點。右圖為臺灣五大山脈分布圖，若你也想到慈雲寺自拍打卡，應前往圖中何處？(A)甲(B)乙(C)丙(D)戊。



() 5. 「□□台地有『千塘之鄉』美名，近期農委會推動光電埤塘發電，引起環保團體反彈，學者也認為這是不智之舉，因為這可能會導致候鳥不願飛去棲息，影響鳥類及魚類生態環境。」請問：上文中的□□台地應是指下列何處？(A)八卦台地(B)林口台地(C)桃園台地(D)大肚台地。

() 6. 「臺灣每到夏天，都市氣溫動輒達到 30 多度，其中以臺北、臺中感覺最明顯，氣象專家指出，因為地形效應加上暖化，以及建築物密集，讓都市熱島效應更加明顯，一年高溫超過 35 度，過去只有 5 天，現在已增長到 15 天了。」請問：上文中提到的地形效是指下列何種地形？



◎右圖是小花預計明年騎單車環臺一圈的路線圖。請問：

() 7. (甲)苗栗丘陵(乙)花東縱谷平原(丙)宜蘭平原(丁)嘉南平原(戊)林口台地。小花預計由臺北出發，逆時針環繞臺灣一圈後回到臺北，請問，她會經過的地形區**依照順序**應是下列何者？(A)戊丙丁甲乙(B)戊甲丁乙丙(C)甲戊丁乙丙(D)甲丁戊丙乙。

() 8. 根據附圖判斷，小花這趟環島之旅**最不可能**經過下列哪一個地形區？(A)埔里盆地(B)雪山山脈(C)屏東平原(D)中央山脈。



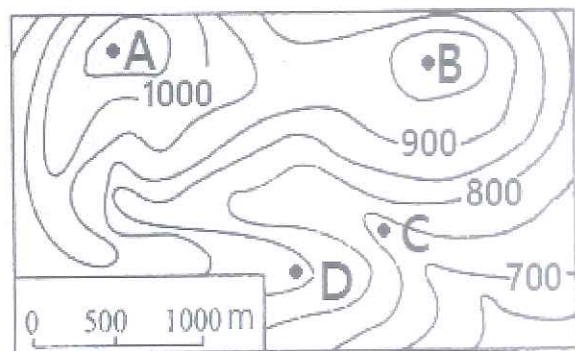
※ 下課鐘響前不得繳卷

姓名：

pi2

◎右圖是某地的等高線地形圖，請問：

- () 9. 右圖中的最高點是何處？該地高度是多少公尺？(A) A, 1070 公尺 (B) A, 1180 公尺 (C) B, 1040 公尺 (D) B, 980 公尺。
- () 10. 右圖中何處地形最有可能^是河谷？(A) A (B) B (C) C (D) D。

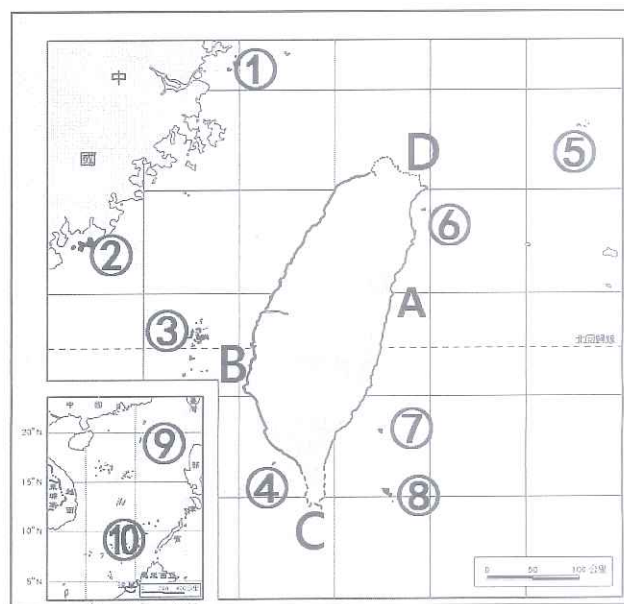


◎義大利威尼斯被稱為水都，除了有許多運河，當地人也對洪水氾濫不陌生，因為這是一座建在潟湖上的城市，地勢相當低窪。近年來，由於全球暖化、氣候變遷，威尼斯水患發生的頻率和規模日益嚴重，最近更因為大潮和連日暴雨，漲潮水位一度高達 187 公分。專家預言，2050 年威尼斯將永遠沉入海底。請問：

- () 11. 威尼斯的地形與臺灣哪一個港口最相似？(A) 臺中 (B) 高雄 (C) 花蓮 (D) 基隆。
- () 12. 承上題，形成威尼斯和該港口地形的作用力，和下列哪一種地形的成因最相似？(A) 岬角 (B) 火山 (C) 丘陵 (D) 沖積扇。
- () 13. 專家認為威尼斯因為地勢低窪，會受全球暖化影響被海水淹沒，下列臺灣哪一個離島最可能有類似的危機？(A) 馬祖 (B) 釣魚臺 (C) 蘭嶼 (D) 小琉球。

◎附圖為臺灣地區簡圖，A~D 為臺灣四段海岸，①~⑩則為臺灣的離島。請問：

- () 14. 下列關於臺灣四段海岸地形特色的描述，何者正確？
- (A) A→海岸線陡直，天然港灣少。
- (B) B→淺海且清澈，珊瑚礁地形發達。
- (C) C→岬角與海灣相間，漁業發達。
- (D) D→斷層式海岸，多天然深港。
- () 15. 綠色和平於去年至今進行一整年的海洋廢棄物調查，發現圖中 D 段為臺灣最髒的海岸之一，垃圾之多，已對生態及景觀造成嚴重衝擊。請問：在 D 段海岸發現的廢棄物，最有可能為下列何者？(A) 漁業廢棄物、漁網繩索、浮球 (B) 鹽籠、畚箕、耙子等曬鹽工具 (C) 魚塭水車、廢棄蚵架 (D) 農藥罐、農耕機械。
- () 16. 文化部曾經選出臺灣 12 處具「世界遺產」潛力的地點，包括太魯閣、棲蘭山檜木林等地，其中玄武岩自然保留區為唯一位於離島的自然保留區，若想造訪該處，一探火山熔岩冷卻後形成的岩石景觀，應前往圖中哪個離島？(A) ③ (B) ④ (C) ⑦ (D) ⑧。
- () 17. 龜山島在 2019 年被專家證實為活火山之一，其周邊的海域，會因為海底熱泉湧出，呈現不同的漸層色澤，有如染上牛奶色般的海水，色澤非常漂亮，吸引不少遊客慕名觀賞。若想欣賞特殊的漸層「牛奶海」，應前往圖中哪個離島？(A) ⑤ (B) ⑥ (C) ⑦ (D) ⑨。



【歷史科】

- () 18. 綜合歷史學者曹永和先生的研究：「現今屏東外海的小琉球，在漢人移居之前，該島嶼原本屬於原住民的世界，後來因為當時佔領台灣南部的『某國』殖民者，於西元 1633 年發動 6 次的征伐而完全遭到屠殺或遷徙的命運，最終造成原住民在小琉球的消失，但最終還是留下了烏鬼番的傳說以及烏鬼洞的地理名詞。」請問：上文的『某國』，應該是指哪個國家？(A) 荷蘭 (B) 清帝國 (C) 西班牙 (D) 日本。
- () 19. 大航海時代的台灣，原住民族面對外來者的接觸過程，常面臨困難的選擇：與外來政權合作？或是對抗？或是其他？下列為四位同學在歷史課堂上抄寫筆記的內容，請問：筆記的內容，正確有幾人？(A) 1 人 (B) 2 人 (C) 3 人 (D) 4 人。
- 【甲】大雄：熱蘭遮城附近的新港社曾協助荷蘭人，對付漢人的郭懷一事件。
- 【乙】小夫：北台灣的馬賽人，通曉漢人等外語，扮演漢人與其他原住民貨物交易的中間人。
- 【丙】胖虎：南臺灣的麻豆社，多次與荷蘭人爆發衝突，最終被迫簽訂條約，接受荷蘭的統治。
- 【丁】靜香：中臺灣的大肚王，與荷蘭人和鄭氏軍隊多次衝突下，仍能保持獨立的地位。
- () 20. 大航海時代下的台灣，荷蘭人將台灣的哪些物產，作為對外貿易的重要商品？(A) 白銀、絲織品、瓷器 (B) 鹿皮、稻米、蔗糖 (C) 稻米、布料、白銀 (D) 鹿皮、絲織品、軍用物資。

【後面尚有試題，請繼續作答。】

背面尚有試題

※ 下課鐘響前不得繳卷

姓名：

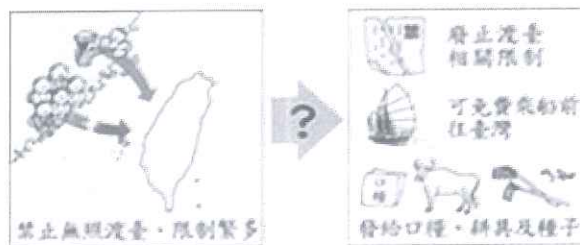
- () 21. 西元 18 世紀時，有一位歐洲貴族乘船漂流至臺灣某地區，發現清廷並未在該地區設置廳、縣治理，因此當他返回歐洲後，大力遊說各國派兵來此區建立殖民地。上述「未設置廳、縣治理」的地區，最可能是下圖中的何處？(A)甲(B)乙(C)丙(D)丁。



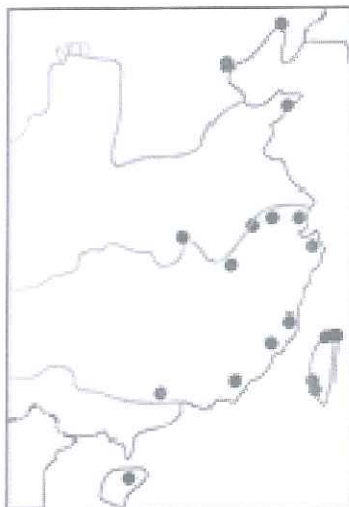
- () 22. 清帝國的康熙皇帝時期，朝廷內部曾經出現棄、留臺灣的爭議，而主張保留臺灣的施琅，在奏摺中論述：「…臺灣一地，雖屬多島，實關四省之要害。……故當此地方削平，定計去留，莫敢擔承，臣思棄之必釀成大禍，留之誠永固邊圉（邊疆）。…」請問：施琅的主要論點為下列何者？(A)臺民的民風純樸(B)戰略地位的重要(C)維護領土主權完整(D)對外貿易發達。
- () 23. 大雄參加墾丁國家公園之旅，導遊帶領她們到屏東縣車城鄉旅遊，看到下圖中的墓碑（碑名：大日本琉球藩民五十四人墓）。請問：這個墓碑紀念的傷亡者與哪一歷史事件有關？(A)朱一貴事件(B)英法聯軍之役(C)牡丹社事件 (D)清法戰爭。



- () 24. 荷蘭人佔領臺灣後，在其統治的村落中興建教堂，要求原住民族人星期日上教堂、做禮拜。同時，在新港（今臺南市新市區）、麻豆（今臺南市麻豆區）等地建立學校，以稻穀、布匹等物獎勵村民入學。不僅兒童要上學，成年男女也要利用黎明或傍晚上課；不願意的人，會被施以罰款。請問：荷蘭人施行這些措施的目的為何？(A)為使原住民信仰基督教(B)為培育原住民擔任重要官職(C)為了進一步破壞原住民文化(D)為了教育、同化漢人。
- () 25. 圖呈現某一歷史人物來台前後，清廷治臺政策的改變。請問：從圖中內容判斷，此一歷史人物應該是指誰？(A)林爽文 (B)施琅 (C)劉銘傳 (D)沈葆楨。



- () 26. 下圖是清帝國時期，因為西力入侵而被迫開放的通商口岸。請問：清帝國開放的這些通商口岸，其中包含臺灣的港口，與下列的哪一個事件有關？(A)甲午戰爭(B)清法戰爭(C)牡丹社事件(D)英法聯軍。



※ 下課鐘響前不得繳卷

姓名：

庭 (C) 新移民家庭 (D) 隔代教養家庭。

- () 39. 在傳統的家庭觀念中，可能會受「性別刻板印象」而左右，請問下列哪個選項跳脫「性別刻板印象」所產生的影響？(A) 父親也應該在家照顧孩子 (B) 家務工作是母親的職責 (C) 女兒在青少年時期就應該進入廚房跟著母親學習料理 (D) 一家出遊的時候，要由父親負責開車才安全。
- () 40. 在性別平權的潮流之下，(甲)民法：子女的姓氏可由夫妻雙方協議(乙)性別工作平等法：給予妻子陪產假的權利(丙)民法：家庭生活費應各依雙方經濟能力共同分擔(丁)勞動基準法：給予夫妻雙方設有家庭照顧假的權利。上述性別平權與法律的關聯何者**正確**？(A) 甲乙 (B) 甲丙 (C) 乙丁 (D) 乙丙。
- () 41. 政府為了因應少子化所造成的社會問題，規劃「育嬰假」來提升夫妻生子興趣，請問：下列關於「育嬰假」的敘述何者**正確**？(A) 員工任職滿六個月即可申請 (B) 子女滿 2 歲後就不能申請 (C) 為了避免無經濟收入來源，夫妻一次只能一個人申請育嬰假 (D) 依照勞動基準法規定。
- () 42. 在政府推動的各項政策中，下列哪些是解決高齡社會的具體方案？(甲)在各公私立機關設置托兒所(乙)提供居家護理服務(丙)推動「長青學苑」課程(丁)強制行使「三代同堂」的家庭型態。(A) 甲乙 (B) 乙丁 (C) 甲丙 (D) 乙丙。
- () 43. 親權是父母對子女保護與教養的權利與義務，但父母不得濫用親權，以免對子女造成傷害。請問：在下列哪一種情況中，父母行使親權符合**合理**的範圍？(A) 宸宸的父母規定他必須做家務到凌晨 3 點 (B) 偉偉的父母限制他使用手機的時間 (C) 阿耀的父母禁止他去學校上課 (D) 軒軒的父母處罰他罰跪並不准吃飯。
- () 44. 現代社會醫學進步，人類平均壽命延長，請問『**高齡**』社會標準為何？(A) 年滿六十歲的老人占全國總人口數 15% (B) 年滿六十五歲以上的老人占總人口數 7% (C) 年滿七十歲以上的老人占總人口 14% 以上 (D) 年滿六十五歲以上的老人占總人口數 14% 以上。
- () 45. 家庭暴力是現代社會所面臨的問題，請問下列何項**不符合**「家暴」的定義？(A) 男友拿菸頭燙女友，並禁止她打電話求救 (B) 妻子長期用言語嘲諷先生軟弱無能 (C) 父親將在校外打架的兒子禁足一個月 (D) 前夫用每天半夜打無聲電話給前妻，使她無法安心入睡。

◎題組題

曉真自小跟母親同住，10 歲時母親嫁給一名打零工維生的耀宗，成為曉真的繼父，耀宗的母親與他們一同居住，曉真也親暱的稱呼她為「阿嬤」。耀宗因為工作不穩定常常藉酒消愁，以致沾染酗酒惡習。繼父酒量不佳，時常在酒醉時動手毆打母親，並在酒醒後懊悔自己的行徑，哭著求曉真母親的諒解。一日，耀宗酒後感覺肚子飢餓，便要求曉真幫忙外出買肉圓，豈料回來時卻因為肉圓沒有加辣，而對曉真拳打腳踢，母親上前阻止無效，甚至一併遭受毆打，以致曉真與母親雙雙受傷送醫…。

- () 46. (甲)主幹家庭(乙)重組家庭(丙)頂客家庭(丁)核心家庭。**符合曉真的家庭型態者**為幾項？(A) 4 項 (B) 3 項 (C) 2 項 (D) 1 項。
- () 47. 曉真與耀宗的親屬關係為下列何者？(A) 法定血親 (B) 姻親 (C) 配偶 (D) 沒有關係。
- () 48. 曉真與「阿嬤(耀宗的母親)」的親屬關係為下列何者？(A) 法定血親 (B) 姻親 (C) 配偶 (D) 沒有關係。
- () 49. 耀宗毆打曉真和母親，可以依照什麼法律發給「保護令」給予他們協助？(A) 民法 (B) 兒童及少年福利及權益保障法 (C) 家庭暴力防治法 (D) 刑法。
- () 50. 承上題，保護令的核發單位是？(A) 社會局 (B) 地方法院 (C) 警察局 (D) 戶政事務所。