

※ 下課鐘響前不得繳卷

班級： 座號： 姓名：

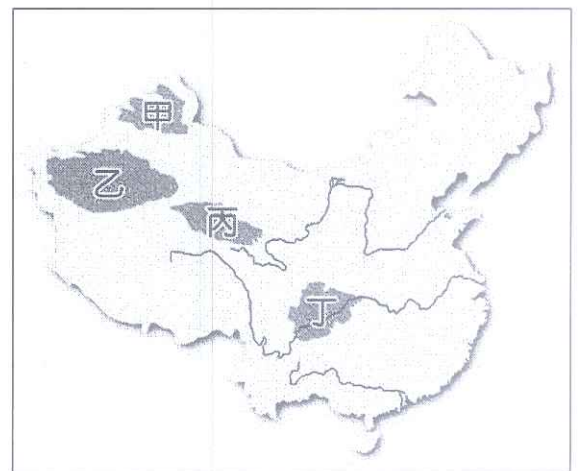
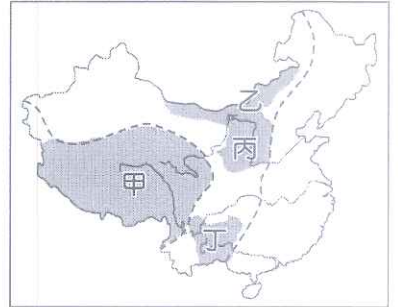
1~17 題地理，18~33 題歷史，34~50 題公民 請用 2B 鉛筆作答，將答案畫至答案卡上。

P. 1

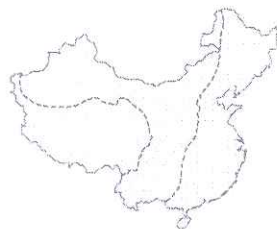
共 50 題，每題 2 分，滿分 100 分

**地理**

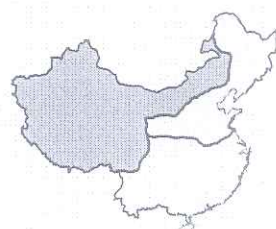
- ( ) 1. 右圖為中國某種地形區的分布圖，根據圖中四個地區所在位置判斷，關於四區地形特徵的敘述，下列何者正確？(A) 甲區高聳陡峭，因流水侵蝕強烈而溝谷密布，水土流失嚴重 (B) 乙區因緯度高，多冰河與湖泊景觀 (C) 丙區歷經長年風力堆積，地勢平坦遼闊 (D) 丁區溶蝕作用盛行，孕育出獨特的石灰岩地形景觀。
- ( ) 2. 位於台灣東北方海域的基隆嶼自 2013 年受颱風重創後，封島至今已 5 年，今年 6 月才再度對外開放，開放首日就吸引將近 500 人登島。請問：這些觀光客除了可以一睹島嶼風采，還能一覽哪一個海域的景色？(A) 北海 (B) 黃海 (C) 南海 (D) 東海。
- ( ) 3. 「這座山嶺由東向西，橫貫中國中部，是中國南北的分界線，也是南北交通的最大障礙，所以被稱為『天下之大阻』。南宋與金國分治中國的南部和北部時，也是以此為南北國界。」請問：上文中提到的山嶺應為下列何者？(A) 秦嶺 (B) 南嶺 (C) 大興安嶺 (D) 烏鞘嶺。
- ( ) 4. 右圖為中國某種地形區的分布圖，甲~丁四地中哪一個地形區的高度最高？(A) 甲 (B) 乙 (C) 丙 (D) 丁。
- ( ) 5. 中國疆域面積約 960 萬平方公里，國土遼闊，但下列哪一個國家的面積比中國還要大？(A) 英國 (B) 美國 (C) 巴西 (D) 哈薩克。
- ( ) 6. 綜合考量位置、自然及人文因素，將中國劃分為三大地區，可用下列哪一張圖來表示？



(A)



(B)

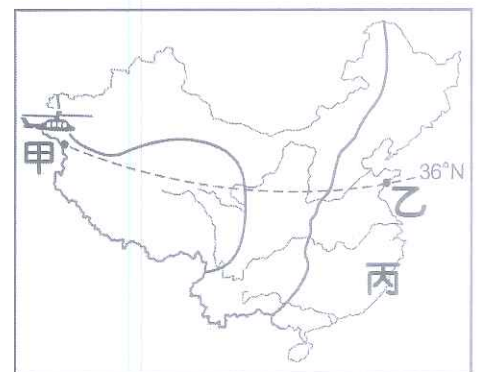
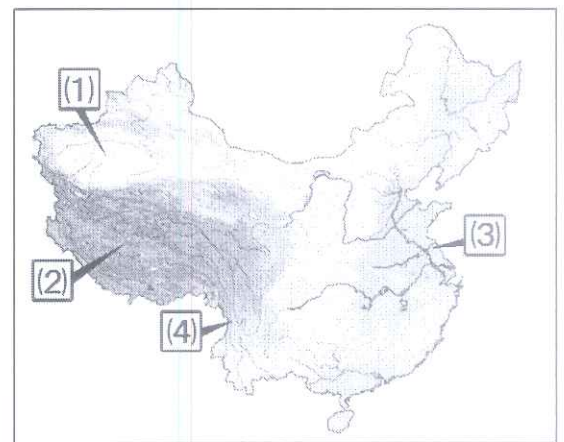


(C)



(D)

- ( ) 7. 地形影響人類活動甚多，例如：交通建設、產業發展等。右圖為中國地形簡圖，關於圖中各地傳統交通或主要產業的特色，下列何者正確？(A) (1)→以稻作農業為主 (B) (2)→以駱駝、馬代步的情形普遍 (C) (3)→多數河川適合水力發電 (D) (4)→居民利用溜索克服地形的阻礙。
- ( ) 8. 承上題，右圖中哪裡是中國主要的南—北走向山脈分布區，可以見到中國山川排列成一山一河、南北縱走的壯闊景觀？(A) (1) (B) (2) (C) (3) (D) (4)。
- ( ) 9. 青花大學地理研究所為研究中國地形，師生乘坐專機沿 36°N 從甲地至乙地，沿途中他們最可能會看到哪一個地形？(A) 華北平原 (B) 四川盆地 (C) 長江三角洲 (D) 內蒙古高原。
- ( ) 10. 承上題，這群師生下機後轉往右圖中丙地進行地理考察，下列何者最可能是他們觀察到的當地地理特徵？(A) 該地山脈是歐亞板塊與印澳板塊擠壓而成 (B) 該區丘陵主要呈現走向東南—西北走向 (C) 沿海多灣澳、島嶼，海岸線曲折，利於航運 (D) 這裡多沙洲島、瀉湖地形。



**背面尚有試題**

背面尚有試題

※ 下課鐘響前不得繳卷


班級：

座號：

姓名：

P.2

- ( ) 11. 右圖為中國汕頭市的「北回歸線紀念碑」，根據緯度判斷，這個紀念碑最有可能位於下列中國哪一個省份境內？(A) 廣東 (B) 福建 (C) 貴州 (D) 海南。
- ( ) 12. 住在基隆的小花打算寒假時到中國旅遊，她打算先到北京(東 8 區)玩個兩天，再轉飛到烏魯木齊(東 6 區)旅行一個月。請問：小花從台灣到中國旅遊的期間，他的手錶應如何調整時間？(A) 都調快一小時 (B) 都調慢一小時 (C) 都不用調整 (D) 到北京不用調，到烏魯木齊調慢兩小時。



- ( ) 13. 右圖是中國某種省級行政區分布圖，若想體驗塞外風情及寧夏獨特的穆斯林民俗，應前往圖中哪一個行政區？(A) 甲 (B) 乙 (C) 丙 (D) 丁。

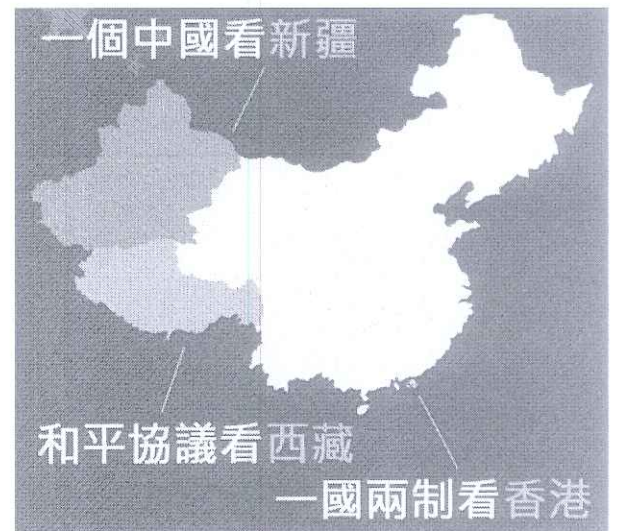


◎成都一群學生今年暑假在老師的帶領下，從北京出發，沿著京杭大運河一線南下，途經天津、杭州等 17 個城市，在近 20 天、騎行達 1800 餘公里的旅途中，找尋成長的意義。老師說：「5 月時我們就開始計畫這條線路，因為它路段平穩，騎行難度不高。」在老師看來，這場騎行，不只讓課本上的地理美景和歷史古都，立體地展現在孩子們眼前，騎行中他們要學會自立，學會面對困難，學會堅持，這才是這場旅途賦予他們成長的最主要意義。請問：

- ( ) 14. 京杭大運河是一條南北向的運輸路線，主要是受到哪一個因素的影響？(A) 中國地勢西高東低 (B) 中國冬、夏季風風向相反 (C) 中國東、西半部受到不同板塊的擠壓 (D) 中國人口分布南北不同。
- ( ) 15. 文中提到老師說「它路段平穩，騎行難度不高。」這表示大運河最可能具有哪一項地理特徵？(A) 運河主要分布在杭州灣以南 (B) 運河最南可通達珠江 (C) 運河多在盆地地形 (D) 運河主要分布在第三級階梯。

◎日前醫師作家蔡依橙試圖讓民眾理解中國領導人習近平想讓台灣走上的 3 個走向，因此製作一張簡潔的圖像，上頭寫著「一國兩制看香港；和平協議看西藏；一個中國看新疆」。請問：

- ( ) 16. 附圖中這三地屬於中國哪幾種省級行政區？(A) 省、特別行政區 (B) 特別行政區、自治區 (C) 自治區、直轄市 (D) 省、自治區。
- ( ) 17. 附圖中這三地分別屬於第幾級階梯？(A) 一、二、三 (B) 一、三 (C) 二、三 (D) 一、二。



歷史

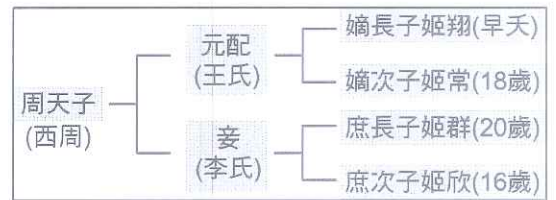
- ( ) 18. 同學們在課堂上討論中國的新石器時代文化，下列何者是正確的說法？(A) 北京人擅長用骨針製作精美飾品 (B) 山頂洞人可能已有宗教觀念 (C) 新石器時代的遺址只出現在黃河流域 (D) 黃河流域以干欄式建築為主要的居住型態。
- ( ) 19. 下列有關「禪讓政治」的敘述，何者有誤？(A) 展現傳賢不傳子的精神 (B) 始於黃帝將帝位禪讓給堯 (C) 結束於禹的兒子啓繼位 (D) 被學者認為是象徵古代部落推舉共主的一種方式。
- ( ) 20. 從事考古研究的曉明來到河南省進行挖掘工作，在他挖掘的過程中，下列哪一個遺址所代表的文化最晚出現？(A) 二里頭文化 (B) 仰韶文化 (C) 河姆渡文化 (D) 殷墟文化。
- ( ) 21. 關於「三代」的敘述，下列哪一項是錯誤的？(A) 三代又稱青銅時代 (B) 三代最靠海邊的國家是商，位置居中的是夏 (C) 三代的青銅主要用來鑄造戰爭的兵器和祭祀的禮器 (D) 到了殷商晚期鐵製農具開始日漸普及。

※ 下課鐘響前不得繳卷

班級： 座號： 姓名：

P.3

- ( ) 22. 下列敘述何者合乎商朝的生活文化？ (A) 商人好酒，導致其農業生產十分落後 (B) 商人迷信，習慣將占卜的結果刻在青銅器上 (C) 因敬畏人鬼，形成中國慎終追遠的傳統 (D) 以天干地支搭配記日，30 為一周。
- ( ) 23. 下列哪一件史事使周人勢力得以擴展至黃河下游和淮河流域？ (A) 周公東征 (B) 武王伐紂 (C) 幽王被殺 (D) 平王東遷。
- ( ) 24. 根據附圖判斷，若周天子病危，則哪位王子將繼承皇位？ (A) 姬常 (B) 姬群 (C) 姬欣 (D) 由群臣共同討論推出人選。
- ( ) 25. 春秋戰國時代有關布衣卿相提出的言論與策略何者正確？ (A) 管仲 → 嚴刑峻罰、獎勵耕織與戰鬥 (B) 蘇秦 → 連橫政策 (C) 張儀 → 合縱政策 (D) 范雎 → 遠交近攻。
- ( ) 26. 現代社會只要有錢且不違反國家規定，任何人均可自由買賣土地，擁有土地。請問：這種土地私有制度的形成開始於何時？ (A) 商 (B) 西周 (C) 東周 (D) 秦、漢之間。
- ( ) 27. 1960 年代的反戰思想認為「戰爭會帶來傷害」，領導人應盡力避免戰爭、維護和平。這種觀點最接近中國哪一學派的思想？ (A) 儒家 (B) 道家 (C) 墨家 (D) 法家。
- ( ) 28. 秦始皇廢除周朝的封建制度，改行郡縣制，郡縣的長官由朝廷任免，這項改革帶來甚麼重大的影響？ (A) 造成了以後外戚與宦官的爭權 (B) 導致宗室的爭權奪利 (C) 使中國從此成為中央集權的國家 (D) 引起民怨導致天下大亂。
- ( ) 29. 台銘的歷史報告以漢武帝的施政政策為主題，他上網蒐集的資料：(甲) 史上第一個建立年號的皇帝 (乙) 以科舉制度選拔人才 (丙) 推行鹽、鐵、酒等自由買賣 (丁) 罷黜其他各家學說，獨尊儒術，以上資料何者正確？ (A) 甲乙 (B) 甲丁 (C) 乙丙 (D) 丙丁。
- ( ) 30. 在兩漢的經營下，「絲路」成為中西商旅往來的交通要道，有關「絲路」的敘述，下列何者 正確？ (A) 班超為經營西域所打造的貿易通道 (B) 從長安出發最遠可抵達大英帝國 (C) 主要是將歐洲的絲織品運到中國販售 (D) 西域的文化與宗教亦經由此路線傳入中國。
- ( ) 31. 西漢末年和東漢中後期，君主多幼年即位，由母后臨朝聽政，這種情況下最可能造成什麼內政問題？ (A) 外戚專權 (B) 宗室內亂 (C) 皇帝無能 (D) 諸王跋扈。(A)甲 (B)乙 (C)丙 (D)丁。
- ( ) 32. 右表為秦漢時期對付匈奴入侵中國的因應策略，其先後順序為何？ (A) 甲→乙→丙 (B) 丙→乙→甲 (C) 乙→甲→丙 (D) 甲→丙→乙。
- ( ) 33. 某電視頻道最近製作一部介紹東漢科技文化的影集，下列是四個錄製完成的章節，其中哪個段落不適合出現在影集當中？ (A) 司馬遷伏案撰寫《史記》 (B) 華佗利用麻醉藥施行外科手術 (C) 蔡倫研究改良造紙技術 (D) 張衡製作地動儀預測地震。



甲、派遣張騫出使西域以夾擊匈奴  
乙、以和親政策安撫匈奴，避免開戰  
丙、將各地長城串接連結以抵禦匈奴

公民

- ( ) 34. 新聞報導，2019 年七月二十三日，俄羅斯轟炸機兩度飛入南韓獨島領空，南韓出動戰鬥機開火示警，引發國際注目。依據通用的慣例，領陸、領海上空的空間稱為領空，為國家領土的組成部分，請問：領海是指由海岸基線向外延伸多少距離的海域範圍？ (A) 200 海浬 (B) 120 公里 (C) 12 海浬 (D) 240 海浬。
- ( ) 35. 主權是國家的最高權力，下列關於主權的敘述，何者有誤？ (A) 為國家的組成要素之一 (B) 對內具有決策與執行政策的權力 (C) 對外不受任何國家干涉，有獨立自主的權力 (D) 指的是國家統治者所掌控的權力。
- ( ) 36. 中國的軍費逐年攀升，對台海局勢帶來衝擊，政府呼籲美國儘速出售先進戰機予我國，以維持台海勢力平衡。請問：上述呼籲內容可以達成下列哪一國家之目的？ (A) 促進經濟發展 (B) 維護社會秩序 (C) 保障國家安全 (D) 維護基本人權。

背面尚有試題

背面尚有試題

※ 下課鐘響前不得繳卷

班級：

座號：

姓名：

P.4

- ( ) 37. 我國設有隸屬於國家的法院來為人民處理各項訴訟爭議案件。請問：上述為國家組成所提供的哪一項目的？  
(A) 保障安全 (B) 維護人權 (C) 伸張正義 (D) 維持秩序。
- ( ) 38. 政府為減少交通事故的發生，要求警方針對易肇事路段，加強取締酒醉駕車，特別是大客車及公車，要求駕駛在出發前均進行酒測。請問：上述為國家組成所提供的哪一項目的？  
(A) 伸張正義 (B) 保障安全 (C) 提供福利 (D) 維持秩序。
- ( ) 39. 世界上的國家很多，但每個國家有不同的國體及政體。政體所指為何？  
(A) 國家元首的產生方式 (B) 國家的統治方式 (C) 國家的政治組織 (D) 國家政黨的體制。
- ( ) 40. 下列哪句話最能表現民主政治中「民意政治」的特色？  
(A) 政府的施政必須透過各種管道與人民溝通，並以大多數人的共識為依歸 (B) 政府施政必須有法律依據 (C) 政府官員必須為成敗負責 (D) 在選舉中勝選的政黨負責組織政府。
- ( ) 41. 為防止政府權力過大，侵害人民的自由權利，大部分民主國家把權力分成行政、立法、司法三權，且三個權力互相牽制。此現象符合下列何項原則？  
(A) 權利保障原則 (B) 分權制衡原則 (C) 權能區分原則 (D) 政黨政治原則。
- ( ) 42. 民國 88 年 921 大地震發生時，曾發布緊急命令來處理救災及災後重建工作。請問：緊急命令是由誰發布，並應提交哪一機關追認？  
(A) 行政院、立法院 (B) 立法院、行政院 (C) 總統、行政院 (D) 總統、立法院。
- ( ) 43. 「甲」對「乙」提出不信任案。不信任案通過後，「乙」應立即辭職，並得同時呈請「丙」解散「甲」。以上為我國不信任案的部分內容，請問：甲、乙、丙依序應填入什麼？  
(A) 立法院院長、司法院院長、行政院院長 (B) 監察院、立法院院長、行政院院長 (C) 立法院、行政院院長、總統 (D) 行政院院長、立法院院長、總統。
- ( ) 44. 下列有關覆議制度的敘述，何者有誤？  
(A) 是行政院對立法院的制衡 (B) 係針對立法院所通過的法律案、預算案、條約案有窒礙難行時提出 (C) 覆議須經總統核可始能提出 (D) 立法院如維持原議、行政院院長可以不接受。
- ( ) 45. 「中央政府預算」是由負責規劃國家政策的「甲」提出，並由「乙」審查。請問：甲、乙分別為何？  
(A) 行政院、立法院 (B) 立法院、行政院 (C) 立法院、監察院 (D) 監察院、考試院。
- ( ) 46. 立法院為我國最高立法機關，負責制定我國法律及監督政府。請問：以下關於我國立法院之敘述何者正確？  
(A) 法務部屬於立法院的一個部門 (B) 立法院院長的產生方式為總統提名 (C) 立法委員的產生方式為公民選舉產生，任期四年 (D) 立委提出的正副總統罷免案，提案成立後交由憲法法庭決議。
- ( ) 47. 下列關於行政院與立法院的制衡關係，何者正確？  
(A) 立法院院長可以呈請總統解散行政院 (B) 立法院須向行政院提出施政方針及施政報告 (C) 行政院可對立法院院長提出不信任案 (D) 行政院對立法院提出的預算案可提覆議。
- ( ) 48. 考試院是我國最高考試機關，下列關於考試院組織及職權敘述何者正確？  
(A) 考試委員由院長提請，總統任命 (B) 負責糾舉違法失職的公務人員 (C) 依法審議違法失職的公務人員懲戒案件 (D) 掌理公務人員的銓敘、撫恤、退休等事項。
- ( ) 49. 對於違法失職的公務人員，監察院依法得將以彈劾，一旦彈劾案成立，即交下列何者議處？  
(A) 行政院法務部 (B) 地方法院 (C) 司法院公務員懲戒委員會 (D) 考試院銓敘部。
- ( ) 50. 我國審計部之職權包括：監督預算之執行、審核財務收支、稽核財務及財政上之不法等。請問此部隸屬我國中央哪一機關？  
(A) 行政院 (B) 立法院 (C) 司法院 (D) 監察院。