





※ 下課鐘響前不得繳卷

姓名：

※ 注意！本試卷共 20 題，計 1 頁。請直接寫上正確答案。(每題 5 分)

小傑與家人利用暑假旅遊，並拍攝了許多照片，其中有些照片小傑已經忘記是在哪個縣市所拍攝。請你協助小傑，判斷這些照片各是屬於哪個縣市與區域，並完成照片的分類。

初鹿牧場		秀姑巒溪泛舟	
1. 縣市：_____	2. 區域：_____	3. 縣市：_____	4. 區域：_____
			
風獅爺		三仙臺	
5. 縣市：_____	6. 區域：_____	7. 縣市：_____	8. 區域：_____
			
太魯閣		東引島燈塔	
9. 縣市：_____	10. 區域：_____	11. 縣市：_____	12. 區域：_____
			

13. _____ 港是臺灣最大的國際港口。
 14. 一個港口或其他交通場站，集中與分散貨物所涵蓋的範圍稱作_____。

我國政府開放中國人民來臺旅遊，通過申請的陳小紅，利用一星期的時間遊覽臺灣西半部。雖然時間有限，但美麗的風光與進步的建設，都讓她留下深刻的印象。請問：

15. 陳小紅搭乘直航的班機來臺，當飛機抵達臺灣時，最有可能是降落在下列哪個縣市？
 (A) 基隆市 (B) 臺南市 (C) 桃園市 (D) 花蓮縣
16. 參觀完臺北市的101大樓後，意猶未盡的陳小紅還想一覽高雄市澄清湖的風光，若想要當天往返，你會建議他選擇下列哪種交通工具最為快捷？ (A) 火車 (B) 捷運 (C) 遊覽車 (D) 高速鐵路
17. 陳小紅從臺北市南下到高雄市的途中，將會經過下列哪些縣市？(複選，全對才給分)
 (A) 基隆市 (B) 臺中市 (C) 臺南市 (D) 屏東縣
18. 陳小紅逛完高雄市後，順便到附近某縣市參觀，參觀完後便在旅遊札記上寫下這樣的一段話：「此地發展歷史悠久，曾是全臺首府，目前境內的古蹟密度居全臺之冠。」陳小紅可能是到了下列哪個縣市？
 (A) 彰化縣 (B) 嘉義市 (C) 臺南市 (D) 屏東縣
19. 看到充滿活力的臺灣後，陳小紅決定從南部一路玩回北部，途中她造訪著名的觀光勝地—阿里山，並搭乘別具特色的小火車。若陳小紅希望在山腳下找個民宿過夜，則她最有可能留宿的地點為下列何者？
 (A) 彰化縣 (B) 嘉義縣 (C) 雲林縣 (D) 臺中市
20. 遊覽臺灣的過程中，陳小紅在下列哪個縣市境內，無法到海濱欣賞美景？
 (A) 宜蘭縣 (B) 臺中市 (C) 屏東縣 (D) 南投縣