


※ 下課鐘響前不得繳卷

姓名：

P. 4

1-5 每題 2 分，6-35 每題 3 分

- 東南亞中南半島的地形為中國哪一地形區的延伸？  
(A)青藏高原 (B)嶺南丘陵 (C)長白山地 (D)橫斷山脈
- 日本陸地面積狹小，但經濟海域的範圍卻十分廣大，其主要原因為何？  
(A)岩岸眾多 (B)洋流眾多 (C)島嶼眾多 (D)國力強大
- 南韓政府扶植大財團，如 Samsung(三星)與 LG 等電子產業享譽國際。但南韓發展工業下列哪一項條件不如北韓？  
(A)礦產 (B)氣候 (C)地形 (D)勞工
- 下列哪個古蹟位於南亞地區？ (A)吳哥窟 (B)小樽運河 (C)布特拉清真寺 (D)泰姬瑪哈陵
- 「受到自然與人文因素的影響，東南亞地區有許多國家的首都多屬於海港型都市。」請問：若要佐證上文中提及的理論，最不適合舉下列哪個城市為例？ (A)菲律賓：馬尼拉 (B)新加坡：新加坡 (C)印尼：雅加達 (D)寮國：永珍
- 熱帶栽培業為東南亞多數國家重要的經濟收入來源，下列何者不是東南亞發展熱帶栽培業原因？  
(A)地形平坦 (B)殖民文化 (C)海運方便 (D)熱帶氣候
- 這個國家的建築美觀宏偉，轉口貿易發達。由馬來人、華人、印度人融合而成，市容整齊清潔有秩序，經濟發展程度為東南亞最高，近來也因為發展博弈事業而使得觀光客人數持續增加。如果前往上述國家旅遊，在該國境內拍攝照片中最可能出現哪個背景？



印度泰姬瑪哈陵



新加坡魚尾獅



東京鐵塔



南韓南大門

- (A) (B) (C) (D)
- 朝鮮半島的人口集中在黃海沿岸，日本人口則主要集中在太平洋岸，兩地人口分布的差異與下列哪個因素的關係最密切？  
(A)緯度高低 (B)平原位置 (C)降水多寡 (D)盛行風向
- 近年來印度及巴基斯坦兩國間常有軍事衝突發生，使其成為南亞地區穩定發展的一大隱憂。上述兩國產生衝突的原因，與下列何者的關係最密切？(甲)民族不同 (乙)宗教信仰 (丙)土地主權 (丁)爭奪礦藏  
(A)甲丁 (B)乙丙 (C)乙丁 (D)丙丁
- 依玲想做一份有關南、北韓的比較。請問：哪份資料內容錯誤？  
(A)南韓電子、文化產業發達 (B)南韓政府扶植大型財團 (C)北韓礦產稀少只能發展農業 (D)北韓長期忽略民生工業
- 根據報導，南韓總統文在寅和北韓領導人金正恩於西元 2018 年 4 月在南北韓邊境○○會面，正式開啟南北韓領導人會談日程。雙方領導人在軍事分界線會面尚屬首次，兩人在越過軍事分界線後並合影留念。金正恩在會談開始前，於○○的和平之家留言簿中題詞，表示『新的歷史從現在開始，和平時代站在新的起點』。上文中的○○，最可能在下列哪個地點？  
(A)平壤 (B)首爾 (C)濟州島 (D)板門店
- 印度恆河平原農產豐富，從下游至中、上游，其農作物的類型如何轉變？  
(A)棉花→水稻 (B)小麥、雜糧旱作→水稻與黃麻 (C)水稻與黃麻→小麥、雜糧旱作 (D)水稻→茶葉

右圖為日本在西元 2011 年發生震驚世界的「311 地震」示意圖。請問 14-15 題

- 日本「311 地震」的發生，其主要成因與日本哪一項自然環境的特徵有關？  
(A)地質古老 (B)四面環海 (C)板塊交界 (D)寒暖流交會。
- 根據上圖，「311 地震」是發生在哪個海洋上的淺層地震，因為引發海嘯而造成嚴重的傷亡？  
(A)日本海 (B)黃海 (C)東海 (D)太平洋。



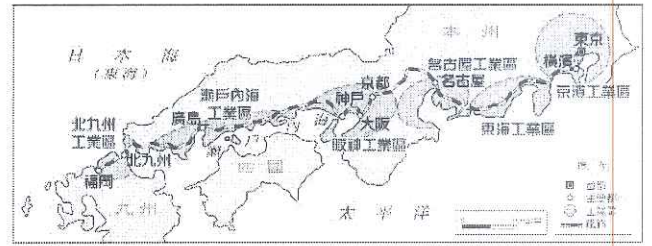
背面尚有試題

※ 下課鐘響前不得繳卷

姓名：

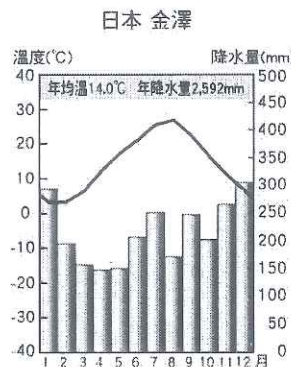
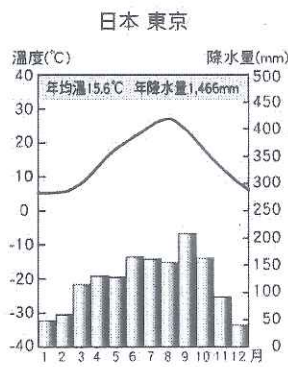
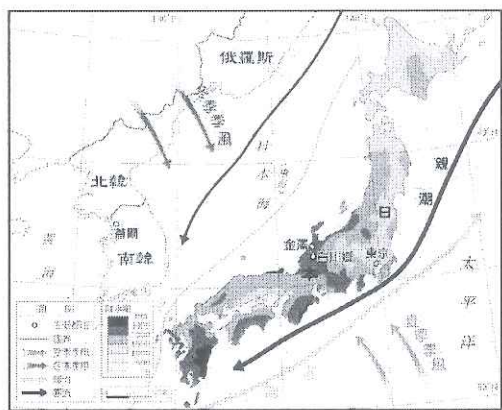
p.2

右圖為日本主要工業區分布圖。請問 16-19 題：




- 15. 日本的沿海平原成為主要工業帶的分布區，主要原因為何？  
(A)水力較充足 (B)氣候較優良 (C)技術較進步 (D)交通較便利。
- 16. 承上題，日本主要工業區和工業都市均瀕臨海洋，也反映出日本工業發展上最大的缺點是下列何項？  
(A)地形起伏較大 (B)礦產資源不足 (C)農業條件不佳 (D)內陸交通不便。
- 17. 圖中工業產值居日本第一的京濱工業區，和居第二的阪神工業區，皆位在下列哪個島上？  
(A)北海道 (B)九州 (C)本州 (D)四國。
- 18. 近年來，日本開始尋找其他投資方式，以直接投資海外、經濟合作等方法，積極經營跨國企業。主要原因為下列何者？  
(A)降低生產成本 (B)提升國民所得 (C)產品品質下降 (D)減少國際貿易

下圖為日本季風、洋流與降水量的分布圖與東京、金澤地區的氣候圖。請問 20-23 題：

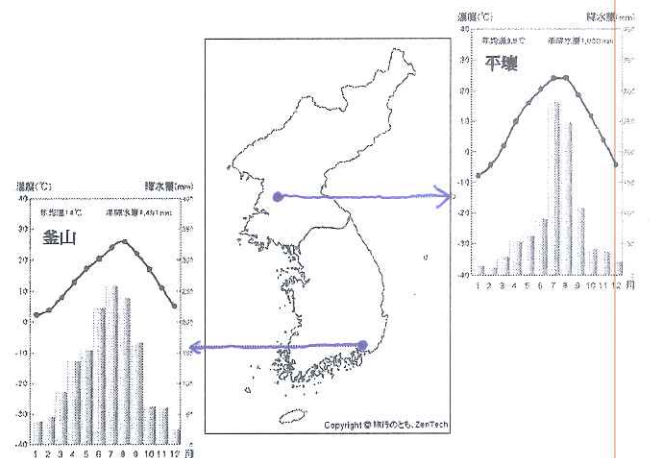


- 19. 根據東京的氣候圖，研判日本的氣候應屬於下列何種？  
(A)溫帶季風氣候 (B)熱帶雨林氣候 (C)熱帶季風氣候 (D)溫帶草原氣候。
- 20. 比較兩地的氣候圖，可以發現金澤冬季時的雨量明顯比東京多，請問日本群島西岸冬雨綿綿主要的影響因素為何？  
(A)東南季風、洋流 (B)西北季風、地形 (C)東南季風、地形 (D)西北風冬、洋流
- 21. 東京夏季多雨，除季風的因素外，還受到下列哪一因素的影響？ (A)緯度 (B)距海遠近 (C)洋流 (D)氣壓
- 22. 金澤冬季的降水是哪一種類型？



右圖是朝鮮半島的兩個都市的氣候圖。依據此圖回答 24-25 題：

- 23. 影響兩地降雨差異的主要原因為何？ (A)土壤沃度 (B)季風風向 (C)緯度高低 (D)洋流性質。
- 24. 由附圖可知，影響兩地年溫差變化的原因為何？ (A)緯度 (B)季風 (C)地形 (D)距海遠近。



東南亞和東北亞位處亞洲東側。請問 26-28 題：

- 25. 兩區域皆受到下列哪一文化的影響？ (A)中國 (B)伊斯蘭教 (C)印度 (D)西亞
- 26. 兩區域居民最主要的糧食作物是下列哪一種？ (A)水稻 (B)玉米 (C)小麥 (D)雜糧
- 27. 東南亞和東北亞都屬季風亞洲的範圍，但兩地的氣候特徵略有不同。請問下列敘述何者正確？ (A)東南亞為熱帶季風；東北亞為副熱帶季風 (B)季風氣候區的人口、都市主要集中在沿海平原 (C)中南半島全年有雨；日本群島乾溼季分明 (D)季風、地形、距海遠近是影響兩區降水的主要因素

背面尚有試題

## ※ 下課鐘響前不得繳卷

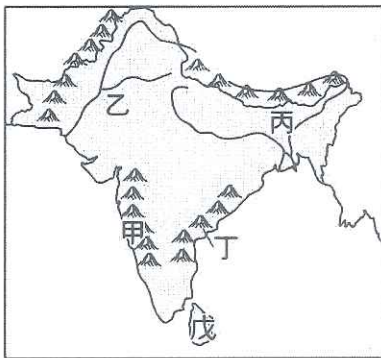
姓名：

P.3

考古學家在東南亞某座小島發現明朝鄭和留下的航海日誌，日誌中描述了鄭和下西洋的所見所聞。請根據日誌的內容，回答 28-30 題：

28. 「臘月時節，我們從福建的泉州港出發，順著季風風向揚帆前往南洋群島，既興奮又緊張。」當時所吹的風向應是下列何者？ (A)↖ (B)↗ (C)↘ (D)↙。
29. 「隔年初時船隻抵達暹羅國(今泰國)，看到許多尖塔狀建築，與金碧輝煌的寺廟，似乎是此地重要的宗教。」由上述內容判斷，該地居民所信仰的宗教是下列何者？ (A)佛教 (B)印度教 (C)基督教 (D)伊斯蘭教。
30. 「夏季在航行期間終日高溫，經常在午後被熱帶暴雨打個溼透，心情相當惡劣，只有到晚上，清風徐徐吹來，是一天最舒服的時候。」由此日誌內容判斷，鄭和經過的地區是何種氣候？  
(A)地中海型氣候 (B)熱帶雨林氣候 (C)熱帶莽原氣候 (D)熱帶沙漠氣候。

志玲在寒假期間來到了充滿神祕色彩的南亞地區旅遊，在眾多的傳說及迷人故事下，志玲感受到這個國度的浪漫與熱情。下圖為印度半島的簡圖。請問 31-33 題：



31. 根據志玲擔任模特兒的經驗，在這裡最適合穿著麻布料舒適透氣的衣服。下列哪一的地區可以找到麻紡織工業的原料？  
(A)甲 (B)乙 (C)丙 (D)丁
32. 志玲若想探索沙漠的生態環境，則圖中何處是她最佳的探索地區？ (A)甲 (B)乙 (C)丙 (D)戊
33. 當志玲來到「戊」這個小島時，可以品嚐到此地哪種聞名全球的物產？ (A)咖啡 (B)甘蔗 (C)可可 (D)紅茶

東南亞國家協會於 1967 年成立，目前會員國共有十個，未來也許還會有日本、南韓、印度、中國、澳洲及紐西蘭加入，因此有人稱這個組織未來可能改名為「東協加六」。請問 34-35 題：

34. 目前的十個會員國中，不包括下列哪個國家？ (A)印尼 (B)新加坡 (C)越南 (D)臺灣
35. 東南亞國家協會成立的目的不包括下列何者？  
(A)經濟合作對抗區域外國家 (B)促進會員經濟文化合作 (C)取代亞太經濟合作會議 (D)提升會員國的貿易競爭力

~請小心作答~